



# الرياضيات

الصف الثاني عشر- الفرع العلمي  
الفصل الدراسي الثاني

12

إجابات الطالب

الناشر: المركز الوطني لتطوير المناهج

يسر المركز الوطني لتطوير المناهج استقبال آرائكم وملحوظاتكم على هذا الكتاب عن طريق العناوين الآتية:

☎ 06-5376262 / 237 📠 06-5376266 ✉ P.O.Box: 2088 Amman 11941

🌐 @nccdjor @ feedback@nccd.gov.jo 🌐 www.nccd.gov.jo

إجابات كتاب الطالب للصف الثاني عشر العلمي / الفصل الدراسي الثاني

الوحدة الرابعة: التكامل

الدرس الأول: تكاملات اقترانات خاصة

مسئلة اليوم صفحة 8

$$P(t) = \int (200e^{0.1t} + 150e^{-0.03t}) dt = \frac{200}{0.1} e^{0.1t} + \frac{150}{-0.03} e^{-0.03t} + C$$

$$= 2000e^{0.1t} - 5000e^{-0.03t} + C$$

$$P(0) = 2000 - 5000 + C$$

$$200000 = -3000 + C \Rightarrow C = 203000$$

$$P(t) = 2000e^{0.1t} - 5000e^{-0.03t} + 203000$$

$$P(12) = 2000e^{1.2} - 5000e^{-0.36} + 203000 \approx 206152$$

إذن، سيكون عدد الخلايا بعد 12 يوماً 206152 خلية تقريباً.

أتحقق من فهمي صفحة 10

a  $\int (5x^2 - 3e^{7x}) dx = \frac{5}{3}x^3 - \frac{3}{7}e^{7x} + C$

b  $\int_0^{\ln 3} 8e^{4x} dx = \frac{8}{4}e^{4x} \Big|_0^{\ln 3} = 2(e^{4 \ln 3} - e^0) = 2(e^{\ln 3^4} - e^0)$

$= 2(81 - 1) = 160$

c  $\int \sqrt{e^{1-x}} dx = \int (e^{1-x})^{1/2} dx = \int e^{(1-x)/2} dx = -2e^{(1-x)/2} + C$

d  $\int (3^x + 2\sqrt{x}) dx = \frac{3^x}{\ln 3} + 2\left(\frac{2}{3}x^{3/2}\right) + C = \frac{3^x}{\ln 3} + \frac{4}{3}x^{3/2} + C$

أتحقق من فهمي صفحة 12

a  $\int \cos(3x - \pi) dx = \frac{1}{3} \sin(3x - \pi) + C$

b  $\int (\csc^2(5x) + e^{2x}) dx = -\frac{1}{5} \cot 5x + \frac{1}{2} e^{2x} + C$

c

$$\int_0^{\frac{\pi}{3}} (\sin 2x - \cos 4x) dx = \left( -\frac{1}{2} \cos 2x - \frac{1}{4} \sin 4x \right) \Big|_0^{\frac{\pi}{3}}$$

$$= \left( -\frac{1}{2} \cos \frac{2\pi}{3} - \frac{1}{4} \sin \frac{4\pi}{3} \right) - \left( -\frac{1}{2} \cos 0 - \frac{1}{4} \sin 0 \right)$$

$$= \left( -\frac{1}{2} \left( -\frac{1}{2} \right) - \frac{1}{4} \left( -\frac{\sqrt{3}}{2} \right) \right) - \left( -\frac{1}{2} - 0 \right)$$

$$= \frac{6 + \sqrt{3}}{8}$$

اتحقق من فهمي صفحة 14

a

$$\int \cos^4 x dx$$

$$\cos^4 x = (\cos^2 x)^2 = \left( \frac{1 + \cos 2x}{2} \right)^2$$

$$= \frac{1}{4} (1 + 2 \cos 2x + \cos^2 2x)$$

$$= \frac{1}{4} \left( 1 + 2 \cos 2x + \frac{1 + \cos 4x}{2} \right)$$

$$= \frac{1}{4} + \frac{1}{2} \cos 2x + \frac{1}{8} + \frac{1}{8} \cos 4x$$

$$= \frac{3}{8} + \frac{1}{2} \cos 2x + \frac{1}{8} \cos 4x$$

$$\int \cos^4 x dx = \int \left( \frac{3}{8} + \frac{1}{2} \cos 2x + \frac{1}{8} \cos 4x \right) dx$$

$$= \frac{3}{8} x + \frac{1}{4} \sin 2x + \frac{1}{32} \sin 4x + C$$

b	$\int_0^{\frac{\pi}{6}} \sin 3x \sin x \, dx = \int_0^{\frac{\pi}{6}} \frac{1}{2} (\cos(3x - x) - \cos(3x + x)) \, dx$ $= \frac{1}{2} \int_0^{\frac{\pi}{6}} (\cos 2x - \cos 4x) \, dx$ $= \left( \frac{1}{4} \sin 2x - \frac{1}{8} \sin 4x \right) \Big _0^{\frac{\pi}{6}}$ $= \left( \frac{1}{4} \sin \frac{2\pi}{6} - \frac{1}{8} \sin \frac{4\pi}{6} \right) - (0 - 0) = \frac{\sqrt{3}}{8} - \frac{\sqrt{3}}{16} = \frac{\sqrt{3}}{16}$
c	$\int \frac{dx}{1 + \cos x} = \int \left( \frac{1}{1 + \cos x} \times \frac{1 - \cos x}{1 - \cos x} \right) dx$ $= \int \frac{1 - \cos x}{\sin^2 x} \, dx$ $= \int (\csc^2 x - \cot x \csc x) \, dx$ $= -\cot x + \csc x + C$
<p>أتحقق من فهمي صفحة 16</p>	
a	$\int \left( \sin x - \frac{5}{x} \right) dx = -\cos x - 5 \ln x  + C$
b	$\int \frac{5}{3x + 2} dx = \frac{5}{3} \int \frac{3}{3x + 2} dx = \frac{5}{3} \ln 3x + 2  + C$
c	$\int \frac{x^2 - 7x + 2}{x^2} dx = \int \left( 1 - \frac{7}{x} + 2x^{-2} \right) dx = x - 7 \ln x  - 2x^{-1} + C$
d	$\int \frac{2x + 3}{x^2 + 3x} dx = \ln x^2 + 3x  + C$
e	$\int \frac{\sin 2x}{1 + \cos 2x} dx = -\frac{1}{2} \int \frac{-2 \sin 2x}{1 + \cos 2x} dx$ $= -\frac{1}{2} \ln 1 + \cos 2x  + C$ $= -\frac{1}{2} \ln(1 + \cos 2x) + C$

f	$\int \cot x \, dx = \int \frac{\cos x}{\sin x} \, dx = \ln \sin x  + C$
g	$\int \frac{e^x}{e^x + 7} \, dx = \ln e^x + 7  + C = \ln(e^x + 7) + C$
h	$\int \csc x \, dx = \int \csc x \times \frac{\csc x + \cot x}{\csc x + \cot x} \, dx$ $= \int \frac{\csc^2 x + \csc x \cot x}{\csc x + \cot x} \, dx$ $= -1 \int \frac{-\csc^2 x - \csc x \cot x}{\csc x + \cot x} \, dx = -\ln \csc x + \cot x  + C$

أنتحق من فهمي صفحة 17

$$\int \frac{x^2 + x + 1}{x + 1} \, dx = \int \left( x + \frac{1}{x + 1} \right) \, dx = \frac{1}{2}x^2 + \ln|x + 1| + C$$

أنتحق من فهمي صفحة 19

a	$\int_{-1}^3 f(x) \, dx = \int_{-1}^1 (1 + x) \, dx + \int_1^3 2x \, dx$ $= \left( x + \frac{1}{2}x^2 \right) \Big _{-1}^1 + x^2 \Big _1^3$ $= \left( 1 + \frac{1}{2} \right) - \left( -1 + \frac{1}{2} \right) + 9 - 1 = 10$
b	$f(x) = \begin{cases} 1 - x, & x \leq 1 \\ x - 1, & x > 1 \end{cases}$ $\int_{-2}^2 f(x) \, dx = \int_{-2}^1 (1 - x) \, dx + \int_1^2 (x - 1) \, dx$ $= \left( x - \frac{1}{2}x^2 \right) \Big _{-2}^1 + \left( \frac{1}{2}x^2 - x \right) \Big _1^2$ $= \left( 1 - \frac{1}{2} \right) - (-2 - 2) + (2 - 2) - \left( \frac{1}{2} - 1 \right) = 5$

$$f(x) = \begin{cases} x^2 - 1, & x < -1 \\ 1 - x^2, & -1 \leq x \leq 1 \\ x^2 - 1, & x > 1 \end{cases}$$

$$\int_{-4}^0 f(x) dx = \int_{-4}^{-1} (x^2 - 1) dx + \int_{-1}^0 (1 - x^2) dx$$

$$= \left( \frac{1}{3} x^3 - x \right) \Big|_{-4}^{-1} + \left( x - \frac{1}{3} x^3 \right) \Big|_{-1}^0$$

$$= \left( -\frac{1}{3} + 1 \right) - \left( -\frac{64}{3} + 4 \right) + (0 - 0) - \left( -1 + \frac{1}{3} \right)$$

$$= \frac{56}{3}$$

c

أنحقق من فهمي صفحة 20

$$R(t) = \int \frac{21}{0.07t + 5} dt$$

$$= \frac{21}{0.07} \int \frac{0.07}{0.07t + 5} dt = 300 \ln|0.07t + 5| + C$$

$$R(0) = 300 \ln 5 + C$$

$$0 = 300 \ln 5 + C \Rightarrow C = -300 \ln 5$$

$$R(t) = 300 \ln|0.07t + 5| - 300 \ln 5 = 300 \ln \left| \frac{0.07t + 5}{5} \right|$$

$$= 300 \ln|0.014t + 1|$$

أنحقق من فهمي صفحة 23

$$s(t) = \int v(t) dt = \int 3 \cos t dt = 3 \sin t + C$$

$$s(0) = 3 \sin 0 + C$$

$$0 = 3 \sin 0 + C \Rightarrow C = 0$$

$$s(t) = 3 \sin t$$

$$s\left(\frac{\pi}{6}\right) = 3 \sin\left(\frac{\pi}{6}\right) = 1.5 \text{ m}$$

a

b

$$s(2\pi) - s(0) = 3 \sin(2\pi) - 3 \sin(0) = 0 \text{ m}$$

<p>c</p>	$ v(t)  =  3 \cos t  = \begin{cases} 3 \cos t, & 0 \leq t < \frac{\pi}{2} \\ -3 \cos t, & \frac{\pi}{2} \leq t \leq \frac{3\pi}{2} \\ 3 \cos t, & \frac{3\pi}{2} < t \leq 2\pi \end{cases}$ $\int_0^{2\pi}  v(t)  dx = \int_0^{\frac{\pi}{2}} 3 \cos t dx + \int_{\frac{\pi}{2}}^{\frac{3\pi}{2}} -3 \cos t dx + \int_{\frac{3\pi}{2}}^{2\pi} 3 \cos t dx$ $= 3 \sin t \Big _0^{\frac{\pi}{2}} - 3 \sin t \Big _{\frac{\pi}{2}}^{\frac{3\pi}{2}} + 3 \sin t \Big _{\frac{3\pi}{2}}^{2\pi}$ $= (3 - 0) - (-3 - 3) + (0 - (-3)) = 12 \text{ m}$
<p>أتدرب وأحل المسائل صفحة 17</p>	
<p>1</p>	$\int (e^{2x-3} - \sqrt{x}) dx = \int (e^{2x-3} - x^{1/2}) dx = \frac{1}{2} e^{2x-3} - \frac{2}{3} x^{3/2} + C$
<p>2</p>	$\int \left( e^{0.5x} - \frac{3}{e^{0.5x}} \right) dx = \int (e^{0.5x} - 3e^{-0.5x}) dx = 2e^{0.5x} + 6e^{-0.5x} + C$
<p>3</p>	$\int (4 \sin 5x - 5 \cos 4x) dx = -\frac{4}{5} \cos 5x - \frac{5}{4} \sin 4x + C$
<p>4</p>	$\int \left( 3 \sec x \tan x - \frac{2}{5x} \right) dx = 3 \sec x - \frac{2}{5} \ln x  + C$
<p>5</p>	$\int \left( \sqrt{e^x} - \frac{1}{\sqrt{e^x}} \right)^2 dx = \int \left( e^x - 2 + \frac{1}{e^x} \right) dx$ $= \int (e^x - 2 + e^{-x}) dx$ $= e^x - 2x - e^{-x} + C$
<p>6</p>	$\int (\sin(5 - 3x) + 2 + 4x^2) dx = \frac{1}{3} \cos(5 - 3x) + 2x + \frac{4}{3} x^3 + C$
<p>7</p>	$\int (e^x + 1)^2 dx = \int (e^{2x} + 2e^x + 1) dx = \frac{1}{2} e^{2x} + 2e^x + x + C$
<p>8</p>	$\int (e^{4-x} + \sin(4 - x) + \cos(4 - x)) dx$ $= -e^{4-x} + \cos(4 - x) - \sin(4 - x) + C$

9	$\int \frac{x^2 - 6}{2x} dx = \int \left( \frac{1}{2}x - \frac{3}{x} \right) dx$ $= \frac{1}{4}x^2 - 3 \ln x  + C$
10	$\int \left( 3 \csc^2(3x + 2) + \frac{5}{x} \right) dx = -\cot(3x + 2) + 5 \ln x  + C$
11	$\int \frac{e^x + 1}{e^x} dx = \int (1 + e^{-x}) dx = x - e^{-x} + C$
12	$\int \frac{e^x}{e^x + 4} dx = \ln e^x + 4  + C = \ln(e^x + 4) + C$
13	$\int \frac{\cos 2x}{\sin x \cos x + 4} dx = \int \frac{\cos 2x}{\frac{1}{2} \sin 2x + 4} dx$ $= \ln \left  \frac{1}{2} \sin 2x + 4 \right  + C = \ln \left( \frac{1}{2} \sin 2x + 4 \right) + C$
14	$\int \frac{dx}{5 - \frac{x}{3}} = -3 \int \frac{-\frac{1}{3}}{5 - \frac{x}{3}} dx$ $= -3 \ln \left  5 - \frac{x}{3} \right  + C$
15	$\int \frac{1}{1 - \sin x} dx = \int \frac{1}{1 - \sin x} \times \frac{1 + \sin x}{1 + \sin x} dx$ $= \int \frac{1 + \sin x}{1 - \sin^2 x} dx$ $= \int \frac{1 + \sin x}{\cos^2 x} dx$ $= \int (\sec^2 x + \tan x \sec x) dx$ $= \tan x + \sec x + C$
16	$\int \sec^2 x (1 + e^x \cos^2 x) dx = \int (\sec^2 x + e^x) dx$ $= \tan x + e^x + C$
17	$\int \left( \frac{2}{x} - 2^x \right) dx = 2 \ln x  - \frac{2^x}{\ln 2} + C$



18	$\int \sin 3x \cos 2x dx = \frac{1}{2} \int (\sin 5x + \sin x) dx$ $= -\frac{1}{10} \cos 5x - \frac{1}{2} \cos x + C$
19	$\int \frac{2x + 3}{3x^2 + 9x - 1} dx = \frac{1}{3} \int \frac{6x + 9}{3x^2 + 9x - 1} dx$ $= \frac{1}{3} \ln  3x^2 + 9x - 1  + C$
20	$\int \frac{x^2 + x + 1}{x^2 + 1} dx = \int \left( \frac{x^2 + 1}{x^2 + 1} + \frac{x}{x^2 + 1} \right) dx$ $= \int \left( 1 + \frac{1}{2} \times \frac{2x}{x^2 + 1} \right) dx$ $= x + \frac{1}{2} \ln(x^2 + 1) + C$
21	$\int \left( \frac{1 + \cos x}{\sin^2 x} + \sin^2 x \csc x \right) dx = \int (\csc^2 x + \cot x \csc x + \sin x) dx$ $= -\cot x - \csc x - \cos x + C$
22	$\int (\sec x + \tan x)^2 dx = \int (\sec^2 x + 2 \sec x \tan x + \tan^2 x) dx$ $= \int (\sec^2 x + 2 \sec x \tan x + \sec^2 x - 1) dx$ $= \int (2 \sec^2 x + 2 \sec x \tan x - 1) dx$ $= 2 \tan x + 2 \sec x - x + C$
23	$\int \frac{e^x - e^{-x}}{e^x + e^{-x}} dx = \ln(e^x + e^{-x}) + C$
24	$\int \frac{x^2}{x^3 - 3} dx = \frac{1}{3} \int \frac{3x^2}{x^3 - 3} dx = \frac{1}{3} \ln  x^3 - 3  + C$

25

$$\begin{aligned} & \int (9\cos^2 x - \sin^2 x - 6 \sin x \cos x) dx \\ &= \int (9\cos^2 x - (1 - \cos^2 x) - 6 \sin x \cos x) dx \\ &= \int (10\cos^2 x - 1 - 6 \sin x \cos x) dx \\ &= \int \left( 10 \left( \frac{1 + \cos 2x}{2} \right) - 1 - 3 \sin 2x \right) dx \\ &= \int (5 + 5 \cos 2x - 1 - 3 \sin 2x) dx = \int (4 + 5 \cos 2x - 3 \sin 2x) dx \\ &= 4x + \frac{5}{2} \sin 2x + \frac{3}{2} \cos 2x + C \end{aligned}$$

26

$$\begin{aligned} \int (\cos^4 x - \sin^4 x) dx &= \int (\cos^2 x - \sin^2 x)(\cos^2 x + \sin^2 x) dx \\ &= \int (\cos^2 x - \sin^2 x) dx \\ &= \int \cos 2x dx \\ &= \frac{1}{2} \sin 2x + C \end{aligned}$$

27

$$\int_0^{\pi} 2 \cos \frac{1}{2} x dx = 4 \sin \frac{1}{2} x \Big|_0^{\pi} = 4 \left( \sin \frac{\pi}{2} - \sin 0 \right) = 4$$

28

$$\begin{aligned} |\sin x| &= \begin{cases} \sin x & , 0 \leq x \leq \pi \\ -\sin x & , \pi < x \leq 2\pi \end{cases} \\ \int_0^{2\pi} |\sin x| dx &= \int_0^{\pi} \sin x dx + \int_{\pi}^{2\pi} -\sin x dx \\ &= -\cos x \Big|_0^{\pi} + \cos x \Big|_{\pi}^{2\pi} \\ &= -(\cos \pi - \cos 0) + \cos 2\pi - \cos \pi \\ &= -(-2) + 1 - (-1) = 4 \end{aligned}$$

29

$$\begin{aligned} \int_{\frac{\pi}{6}}^{\frac{\pi}{3}} 3 \tan^2 x \, dx &= \int_{\frac{\pi}{6}}^{\frac{\pi}{3}} 3(\sec^2 x - 1) \, dx \\ &= 3(\tan x - x) \Big|_{\frac{\pi}{6}}^{\frac{\pi}{3}} \\ &= 3\left(\tan \frac{\pi}{3} - \frac{\pi}{3}\right) - 3\left(\tan \frac{\pi}{6} - \frac{\pi}{6}\right) \\ &= 2\sqrt{3} - \frac{\pi}{2} \end{aligned}$$

30

$$\begin{aligned} \int_1^e \frac{8x}{x^2 + 1} \, dx &= 4 \int_1^e \frac{2x}{x^2 + 1} \, dx \\ &= 4 \ln|x^2 + 1| \Big|_1^e \\ &= 4 \ln(e^2 + 1) - 4 \ln 2 \\ &= 4 \ln\left(\frac{e^2 + 1}{2}\right) \end{aligned}$$

31

$$\begin{aligned} \int_0^{\frac{\pi}{6}} \sin 3x \cos x \, dx &= \frac{1}{2} \int_0^{\frac{\pi}{6}} (\sin 4x + \sin 2x) \, dx \\ &= \left(-\frac{1}{8} \cos 4x - \frac{1}{4} \cos 2x\right) \Big|_0^{\frac{\pi}{6}} \\ &= -\frac{1}{8} \cos \frac{4\pi}{6} - \frac{1}{4} \cos \frac{2\pi}{6} - \left(-\frac{1}{8} \cos 0 - \frac{1}{4} \cos 0\right) \\ &= \frac{5}{16} \end{aligned}$$

32

$$\begin{aligned} \int_{\frac{\pi}{4}}^{\frac{\pi}{3}} \frac{\cot^2 x}{1 + \cot^2 x} dx &= \int_{\frac{\pi}{4}}^{\frac{\pi}{3}} \frac{\cot^2 x}{\csc^2 x} dx \\ &= \int_{\frac{\pi}{4}}^{\frac{\pi}{3}} \frac{\cos^2 x}{\sin^2 \csc^2 x} dx \\ &= \int_{\frac{\pi}{4}}^{\frac{\pi}{3}} \frac{\cos^2 x}{\sin^2 x \left(\frac{1}{\sin^2 x}\right)} dx \\ &= \int_{\frac{\pi}{4}}^{\frac{\pi}{3}} \cos^2 x dx \\ &= \frac{1}{2} \int_{\frac{\pi}{4}}^{\frac{\pi}{3}} (1 + \cos 2x) dx \\ &= \frac{1}{2} \left( x + \frac{1}{2} \sin 2x \right) \Big|_{\frac{\pi}{4}}^{\frac{\pi}{3}} \\ &= \frac{\pi}{6} + \frac{1}{4} \sin \frac{2\pi}{3} - \left( \frac{\pi}{8} + \frac{1}{4} \sin \frac{2\pi}{4} \right) \\ &= \frac{3\sqrt{3} + \pi - 6}{24} \end{aligned}$$

33

$$\begin{aligned} \int_0^3 (x - 5^x) dx &= \left( \frac{1}{2} x^2 - \frac{5^x}{\ln 5} \right) \Big|_0^3 \\ &= \frac{9}{2} - \frac{125}{\ln 5} - \left( 0 - \frac{1}{\ln 5} \right) = \frac{9}{2} - \frac{124}{\ln 5} \end{aligned}$$

$$|x^2 - 4x + 3| = \begin{cases} x^2 - 4x + 3, & x < 1 \\ -x^2 + 4x - 3, & 1 \leq x \leq 3 \\ x^2 - 4x + 3, & x > 3 \end{cases}$$

$$\begin{aligned} 34 \quad & \int_0^4 |x^2 - 4x + 3| dx \\ &= \int_0^1 (x^2 - 4x + 3) dx + \int_1^3 (-x^2 + 4x - 3) dx + \int_3^4 (x^2 - 4x + 3) dx \\ &= \left( \frac{1}{3}x^3 - 2x^2 + 3x \right) \Big|_0^1 + \left( -\frac{1}{3}x^3 + 2x^2 - 3x \right) \Big|_1^3 + \left( \frac{1}{3}x^3 - 2x^2 + 3x \right) \Big|_3^4 \\ &= \frac{1}{3} - 2 + 3 - 0 + (-9 + 18 - 9) - \left( -\frac{1}{3} + 2 - 3 \right) + \frac{64}{3} - 32 + 12 \\ &\quad - (9 - 18 + 9) = 4 \end{aligned}$$

$$|x - 3| = \begin{cases} 3 - x, & x \leq 3 \\ x - 3, & x > 3 \end{cases}$$

$$\begin{aligned} 35 \quad & \int_1^4 (3 - |x - 3|) dx = \int_1^3 (3 - (3 - x)) dx + \int_3^4 (3 - (x - 3)) dx \\ &= \int_1^3 x dx + \int_3^4 (6 - x) dx \\ &= \frac{1}{2}x^2 \Big|_1^3 + \left( 6x - \frac{1}{2}x^2 \right) \Big|_3^4 \\ &= \frac{9}{2} - \frac{1}{2} + 24 - 8 - \left( 18 - \frac{9}{2} \right) \\ &= \frac{13}{2} \end{aligned}$$

36

$$\begin{aligned}\int_{-1}^1 f(x) dx &= \int_{-1}^0 (x^2 + 4) dx + \int_0^1 (4 - x) dx \\ &= \left(\frac{1}{3}x^3 + 4x\right)\Big|_{-1}^0 + \left(4x - \frac{1}{2}x^2\right)\Big|_0^1 \\ &= 0 - \left(-\frac{1}{3} - 4\right) + 4 - \frac{1}{2} - 0 \\ &= \frac{47}{6}\end{aligned}$$

37

$$\begin{aligned}A &= \int_2^4 (e^{0.5x} - 2) dx = (2e^{0.5x} - 2x)\Big|_2^4 \\ &= 2e^2 - 8 - (2e - 4) \\ &= 2e^2 - 2e - 4\end{aligned}$$

38

$$\begin{aligned}\int_a^{3a} \frac{2x+1}{x} dx &= \int_a^{3a} 2 + \frac{1}{x} dx \\ &= (2x + \ln|x|)\Big|_a^{3a} \\ &= 6a + \ln 3a - 2a - \ln a \\ &= 4a + \ln 3 \\ \Rightarrow 4a + \ln 3 &= \ln 12 \\ \Rightarrow 4a &= \ln 12 - \ln 3 \\ 4a &= \ln \frac{12}{3} \\ \Rightarrow a &= \frac{1}{4} \ln 4\end{aligned}$$

39

$$\begin{aligned}\int_0^a \frac{x}{x^2 + a^2} dx &= \frac{1}{2} \int_0^a \frac{2x}{x^2 + a^2} dx \\ &= \frac{1}{2} \ln(x^2 + a^2)\Big|_0^a \\ &= \frac{1}{2} (\ln(2a^2) - \ln(a^2)) = \frac{1}{2} \ln 2 = \ln \sqrt{2}\end{aligned}$$

40	$A = \int_1^a \frac{4}{x} dx = 4 \ln x  \Big _1^a = 4 \ln a - 4 \ln 1 = 4 \ln a$ $\Rightarrow 4 \ln a = 10 \Rightarrow \ln a = \frac{5}{2} \Rightarrow a = e^{\frac{5}{2}}$
41	$f(x) = \int \cos\left(\frac{1}{2}x + \pi\right) dx = 2 \sin\left(\frac{1}{2}x + \pi\right) + C$ $f(\pi) = 2 \sin\left(\frac{1}{2}\pi + \pi\right) + C$ $3 = 2 \sin \frac{3\pi}{2} + C$ $3 = -2 + C \Rightarrow C = 5$ $\Rightarrow f(x) = 2 \sin\left(\frac{1}{2}x + \pi\right) + 5$ $\Rightarrow f(0) = 2 \sin \pi + 5 = 5$
42	$y = \int \sin\left(\frac{\pi}{2} - 2x\right) dx = \frac{-\cos\left(\frac{\pi}{2} - 2x\right)}{-2} + C = \frac{1}{2} \cos\left(\frac{\pi}{2} - 2x\right) + C$ $y \Big _{x=\frac{\pi}{4}} = \frac{1}{2} \cos\left(\frac{\pi}{2} - \frac{\pi}{2}\right) + C$ $1 = \frac{1}{2} + C \Rightarrow C = \frac{1}{2}$ $\Rightarrow y = \frac{1}{2} \cos\left(\frac{\pi}{2} - 2x\right) + \frac{1}{2}$ $\Rightarrow y = \frac{1}{2} \sin 2x + \frac{1}{2}$ $\Rightarrow y = \frac{1 + \sin 2x}{2}$

43

$$y = \int (e^{2x} - 2e^{-x}) dx = \frac{1}{2}e^{2x} + 2e^{-x} + C$$

$$y|_{x=0} = \frac{1}{2} + 2 + C$$

$$1 = \frac{5}{2} + C \Rightarrow C = -\frac{3}{2}$$

$$\Rightarrow y = \frac{1}{2}e^{2x} + 2e^{-x} - \frac{3}{2}$$

44

$$\int_{\frac{\pi}{9}}^{\pi} (9 + \sin 3x) dx = \left(9x - \frac{1}{3} \cos 3x\right) \Big|_{\frac{\pi}{9}}^{\pi}$$

$$= 9\pi - \frac{1}{3} \cos 3\pi - \pi + \frac{1}{3} \cos \frac{\pi}{3}$$

$$= 8\pi + \frac{1}{3} + \frac{1}{6}$$

$$= 8\pi + \frac{1}{2}$$

$$\Rightarrow 8\pi + \frac{1}{2} = a\pi + b$$

ونظرًا لأن  $a$  و  $b$  نسبيين، فلا يوجد حل لهذه المعادلة سوى أن يكون:  $a = 8, b = \frac{1}{2}$

45

$$f(x) = \int \cos^2 x dx = \frac{1}{2} \int (1 + \cos 2x) dx = \frac{1}{2} \left(x + \frac{1}{2} \sin 2x\right) + C$$

$$f(0) = \frac{1}{2} \left(0 + \frac{1}{2} \sin 0\right) + C$$

$$0 = 0 + C \Rightarrow C = 0$$

$$f(x) = \frac{1}{2}x + \frac{1}{4} \sin 2x$$



46	$s(t) = \int e^{-2t} dt = -\frac{1}{2}e^{-2t} + C$ $s(0) = -\frac{1}{2} + C = 3 \Rightarrow C = \frac{7}{2}$ $3 = -\frac{1}{2} + C \Rightarrow C = \frac{7}{2}$ $s(t) = -\frac{1}{2}e^{-2t} + \frac{7}{2}$
47	$s(100) = -\frac{1}{2}e^{-200} + \frac{7}{2} \approx 3.5 \text{ m}$
48	$P(t) = \int -0.51e^{-0.03t} dt = \frac{-0.51}{-0.03}e^{-0.03t} + C = 17e^{-0.03t} + C$ $P(0) = 17 + C$ $500 = 17 + C \Rightarrow C = 483$ $P(t) = 17e^{-0.03t} + 483$
49	$P(10) = 17e^{-0.3} + 483 \approx 496$
50	$P(t) = \int (0.15 - 0.9e^{0.006t}) dt$ $= 0.15t - \frac{0.9}{0.006}e^{0.006t} + C$ $= 0.15t - 150e^{0.006t} + C$ $P(0) = -150 + C$ $30 = -150 + C \Rightarrow C = 180$ $P(t) = 0.15t - 150e^{0.006t} + 180$
51	$P(10) = 1.5 - 150e^{0.06} + 180 \approx 22.2 \text{ cm}^3$

$$\sin x = 0 \Rightarrow x = 0, \pi, 2\pi$$

$$A = \int_0^{\pi} \sin x \, dx + \left(-\int_{\pi}^{2\pi} \sin x \, dx\right) = (-\cos x)|_0^{\pi} + (\cos x)|_{\pi}^{2\pi}$$

52

$$= -\cos \pi + \cos 0 + \cos 2\pi - \cos \pi = 4$$

ملحوظة: يمكن الاستفادة من التماثل وإيجاد المساحة المطلوبة كما يأتي:

$$A = 2 \int_0^{\pi} \sin x \, dx = 2(-\cos x)|_0^{\pi} = 2(-\cos \pi + \cos 0) = 2(2) = 4$$

$$\sin 2x = 0 \Rightarrow x = 0, \frac{\pi}{2}, \pi, \frac{3\pi}{2}, 2\pi$$

$$A = \int_0^{\frac{\pi}{2}} \sin 2x \, dx + \left(-\int_{\frac{\pi}{2}}^{\pi} \sin 2x \, dx\right) + \int_{\pi}^{\frac{3\pi}{2}} \sin 2x \, dx$$

53

$$+ \left(-\int_{\frac{3\pi}{2}}^{2\pi} \sin 2x \, dx\right)$$

والأسهل هو الاستفادة من التماثل وإيجاد المساحة المطلوبة كما يأتي:

$$A = 4 \int_0^{\frac{\pi}{2}} \sin 2x \, dx = -2 \cos 2x \Big|_0^{\frac{\pi}{2}} = -2(-1 - 1) = 4$$

نقسم البسط والمقام على  $\cos x$

$$\int \frac{\sec x}{\sin x - \cos x} \, dx = \int \frac{\frac{\sec x}{\cos x}}{\left(\frac{\sin x}{\cos x} - 1\right)} \, dx$$

54

$$= \int \frac{\sec^2 x}{(\tan x - 1)} \, dx$$

$$= \ln|\tan x - 1| + C$$

نضرب البسط والمقام في  $\csc x$

$$\begin{aligned} \int \frac{\cot x}{2 + \sin x} dx &= \int \frac{\cot x \csc x}{2 \csc x + 1} dx \\ &= -\frac{1}{2} \int \frac{-2 \cot x \csc x}{2 \csc x + 1} dx \\ &= -\frac{1}{2} \ln|2 \csc x + 1| + C \\ &= -\frac{1}{2} \ln|2 \csc x + 1| + C \end{aligned}$$

55

56

$$\int \frac{1}{x \ln x^3} dx = \int \frac{1}{3x \ln x} dx = \frac{1}{3} \int \frac{\frac{1}{x}}{\ln x} dx = \frac{1}{3} \ln|\ln x| + C$$

57

$$\begin{aligned} \int_1^a \left( \frac{1}{x} - \frac{1}{2x+3} \right) dx &= \left( \ln|x| - \frac{1}{2} \ln|2x+3| \right) \Big|_1^a \\ &= \left( \ln a - \frac{1}{2} \ln(2a+3) \right) - \left( -\frac{1}{2} \ln 5 \right) \\ &= \ln a - \frac{1}{2} \ln(2a+3) + \frac{1}{2} \ln 5 \\ &= \ln \frac{a}{\sqrt{2a+3}} + \frac{1}{2} \ln 5 \\ \Rightarrow \ln \frac{a}{\sqrt{2a+3}} + \frac{1}{2} \ln 5 &= 0.5 \ln 5 \\ \Rightarrow \ln \frac{a}{\sqrt{2a+3}} &= 0 \\ \Rightarrow \frac{a}{\sqrt{2a+3}} &= 1 \\ \Rightarrow a &= \sqrt{2a+3} \\ \Rightarrow a^2 &= 2a+3 \\ \Rightarrow a^2 - 2a - 3 &= 0 \\ \Rightarrow (a-3)(a+1) &= 0 \\ \Rightarrow a = 3, a = -1 & \quad a > 0 \text{ مرفوضة لأن} \end{aligned}$$

طريقة أولى:

$$\begin{aligned} \int_0^{\frac{\pi}{4}} \cos x \cos 3x \, dx &= \frac{1}{2} \int_0^{\frac{\pi}{4}} (\cos 4x + \cos 2x) \, dx \\ &= \left( \frac{1}{8} \sin 4x + \frac{1}{4} \sin 2x \right) \Big|_0^{\frac{\pi}{4}} \\ &= \left( \frac{1}{8} \sin \pi + \frac{1}{4} \sin \frac{\pi}{2} \right) - (0 + 0) = \frac{1}{4} \dots \dots \dots (1) \end{aligned}$$

$$\begin{aligned} \int_0^{\frac{\pi}{4}} \sin x \sin 3x \, dx &= \frac{1}{2} \int_0^{\frac{\pi}{4}} (\cos 2x - \cos 4x) \, dx \\ &= \left( \frac{1}{4} \sin 2x - \frac{1}{8} \sin 4x \right) \Big|_0^{\frac{\pi}{4}} \\ &= \left( \frac{1}{4} \sin \frac{\pi}{2} - \frac{1}{8} \sin \pi \right) - (0 - 0) = \frac{1}{4} \dots \dots \dots (2) \end{aligned}$$

$$\Rightarrow \int_0^{\frac{\pi}{4}} \cos x \cos 3x \, dx - \int_0^{\frac{\pi}{4}} \sin x \sin 3x \, dx = \frac{1}{4} - \frac{1}{4} = 0$$

طريقة ثانية:

$$\begin{aligned} &\int_0^{\frac{\pi}{4}} \cos x \cos 3x \, dx - \int_0^{\frac{\pi}{4}} \sin x \sin 3x \, dx \\ &= \int_0^{\frac{\pi}{4}} (\cos x \cos 3x - \sin x \sin 3x) \, dx = \int_0^{\frac{\pi}{4}} \cos(x + 3x) \, dx \\ &= \int_0^{\frac{\pi}{4}} \cos 4x \, dx = \frac{1}{4} \sin 4x \Big|_0^{\frac{\pi}{4}} = \frac{1}{4} (\sin \pi - \sin 0) = 0 \end{aligned}$$

59

$$\int_{\frac{\pi}{4k}}^{\frac{\pi}{3k}} (1 - \pi \sin kx) dx = \left( x + \frac{\pi}{k} \cos kx \right) \Big|_{\frac{\pi}{4k}}^{\frac{\pi}{3k}}$$

$$= \frac{\pi}{3k} + \frac{\pi}{k} \cos \frac{\pi}{3} - \frac{\pi}{4k} - \frac{\pi}{k} \cos \frac{\pi}{4}$$

$$= \frac{\pi}{k} \left( \frac{1}{3} + \frac{1}{2} - \frac{1}{4} - \frac{\sqrt{2}}{2} \right) = \frac{\pi}{12k} (7 - 6\sqrt{2})$$

$$\Rightarrow \frac{\pi}{12k} (7 - 6\sqrt{2}) = \pi (7 - 6\sqrt{2})$$

$$\Rightarrow k = \frac{1}{12}$$

60

$$v(t) = \begin{cases} 2t + 4, & 0 \leq t \leq 6 \\ 16t - t^2 - 44, & 6 < t \leq 10 \end{cases}$$

$$s(t) = \int v(t) dt$$

عندما  $0 \leq t \leq 6$

$$s(t) = \int (2t + 4) dt = t^2 + 4t + C_1$$

$$s(0) = 0 \Rightarrow C_1 = 0$$

$$\Rightarrow s(t) = t^2 + 4t, 0 \leq t \leq 6$$

$$s(5) = 25 + 20 = 45 \text{ m}$$

عندما  $6 < t \leq 10$  :

$$s(t) = \int (16t - t^2 - 44) dt = 8t^2 - \frac{1}{3}t^3 - 44t + C_2$$

لإيجاد قيمة  $C_2$  نستعمل موقع الجسم عند  $t = 6$  موقعا ابتدائيا بالنسبة للفترة  $[6, 10]$

$$s(6) = 8(6)^2 - \frac{1}{3}(6)^3 - 44(6) + C_2$$

ونحسب  $s(6)$  من اقتران الموقع الذي وجدناه في السؤال السابق بالنسبة للفترة  $[0, 6]$

61  $s(t) = t^2 + 4t, 0 \leq t \leq 6$

$$s(6) = 6^2 + 4(6) = 60$$

$$60 = 8(6)^2 - \frac{1}{3}(6)^3 - 44(6) + C_2$$

$$60 = -48 + C_2 \Rightarrow C_2 = 108$$

$$\Rightarrow s(t) = 8t^2 - \frac{1}{3}t^3 - 44t + 108, 6 < t \leq 10$$

$$s(9) = 117 \text{ m}$$

$$A = \int_0^{45} \frac{1}{x+3} dx = \ln|x+3| \Big|_0^{45}$$

$$= \ln 48 - \ln 3 = \ln 16$$

$$\frac{1}{2}A = \int_0^k \frac{1}{x+3} dx = \ln|x+3| \Big|_0^k$$

$$= \ln(k+3) - \ln 3$$

$$= \ln \frac{k+3}{3}$$

$$\Rightarrow \frac{1}{2} \ln 16 = \ln \frac{k+3}{3}$$

$$\ln 16^{1/2} = \ln \frac{k+3}{3}$$

$$\Rightarrow 4 = \frac{k+3}{3} \Rightarrow k = 9$$

62

مسألة اليوم صفحة 28

$$G(t) = \int \frac{60000e^{-0.6t}}{(1 + 5e^{-0.6t})^2} dt$$

$$u = 1 + 5e^{-0.6t}$$

افرض أن:

$$\frac{du}{dt} = -3e^{-0.6t} \Rightarrow dt = \frac{du}{-3e^{-0.6t}}$$

$$G(t) = \int \frac{60000e^{-0.6t}}{u^2} \times \frac{du}{-3e^{-0.6t}}$$

$$= \int -20000u^{-2} du$$

$$= 20000u^{-1} + C$$

$$G(t) = \frac{20000}{1 + 5e^{-0.6t}} + C$$

$$G(0) = \frac{20000}{1 + 5} + C$$

$$25000 = \frac{10000}{3} + C \Rightarrow C = \frac{65000}{3}$$

$$G(t) = \frac{20000}{1 + 5e^{-0.6t}} + \frac{65000}{3}$$

$$G(20) = \frac{20000}{1 + 5e^{-12}} + \frac{65000}{3} \approx 41666 \text{ kg}$$

أتحقق من فهمي صفحة 32

$$u = x^3 - 5 \Rightarrow \frac{du}{dx} = 3x^2 \Rightarrow dx = \frac{du}{3x^2}$$

$$\int 4x^2 \sqrt{x^3 - 5} dx = \int 4x^2 \sqrt{u} \times \frac{du}{3x^2}$$

a

$$= \int \frac{4}{3} u^{\frac{1}{2}} du$$

$$= \frac{8}{9} u^{\frac{3}{2}} + C$$

$$= \frac{8}{9} \sqrt{(x^3 - 5)^3} + C$$

$$u = \sqrt{x} \Rightarrow \frac{du}{dx} = \frac{1}{2\sqrt{x}} \Rightarrow dx = 2\sqrt{x} du$$

$$\int \frac{1}{2\sqrt{x}} e^{\sqrt{x}} dx = \int \frac{1}{2\sqrt{x}} e^u \times 2\sqrt{x} du$$

b

$$= \int e^u du$$

$$= e^u + C$$

$$= e^{\sqrt{x}} + C$$

$$u = \ln x \Rightarrow \frac{du}{dx} = \frac{1}{x} \Rightarrow dx = x du$$

$$\int \frac{(\ln x)^3}{x} dx = \int \frac{u^3}{x} \times x du$$

c

$$= \int u^3 du$$

$$= \frac{1}{4} u^4 + C$$

$$= \frac{1}{4} (\ln x)^4 + C$$



d

$$u = \ln x \Rightarrow \frac{du}{dx} = \frac{1}{x} \Rightarrow dx = x du$$

$$\int \frac{\cos(\ln x)}{x} dx = \int \frac{\cos u}{x} \times x du$$

$$= \int \cos u du$$

$$= \sin u + C$$

$$= \sin(\ln x) + C$$

e

$$u = \cos 5x \Rightarrow \frac{du}{dx} = -5 \sin 5x \Rightarrow dx = \frac{du}{-5 \sin 5x}$$

$$\int \cos^4 5x \sin 5x dx = \int u^4 \sin 5x \times \frac{du}{-5 \sin 5x}$$

$$= \int -\frac{1}{5} u^4 du$$

$$= -\frac{1}{25} u^5 + C$$

$$= -\frac{1}{25} \cos^5 5x + C$$

f

$$u = x^2 \Rightarrow \frac{du}{dx} = 2x \Rightarrow dx = \frac{du}{2x}$$

$$\int x 2^{x^2} dx = \int x 2^u \times \frac{du}{2x}$$

$$= \int \frac{1}{2} 2^u du$$

$$= \frac{1}{2 \ln 2} 2^u + C$$

$$= \frac{1}{\ln 2} 2^{x^2-1} + C$$

أتحقق من فهمي صفحة 34

$$u = 1 + 2x \Rightarrow \frac{du}{dx} = 2 \Rightarrow dx = \frac{du}{2}, x = \frac{u-1}{2}$$

$$\int \frac{x}{\sqrt{1+2x}} dx = \int \frac{\frac{1}{2}(u-1)}{u^{\frac{1}{2}}} \times \frac{du}{2}$$

$$= \frac{1}{4} \int \left( u^{\frac{1}{2}} - u^{-\frac{1}{2}} \right) du$$

$$= \frac{1}{4} \left( \frac{2}{3} u^{\frac{3}{2}} - 2u^{\frac{1}{2}} \right) + C$$

$$= \frac{1}{6} (1+2x)^{\frac{3}{2}} - \frac{1}{2} (1+2x)^{\frac{1}{2}} + C$$

$$= \frac{1}{6} \sqrt{(1+2x)^3} - \frac{1}{2} \sqrt{1+2x} + C$$

a

$$u = x^4 - 8 \Rightarrow \frac{du}{dx} = 4x^3 \Rightarrow dx = \frac{du}{4x^3}, x^4 = u + 8$$

$$\int x^7 (x^4 - 8)^3 dx = \int x^7 u^3 \times \frac{du}{4x^3}$$

$$= \frac{1}{4} \int x^4 u^3 du$$

$$= \frac{1}{4} \int (u+8) u^3 du$$

$$= \frac{1}{4} \int (u^4 + 8u^3) du$$

$$= \frac{1}{4} \left( \frac{1}{5} u^5 + 2u^4 \right) + C$$

$$= \frac{1}{20} (x^4 - 8)^5 + \frac{1}{2} (x^4 - 8)^4 + C$$

b

$$u = 1 - e^x \Rightarrow \frac{du}{dx} = -e^x \Rightarrow dx = \frac{du}{-e^x}, e^x = 1 - u$$

$$\int \frac{e^{3x}}{(1 - e^x)^2} dx = \int \frac{e^{3x}}{u^2} \times \frac{du}{-e^x}$$

$$= \int -\frac{e^{2x}}{u^2} du$$

$$= \int \frac{-(1 - u)^2}{u^2} du$$

$$= \int \frac{-1 + 2u - u^2}{u^2} du$$

$$= \int \left( -u^{-2} + \frac{2}{u} - 1 \right) du$$

$$= (u^{-1} + 2 \ln|u| - u) + C$$

$$= \frac{1}{1 - e^x} + 2 \ln|1 - e^x| - 1 + e^x + C$$

c

أتحقق من فهمي صفحة 35

$$u = \sqrt[3]{x} \Rightarrow \frac{du}{dx} = \frac{1}{3} x^{-\frac{2}{3}} \Rightarrow dx = 3x^{\frac{2}{3}} du, x = u^3$$

$$\int \frac{dx}{x + \sqrt[3]{x}} = \int \frac{3x^{\frac{2}{3}} du}{u^3 + u}$$

$$= \int \frac{3u^2}{u^3 + u} du$$

$$= \int \frac{3u}{u^2 + 1} du$$

$$= \frac{3}{2} \int \frac{2u}{u^2 + 1} du$$

$$= \frac{3}{2} \ln(u^2 + 1) + C$$

$$= \frac{3}{2} \ln(x^{\frac{2}{3}} + 1) + C$$

a

$$u = 1 - x \Rightarrow \frac{du}{dx} = -1 \Rightarrow dx = -du, \quad x = 1 - u$$

$$\int x \sqrt[3]{(1-x)^2} dx = \int x \sqrt[3]{u^2} \times -du$$

$$= \int -(1-u) \sqrt[3]{u^2} du$$

$$= \int -(1-u)u^{\frac{2}{3}} du$$

$$= \int \left( -u^{\frac{2}{3}} + u^{\frac{5}{3}} \right) du$$

$$= -\frac{3}{5}u^{\frac{5}{3}} + \frac{3}{8}u^{\frac{8}{3}} + C$$

$$= -\frac{3}{5}(1-x)^{\frac{5}{3}} + \frac{3}{8}(1-x)^{\frac{8}{3}} + C$$

$$= -\frac{3}{5}\sqrt[3]{(1-x)^5} + \frac{3}{8}\sqrt[3]{(1-x)^8} + C$$

b

اتحقق من فهمي صفحة 37

$$p(x) = \int \frac{-135x}{\sqrt{9+x^2}} dx$$

$$u = 9 + x^2 \Rightarrow \frac{du}{dx} = 2x \Rightarrow dx = \frac{du}{2x}$$

$$p(x) = \int \frac{-135x}{\sqrt{u}} \times \frac{du}{2x}$$

$$= \frac{-135}{2} \int u^{-\frac{1}{2}} du$$

$$= -135u^{\frac{1}{2}} + C$$

$$p(x) = -135\sqrt{9+x^2} + C$$

$$p(4) = -135\sqrt{9+16} + C = -135(5) + C$$

$$30 = -675 + C \Rightarrow C = 705$$

$$p(x) = 705 - 135\sqrt{9+x^2}$$

اتحقق من فهمي صفحة 39

$$\int \sin^3 x \, dx = \int \sin x \sin^2 x \, dx = \int \sin x (1 - \cos^2 x) \, dx$$

$$u = \cos x \Rightarrow \frac{du}{dx} = -\sin x \Rightarrow dx = \frac{du}{-\sin x}$$

$$\int \sin^3 x \, dx = \int \sin x (1 - u^2) \frac{du}{-\sin x}$$

a

$$= \int (u^2 - 1) \, du$$

$$= \frac{1}{3} u^3 - u + C$$

$$= \frac{1}{3} \cos^3 x - \cos x + C$$

$$u = \sin x \Rightarrow \frac{du}{dx} = \cos x \Rightarrow dx = \frac{du}{\cos x}$$

$$\int \cos^5 x \sin^2 x \, dx = \int \cos^5 x u^2 \frac{du}{\cos x}$$

$$= \int \cos^4 x u^2 \, du$$

$$= \int (1 - \sin^2 x)^2 u^2 \, du$$

b

$$= \int (1 - u^2)^2 u^2 \, du$$

$$= \int (u^2 - 2u^4 + u^6) \, du$$

$$= \frac{1}{3} u^3 - \frac{2}{5} u^5 + \frac{1}{7} u^7 + C$$

$$= \frac{1}{3} \sin^3 x - \frac{2}{5} \sin^5 x + \frac{1}{7} \sin^7 x + C$$

اتحقق من فهمي صفحة 41

$$\begin{aligned}\int \tan^4 x \, dx &= \int \tan^2 x \tan^2 x \, dx \\ &= \int \tan^2 x (\sec^2 x - 1) \, dx \\ &= \int \tan^2 x \sec^2 x - \tan^2 x \, dx \\ &= \int \tan^2 x \sec^2 x \, dx - \int \tan^2 x \, dx \\ &= \int \tan^2 x \sec^2 x \, dx - \int (\sec^2 x - 1) \, dx\end{aligned}$$

a

$$u = \tan x \Rightarrow \frac{du}{dx} = \sec^2 x \Rightarrow dx = \frac{du}{\sec^2 x}$$

$$\Rightarrow \int \tan^4 x \, dx = \int u^2 \sec^2 x \times \frac{du}{\sec^2 x} - \int (\sec^2 x - 1) \, dx$$

$$= \int u^2 \, du - \int (\sec^2 x - 1) \, dx$$

$$= \frac{1}{3} u^3 - \tan x + x + C$$

$$= \frac{1}{3} \tan^3 x - \tan x + x + C$$

$$\begin{aligned}
 \int \cot^5 x \, dx &= \int \cot x \cot^4 x \, dx \\
 &= \int \cot x (\cot^2 x)^2 \, dx \\
 &= \int \cot x (\csc^2 x - 1)^2 \, dx \\
 u = \csc x &\Rightarrow \frac{du}{dx} = -\csc x \cot x \Rightarrow dx = \frac{du}{-\csc x \cot x} \\
 \Rightarrow \int \cot^5 x \, dx &= \int \cot x (u^2 - 1)^2 \times \frac{du}{-\csc x \cot x} \\
 &= \int (u^2 - 1)^2 \frac{du}{-u} \\
 &= \int \frac{u^4 - 2u^2 + 1}{-u} \, du \\
 &= \int \left( -u^3 + 2u - \frac{1}{u} \right) \, du \\
 &= -\frac{1}{4}u^4 + u^2 - \ln|u| + C \\
 &= -\frac{1}{4}\csc^4 x + \csc^2 x - \ln|\csc x| + C
 \end{aligned}$$

b

حلّ ثانٍ:

$$\begin{aligned}
 \int \cot^5 x \, dx &= \int \cot^3 x \cot^2 x \, dx \\
 &= \int \cot^3 x (\csc^2 x - 1) \, dx \\
 &= \int \cot^3 x \csc^2 x \, dx - \int \cot^3 x \, dx \\
 &= \int \cot^3 x \csc^2 x \, dx - \int \cot x \cot^2 x \, dx \\
 &= \int \cot^3 x \csc^2 x \, dx - \int \cot x (\csc^2 x - 1) \, dx \\
 &= \int (\cot^3 x - \cot x) \csc^2 x \, dx + \int \cot x \, dx \\
 u = \cot x &\quad \text{في التكامل الأول افرض}
 \end{aligned}$$

$$\Rightarrow \frac{du}{dx} = -\csc^2 x \Rightarrow dx = \frac{du}{-\csc^2 x}$$

$$\begin{aligned} \int \cot^5 x \, dx &= \int (u^3 - u) \csc^2 x \frac{du}{-\csc^2 x} + \int \frac{\cos x}{\sin x} dx \\ &= \int (u - u^3) du + \int \frac{\cos x}{\sin x} dx \\ &= \frac{1}{2}u^2 - \frac{1}{4}u^4 + \ln|\sin x| + C \\ &= \frac{1}{2}\cot^2 x - \frac{1}{4}\cot^4 x + \ln|\sin x| + C \end{aligned}$$

$$u = \tan x \Rightarrow \frac{du}{dx} = \sec^2 x \Rightarrow dx = \frac{du}{\sec^2 x}$$

$$\begin{aligned} \int \sec^4 x \tan^6 x \, dx &= \int \sec^4 x u^6 \times \frac{du}{\sec^2 x} \\ &= \int \sec^2 x u^6 \, du \\ &= \int (1 + \tan^2 x) u^6 \, du \\ &= \int (1 + u^2) u^6 \, du \\ &= \int (u^6 + u^8) \, du \\ &= \frac{1}{7}u^7 + \frac{1}{9}u^9 + C \\ &= \frac{1}{7}\tan^7 x + \frac{1}{9}\tan^9 x + C \end{aligned}$$



اتحقق من فهمي صفحة 43

$$u = x + 1 \Rightarrow \frac{du}{dx} = 1 \Rightarrow dx = du, x = u - 1$$

$$x = 0 \Rightarrow u = 1$$

$$x = 2 \Rightarrow u = 3$$

$$\begin{aligned} \int_0^2 x(x+1)^3 dx &= \int_1^3 (u-1)u^3 du \\ &= \int_1^3 (u^4 - u^3) du \\ &= \left( \frac{1}{5}u^5 - \frac{1}{4}u^4 \right) \Big|_1^3 \\ &= \frac{1}{5}(3)^5 - \frac{1}{4}(3)^4 - \left( \frac{1}{5}(1)^5 - \frac{1}{4}(1)^4 \right) \\ &= \frac{142}{5} = 28.4 \end{aligned}$$

a

$$u = \sec x + 2 \Rightarrow \frac{du}{dx} = \sec x \tan x \Rightarrow dx = \frac{du}{\sec x \tan x}$$

$$x = 0 \Rightarrow u = 3$$

$$x = \frac{\pi}{3} \Rightarrow u = 4$$

$$\begin{aligned} \int_0^{\frac{\pi}{3}} \sec x \tan x \sqrt{\sec x + 2} dx &= \int_3^4 \sec x \tan x \sqrt{u} \frac{du}{\sec x \tan x} \\ &= \int_3^4 \sqrt{u} du \\ &= \frac{2}{3} u^{\frac{3}{2}} \Big|_3^4 \\ &= \frac{2}{3} (8 - 3\sqrt{3}) \approx 1.87 \end{aligned}$$

b

أنترب وأحل المسائل صفحة 44

1

$$u = 2x^3 + 5 \Rightarrow \frac{du}{dx} = 6x^2 \Rightarrow dx = \frac{du}{6x^2}$$

$$\int x^2(2x^3 + 5)^4 dx = \int x^2 u^4 \times \frac{du}{6x^2}$$

$$= \int \frac{1}{6} u^4 du$$

$$= \frac{1}{30} u^5 + C$$

$$= \frac{1}{30} (2x^3 + 5)^5 + C$$

2

$$u = x + 3 \Rightarrow dx = du, x = u - 3$$

$$\int x^2 \sqrt{x+3} dx = \int x^2 \sqrt{u} du$$

$$= \int (u-3)^2 \sqrt{u} du$$

$$= \int \left( u^{\frac{5}{2}} - 6u^{\frac{3}{2}} + 9u^{\frac{1}{2}} \right) du$$

$$= \frac{2}{7} u^{\frac{7}{2}} - \frac{12}{5} u^{\frac{5}{2}} + 6u^{\frac{3}{2}} + C$$

$$= \frac{2}{7} (x+3)^{\frac{7}{2}} - \frac{12}{5} (x+3)^{\frac{5}{2}} + 6(x+3)^{\frac{3}{2}} + C$$

$$= \frac{2}{7} \sqrt{(x+3)^7} - \frac{12}{5} \sqrt{(x+3)^5} + 6\sqrt{(x+3)^3} + C$$

3

$$u = x + 2 \Rightarrow dx = du, x = u - 2$$

$$\int x(x+2)^3 dx = \int x u^3 du$$

$$= \int (u-2)u^3 du$$

$$= \int (u^4 - 2u^3) du$$

$$= \frac{1}{5} u^5 - \frac{1}{2} u^4 + C$$

$$= \frac{1}{5} (x+2)^5 - \frac{1}{2} (x+2)^4 + C$$

$$u = x + 4 \Rightarrow dx = du, x = u - 4$$

$$\int \frac{x}{\sqrt{x+4}} dx = \int \frac{x}{\sqrt{u}} du$$

$$= \int \frac{u-4}{\sqrt{u}} du$$

$$= \int \left( u^{\frac{1}{2}} - 4u^{-\frac{1}{2}} \right) du$$

$$= \frac{2}{3} u^{\frac{3}{2}} - 8u^{\frac{1}{2}} + C$$

$$= \frac{2}{3} (x+4)^{\frac{3}{2}} - 8(x+4)^{\frac{1}{2}} + C$$

$$= \frac{2}{3} \sqrt{(x+4)^3} - 8\sqrt{x+4} + C$$

4

$$\int \sin x \cos 2x dx = \int \sin x (2 \cos^2 x - 1) dx$$

$$u = \cos x \Rightarrow \frac{du}{dx} = -\sin x \Rightarrow dx = \frac{du}{-\sin x}$$

$$\int \sin x \cos 2x dx = \int \sin x (2u^2 - 1) \times \frac{du}{-\sin x}$$

$$= \int (1 - 2u^2) du$$

$$= u - \frac{2}{3} u^3 + C$$

$$= \cos x - \frac{2}{3} \cos^3 x + C$$

5

$$u = e^x + 1 \Rightarrow \frac{du}{dx} = e^x \Rightarrow dx = \frac{du}{e^x}, e^x = u - 1$$

$$\int \frac{e^{3x}}{e^x + 1} dx = \int \frac{e^{3x}}{u} \times \frac{du}{e^x}$$

$$= \int \frac{e^{2x}}{u} du$$

$$= \int \frac{(u-1)^2}{u} du$$

$$= \int \left( u - 2 + \frac{1}{u} \right) du$$

$$= \frac{1}{2} u^2 - 2u + \ln|u| + C$$

$$= \frac{1}{2} (e^x + 1)^2 - 2(e^x + 1) + \ln(e^x + 1) + C$$

$$\int \sec^4 x dx = \int \sec^2 x \times \sec^2 x dx = \int \sec^2 x (1 + \tan^2 x) dx$$

$$u = \tan x \Rightarrow \frac{du}{dx} = \sec^2 x \Rightarrow dx = \frac{du}{\sec^2 x}$$

$$\int \sec^4 x dx = \int \sec^2 x (1 + u^2) \times \frac{du}{\sec^2 x}$$

$$= \int (1 + u^2) du$$

$$= u + \frac{1}{3} u^3 + C$$

$$= \tan x + \frac{1}{3} \tan^3 x + C$$

$$\int \frac{\tan x}{\cos^2 x} dx = \int \tan x \sec^2 x dx$$

$$u = \tan x \Rightarrow \frac{du}{dx} = \sec^2 x \Rightarrow dx = \frac{du}{\sec^2 x}$$

$$\int \frac{\tan x}{\cos^2 x} dx = \int u \sec^2 x \times \frac{du}{\sec^2 x}$$

8

$$= \int u du$$

$$= \frac{1}{2} u^2 + C$$

$$= \frac{1}{2} \tan^2 x + C$$

$$u = \ln x \Rightarrow \frac{du}{dx} = \frac{1}{x} \Rightarrow dx = x du$$

$$\int \frac{\sin(\ln x)}{x} dx = \int \frac{\sin u}{x} \times x du$$

9

$$= \int \sin u du$$

$$= -\cos u + C$$

$$= -\cos(\ln x) + C$$

$$\int \frac{\sin x \cos x}{1 + \sin^2 x} dx = \frac{1}{2} \int \frac{2 \sin x \cos x}{1 + \sin^2 x} dx$$

10

$$= \frac{1}{2} \ln(1 + \sin^2 x) + C$$

$$u = e^x + e^{-x} \Rightarrow \frac{du}{dx} = e^x - e^{-x} \Rightarrow dx = \frac{du}{e^x - e^{-x}}$$

$$\int \frac{2e^x - 2e^{-x}}{(e^x + e^{-x})^2} dx = \int \frac{2(e^x - e^{-x})}{u^2} \times \frac{du}{e^x - e^{-x}}$$

11

$$= \int 2u^{-2} du$$

$$= -2u^{-1} + C$$

$$= -\frac{2}{e^x + e^{-x}} + C$$

$$u = x + 1 \Rightarrow dx = du, x = u - 1$$

$$\int \frac{-x}{(x+1)\sqrt{x+1}} dx = \int \frac{1-u}{u\sqrt{u}} du$$

$$= \int \frac{1-u}{u^{\frac{3}{2}}} du$$

$$= \int \left( u^{-\frac{3}{2}} - u^{-\frac{1}{2}} \right) du$$

$$= -2u^{-\frac{1}{2}} - 2u^{\frac{1}{2}} + C$$

$$= -2(x+1)^{-\frac{1}{2}} - 2(x+1)^{\frac{1}{2}} + C$$

$$= \frac{-2}{\sqrt{x+1}} - 2\sqrt{x+1} + C$$

12

$$u = x + 10 \Rightarrow dx = du, x = u - 10$$

$$\int x \sqrt[3]{x+10} dx = \int (u-10)u^{\frac{1}{3}} du$$

$$= \int \left( u^{\frac{4}{3}} - 10u^{\frac{1}{3}} \right) du$$

$$= \frac{3}{7}u^{\frac{7}{3}} - \frac{15}{2}u^{\frac{4}{3}} + C$$

$$= \frac{3}{7}(x+10)^{\frac{7}{3}} - \frac{15}{2}(x+10)^{\frac{4}{3}} + C$$

$$= \frac{3}{7}\sqrt[3]{(x+10)^7} - \frac{15}{2}\sqrt[3]{(x+10)^4} + C$$

13

14

$$u = \tan \frac{x}{2} \Rightarrow \frac{du}{dx} = \frac{1}{2} \sec^2 \frac{x}{2} \Rightarrow dx = \frac{2 du}{\sec^2 \frac{x}{2}}$$

$$\int \sec^2 \frac{x}{2} \tan^7 \frac{x}{2} dx = \int \sec^2 \frac{x}{2} u^7 \times \frac{2 du}{\sec^2 \frac{x}{2}}$$

$$= 2 \int u^7 du$$

$$= \frac{1}{4} u^8 + C$$

$$= \frac{1}{4} \tan^8 \frac{x}{2} + C$$

15

$$\int \frac{\sec^3 x + e^{\sin x}}{\sec x} dx = \int (\sec^2 x + \cos x e^{\sin x}) dx$$

$$= \int \sec^2 x dx + \int \cos x e^{\sin x} dx$$

$$u = \sin x \Rightarrow \frac{du}{dx} = \cos x \Rightarrow dx = \frac{du}{\cos x}$$

$$\int \frac{\sec^3 x + e^{\sin x}}{\sec x} dx = \int \sec^2 x dx + \int \cos x e^u \times \frac{du}{\cos x}$$

$$= \tan x + \int e^u du$$

$$= \tan x + e^u + C$$

$$= \tan x + e^{\sin x} + C$$

16

$$u = \sin x \Rightarrow \frac{du}{dx} = \cos x \Rightarrow dx = \frac{du}{\cos x}$$

$$\int (1 + \sqrt[3]{\sin x}) \cos^3 x \, dx = \int \left(1 + u^{\frac{1}{3}}\right) \cos^3 x \frac{du}{\cos x}$$

$$= \int \left(1 + u^{\frac{1}{3}}\right) \cos^2 x \, du$$

$$= \int \left(1 + u^{\frac{1}{3}}\right) (1 - \sin^2 x) \, du$$

$$= \int \left(1 + u^{\frac{1}{3}}\right) (1 - u^2) \, du$$

$$= \int \left(1 + u^{\frac{1}{3}}\right) (1 - u^2) \, du$$

$$= \int \left(1 - u^2 + u^{\frac{1}{3}} - u^{\frac{7}{3}}\right) \, du$$

$$= u - \frac{1}{3}u^3 + \frac{3}{4}u^{\frac{4}{3}} - \frac{3}{10}u^{\frac{10}{3}} + C$$

$$= \sin x - \frac{1}{3}\sin^3 x + \frac{3}{4}\sin^{\frac{4}{3}} x - \frac{3}{10}\sin^{\frac{10}{3}} x + C$$



17

$$\int \sin x \sec^5 x dx = \int \sin x \cos^{-5} x dx$$

$$u = \cos x \Rightarrow \frac{du}{dx} = -\sin x \Rightarrow dx = \frac{du}{-\sin x}$$

$$\int \sin x \sec^5 x dx = \int \sin x u^{-5} \times \frac{du}{-\sin x}$$

$$= - \int u^{-5} du$$

$$= \frac{1}{4} u^{-4} + C$$

$$= \frac{1}{4} \cos^{-4} x + C$$

$$= \frac{1}{4} \sec^4 x + C$$

18

$$\int \frac{\sin x + \tan x}{\cos^3 x} dx = \int (\tan x \sec^2 x + \tan x \sec^3 x) dx$$

$$= \int \tan x \sec x (\sec x + \sec^2 x) dx$$

$$u = \sec x \Rightarrow \frac{du}{dx} = \tan x \sec x \Rightarrow dx = \frac{du}{\tan x \sec x}$$

$$\int \frac{\sin x + \tan x}{\cos^3 x} dx = \int \tan x \sec x (u + u^2) \frac{du}{\tan x \sec x}$$

$$= \int (u + u^2) du$$

$$= \frac{1}{2} u^2 + \frac{1}{3} u^3 + C$$

$$= \frac{1}{2} \sec^2 x + \frac{1}{3} \sec^3 x + C$$

$$\sqrt{1 - \cos^2 2x} = \sqrt{\sin^2 2x} = |\sin 2x|$$

لكن الزاوية  $2x$  تكون ضمن الربع الأول عندما  $0 < x < \frac{\pi}{4}$

لذا فإن  $|\sin 2x| = \sin 2x$  ويكون  $\sin 2x > 0$

$$\begin{aligned} \int_0^{\frac{\pi}{4}} \sin x \sqrt{1 - \cos^2 2x} dx &= \int_0^{\frac{\pi}{4}} \sin x \sin 2x dx \\ &= \int_0^{\frac{\pi}{4}} 2 \sin^2 x \cos x dx \end{aligned}$$

$$u = \sin x \Rightarrow \frac{du}{dx} = \cos x \Rightarrow dx = \frac{du}{\cos x}$$

$$x = 0 \Rightarrow u = 0$$

$$x = \frac{\pi}{4} \Rightarrow u = \frac{1}{\sqrt{2}}$$

$$\begin{aligned} \int_0^{\frac{\pi}{4}} \sin x \sqrt{1 - \cos^2 2x} dx &= \int_0^{\frac{1}{\sqrt{2}}} 2u^2 \cos x \frac{du}{\cos x} \\ &= \int_0^{\frac{1}{\sqrt{2}}} 2u^2 du \\ &= \frac{2}{3} u^3 \Big|_0^{\frac{1}{\sqrt{2}}} \\ &= \frac{1}{3\sqrt{2}} \end{aligned}$$

20

$$u = x^2 \Rightarrow \frac{du}{dx} = 2x \Rightarrow dx = \frac{du}{2x}$$

$$x = \frac{\pi}{2} \Rightarrow u = \frac{\pi^2}{4}$$

$$x = 0 \Rightarrow u = 0$$

$$\int_0^{\frac{\pi}{2}} x \sin x^2 dx = \int_0^{\frac{\pi^2}{4}} x \sin u \frac{du}{2x}$$

$$= \frac{1}{2} \int_0^{\frac{\pi^2}{4}} \sin u du$$

$$= -\frac{1}{2} \cos u \Big|_0^{\frac{\pi^2}{4}}$$

$$= -\frac{1}{2} \left( \cos \frac{\pi^2}{4} - 1 \right) \approx 0.891$$

21

$$u = 1 + x^2 \Rightarrow \frac{du}{dx} = 2x \Rightarrow dx = \frac{du}{2x}, \quad x^2 = u - 1$$

$$x = 0 \Rightarrow u = 1$$

$$x = 1 \Rightarrow u = 2$$

$$\int_0^1 \frac{x^3}{\sqrt{1+x^2}} dx = \int_1^2 \frac{x^3}{\sqrt{u}} \times \frac{du}{2x} = \frac{1}{2} \int_1^2 \frac{x^2}{\sqrt{u}} du = \frac{1}{2} \int_1^2 \frac{u-1}{\sqrt{u}} du$$

$$= \frac{1}{2} \int_1^2 \left( u^{\frac{1}{2}} - u^{-\frac{1}{2}} \right) du$$

$$= \frac{1}{2} \left( \frac{2}{3} u^{\frac{3}{2}} - 2u^{\frac{1}{2}} \right) \Big|_1^2$$

$$= \frac{1}{2} \left( \frac{2}{3} (2)^{\frac{3}{2}} - 2(2)^{\frac{1}{2}} - \left( \frac{2}{3} (1) - 2(1) \right) \right)$$

$$= \frac{2 - \sqrt{2}}{3}$$

22

$$u = \tan x \Rightarrow \frac{du}{dx} = \sec^2 x \Rightarrow dx = \frac{du}{\sec^2 x}$$

$$x = 0 \Rightarrow u = 0$$

$$x = \frac{\pi}{3} \Rightarrow u = \sqrt{3}$$

$$\begin{aligned} \int_0^{\frac{\pi}{3}} \sec^2 x \tan^5 x \, dx &= \int_0^{\sqrt{3}} \sec^2 x u^5 \frac{du}{\sec^2 x} \\ &= \int_0^{\sqrt{3}} u^5 \, du \\ &= \frac{1}{6} u^6 \Big|_0^{\sqrt{3}} \\ &= \frac{9}{2} \end{aligned}$$

23

$$u = (x - 1)^2 \Rightarrow \frac{du}{dx} = 2(x - 1) \Rightarrow dx = \frac{du}{2(x - 1)}$$

$$x = 0 \Rightarrow u = 1$$

$$x = 2 \Rightarrow u = 1$$

$$\int_0^2 (x - 1)e^{(x-1)^2} \, dx = \int_1^1 (x - 1)e^u \frac{du}{2(x - 1)} = 0$$

24

$$u = 2 + \sqrt{x} \Rightarrow \frac{du}{dx} = \frac{1}{2\sqrt{x}} \Rightarrow dx = 2\sqrt{x} \, du$$

$$x = 1 \Rightarrow u = 3$$

$$x = 4 \Rightarrow u = 4$$

$$\int_1^4 \frac{\sqrt{2 + \sqrt{x}}}{\sqrt{x}} \, dx = \int_3^4 \frac{\sqrt{u}}{\sqrt{x}} 2\sqrt{x} \, du = \int_3^4 2\sqrt{u} \, du = \frac{4}{3} u^{\frac{3}{2}} \Big|_3^4 = \frac{4(8 - 3\sqrt{3})}{3}$$

25

$$u = 1 + x^{\frac{3}{2}} \Rightarrow \frac{du}{dx} = \frac{3}{2} x^{\frac{1}{2}} \Rightarrow dx = \frac{2}{3} \frac{du}{x^{\frac{1}{2}}}$$

$$x = 0 \Rightarrow u = 1$$

$$x = 1 \Rightarrow u = 2$$

$$\begin{aligned} \int_0^1 \frac{10\sqrt{x}}{(1 + \sqrt{x^3})^2} dx &= \int_1^2 \frac{10\sqrt{x}}{u^2} \frac{2}{3} \frac{du}{x^{\frac{1}{2}}} \\ &= \frac{20}{3} \int_1^2 u^{-2} du = -\frac{20}{3} u^{-1} \Big|_1^2 = \frac{10}{3} \end{aligned}$$

26

$$u = \cos x \Rightarrow \frac{du}{dx} = -\sin x \Rightarrow dx = \frac{du}{-\sin x}$$

$$x = 0 \Rightarrow u = 1$$

$$x = \frac{\pi}{6} \Rightarrow u = \frac{\sqrt{3}}{2}$$

$$\int_0^{\frac{\pi}{6}} 2^{\cos x} \sin x dx = \int_1^{\frac{\sqrt{3}}{2}} 2^u \sin x \frac{du}{-\sin x}$$

$$= - \int_1^{\frac{\sqrt{3}}{2}} 2^u du$$

$$= - \frac{2^u}{\ln 2} \Big|_1^{\frac{\sqrt{3}}{2}}$$

$$= - \frac{1}{\ln 2} \left( 2^{\frac{\sqrt{3}}{2}} - 2 \right) \approx 0.256$$

27

$$u = \cot x \Rightarrow \frac{du}{dx} = -\csc^2 x \Rightarrow dx = \frac{du}{-\csc^2 x}$$

$$x = \frac{\pi}{2} \Rightarrow u = 0$$

$$x = \frac{\pi}{4} \Rightarrow u = 1$$

$$\int_{\frac{\pi}{4}}^{\frac{\pi}{2}} \csc^2 x \cot^5 x dx = \int_1^0 \csc^2 x u^5 \frac{du}{-\csc^2 x}$$

$$= \int_1^0 -u^5 du$$

$$= -\frac{1}{6}u^6 \Big|_1^0$$

$$= \frac{1}{6}$$

28

$$A = -\int_{-1}^0 6x(x^2 + 1)^3 dx + \int_0^1 6x(x^2 + 1)^3 dx$$

$$u = x^2 + 1 \Rightarrow \frac{du}{dx} = 2x \Rightarrow dx = \frac{du}{2x}$$

$$x = -1 \Rightarrow u = 2$$

$$x = 0 \Rightarrow u = 1$$

$$x = 1 \Rightarrow u = 2$$

$$A = -\int_2^1 6xu^3 \frac{du}{2x} + \int_1^2 6xu^3 \frac{du}{2x}$$

$$= \int_1^2 3u^3 du + \int_1^2 3u^3 du = \int_1^2 6u^3 du$$

$$= \frac{6}{4}u^4 \Big|_1^2$$

$$= \frac{45}{2}$$

29

$$A = \int_2^4 \frac{x}{(x-1)^3} dx$$

$$u = x - 1 \Rightarrow dx = du \quad , \quad x = u + 1$$

$$x = 2 \Rightarrow u = 1$$

$$x = 4 \Rightarrow u = 3$$

$$\begin{aligned} A &= \int_2^4 \frac{x}{(x-1)^3} dx = \int_1^3 \frac{u+1}{u^3} du \\ &= \int_1^3 (u^{-2} + u^{-3}) du = \left( -u^{-1} - \frac{1}{2}u^{-2} \right) \Big|_1^3 \\ &= -\frac{1}{3} - \frac{1}{2} \left( \frac{1}{9} \right) + 1 + \frac{1}{2} \\ &= \frac{10}{9} \end{aligned}$$

30

$$u = x^2 \Rightarrow \frac{du}{dx} = 2x \Rightarrow dx = \frac{du}{2x}$$

$$x = -1 \Rightarrow u = 1$$

$$x = 0 \Rightarrow u = 0$$

$$x = 2 \Rightarrow u = 4$$

$$\begin{aligned} A &= - \int_{-1}^0 x e^{x^2} dx + \int_0^2 x e^{x^2} dx = - \int_1^0 x e^u \frac{du}{2x} + \int_0^4 x e^u \frac{du}{2x} \\ &= - \int_1^0 \frac{1}{2} e^u du + \int_0^4 \frac{1}{2} e^u du \\ &= -\frac{1}{2} e^u \Big|_1^0 + \frac{1}{2} e^u \Big|_0^4 \\ &= -\frac{1}{2} e^0 + \frac{1}{2} e^1 + \frac{1}{2} e^4 - \frac{1}{2} e^0 \\ &= \frac{1}{2} (e^4 + e) - 1 \approx 27.658 \end{aligned}$$

$$u = x^2 + \frac{\pi}{6} \Rightarrow \frac{du}{dx} = 2x \Rightarrow dx = \frac{du}{2x}$$

$$x = \sqrt{\frac{\pi}{6}} \Rightarrow u = \frac{\pi}{3}$$

$$x = 0 \Rightarrow u = \frac{\pi}{6}$$

$$A = \int_0^{\sqrt{\frac{\pi}{6}}} 2x \cos\left(x^2 + \frac{\pi}{6}\right) dx = \int_{\frac{\pi}{6}}^{\frac{\pi}{3}} 2x \cos u \frac{du}{2x}$$

31

$$= \int_{\frac{\pi}{6}}^{\frac{\pi}{3}} \cos u \, du$$

$$= \sin u \Big|_{\frac{\pi}{6}}^{\frac{\pi}{3}}$$

$$= \sin \frac{\pi}{3} - \sin \frac{\pi}{6}$$

$$= \frac{\sqrt{3}}{2} - \frac{1}{2} = \frac{\sqrt{3} - 1}{2} \approx 0.366$$

$$f(x) = \int f'(x) \, dx = \int 2x(4x^2 - 10)^2 \, dx$$

$$u = 4x^2 - 10 \Rightarrow \frac{du}{dx} = 8x \Rightarrow dx = \frac{du}{8x}$$

$$f(x) = \int 2xu^2 \frac{du}{8x} = \int u^2 \frac{du}{4}$$

32

$$= \frac{1}{4} \int u^2 \, du$$

$$= \frac{1}{12} u^3 + C$$

$$\Rightarrow f(x) = \frac{1}{12} (4x^2 - 10)^3 + C$$

$$f(2) = \frac{1}{12} (216) + C = 10 \Rightarrow C = -8$$

$$10 = 18 + C \Rightarrow C = -8$$

$$\Rightarrow f(x) = \frac{1}{12} (4x^2 - 10)^3 - 8$$



$$f(x) = \int f'(x) dx = \int x^2 e^{-0.2x^3} dx$$

$$u = -0.2x^3 \Rightarrow \frac{du}{dx} = -0.6x^2 \Rightarrow dx = \frac{du}{-0.6x^2}$$

$$f(x) = \int x^2 e^u \frac{du}{-0.6x^2} = -\frac{10}{6} \int e^u du$$

$$= -\frac{5}{3} e^u + C$$

$$\Rightarrow f(x) = -\frac{5}{3} e^{-0.2x^3} + C$$

$$f(0) = -\frac{5}{3} + C$$

$$\frac{3}{2} = -\frac{5}{3} + C \Rightarrow C = \frac{19}{6}$$

$$\Rightarrow f(x) = -\frac{5}{3} e^{-0.2x^3} + \frac{19}{6}$$

33

نجد أصفار الاقتران بحل المعادلة  $f(x) = 0$

$$x(x-2)^4 = 0 \Rightarrow x = 0, x = 2$$

نقطة التقاطع  $(0, 0)$  ، فتكون نقطة التماس  $(2, 0)$

ويمكن التحقق بحساب  $f'(2)$  :  $f'(x) = (x-2)^4 + 4x(x-2)^3$

$$f'(2) = (2-2)^4 + 4(2)(2-2)^3 = 0$$

34

35

$$A = \int_0^2 x(x-2)^4 dx$$

$$u = x - 2 \Rightarrow dx = du, \quad x = u + 2$$

$$x = 0 \Rightarrow u = -2$$

$$x = 2 \Rightarrow u = 0$$

$$\begin{aligned} A &= \int_0^2 x(x-2)^4 dx = \int_{-2}^0 (u+2)u^4 du \\ &= \int_{-2}^0 (u^5 + 2u^4) du = \left( \frac{1}{6}u^6 + \frac{2}{5}u^5 \right) \Big|_{-2}^0 \\ &= 0 - \left( \frac{1}{6}(-2)^6 + \frac{2}{5}(-2)^5 \right) = \frac{32}{15} \end{aligned}$$

36

$$s(t) = \int \sin \omega t \cos^2 \omega t dt$$

$$u = \cos \omega t \Rightarrow \frac{du}{dt} = -\omega \sin \omega t \Rightarrow dt = \frac{du}{-\omega \sin \omega t}$$

$$\begin{aligned} s(t) &= \int \sin \omega t u^2 \frac{du}{-\omega \sin \omega t} \\ &= \frac{-1}{\omega} \int u^2 du = \frac{-1}{3\omega} u^3 + C \end{aligned}$$

$$\Rightarrow s(t) = -\frac{1}{3\omega} \cos^3 \omega t + C$$

لكن  $s(0) = 0$  لأن الجسم انطلق من نقطة الأصل.

$$s(0) = -\frac{1}{3\omega} + C$$

$$0 = -\frac{1}{3\omega} + C \Rightarrow C = \frac{1}{3\omega}$$

$$\Rightarrow s(t) = -\frac{1}{3\omega} \cos^3 \omega t + \frac{1}{3\omega}$$

$$C(t) = \int C'(t) dt = \int \frac{-0.01e^{-0.01t}}{(1 + e^{-0.01t})^2} dt$$

$$u = 1 + e^{-0.01t} \Rightarrow \frac{du}{dt} = -0.01e^{-0.01t} \Rightarrow dt = \frac{du}{-0.01e^{-0.01t}}$$

$$C(t) = \int \frac{-0.01e^{-0.01t}}{u^2} \times \frac{du}{-0.01e^{-0.01t}} = \int u^{-2} du$$

$$= -u^{-1} + K$$

37

(استعمل الرمز  $K$  لثابت التكامل بدل  $C$  المعتاد لتمييز ثابت التكامل عن رمز الاقتران  $C$ ).

$$C(t) = -(1 + e^{-0.01t})^{-1} + K$$

$$C(0) = -(2)^{-1} + K$$

$$\frac{1}{2} = -\frac{1}{2} \Rightarrow K = 1$$

$$\Rightarrow C(t) = -(1 + e^{-0.01t})^{-1} + 1$$

$$C(t) = \frac{-1}{1 + e^{-0.01t}} + 1$$

38

$$u = e^x - 2 \Rightarrow \frac{du}{dx} = e^x \Rightarrow dx = \frac{du}{e^x}$$

$$e^x = u + 2$$

$$x = \ln 3 \Rightarrow u = e^{\ln 3} - 2 = 3 - 2 = 1$$

$$x = \ln 4 \Rightarrow u = e^{\ln 4} - 2 = 4 - 2 = 2$$

$$\int_{\ln 3}^{\ln 4} \frac{e^{4x}}{e^x - 2} dx = \int_1^2 \frac{e^{4x}}{u} \frac{du}{e^x} = \int_1^2 \frac{e^{3x}}{u} du$$

$$= \int_1^2 \frac{(u+2)^3}{u} du$$

$$= \int_1^2 \frac{u^3 + 6u^2 + 12u + 8}{u} du$$

$$= \int_1^2 \left( u^2 + 6u + 12 + \frac{8}{u} \right) du$$

$$= \left( \frac{1}{3}u^3 + 3u^2 + 12u + 8 \ln |u| \right) \Big|_1^2$$

$$= \left( \frac{1}{3}(2)^3 + 3(2)^2 + 12(2) + 8 \ln 2 \right) - \left( \frac{1}{3}(1)^3 + 3(1)^2 + 12(1) + 8 \ln 1 \right)$$

$$= \frac{70}{3} + 8 \ln 2$$

39

$$f(x) = \int \tan x dx = - \int \frac{\sin x}{\cos x} dx = - \ln |\cos x| + C$$

$$f(3) = - \ln |\cos 3| + C$$

$$5 = - \ln |\cos 3| + C \Rightarrow C = 5 + \ln |\cos 3|$$

$$f(x) = - \ln |\cos x| + 5 + \ln |\cos 3| = \ln \left| \frac{\cos 3}{\cos x} \right| + 5$$

$$f(x) = 0 \Rightarrow 3 \cos x \sqrt{1 + \sin x} = 0$$

$$\cos x = 0 \Rightarrow x = \frac{\pi}{2} + 2n\pi, n \in \mathbb{Z}, x = \frac{3\pi}{2} + 2n\pi, n \in \mathbb{Z}$$

$$\sin x = -1 \Rightarrow x = \frac{3\pi}{2} + 2n\pi, n \in \mathbb{Z}$$

يوجد عدد لا نهائي من الحلول لهاتين المعادلتين، ونريد أصغر حلين موجبين (الإحداثي  $x$  للنقطتين  $C, B$ ) وأكبر حل سالب (الإحداثي  $x$  للنقطة  $A$ )

40

أصغر حلين موجبين هما:  $x = \frac{\pi}{2}, x = \frac{3\pi}{2}$  بوضع  $n = 0$

$$\Rightarrow B\left(\frac{\pi}{2}, 0\right), \quad C\left(\frac{3\pi}{2}, 0\right)$$

أكبر حل سالب هو:  $x = -\frac{\pi}{2}$  بوضع  $n = -1$

$$\Rightarrow A\left(-\frac{\pi}{2}, 0\right)$$

أما النقطة  $D$  فإحداثياها هما:  $D(0, f(0)) = (0, 3)$

$$A = A_1 + A_2 = A(R_1) + A(R_2)$$

$$A = \int_{-\frac{\pi}{2}}^{\frac{\pi}{2}} (3 \cos x \sqrt{1 + \sin x}) dx + \left(- \int_{\frac{\pi}{2}}^{\frac{3\pi}{2}} (3 \cos x \sqrt{1 + \sin x}) dx\right)$$

$$u = 1 + \sin x \Rightarrow \frac{du}{dx} = \cos x \Rightarrow dx = \frac{du}{\cos x}$$

$$x = -\frac{\pi}{2} \Rightarrow u = 0$$

$$x = \frac{\pi}{2} \Rightarrow u = 2$$

41

$$x = \frac{3\pi}{2} \Rightarrow u = 0$$

$$A = 3 \int_0^2 \cos x \sqrt{u} \frac{du}{\cos x} + (-3 \int_2^0 \cos x \sqrt{u} \frac{du}{\cos x})$$

$$= 3 \int_0^2 \sqrt{u} du + 3 \int_0^2 \sqrt{u} du$$

$$= 6 \int_0^2 \sqrt{u} du = 4u^{\frac{3}{2}} \Big|_0^2 = 4(2\sqrt{2} - 0) = 8\sqrt{2}$$

من حل السؤال السابق نجد أن:

42

$$A(R_1) = \int_{-\frac{\pi}{2}}^{\frac{\pi}{2}} (3 \cos x \sqrt{1 + \sin x}) dx = \int_0^2 3\sqrt{u} du = 4\sqrt{2}$$

$$A(R_2) = - \int_{\frac{\pi}{2}}^{\frac{3\pi}{2}} (3 \cos x \sqrt{1 + \sin x}) dx = - \int_2^0 3\sqrt{u} du = 4\sqrt{2}$$

$$\Rightarrow A(R_1) = A(R_2)$$

43

$$u = 1 + x^{\frac{3}{4}} \Rightarrow \frac{du}{dx} = \frac{3}{4} x^{-\frac{1}{4}} \Rightarrow dx = \frac{4}{3} x^{\frac{1}{4}} du, \quad x^{\frac{3}{4}} = u - 1$$

$$x = 1 \Rightarrow u = 2$$

$$x = 16 \Rightarrow u = 9$$

$$\int_1^{16} \frac{\sqrt{x}}{1 + \sqrt[4]{x^3}} dx = \int_2^9 \frac{x^{\frac{1}{2}} \cdot \frac{4}{3} x^{\frac{1}{4}} du}{u} = \frac{4}{3} \int_2^9 \frac{x^{\frac{3}{4}} du}{u}$$

$$= \frac{4}{3} \int_2^9 \frac{x^{\frac{3}{4}} du}{u} = \frac{4}{3} \int_2^9 \frac{u-1}{u} du = \frac{4}{3} \int_2^9 \left(1 - \frac{1}{u}\right) du$$

$$= \frac{4}{3} (u - \ln|u|) \Big|_2^9 = \frac{4}{3} \left(7 - \ln \frac{9}{2}\right)$$

44

$$\int_0^{\frac{\pi}{2}} f(\cos x) dx = \int_0^{\frac{\pi}{2}} f\left(\sin\left(\frac{\pi}{2} - x\right)\right) dx$$

$$u = \frac{\pi}{2} - x \Rightarrow dx = -du$$

$$x = 0 \Rightarrow u = \frac{\pi}{2}$$

$$x = \frac{\pi}{2} \Rightarrow u = 0$$

$$\int_0^{\frac{\pi}{2}} f(\cos x) dx = \int_{\frac{\pi}{2}}^0 -f(\sin u) du = \int_0^{\frac{\pi}{2}} f(\sin u) du = \int_0^{\frac{\pi}{2}} f(\sin x) dx$$

45	$u = 1 - x \Rightarrow dx = -du, x = 1 - u$ $x = 0 \Rightarrow u = 1$ $x = 1 \Rightarrow u = 0$ $\int_0^1 x^a (1-x)^b dx = \int_1^0 -(1-u)^a u^b du$ $= \int_0^1 u^b (1-u)^a du = \int_0^1 x^b (1-x)^a dx$
46	$u = \ln(\ln x) \Rightarrow \frac{du}{dx} = \frac{1}{x} = \frac{1}{x \ln x} \Rightarrow dx = x \ln x du$ $\int \frac{dx}{x \ln x (\ln(\ln x))} = \int \frac{x \ln x du}{u x \ln x} = \ln u  + C = \ln \ln(\ln x)  + C$
47	$u = \sin x + \cos x \Rightarrow \frac{du}{dx} = \cos x - \sin x \Rightarrow dx = \frac{du}{\cos x - \sin x}$ $\int \frac{\sin x - \cos x}{\sin x + \cos x} dx = \int \frac{\sin x - \cos x}{u} \times \frac{du}{\cos x - \sin x}$ $= \int \frac{-(\cos x - \sin x)}{u} \times \frac{du}{\cos x - \sin x}$ $= - \int \frac{1}{u} du = -\ln u  + C$ $= -\ln \sin x + \cos x  + C$
48	$u = 1 + \sin x \Rightarrow \frac{du}{dx} = \cos x \Rightarrow dx = \frac{du}{\cos x}, \sin x = u - 1$ $\int \sin 2x (1 + \sin x)^3 dx = \int 2 \sin x \cos x u^3 \frac{du}{\cos x}$ $= \int 2(u-1)u^3 du$ $= \int (2u^4 - 2u^3) du$ $= \frac{2}{5} u^5 - \frac{1}{2} u^4 + C$ $= \frac{2}{5} (1 + \sin x)^5 - \frac{1}{2} (1 + \sin x)^4 + C$

مسألة اليوم صفحة 47

$$A = \int_1^2 \frac{1}{x^3 + x} dx$$

لإيجاد قيمة هذا التكامل نجزي المقدم  $\frac{1}{x^3+x}$  إلى كسور جزئية يمكن إيجاد تكاملاتها بسهولة كما يأتي:

$$\frac{1}{x^3 + x} = \frac{1}{x(x^2 + 1)} = \frac{A}{x} + \frac{Bx + C}{x^2 + 1}$$

$$\Rightarrow 1 = A(x^2 + 1) + (Bx + C)(x)$$

$$x = 0 \Rightarrow A = 1$$

$$x = 1 \Rightarrow 1 = 2A + B + C \Rightarrow 1 = 2 + B + C$$

$$x = -1 \Rightarrow 1 = 2A + B - C \Rightarrow 1 = 2 + B - C$$

بحل هاتين المعادلتين نجد أن:  $C = 0$  و  $B = -1$

$$A = \int_1^2 \frac{1}{x^3 + x} dx = \int_1^2 \left( \frac{1}{x} + \frac{-x}{x^2 + 1} \right) dx$$

$$= \ln|x| - \frac{1}{2} \ln|x^2 + 1| \Big|_1^2$$

$$= \ln 2 - \frac{1}{2} \ln 5 - \ln 1 + \frac{1}{2} \ln 2$$

$$= \frac{3}{2} \ln 2 - \frac{1}{2} \ln 5 = \frac{1}{2} \ln \frac{8}{5}$$



اتحقق من فهمي صفحة 49

$$\frac{x-7}{x^2-x-6} = \frac{x-7}{(x-3)(x+2)} = \frac{A}{x-3} + \frac{B}{x+2}$$

$$\Rightarrow x-7 = A(x+2) + B(x-3)$$

$$x=3 \Rightarrow A = -\frac{4}{5}$$

$$x=-2 \Rightarrow B = \frac{9}{5}$$

$$\int \frac{x-7}{x^2-x-6} dx = \int \left( \frac{-\frac{4}{5}}{x-3} + \frac{\frac{9}{5}}{x+2} \right) dx$$

$$= -\frac{4}{5} \ln|x-3| + \frac{9}{5} \ln|x+2| + C$$

$$\frac{3x-1}{x^2-1} = \frac{3x-1}{(x-1)(x+1)} = \frac{A}{x-1} + \frac{B}{x+1}$$

$$\Rightarrow 3x-1 = A(x+1) + B(x-1)$$

$$x=1 \Rightarrow A=1$$

$$x=-1 \Rightarrow B=2$$

$$\int \frac{3x-1}{x^2-1} dx = \int \left( \frac{1}{x-1} + \frac{2}{x+1} \right) dx$$

$$= \ln|x-1| + 2 \ln|x+1| + C$$

اتحقق من فهمي صفحة 51

$$\frac{x+4}{(2x-1)(x-1)^2} = \frac{A}{2x-1} + \frac{B}{x-1} + \frac{C}{(x-1)^2}$$

$$\Rightarrow x+4 = A(x-1)^2 + B(2x-1)(x-1) + C(2x-1)$$

$$x = \frac{1}{2} \Rightarrow A = 18$$

$$x = 1 \Rightarrow C = 5$$

$$x = 0 \Rightarrow 4 = A + B - C \Rightarrow B = -9$$

$$\int \frac{x+4}{(2x-1)(x-1)^2} dx = \int \left( \frac{18}{2x-1} + \frac{-9}{x-1} + \frac{5}{(x-1)^2} \right) dx$$

$$= \frac{18}{2} \ln|2x-1| - 9 \ln|x-1| - \frac{5}{x-1} + C$$

$$= 9 \ln|2x-1| - 9 \ln|x-1| - \frac{5}{x-1} + C$$

$$\frac{x^2-2x-4}{x^3-4x^2+4x} = \frac{x^2-2x-4}{x(x-2)^2} = \frac{A}{x-2} + \frac{B}{(x-2)^2} + \frac{C}{x}$$

$$\Rightarrow x^2-2x-4 = Ax(x-2) + Bx + C(x-2)^2$$

$$x = 2 \Rightarrow B = -2$$

$$x = 0 \Rightarrow C = -1$$

$$x = 1 \Rightarrow -5 = -A + B + C \Rightarrow A = 2$$

$$\int \frac{x^2-2x-4}{x^3-4x^2+4x} dx = \int \left( \frac{2}{x-2} + \frac{-2}{(x-2)^2} + \frac{-1}{x} \right) dx$$

$$= 2 \ln|x-2| + \frac{2}{x-2} - \ln|x| + C$$

اتحقق من فهمي صفحة 52

$$\frac{3x + 4}{(x - 3)(x^2 + 4)} = \frac{A}{x - 3} + \frac{Bx + C}{x^2 + 4}$$

$$\Rightarrow 3x + 4 = A(x^2 + 4) + (Bx + C)(x - 3)$$

$$x = 3 \Rightarrow A = 1$$

$$x = 0 \Rightarrow 4 = 4A - 3C \Rightarrow C = 0$$

$$a \quad x = 1 \Rightarrow 7 = 5A - 2B - 2C \Rightarrow B = -1$$

$$\begin{aligned} \int \frac{3x + 4}{(x - 3)(x^2 + 4)} dx &= \int \left( \frac{1}{x - 3} - \frac{x}{x^2 + 4} \right) dx \\ &= \int \left( \frac{1}{x - 3} - \frac{1}{2} \times \frac{2x}{x^2 + 4} \right) dx \\ &= \ln|x - 3| - \frac{1}{2} \ln|x^2 + 4| + C \end{aligned}$$

$$\frac{7x^2 - x + 1}{x^3 + 1} = \frac{7x^2 - x + 1}{(x + 1)(x^2 - x + 1)} = \frac{A}{x + 1} + \frac{Bx + C}{x^2 - x + 1}$$

$$\Rightarrow 7x^2 - x + 1 = A(x^2 - x + 1) + (Bx + C)(x + 1)$$

$$x = -1 \Rightarrow A = 3$$

$$x = 0 \Rightarrow 1 = A + C \Rightarrow C = -2$$

$$b \quad x = 1 \Rightarrow 7 = A + 2B + 2C \Rightarrow B = 4$$

$$\begin{aligned} \int \frac{7x^2 - x + 1}{x^3 + 1} dx &= \int \left( \frac{3}{x + 1} + \frac{4x - 2}{x^2 - x + 1} \right) dx \\ &= \int \left( \frac{3}{x + 1} + 2 \times \frac{2x - 1}{x^2 - x + 1} \right) dx \\ &= 3 \ln|x + 1| + 2 \ln|x^2 - x + 1| + C \end{aligned}$$

اتحقق من فهمي صفحة 53

$$\int \frac{4x^3 - 5}{2x^2 - x - 1} dx = \int \left( 2x + 1 + \frac{3x - 4}{2x^2 - x - 1} \right) dx$$

$$\frac{3x - 4}{2x^2 - x - 1} = \frac{3x - 4}{(2x + 1)(x - 1)} = \frac{A}{2x + 1} + \frac{B}{x - 1}$$

$$\Rightarrow 3x - 4 = A(x - 1) + B(2x + 1)$$

$$x = -\frac{1}{2} \Rightarrow A = \frac{11}{3}$$

$$x = 1 \Rightarrow B = -\frac{1}{3}$$

$$\int \frac{4x^3 - 5}{2x^2 - x - 1} dx = \int \left( 2x + 1 + \frac{\frac{11}{3}}{2x + 1} + \frac{-\frac{1}{3}}{x - 1} \right) dx$$

$$= x^2 + x + \frac{11}{6} \ln|2x + 1| - \frac{1}{3} \ln|x - 1| + C$$

a

$$\int \frac{x^2 + x - 1}{x^2 - x} dx = \int \left( 1 + \frac{2x - 1}{x^2 - x} \right) dx$$

$$= x + \ln|x^2 - x| + C$$

b

اتحقق من فهمي صفحة 54

$$\int_3^4 \frac{2x^3 + x^2 - 2x - 4}{x^2 - 4} dx = \int_3^4 \left( 2x + 1 + \frac{6x}{x^2 - 4} \right) dx$$

$$= (x^2 + x + 3 \ln|x^2 - 4|) \Big|_3^4$$

$$= (20 + 3 \ln 12) - (12 + 3 \ln 5)$$

$$= 8 + 3 \ln \frac{12}{5}$$

a

$$\frac{3x - 10}{x^2 - 7x + 12} = \frac{3x - 10}{(x - 3)(x - 4)} = \frac{A}{x - 3} + \frac{B}{x - 4}$$

$$\Rightarrow 3x - 10 = A(x - 4) + B(x - 3)$$

$$x = 3 \Rightarrow A = 1$$

$$x = 4 \Rightarrow B = 2$$

b

$$\begin{aligned} \int_5^6 \frac{3x - 10}{x^2 - 7x + 12} dx &= \int_5^6 \left( \frac{1}{x - 3} + \frac{2}{x - 4} \right) dx \\ &= (\ln|x - 3| + 2 \ln|x - 4|) \Big|_5^6 \\ &= \ln 3 + 2 \ln 2 - (\ln 2 + 2 \ln 1) \\ &= \ln 3 + \ln 2 = \ln 6 \end{aligned}$$

اتحقق من فهمي صفحة 57

$$u = \tan x \Rightarrow \frac{du}{dx} = \sec^2 x \Rightarrow dx = \frac{du}{\sec^2 x}$$

$$\int \frac{\sec^2 x}{\tan^2 x - 1} dx = \int \frac{\sec^2 x}{u^2 - 1} \frac{du}{\sec^2 x} = \int \frac{1}{u^2 - 1} du$$

$$\frac{1}{u^2 - 1} = \frac{1}{(u - 1)(u + 1)} = \frac{A}{u - 1} + \frac{B}{u + 1}$$

$$\Rightarrow 1 = A(u + 1) + B(u - 1)$$

$$u = 1 \Rightarrow A = \frac{1}{2}$$

$$u = -1 \Rightarrow B = -\frac{1}{2}$$

$$\int \frac{1}{u^2 - 1} du = \int \left( \frac{\frac{1}{2}}{u - 1} + \frac{-\frac{1}{2}}{u + 1} \right) du$$

$$= \frac{1}{2} \ln|u - 1| - \frac{1}{2} \ln|u + 1| + C = \frac{1}{2} \ln \left| \frac{u - 1}{u + 1} \right| + C$$

$$\Rightarrow \int \frac{\sec^2 x}{\tan^2 x - 1} dx = \frac{1}{2} \ln \left| \frac{\tan x - 1}{\tan x + 1} \right| + C$$

$$u = e^x \Rightarrow \frac{du}{dx} = e^x \Rightarrow dx = \frac{du}{e^x}$$

$$\int \frac{e^x}{(e^x - 1)(e^x + 4)} dx = \int \frac{e^x}{(u - 1)(u + 4)} \frac{du}{e^x}$$

$$= \int \frac{1}{(u - 1)(u + 4)} du$$

$$\frac{1}{(u - 1)(u + 4)} = \frac{A}{u - 1} + \frac{B}{u + 4}$$

$$\Rightarrow 1 = A(u + 4) + B(u - 1) +$$

b  $u = 1 \Rightarrow A = \frac{1}{5}$

$$u = -4 \Rightarrow B = -\frac{1}{5}$$

$$\int \frac{1}{(u - 1)(u + 4)} du = \int \left( \frac{\frac{1}{5}}{u - 1} + \frac{-\frac{1}{5}}{u + 4} \right) du$$

$$= \frac{1}{5} \ln|u - 1| - \frac{1}{5} \ln|u + 4| + C = \frac{1}{5} \ln \left| \frac{u - 1}{u + 4} \right| + C$$

$$\Rightarrow \int \frac{e^x}{(e^x - 1)(e^x + 4)} dx = \frac{1}{5} \ln \left| \frac{e^x - 1}{e^x + 4} \right| + C$$

أنتدرب وأحل المسائل صفحة 57

$$\frac{x - 10}{x(x + 5)} = \frac{A}{x} + \frac{B}{x + 5}$$

$$\Rightarrow x - 10 = A(x + 5) + Bx$$

$$x = 0 \Rightarrow A = -2$$

$$x = -5 \Rightarrow B = 3$$

$$\int \frac{x - 10}{x(x + 5)} dx = \int \left( \frac{-2}{x} + \frac{3}{x + 5} \right) dx$$

$$= -2 \ln|x| + 3 \ln|x + 5| + C$$

1

2

$$\frac{2}{1-x^2} = \frac{2}{(1-x)(1+x)} = \frac{A}{1-x} + \frac{B}{1+x}$$

$$\Rightarrow 2 = A(1+x) + B(1-x)$$

$$x = 1 \Rightarrow A = 1$$

$$x = -1 \Rightarrow B = 1$$

$$\begin{aligned} \int \frac{2}{1-x^2} dx &= \int \left( \frac{1}{1-x} + \frac{1}{1+x} \right) dx \\ &= -\ln|1-x| + \ln|1+x| + C \\ &= \ln \left| \frac{1+x}{1-x} \right| + C \end{aligned}$$

3

$$\frac{4}{(x-2)(x-4)} = \frac{A}{x-2} + \frac{B}{x-4}$$

$$\Rightarrow 4 = A(x-4) + B(x-2)$$

$$x = 2 \Rightarrow A = -2$$

$$x = 4 \Rightarrow B = 2$$

$$\begin{aligned} \int \frac{4}{(x-2)(x-4)} dx &= \int \left( \frac{-2}{x-2} + \frac{2}{x-4} \right) dx \\ &= -2 \ln|x-2| + 2 \ln|x-4| + C \\ &= 2 \ln \left| \frac{x-4}{x-2} \right| + C \end{aligned}$$

4

$$\frac{3x+4}{x^2+x} = \frac{3x+4}{x(x+1)} = \frac{A}{x} + \frac{B}{x+1}$$

$$\Rightarrow 3x+4 = A(x+1) + Bx$$

$$x = 0 \Rightarrow A = 4$$

$$x = -1 \Rightarrow B = -1$$

$$\begin{aligned} \int \frac{3x+4}{x^2+x} dx &= \int \left( \frac{4}{x} + \frac{-1}{x+1} \right) dx \\ &= 4 \ln|x| - \ln|x+1| + C \end{aligned}$$

5

$$\int \frac{x^2}{x^2 - 4} dx = \int \left( 1 + \frac{4}{x^2 - 4} \right) dx$$

$$\frac{4}{x^2 - 4} = \frac{4}{(x - 2)(x + 2)} = \frac{A}{x - 2} + \frac{B}{x + 2}$$

$$\Rightarrow 4 = A(x + 2) + B(x - 2)$$

$$x = 2 \Rightarrow A = 1$$

$$x = -2 \Rightarrow B = -1$$

$$\int \frac{x^2}{x^2 - 4} dx = \int \left( 1 + \frac{1}{x - 2} + \frac{-1}{x + 2} \right) dx$$

$$= x + \ln|x - 2| - \ln|x + 2| + C$$

$$= x + \ln \left| \frac{x - 2}{x + 2} \right| + C$$

6

$$\frac{3x - 6}{x^2 + x - 2} = \frac{3x - 6}{(x + 2)(x - 1)} = \frac{A}{x + 2} + \frac{B}{x - 1}$$

$$\Rightarrow 3x - 6 = A(x - 1) + B(x + 2)$$

$$x = -2 \Rightarrow A = 4$$

$$x = 1 \Rightarrow B = -1$$

$$\int \frac{3x - 6}{x^2 + x - 2} dx = \int \left( \frac{4}{x + 2} + \frac{-1}{x - 1} \right) dx$$

$$= 4 \ln|x + 2| - \ln|x - 1| + C$$

7

$$\frac{4x + 10}{4x^2 - 4x - 3} = \frac{4x + 10}{(2x - 3)(2x + 1)} = \frac{A}{2x - 3} + \frac{B}{2x + 1}$$

$$\Rightarrow 4x + 10 = A(2x + 1) + B(2x - 3)$$

$$x = \frac{3}{2} \Rightarrow A = 4$$

$$x = -\frac{1}{2} \Rightarrow B = -2$$

$$\int \frac{4x + 10}{4x^2 - 4x - 3} dx = \int \left( \frac{4}{2x - 3} + \frac{-2}{2x + 1} \right) dx$$

$$= 2 \ln|2x - 3| - \ln|2x + 1| + C$$



8	$\frac{2x^2 + 9x - 11}{x^3 + 2x^2 - 5x - 6} = \frac{2x^2 + 9x - 11}{(x-2)(x+1)(x+3)} = \frac{A}{x-2} + \frac{B}{x+1} + \frac{C}{x+3}$ $\Rightarrow 2x^2 + 9x - 11 = A(x+1)(x+3) + B(x-2)(x+3) + C(x-2)(x+1)$ $x = 2 \Rightarrow A = 1$ $x = -1 \Rightarrow B = 3$ $x = -3 \Rightarrow C = -2$ $\int \frac{2x^2 + 9x - 11}{x^3 + 2x^2 - 5x - 6} dx = \int \left( \frac{1}{x-2} + \frac{3}{x+1} + \frac{-2}{x+3} \right) dx$ $= \ln x-2  + 3 \ln x+1  - 2 \ln x+3  + C$
9	$\frac{4x}{x^2 - 2x - 3} = \frac{4x}{(x-3)(x+1)} = \frac{A}{x-3} + \frac{B}{x+1}$ $\Rightarrow 4x = A(x+1) + B(x-3)$ $x = 3 \Rightarrow A = 3$ $x = -1 \Rightarrow B = 1$ $\int \frac{4x}{x^2 - 2x - 3} dx = \int \left( \frac{3}{x-3} + \frac{1}{x+1} \right) dx$ $= 3 \ln x-3  + \ln x+1  + C$
10	$\frac{8x^2 - 19x + 1}{(2x+1)(x-2)^2} = \frac{A}{2x+1} + \frac{B}{x-2} + \frac{C}{(x-2)^2}$ $\Rightarrow 8x^2 - 19x + 1 = A(x-2)^2 + B(2x+1)(x-2) + C(2x+1)$ $x = -\frac{1}{2} \Rightarrow A = 2$ $x = 2 \Rightarrow C = -1$ $x = 0 \Rightarrow 1 = 4A - 2B + C \Rightarrow B = 3$ $\int \frac{8x^2 - 19x + 1}{(2x+1)(x-2)^2} dx = \int \left( \frac{2}{2x+1} + \frac{3}{x-2} + \frac{-1}{(x-2)^2} \right) dx$ $= \ln 2x+1  + 3 \ln x-2  + \frac{1}{x-2} + C$

11

$$\int \frac{9x^2 - 3x + 2}{9x^2 - 4} dx = \int \left( 1 + \frac{6 - 3x}{9x^2 - 4} \right) dx$$

$$\frac{6 - 3x}{9x^2 - 4} = \frac{6 - 3x}{(3x - 2)(3x + 2)} = \frac{A}{3x - 2} + \frac{B}{3x + 2}$$

$$\Rightarrow 6 - 3x = A(3x + 2) + B(3x - 2)$$

$$x = \frac{2}{3} \Rightarrow A = 1$$

$$x = -\frac{2}{3} \Rightarrow B = -2$$

$$\int \frac{9x^2 - 3x + 2}{9x^2 - 4} dx = \int \left( 1 + \frac{1}{3x - 2} + \frac{-2}{3x + 2} \right) dx$$

$$= x + \frac{1}{3} \ln|3x - 2| - \frac{2}{3} \ln|3x + 2| + C$$

12

$$\int \frac{x^3 + 2x^2 + 2}{x^2 + x} dx = \int \left( x + 1 + \frac{2 - x}{x^2 + x} \right) dx$$

$$\frac{2 - x}{x^2 + x} = \frac{2 - x}{x(x + 1)} = \frac{A}{x} + \frac{B}{x + 1}$$

$$\Rightarrow 2 - x = A(x + 1) + Bx$$

$$x = 0 \Rightarrow A = 2$$

$$x = -1 \Rightarrow B = -3$$

$$\int \frac{x^3 + 2x^2 + 2}{x^2 + x} dx = \int \left( x + 1 + \frac{2}{x} + \frac{-3}{x + 1} \right) dx$$

$$= \frac{1}{2}x^2 + x + 2 \ln|x| - 3 \ln|x + 1| + C$$

13

$$\int \frac{x^2 + x + 2}{3 - 2x - x^2} dx = \int \left( -1 + \frac{5 - x}{-x^2 - 2x + 3} \right) dx$$

$$\frac{5 - x}{-x^2 - 2x + 3} = \frac{x - 5}{(x + 3)(x - 1)} = \frac{A}{x + 3} + \frac{B}{x - 1}$$

$$\Rightarrow x - 5 = A(x - 1) + B(x + 3)$$

$$x = -3 \Rightarrow A = 2$$

$$x = 1 \Rightarrow B = -1$$

$$\int \frac{x^2 + x + 2}{3 - 2x - x^2} dx = \int \left( -1 + \frac{2}{x + 3} + \frac{-1}{x - 1} \right) dx$$

$$= -x + 2 \ln|x + 3| - \ln|x - 1| + C$$

14

$$\frac{2x - 4}{(x^2 + 4)(x + 2)} = \frac{A}{x + 2} + \frac{Bx + C}{x^2 + 4}$$

$$\Rightarrow 2x - 4 = A(x^2 + 4) + (Bx + C)(x + 2)$$

$$x = -2 \Rightarrow A = -1$$

$$x = 0 \Rightarrow -4 = 4A + 2C \Rightarrow C = 0$$

$$x = 1 \Rightarrow -2 = 5A + 3B + 3C \Rightarrow B = 1$$

$$\int \frac{2x - 4}{(x^2 + 4)(x + 2)} dx = \int \left( \frac{-1}{x + 2} + \frac{x}{x^2 + 4} \right) dx$$

$$= -\ln|x + 2| + \frac{1}{2} \ln|x^2 + 4| + C$$

15

$$\int \frac{x^3 - 4x^2 - 2}{x^3 + x^2} dx = \int \left( 1 + \frac{-5x^2 - 2}{x^3 + x^2} \right) dx$$

$$\frac{-5x^2 - 2}{x^3 + x^2} = \frac{-5x^2 - 2}{x^2(x+1)} = \frac{A}{x} + \frac{B}{x^2} + \frac{C}{x+1}$$

$$\Rightarrow -5x^2 - 2 = Ax(x+1) + B(x+1) + Cx^2$$

$$x = 0 \Rightarrow B = -2$$

$$x = -1 \Rightarrow C = -7$$

$$x = 1 \Rightarrow -7 = 2A + 2B + C \Rightarrow A = 2$$

$$\int \frac{x^3 - 4x^2 - 2}{x^3 + x^2} dx = \int \left( 1 + \frac{2}{x} + \frac{-2}{x^2} + \frac{-7}{x+1} \right) dx$$

$$= x + 2 \ln|x| + \frac{2}{x} - 7 \ln|x+1| + C$$

16

$$\frac{3-x}{2-5x-12x^2} = \frac{x-3}{12x^2+5x-2} = \frac{x-3}{(4x-1)(3x+2)} = \frac{A}{4x-1} + \frac{B}{3x+2}$$

$$\Rightarrow x-3 = A(3x+2) + B(4x-1)$$

$$x = \frac{1}{4} \Rightarrow A = -1$$

$$x = -\frac{2}{3} \Rightarrow B = 1$$

$$\int \frac{3-x}{2-5x-12x^2} dx = \int \left( \frac{-1}{4x-1} + \frac{1}{3x+2} \right) dx$$

$$= -\frac{1}{4} \ln|4x-1| + \frac{1}{3} \ln|3x+2| + C$$

$$\frac{3x^3 - x^2 + 12x - 6}{x^4 + 6x^2} = \frac{3x^3 - x^2 + 12x - 6}{x^2(x^2 + 6)} = \frac{A}{x} + \frac{B}{x^2} + \frac{Cx + D}{x^2 + 6}$$

$$\Rightarrow 3x^3 - x^2 + 12x - 6 = Ax(x^2 + 6) + B(x^2 + 6) + (Cx + D)(x^2)$$

$$x = 0 \Rightarrow B = -1$$

$$x = 1 \Rightarrow 8 = 7A + 7B + C + D \dots \dots \dots (1)$$

$$x = -1 \Rightarrow -22 = -7A + 7B - C + D \dots \dots \dots (2)$$

$$x = 2 \Rightarrow 38 = 20A + 10B + 8C + 4D \dots \dots \dots (3)$$

17

بجمع (1) ، و (2) ينتج أن:  $14B + 2D = -14$  ، وبتعويض  $B = -1$  ، نجد أن  $D = 0$   
وبطرح (2) من (1) ينتج أن:  $14A + 2C = 30$  أي أن  $C = 15 - 7A$   
وبالتعويض في (3) ينتج أن:

$$20A - 10 + 8(15 - 7A) = 38$$

$$-36A = -72 \Rightarrow A = 2$$

$$C = 15 - 7(2) = 1$$

$$\int \frac{3x^3 - x^2 + 12x - 6}{x^4 + 6x^2} dx = \int \left( \frac{2}{x} + \frac{-1}{x^2} + \frac{x}{x^2 + 6} \right) dx$$

$$= 2 \ln|x| + \frac{1}{x} + \frac{1}{2} \ln|x^2 + 6| + C$$

$$\frac{5x - 2}{(x - 2)^2} = \frac{A}{x - 2} + \frac{B}{(x - 2)^2}$$

$$\Rightarrow 5x - 2 = A(x - 2) + B$$

$$x = 2 \Rightarrow B = 8$$

$$x = 0 \Rightarrow -2 = -2A + B \Rightarrow A = 5$$

18

$$\int \frac{5x - 2}{(x - 2)^2} dx = \int \left( \frac{5}{x - 2} + \frac{8}{(x - 2)^2} \right) dx$$

$$= 5 \ln|x - 2| - \frac{8}{x - 2} + C$$

ملاحظة: يمكن حل هذا التكامل بالتعويض  $u = x - 2$

كما يمكن حله بالأجزاء حيث:  $u = 5x - 2, dv = (x - 2)^{-2}$

19

$$\frac{6 + 3x - x^2}{x^3 + 2x^2} = \frac{6 + 3x - x^2}{x^2(x + 2)} = \frac{A}{x} + \frac{B}{x^2} + \frac{C}{x + 2}$$

$$\Rightarrow 6 + 3x - x^2 = Ax(x + 2) + B(x + 2) + C(x^2)$$

$$x = 0 \Rightarrow B = 3$$

$$x = -2 \Rightarrow C = -1$$

$$x = 1 \Rightarrow 8 = 3A + 3B + C \Rightarrow A = 0$$

$$\int_2^4 \frac{6 + 3x - x^2}{x^3 + 2x^2} dx = \int_2^4 \left( \frac{3}{x^2} + \frac{-1}{x + 2} \right) dx$$

$$= \left( -\frac{3}{x} - \ln|x + 2| \right) \Big|_2^4$$

$$= -\frac{3}{4} - \ln 6 + \frac{3}{2} + \ln 4 = \frac{3}{4} + \ln \frac{2}{3}$$

20

$$\frac{9x^2 + 4}{9x^2 - 4} = 1 + \frac{8}{9x^2 - 4}$$

$$\frac{8}{9x^2 - 4} = \frac{8}{(3x - 2)(3x + 2)} = \frac{A}{3x - 2} + \frac{B}{3x + 2}$$

$$\Rightarrow 8 = A(3x + 2) + B(3x - 2)$$

$$x = \frac{2}{3} \Rightarrow A = 2$$

$$x = -\frac{2}{3} \Rightarrow B = -2$$

$$\int_{-\frac{1}{3}}^{\frac{1}{3}} \frac{9x^2 + 4}{9x^2 - 4} dx = \int_{-\frac{1}{3}}^{\frac{1}{3}} \left( 1 + \frac{2}{3x - 2} + \frac{-2}{3x + 2} \right) dx$$

$$= \left( x + \frac{2}{3} \ln|3x - 2| - \frac{2}{3} \ln|3x + 2| \right) \Big|_{-\frac{1}{3}}^{\frac{1}{3}}$$

$$= \left( x + \frac{2}{3} \ln \left| \frac{3x - 2}{3x + 2} \right| \right) \Big|_{-\frac{1}{3}}^{\frac{1}{3}}$$

$$= \frac{1}{3} + \frac{2}{3} \ln \frac{1}{3} + \frac{1}{3} - \frac{2}{3} \ln 3 = \frac{2}{3} - \frac{4}{3} \ln 3$$

21

$$\frac{17 - 5x}{(2x + 3)(2 - x)^2} = \frac{A}{2x + 3} + \frac{B}{2 - x} + \frac{C}{(2 - x)^2}$$

$$\Rightarrow 17 - 5x = A(2 - x)^2 + B(2 - x)(2x + 3) + C(2x + 3)$$

$$x = -\frac{3}{2} \Rightarrow A = 2$$

$$x = 2 \Rightarrow C = 1$$

$$x = 0 \Rightarrow 17 = 4A + 6B + 3C \Rightarrow B = 1$$

$$\int_0^1 \frac{17 - 5x}{(2x + 3)(2 - x)^2} dx = \int_0^1 \left( \frac{2}{2x + 3} + \frac{1}{2 - x} + \frac{1}{(2 - x)^2} \right) dx$$

$$= \left( \ln|2x + 3| - \ln|2 - x| + \frac{1}{2 - x} \right) \Big|_0^1$$

$$= \ln 5 + 1 - \ln 3 + \ln 2 - \frac{1}{2} = \frac{1}{2} + \ln \frac{10}{3}$$

22

$$\frac{4}{16x^2 + 8x - 3} = \frac{4}{(4x - 1)(4x + 3)} = \frac{A}{4x - 1} + \frac{B}{4x + 3}$$

$$\Rightarrow 4 = A(4x + 3) + B(4x - 1)$$

$$x = \frac{1}{4} \Rightarrow A = 1$$

$$x = -\frac{3}{4} \Rightarrow B = -1$$

$$\int_1^4 \frac{4}{16x^2 + 8x - 3} dx = \int_1^4 \left( \frac{1}{4x - 1} + \frac{-1}{4x + 3} \right) dx$$

$$= \left( \frac{1}{4} \ln|4x - 1| - \frac{1}{4} \ln|4x + 3| \right) \Big|_1^4$$

$$= \left( \frac{1}{4} \ln \left| \frac{4x - 1}{4x + 3} \right| \right) \Big|_1^4$$

$$= \frac{1}{4} \left( \ln \frac{15}{19} - \ln \frac{3}{7} \right) = \frac{1}{4} \ln \frac{35}{19}$$

23

$$\frac{5x + 5}{x^2 + x - 6} = \frac{5x + 5}{(x - 2)(x + 3)} = \frac{A}{x - 2} + \frac{B}{x + 3}$$

$$\Rightarrow 5x + 5 = A(x + 3) + B(x - 2)$$

$$x = 2 \Rightarrow A = 3$$

$$x = -3 \Rightarrow B = 2$$

$$\begin{aligned} \int_3^4 \frac{5x + 5}{x^2 + x - 6} dx &= \int_3^4 \left( \frac{3}{x - 2} + \frac{2}{x + 3} \right) dx \\ &= (3 \ln|x - 2| + 2 \ln|x + 3|) \Big|_3^4 \\ &= 3 \ln 2 + 2 \ln 7 - 2 \ln 6 = \ln \frac{98}{9} \end{aligned}$$

24

$$\frac{4}{x^3 - 4x^2 + 4x} = \frac{4}{x(x - 2)^2} = \frac{A}{x} + \frac{B}{x - 2} + \frac{C}{(x - 2)^2}$$

$$\Rightarrow 4 = A(x - 2)^2 + Bx(x - 2) + Cx$$

$$x = 0 \Rightarrow A = 1$$

$$x = 2 \Rightarrow C = 2$$

$$x = 1 \Rightarrow 4 = A - B + C \Rightarrow B = -1$$

$$\begin{aligned} A &= \int_3^4 \frac{4}{x^3 - 4x^2 + 4x} dx = \int_3^4 \left( \frac{1}{x} + \frac{-1}{x - 2} + \frac{2}{(x - 2)^2} \right) dx \\ &= \left( \ln|x| - \ln|x - 2| - \frac{2}{x - 2} \right) \Big|_3^4 \\ &= \left( \ln \left| \frac{x}{x - 2} \right| - \frac{2}{x - 2} \right) \Big|_3^4 \\ &= \ln 2 - 1 - \ln 3 + 2 = 1 + \ln \frac{2}{3} \end{aligned}$$



25

$$A = \int_0^1 \frac{1}{x^2 - 5x + 6} dx$$

$$\frac{1}{x^2 - 5x + 6} = \frac{1}{(x-3)(x-2)} = \frac{A}{x-3} + \frac{B}{x-2}$$

$$\Rightarrow 1 = A(x-2) + B(x-3)$$

$$x = 3 \Rightarrow A = 1$$

$$x = 2 \Rightarrow B = -1$$

$$A = \int_0^1 \frac{1}{x^2 - 5x + 6} dx = \int_0^1 \left( \frac{1}{x-3} + \frac{-1}{x-2} \right) dx$$

$$= (\ln|x-3| - \ln|x-2|) \Big|_0^1$$

$$= \ln \left| \frac{x-3}{x-2} \right| \Big|_0^1$$

$$= \ln 2 - \ln \frac{3}{2} = \ln \frac{4}{3}$$

26

$$A = \int_1^2 \frac{x^2 + 1}{3x - x^2} dx$$

$$\frac{x^2 + 1}{3x - x^2} = -1 + \frac{3x + 1}{3x - x^2}$$

$$\frac{3x + 1}{3x - x^2} = \frac{3x + 1}{x(3 - x)} = \frac{A}{x} + \frac{B}{3 - x}$$

$$\Rightarrow 3x + 1 = A(3 - x) + Bx$$

$$x = 0 \Rightarrow A = \frac{1}{3}$$

$$x = 3 \Rightarrow B = \frac{10}{3}$$

$$\begin{aligned} A &= \int_1^2 \frac{x^2 + 1}{3x - x^2} dx = \int_1^2 \left( -1 + \frac{1}{3} + \frac{10}{3(3 - x)} \right) dx \\ &= \left( -x + \frac{1}{3} \ln|x| - \frac{10}{3} \ln|3 - x| \right) \Big|_1^2 \\ &= -2 + \frac{1}{3} \ln 2 + 1 + \frac{10}{3} \ln 2 \\ &= -1 + \frac{11}{3} \ln 2 \end{aligned}$$

27

$$f(x) = 0 \Rightarrow 4x - 5 = 0 \Rightarrow x = \frac{5}{4} \Rightarrow A \left( \frac{5}{4}, 0 \right)$$

28

$$A = \int_0^{\frac{5}{4}} \frac{4x - 5}{2x^2 - 5x - 3} dx = \ln|2x^2 - 5x - 3| \Big|_0^{\frac{5}{4}} = \ln \frac{49}{8} - \ln 3 = \ln \frac{49}{24}$$

ملاحظة: البسط هو مشتقة المقام، فلا داعي لتجزئة الكسر.

29

$$u = \cos x \Rightarrow \frac{du}{dx} = -\sin x \Rightarrow dx = \frac{du}{-\sin x}$$

$$\int \frac{\sin x}{\cos x + \cos^2 x} dx = \int \frac{\sin x}{u + u^2} \times \frac{du}{-\sin x} = \int \frac{-1}{u + u^2} du$$

$$\frac{-1}{u + u^2} = \frac{-1}{u(1 + u)} = \frac{A}{u} + \frac{B}{1 + u}$$

$$\Rightarrow -1 = A(1 + u) + Bu$$

$$u = 0 \Rightarrow A = -1$$

$$u = -1 \Rightarrow B = 1$$

$$\int \frac{-1}{u + u^2} du = \int \left( \frac{-1}{u} + \frac{1}{1 + u} \right) du$$

$$= -\ln|u| + \ln|1 + u| + C$$

$$\Rightarrow \int \frac{\sin x}{\cos x + \cos^2 x} dx = -\ln|\cos x| + \ln|1 + \cos x| + C$$

$$= \ln \left| \frac{1 + \cos x}{\cos x} \right| + C = \ln|1 + \sec x| + C$$

30

$$u = \sqrt{x} \Rightarrow u^2 = x \Rightarrow dx = 2u du$$

$$\int \frac{1}{x^2 + x\sqrt{x}} dx = \int \frac{1}{u^4 + u^3} 2u du = \int \frac{2}{u^3 + u^2} du$$

$$\frac{2}{u^3 + u^2} = \frac{2}{u^2(u+1)} = \frac{A}{u} + \frac{B}{u^2} + \frac{C}{u+1}$$

$$\Rightarrow 2 = Au(u+1) + B(u+1) + Cu^2$$

$$u = 0 \Rightarrow B = 2$$

$$u = -1 \Rightarrow C = 2$$

$$u = 1 \Rightarrow 2 = 2A + 2B + C \Rightarrow A = -2$$

$$\int \frac{2}{u^3 + u^2} du = \int \left( \frac{-2}{u} + \frac{2}{u^2} + \frac{2}{u+1} \right) du$$

$$= -2 \ln|u| - \frac{2}{u} + 2 \ln|u+1| + C$$

$$= 2 \ln \left| \frac{u+1}{u} \right| - \frac{2}{u} + C$$

$$\Rightarrow \int \frac{1}{x^2 + x\sqrt{x}} dx = 2 \ln \left( \frac{\sqrt{x}+1}{\sqrt{x}} \right) - \frac{2}{\sqrt{x}} + C$$

$$u = e^x \Rightarrow \frac{du}{dx} = e^x = u \Rightarrow dx = \frac{du}{u}$$

$$\int \frac{e^{2x}}{e^{2x} + 3e^x + 2} dx = \int \frac{u^2}{u^2 + 3u + 2} \times \frac{du}{u} = \int \frac{u}{u^2 + 3u + 2} du$$

$$\frac{u}{u^2 + 3u + 2} = \frac{u}{(u+1)(u+2)} = \frac{A}{u+1} + \frac{B}{u+2}$$

$$\Rightarrow u = A(u+2) + B(u+1)$$

$$u = -1 \Rightarrow A = -1$$

$$u = -2 \Rightarrow B = 2$$

$$\int \frac{u}{u^2 + 3u + 2} du = \int \left( \frac{-1}{u+1} + \frac{2}{u+2} \right) du$$

$$= -\ln|u+1| + 2\ln|u+2| + C$$

$$\Rightarrow \int \frac{e^{2x}}{e^{2x} + 3e^x + 2} dx = -\ln(e^x + 1) + 2\ln(e^x + 2) + C$$

32

$$u = \sin x \Rightarrow \frac{du}{dx} = \cos x \Rightarrow dx = \frac{du}{\cos x}$$

$$\int \frac{\cos x}{\sin x (\sin^2 x - 4)} dx = \int \frac{\cos x}{u(u^2 - 4)} \times \frac{du}{\cos x} = \int \frac{1}{u(u^2 - 4)} du$$

$$\frac{1}{u(u^2 - 4)} = \frac{1}{u(u - 2)(u + 2)} = \frac{A}{u} + \frac{B}{u - 2} + \frac{C}{u + 2}$$

$$\Rightarrow 1 = A(u - 2)(u + 2) + Bu(u + 2) + Cu(u - 2)$$

$$u = 0 \Rightarrow A = -\frac{1}{4}$$

$$u = 2 \Rightarrow B = \frac{1}{8}$$

$$u = -2 \Rightarrow C = \frac{1}{8}$$

$$\int \frac{1}{u(u^2 - 4)} du = \int \left( \frac{-\frac{1}{4}}{u} + \frac{\frac{1}{8}}{u - 2} + \frac{\frac{1}{8}}{u + 2} \right) du$$

$$= -\frac{1}{4} \ln|u| + \frac{1}{8} \ln|u - 2| + \frac{1}{8} \ln|u + 2| + C$$

$$\Rightarrow \int \frac{\cos x}{\sin x (\sin^2 x - 4)} dx$$

$$= -\frac{1}{4} \ln|\sin x| + \frac{1}{8} \ln|\sin x - 2| + \frac{1}{8} \ln|\sin x + 2| + C$$

الحل الأول بضرب كل من البسط والمقام بـ  $e^{-x}$

$$\int \frac{1}{1+e^x} dx = \int \frac{e^{-x}}{e^{-x}+1} dx = - \int \frac{-e^{-x}}{e^{-x}+1} dx = -\ln(e^{-x}+1) + C$$

الحل الثاني بالتعويض:

$$u = e^x \Rightarrow \frac{du}{dx} = e^x = u \Rightarrow dx = \frac{du}{u}$$

$$\int \frac{1}{1+e^x} dx = \int \frac{1}{1+u} \times \frac{du}{u} = \int \frac{1}{u(1+u)} du$$

$$\frac{1}{u(1+u)} = \frac{A}{u} + \frac{B}{u+1}$$

$$\Rightarrow 1 = A(1+u) + Bu$$

$$u = 0 \Rightarrow A = 1$$

$$u = -1 \Rightarrow B = -1$$

$$\int \frac{1}{u(1+u)} du = \int \left( \frac{1}{u} + \frac{-1}{u+1} \right) du = \ln|u| - \ln|u+1| + C$$

$$\Rightarrow \int \frac{1}{1+e^x} dx = \ln e^x - \ln(e^x + 1) + C$$

$$= \ln \left( \frac{e^x + 1}{e^x} \right)^{-1} + C = -\ln(e^{-x} + 1) + C$$

$$\int_0^{\ln 2} \frac{1}{1+e^x} dx = \ln e^x - \ln(e^x + 1) \Big|_0^{\ln 2}$$

34

$$= \ln e^{\ln 2} - \ln(e^{\ln 2} + 1) - (\ln e^0 - \ln(e^0 + 1))$$

$$= \ln 2 - \ln 3 - 0 + \ln 2 = \ln 4 - \ln 3 = \ln \frac{4}{3}$$

35

$$\frac{5x^2 - 8x + 1}{2x(x-1)^2} = \frac{A}{2x} + \frac{B}{x-1} + \frac{C}{(x-1)^2}$$

$$\Rightarrow 5x^2 - 8x + 1 = A(x-1)^2 + B(2x)(x-1) + C(2x)$$

$$x = 0 \Rightarrow A = 1$$

$$x = 1 \Rightarrow C = -1$$

$$x = -1 \Rightarrow 14 = 4A + 4B - 2C \Rightarrow B = 2$$

$$\int_4^9 \frac{5x^2 - 8x + 1}{2x(x-1)^2} dx = \int_4^9 \left( \frac{1}{2x} + \frac{2}{x-1} + \frac{-1}{(x-1)^2} \right) dx$$

$$= \left( \frac{1}{2} \ln|x| + 2 \ln|x-1| + \frac{1}{x-1} \right) \Big|_4^9$$

$$= \frac{1}{2} \ln 9 + 2 \ln 8 + \frac{1}{8} - \frac{1}{2} \ln 4 - 2 \ln 3 - \frac{1}{3}$$

$$= \ln 3 + \ln 64 + \frac{1}{8} - \ln 2 - \ln 9 - \frac{1}{3}$$

$$= \ln \frac{3(64)}{2(9)} - \frac{5}{24} = \ln \frac{32}{3} - \frac{5}{24}$$



$$u = \sqrt{x} \Rightarrow u^2 = x \Rightarrow dx = 2u du$$

$$x = 9 \Rightarrow u = 3$$

$$x = 16 \Rightarrow u = 4$$

$$\int_9^{16} \frac{2\sqrt{x}}{x-4} dx = \int_3^4 \frac{2u}{u^2-4} \cdot 2u du = \int_3^4 \frac{4u^2}{u^2-4} du$$

$$= \int_3^4 \left( 4 + \frac{16}{u^2-4} \right) du$$

$$\frac{16}{u^2-4} = \frac{16}{(u-2)(u+2)} = \frac{A}{u-2} + \frac{B}{u+2}$$

$$\Rightarrow 16 = A(u+2) + B(u-2)$$

$$u = 2 \Rightarrow A = 4$$

$$u = -2 \Rightarrow B = -4$$

$$\int_3^4 \left( 4 + \frac{16}{u^2-4} \right) du = \int_3^4 \left( 4 + \frac{4}{u-2} + \frac{-4}{u+2} \right) du$$

$$= (4u + 4 \ln|u-2| - 4 \ln|u+2|) \Big|_3^4$$

$$= 16 + 4 \ln 2 - 4 \ln 6 - 12 - 4 \ln 1 + 4 \ln 5$$

$$= 4 + 4 \ln \frac{5}{3} = 4 \left( 1 + \ln \frac{5}{3} \right)$$

$$\Rightarrow \int_9^{16} \frac{2\sqrt{x}}{x-4} dx = 4 \left( 1 + \ln \frac{5}{3} \right)$$

36

$$\frac{4x^2 + 9x + 4}{2x^2 + 5x + 3} = 2 - \frac{x + 2}{2x^2 + 5x + 3}$$

$$\frac{x + 2}{2x^2 + 5x + 3} = \frac{x + 2}{(x + 1)(2x + 3)} = \frac{A}{x + 1} + \frac{B}{2x + 3}$$

$$\Rightarrow x + 2 = A(2x + 3) + B(x + 1)$$

$$x = -1 \Rightarrow A = 1$$

$$x = -\frac{3}{2} \Rightarrow B = -1$$

37

$$\int_0^1 \frac{4x^2 + 9x + 4}{2x^2 + 5x + 3} dx = \int_0^1 \left( 2 - \frac{1}{x + 1} + \frac{1}{2x + 3} \right) dx$$

$$= \left( 2x - \ln|x + 1| + \frac{1}{2} \ln|2x + 3| \right) \Big|_0^1$$

$$= 2 - \ln 2 + \frac{1}{2} \ln 5 - 0 + \ln 1 - \frac{1}{2} \ln 3$$

$$= 2 - \frac{1}{2} \ln 4 + \frac{1}{2} \ln 5 - \frac{1}{2} \ln 3$$

$$= 2 + \frac{1}{2} (\ln 5 - \ln 4 - \ln 3) = 2 + \frac{1}{2} \ln \frac{5}{12}$$

$$\int \frac{\sqrt{1+\sqrt{x}}}{x} dx$$

$$u = \sqrt{1+\sqrt{x}} \Rightarrow \frac{du}{dx} = \frac{1}{4\sqrt{x}\sqrt{1+\sqrt{x}}}, \quad 1+\sqrt{x} = u^2 \Rightarrow \sqrt{x} = u^2 - 1$$

$$\Rightarrow dx = 4\sqrt{x}\sqrt{1+\sqrt{x}} du = 4u(u^2 - 1) du$$

$$\int \frac{\sqrt{1+\sqrt{x}}}{x} dx = \int \frac{u}{(u^2 - 1)^2} 4u(u^2 - 1) du = \int \frac{4u^2}{u^2 - 1} du$$

$$\frac{4u^2}{u^2 - 1} = 4 + \frac{4}{u^2 - 1}$$

38

$$\frac{4}{u^2 - 1} = \frac{4}{(u-1)(u+1)} = \frac{A}{u-1} + \frac{B}{u+1}$$

$$\Rightarrow 4 = A(u+1) + B(u-1)$$

$$u = 1 \Rightarrow A = 2$$

$$u = -1 \Rightarrow B = -2$$

$$\int \frac{4u^2}{u^2 - 1} du = \int \left( 4 + \frac{2}{u-1} + \frac{-2}{u+1} \right) du$$

$$= 4u + 2 \ln|u-1| - 2 \ln|u+1| + C$$

$$= 4u + 2 \ln \left| \frac{u-1}{u+1} \right| + C$$

$$\Rightarrow \int \frac{\sqrt{1+\sqrt{x}}}{x} dx = 4\sqrt{1+\sqrt{x}} + 2 \ln \left| \frac{\sqrt{1+\sqrt{x}} - 1}{\sqrt{1+\sqrt{x}} + 1} \right| + C$$

$$\frac{x}{16x^4 - 1} = \frac{x}{(4x^2 + 1)(2x - 1)(2x + 1)} = \frac{Ax + B}{4x^2 + 1} + \frac{C}{2x - 1} + \frac{D}{2x + 1}$$

$$\Rightarrow x = (Ax + B)(2x - 1)(2x + 1) + C(4x^2 + 1)(2x + 1) + D(4x^2 + 1)(2x - 1)$$

$$x = \frac{1}{2} \Rightarrow C = \frac{1}{8}$$

$$x = -\frac{1}{2} \Rightarrow D = \frac{1}{8}$$

$$x = 0 \Rightarrow 0 = -B + C - D \Rightarrow B = 0$$

39

$$x = 1 \Rightarrow 1 = 3A + 3B + 15C + 5D \Rightarrow A = -\frac{1}{2}$$

$$\int \frac{x}{16x^4 - 1} dx = \int \left( \frac{-\frac{1}{2}x}{4x^2 + 1} + \frac{\frac{1}{8}}{2x - 1} + \frac{\frac{1}{8}}{2x + 1} \right) dx$$

$$= -\frac{1}{16} \ln(4x^2 + 1) + \frac{1}{16} \ln|2x - 1| + \frac{1}{16} \ln|2x + 1| + C$$

$$= \frac{1}{16} \ln \left| \frac{4x^2 - 1}{4x^2 + 1} \right| + C$$

$$u = x^{\frac{1}{6}} \Rightarrow \frac{du}{dx} \Rightarrow \frac{1}{6} x^{-\frac{5}{6}} \Rightarrow dx = 6x^{\frac{5}{6}} du = 6u^5 du$$

$$u = x^{\frac{1}{6}} \Rightarrow x = u^6 \Rightarrow \sqrt{x} = u^3, \sqrt[3]{x} = u^2$$

$$\Rightarrow \int \frac{1}{\sqrt{x} - \sqrt[3]{x}} dx = \int \frac{6u^5}{u^3 - u^2} du$$

40

$$= \int \frac{6u^3}{u - 1} du$$

$$= \int \left( 6u^2 + 6u + 6 + \frac{6}{u - 1} \right) du$$

$$= 2u^3 + 3u^2 + 6u + 6 \ln|u - 1| + C$$

$$= 2\sqrt{x} + 3\sqrt[3]{x} + 6\sqrt[6]{x} + 6 \ln|\sqrt[6]{x} - 1| + C$$

مسألة اليوم صفحة 60

$$S(t) = \int 350 \ln(t+1) dt$$

$$u = \ln(t+1) \quad dv = 350 dt$$

$$du = \frac{1}{t+1} dt \quad v = 350t$$

$$\int u dv = uv - \int v du$$

$$\int 350 \ln(1+t) dt = 350t \ln(t+1) - \int \frac{350t}{t+1} dt$$

$$= 350t \ln(t+1) - \int \left(350 - \frac{350}{t+1}\right) dt$$

$$= 350t \ln(t+1) - 350t + 350 \ln(t+1) + C$$

$$S(t) = 0 - 0 + 0 + C = 0 \Rightarrow C = 0$$

$$S(t) = 350t \ln(t+1) - 350t + 350 \ln(t+1)$$

اتحقق من فهمي صفحة 63

$$u = x \quad dv = \sin x dx$$

$$du = dx \quad v = -\cos x$$

$$a \quad \int x \sin x dx = -x \cos x - \int -\cos x dx$$

$$= -x \cos x + \sin x + C$$

$$u = \ln x \quad dv = x^2 dx$$

$$du = \frac{1}{x} dx \quad v = \frac{1}{3} x^3$$

$$b \quad \int x^2 \ln x dx = \frac{1}{3} x^3 \ln x - \int \frac{1}{3} x^2 dx$$

$$= \frac{1}{3} x^3 \ln x - \frac{1}{9} x^3 + C$$

ملاحظة: يمكن حل هذه المسألة بطريقة التعويض  $u = 7 - 3x$  أو  $u = \sqrt{7 - 3x}$

وتاليًا حلها بالأجزاء:

$$u = x \quad dv = (7 - 3x)^{\frac{1}{2}} dx$$

$$c \quad du = dx \quad v = -\frac{2}{9}(7 - 3x)^{\frac{3}{2}}$$

$$\begin{aligned} \int x\sqrt{7 - 3x} dx &= -\frac{2}{9}x(7 - 3x)^{\frac{3}{2}} - \int -\frac{2}{9}(7 - 3x)^{\frac{3}{2}} dx \\ &= -\frac{2}{9}x(7 - 3x)^{\frac{3}{2}} - \frac{4}{135}(7 - 3x)^{\frac{5}{2}} + C \end{aligned}$$

$$u = 3x \quad dv = e^{4x} dx$$

$$du = 3dx \quad v = \frac{1}{4}e^{4x}$$

$$\begin{aligned} d \quad \int 3xe^{4x} dx &= \frac{3}{4}xe^{4x} - \int \frac{3}{4}e^{4x} dx \\ &= \frac{3}{4}xe^{4x} - \frac{3}{16}e^{4x} + C \end{aligned}$$

اتحقق من فهمي صفحة 64

$$u = x^2 \quad dv = \sin x \, dx$$

$$du = 2x \, dx \quad v = -\cos x$$

$$\int x^2 \sin x \, dx = -x^2 \cos x - \int -2x \cos x \, dx$$

$$\int x^2 \sin x \, dx = -x^2 \cos x + \int 2x \cos x \, dx$$

a

$$u = 2x \quad dv = \cos x \, dx$$

$$du = 2 \, dx \quad v = \sin x$$

$$\int x^2 \sin x \, dx = -x^2 \cos x + 2x \sin x - \int 2 \sin x \, dx$$

$$= -x^2 \cos x + 2x \sin x + 2 \cos x + C$$

$$u = x^3 \quad dv = e^{4x} \, dx$$

$$du = 3x^2 \, dx \quad v = \frac{1}{4} e^{4x}$$

$$\int x^3 e^{4x} \, dx = \frac{1}{4} x^3 e^{4x} - \int \frac{3}{4} x^2 e^{4x} \, dx$$

$$u = \frac{3}{4} x^2 \quad dv = e^{4x} \, dx$$

$$du = \frac{3}{2} x \, dx \quad v = \frac{1}{4} e^{4x}$$

b

$$\int x^3 e^{4x} \, dx = \frac{1}{4} x^3 e^{4x} - \frac{3}{16} x^2 e^{4x} + \int \frac{3}{8} x e^{4x} \, dx$$

$$u = \frac{3}{8} x \quad dv = e^{4x} \, dx$$

$$du = \frac{3}{8} \, dx \quad v = \frac{1}{4} e^{4x}$$

$$\int x^3 e^{4x} \, dx = \frac{1}{4} x^3 e^{4x} - \frac{3}{16} x^2 e^{4x} + \frac{3}{32} x e^{4x} - \int \frac{3}{32} e^{4x} \, dx$$

$$= \frac{1}{4} x^3 e^{4x} - \frac{3}{16} x^2 e^{4x} + \frac{3}{32} x e^{4x} - \frac{3}{128} e^{4x} + C$$

اتحقق من فهمي صفحة 66

$$\int \frac{\sin x}{e^x} dx = \int \sin x e^{-x} dx$$

$$u = \sin x \quad dv = e^{-x} dx$$

$$du = \cos x dx \quad v = -e^{-x}$$

$$\int \sin x e^{-x} dx = -\sin x e^{-x} - \int -e^{-x} \cos x dx$$

$$\int \sin x e^{-x} dx = -\sin x e^{-x} + \int e^{-x} \cos x dx$$

$$u = \cos x \quad dv = e^{-x} dx$$

$$du = -\sin x dx \quad v = -e^{-x}$$

$$\int \sin x e^{-x} dx = -\sin x e^{-x} + e^{-x} \cos x - \int e^{-x} \sin x dx$$

$$\Rightarrow 2 \int \sin x e^{-x} dx = e^{-x}(-\sin x + \cos x) + C$$

$$\int \sin x e^{-x} dx = \frac{1}{2} e^{-x}(-\sin x + \cos x) + C$$

$$u = \sec x \quad dv = \sec^2 x dx$$

$$du = \sec x \tan x dx \quad v = \tan x$$

$$\int \sec^3 x dx = \sec x \tan x - \int \sec x \tan^2 x dx$$

$$= \sec x \tan x - \int \sec x (\sec^2 x - 1) dx$$

$$= \sec x \tan x - \int \sec^3 x dx + \int \sec x dx$$

$$2 \int \sec^3 x dx = \sec x \tan x + \int \sec x dx$$

$$= \sec x \tan x + \int \frac{\sec x (\sec x + \tan x)}{\sec x + \tan x} dx$$

$$= \sec x \tan x + \int \frac{\sec^2 x + \sec x \tan x}{\sec x + \tan x} dx$$

$$= \sec x \tan x + \ln |\sec x + \tan x|$$

$$\int \sec^3 x dx = \frac{1}{2} (\sec x \tan x + \ln |\sec x + \tan x|) + C$$



اتحقق من فهمي صفحة 67

افرض أن:  $f(x) = x^4$ ,  $g(x) = \cos 4x$  ، استخدم طريقة الجدول للتكامل بالأجزاء:  
 $f(x)$  ومشتقاته المتكررة  $g(x)$  وتكاملاته المتكررة

a

$x^4$	+	$\cos 4x$
$4x^3$	-	$\frac{1}{4} \sin 4x$
$12x^2$	+	$-\frac{1}{16} \cos 4x$
$24x$	-	$-\frac{1}{64} \sin 4x$
$24$	+	$\frac{1}{256} \cos 4x$
$0$	+	$\frac{1}{1024} \sin 4x$

$$\int x^4 \cos 4x \, dx = \frac{1}{4} x^4 \sin 4x + \frac{1}{4} x^3 \cos 4x - \frac{3}{16} x^2 \sin 4x - \frac{3}{32} x \cos 4x + \frac{3}{128} \sin 4x + C$$

b

افرض أن:  $f(x) = x^5$ ,  $g(x) = e^x$  ، استخدم طريقة الجدول للتكامل بالأجزاء:  
 $f(x)$  ومشتقاته المتكررة  $g(x)$  وتكاملاته المتكررة

$x^5$	+	$e^x$
$5x^4$	-	$e^x$
$20x^3$	+	$e^x$
$60x^2$	-	$e^x$
$120x$	+	$e^x$
$120$	-	$e^x$
$0$	-	$e^x$

$$\int x^5 e^x \, dx = e^x (x^5 - 5x^4 + 20x^3 - 60x^2 + 120x - 120) + C$$

اتحقق من فهمي صفحة 69

$$C(x) = \int (0.1x + 1)e^{0.03x} dx$$

$$u = 0.1x + 1 \quad dv = e^{0.03x} dx$$

$$du = 0.1 dx \quad v = \frac{1}{0.03} e^{0.03x}$$

$$\int (0.1x + 1)e^{0.03x} dx = (0.1x + 1) \left( \frac{1}{0.03} e^{0.03x} \right) - \int \frac{0.1}{0.03} e^{0.03x} dx$$

$$= \frac{10}{3} (x + 10) e^{0.03x} - \frac{1000}{9} e^{0.03x} + C$$

$$C(10) = \frac{200}{3} e^{0.3} - \frac{1000}{9} e^{0.3} + C = 200 \Rightarrow C \approx 260$$

$$\Rightarrow C(x) = \frac{10}{3} e^{0.03x} \left( x - \frac{70}{3} \right) + 260$$

اتحقق من فهمي صفحة 70

$$u = \ln x \quad dv = x^{-2} dx$$

$$du = \frac{1}{x} dx \quad v = -\frac{1}{x}$$

$$\int_1^e \frac{\ln x}{x^2} dx = -\frac{\ln x}{x} \Big|_1^e + \int_1^e x^{-2} dx$$

$$= -\frac{\ln x}{x} \Big|_1^e + \left( -\frac{1}{x} \right) \Big|_1^e$$

$$= -\frac{1}{e} - \frac{1}{e} + 1 = 1 - \frac{2}{e}$$

a

$$u = x \quad dv = e^{-2x} dx$$

$$du = dx \quad v = -\frac{1}{2} e^{-2x}$$

$$\int_0^1 x e^{-2x} dx = -\frac{1}{2} x e^{-2x} \Big|_0^1 + \int_0^1 \frac{1}{2} e^{-2x} dx$$

$$= -\frac{1}{2} x e^{-2x} \Big|_0^1 + -\frac{1}{4} e^{-2x} \Big|_0^1$$

$$= -\frac{e^{-2}}{2} - \frac{e^{-2}}{4} + \frac{1}{4} = \frac{1}{4} - \frac{3}{4e^2}$$

b

اتحقق من فهمي صفحة 71

$$\int (x^3 + x^5) \sin x^2 dx = \int x^3 \sin x^2 dx + \int x^5 \sin x^2 dx$$

نجد كل تكامل على حدة. فنجد التكامل الأيسر كما يأتي:

$$y = x^2 \Rightarrow \frac{dy}{dx} = 2x \Rightarrow dx = \frac{dy}{2x}$$

$$\begin{aligned} \int x^3 \sin x^2 dx &= \int x^3 \sin y \frac{dy}{2x} = \frac{1}{2} \int x^2 \sin y dy \\ &= \frac{1}{2} \int y \sin y dy \end{aligned}$$

$$\begin{aligned} u = y & & dv = \sin y \\ du = dy & & v = -\cos y \end{aligned}$$

$$\begin{aligned} \int y \sin y dy &= -y \cos y - \int -\cos y dy \\ &= -y \cos y + \sin y \end{aligned}$$

$$\int x^3 \sin x^2 dx = -\frac{1}{2} x^2 \cos x^2 + \frac{1}{2} \sin x^2 + C$$

a

ونجد التكامل الأيمن كما يأتي:

$$\begin{aligned} \int x^5 \sin x^2 dx &= \int x^5 \sin y \frac{dy}{2x} = \frac{1}{2} \int x^4 \sin y dy \\ &= \frac{1}{2} \int y^2 \sin y dy \end{aligned}$$

$$\begin{aligned} u = y^2 & & dv = \sin y \\ du = 2y dy & & v = -\cos y \end{aligned}$$

$$\begin{aligned} \int y^2 \sin y dy &= -y^2 \cos y - \int -2y \cos y dy \\ &= -y^2 \cos y + 2y \sin y - 2 \int \sin y dy \\ &= -y^2 \cos y + 2y \sin y + 2 \cos y \end{aligned}$$

$$\int x^5 \sin x^2 dx = -\frac{1}{2} x^4 \cos x^2 + x^2 \sin x^2 + \cos x^2 + C$$

$$\begin{aligned} \int (x^3 + x^5) \sin x^2 dx &= -\frac{1}{2} x^2 \cos x^2 + \frac{1}{2} \sin x^2 - \frac{1}{2} x^4 \cos x^2 \\ &+ x^2 \sin x^2 + \cos x^2 + C \end{aligned}$$

$$y = x^2 \Rightarrow \frac{dy}{dx} = 2x \Rightarrow dx = \frac{dy}{2x}$$

$$\int x^5 e^{x^2} dx = \int x^5 e^y \frac{dy}{2x} = \int \frac{1}{2} x^4 e^y dy = \frac{1}{2} \int y^2 e^y dy$$

$$u = y^2 \quad dv = e^y dy$$

$$du = 2y dy \quad v = e^y$$

$$\int y^2 e^y dy = y^2 e^y - \int 2y e^y dy$$

$$= y^2 e^y - 2y e^y + \int 2e^y dy$$

$$= y^2 e^y - 2y e^y + 2e^y = (y^2 - 2y + 2)e^y$$

$$\int x^5 e^{x^2} dx = \left(\frac{1}{2} x^4 - x^2 + 1\right) e^{x^2} + C$$

أنتدرب وأحل المسائل صفحة

$$u = x + 1 \quad dv = \cos x dx$$

$$du = dx \quad v = \sin x$$

1

$$\int (x + 1) \cos x dx = (x + 1) \sin x - \int \sin x dx$$

$$= (x + 1) \sin x + \cos x + C$$

$$u = x \quad dv = e^{\frac{1}{2}x} dx$$

$$du = dx \quad v = 2e^{\frac{1}{2}x}$$

2

$$\int x e^{\frac{1}{2}x} dx = 2x e^{\frac{1}{2}x} - \int 2e^{\frac{1}{2}x} dx$$

$$= 2x e^{\frac{1}{2}x} - 4e^{\frac{1}{2}x} + C$$

3	$u = 2x^2 - 1 \quad dv = e^{-x} dx$ $du = 4x dx \quad v = -e^{-x}$ $\int (2x^2 - 1)e^{-x} dx = -(2x^2 - 1)e^{-x} + \int 4xe^{-x} dx$ <p style="text-align: right;">بالأجزاء مرة أخرى:</p> $u = 4x \quad dv = e^{-x} dx$ $du = 4 dx \quad v = -e^{-x}$ $\int (2x^2 - 1)e^{-x} dx = -(2x^2 - 1)e^{-x} - 4xe^{-x} + \int 4e^{-x} dx$ $= -(2x^2 - 1)e^{-x} - 4xe^{-x} - 4e^{-x} + C$ $= -e^{-x}(2x^2 + 4x + 3) + C$
4	$\int \ln \sqrt{x} dx = \int \frac{1}{2} \ln x dx$ $u = \ln x \quad dv = \frac{1}{2} dx$ $du = \frac{1}{x} dx \quad v = \frac{1}{2} x$ $\int \frac{1}{2} \ln x dx = \frac{1}{2} x \ln x - \int \frac{1}{2} dx$ $= \frac{1}{2} x \ln x - \frac{1}{2} x + C$
5	$\int x \sin x \cos x dx = \int \frac{1}{2} x \sin 2x dx$ $u = \frac{1}{2} x \quad dv = \sin 2x dx$ $du = \frac{1}{2} dx \quad v = -\frac{1}{2} \cos 2x$ $\int x \sin x \cos x dx = -\frac{1}{4} x \cos 2x + \int \frac{1}{4} \cos 2x dx$ $= -\frac{1}{4} x \cos 2x + \frac{1}{8} \sin 2x + C$

$$u = x \quad dv = \sec x \tan x \, dx$$

$$du = dx \quad v = \sec x$$

$$\int x \sec x \tan x \, dx = x \sec x - \int \sec x \, dx$$

6

$$= x \sec x - \int \sec x \times \frac{\sec x + \tan x}{\sec x + \tan x} \, dx$$

$$= x \sec x - \int \frac{\sec^2 x + \sec x \tan x}{\sec x + \tan x} \, dx$$

$$= x \sec x - \ln|\sec x + \tan x| + C$$

$$\int \frac{x}{\sin^2 x} \, dx = \int x \csc^2 x \, dx$$

$$u = x \quad dv = \csc^2 x \, dx$$

$$du = dx \quad v = -\cot x$$

7

$$\int x \csc^2 x \, dx = -x \cot x + \int \cot x \, dx$$

$$= -x \cot x + \int \frac{\cos x}{\sin x} \, dx$$

$$= -x \cot x + \ln|\sin x| + C$$

$$u = \ln x \quad dv = x^{-3} \, dx$$

$$du = \frac{1}{x} \, dx \quad v = -\frac{1}{2}x^{-2}$$

8

$$\int x^{-3} \ln x \, dx = -\frac{1}{2}x^{-2} \ln x - \int -\frac{1}{2}x^{-2} \frac{1}{x} \, dx$$

$$= -\frac{1}{2}x^{-2} \ln x + \int \frac{1}{2}x^{-3} \, dx$$

$$= -\frac{1}{2}x^{-2} \ln x - \frac{1}{4}x^{-2} + C$$

$$= -\frac{\ln x}{2x^2} - \frac{1}{4x^2} + C$$

$$u = 2x^2 \quad dv = \sec^2 x \tan x dx$$

$$du = 4x dx \quad v = \frac{1}{2} \tan^2 x$$

ملاحظة: لإيجاد  $v$  استخدمنا طريقة التعويض، حيث:  $dx = \frac{dy}{\sec^2 x}$ ،  $y = \tan x$  ومنه:

$$v = \int \sec^2 x \tan x dx = \int \sec^2 x y \frac{dy}{\sec^2 x} = \int y dy = \frac{1}{2} y^2 = \frac{1}{2} \tan^2 x$$

$$\int 2x^2 \sec^2 x \tan x dx = 2x^2 \left( \frac{1}{2} \tan^2 x \right) - \int 2x \tan^2 x dx$$

بالأجزاء مرة أخرى:

9

$$u = 2x \quad dv = \tan^2 x dx = (\sec^2 x - 1) dx$$

$$du = 2 dx \quad v = \tan x - x$$

$$\int 2x^2 \sec^2 x \tan x dx$$

$$= x^2 \tan^2 x - \left( 2x(\tan x - x) - \int 2(\tan x - x) dx \right)$$

$$= x^2 \tan^2 x - 2x \tan x + 2x^2 + 2 \int \left( \frac{\sin x}{\cos x} - x \right) dx$$

$$= x^2 \tan^2 x - 2x \tan x + 2x^2 - 2 \ln |\cos x| - x^2 + C$$

$$= x^2 \tan^2 x - 2x \tan x + x^2 - 2 \ln |\cos x| + C$$

هذه المسألة يمكن حلها بالتعويض ( $u = \sqrt{8-x}$  أو  $u = 8-x$ )

وحلها بالأجزاء كالآتي:

$$u = x - 2 \quad dv = (8-x)^{\frac{1}{2}} dx$$

$$du = dx \quad v = -\frac{2}{3} (8-x)^{\frac{3}{2}}$$

10

$$\int (x-2)\sqrt{8-x} dx = (x-2) \times -\frac{2}{3} (8-x)^{\frac{3}{2}} - \int -\frac{2}{3} (8-x)^{\frac{3}{2}} dx$$

$$= -\frac{2}{3} (x-2)(8-x)^{\frac{3}{2}} - \frac{4}{15} (8-x)^{\frac{5}{2}} + C$$

بالأجزاء 3 مرات، نستخدم طريقة الجدول:

$f(x)$  ومشتقاته المتكررة

$g(x)$  وتكاملاته المتكررة

$x^3$	+	$\cos 2x$
$3x^2$	-	$\frac{1}{2} \sin 2x$
$6x$	+	$-\frac{1}{4} \cos 2x$
$6$	-	$-\frac{1}{8} \sin 2x$
$0$		$\frac{1}{16} \cos 2x$

11

$$\int x^3 \cos 2x \, dx = \frac{1}{2} x^3 \sin 2x + \frac{3}{4} x^2 \cos 2x - \frac{3}{4} x \sin 2x - \frac{3}{8} \cos 2x + C$$

$$\int \frac{x}{6^x} dx = \int x 6^{-x} dx$$

$$u = x \quad dv = 6^{-x} dx$$

$$du = dx \quad v = -\frac{6^{-x}}{\ln 6}$$

12

$$\int x 6^{-x} dx = -x \frac{6^{-x}}{\ln 6} + \int \frac{6^{-x}}{\ln 6} dx$$

$$= -x \frac{6^{-x}}{\ln 6} - \frac{6^{-x}}{(\ln 6)^2} + C$$



$$u = e^{-x} \quad dv = \sin 2x \, dx$$

$$du = -e^{-x} \, dx \quad v = \frac{-1}{2} \cos 2x$$

$$\int e^{-x} \sin 2x \, dx = -\frac{1}{2} e^{-x} \cos 2x - \int \frac{1}{2} e^{-x} \cos 2x \, dx$$

بالأجزاء مرة أخرى:

13

$$u = \frac{1}{2} e^{-x} \quad dv = \cos 2x \, dx$$

$$du = -\frac{1}{2} e^{-x} \, dx \quad v = \frac{1}{2} \sin 2x$$

$$\int e^{-x} \sin 2x \, dx = -\frac{1}{2} e^{-x} \cos 2x - \frac{1}{4} e^{-x} \sin 2x - \frac{1}{4} \int e^{-x} \sin 2x \, dx$$

$$\int e^{-x} \sin 2x \, dx + \frac{1}{4} \int e^{-x} \sin 2x \, dx = -\frac{1}{4} e^{-x} (\sin 2x + 2 \cos 2x) + C$$

$$\frac{5}{4} \int e^{-x} \sin 2x \, dx = -\frac{1}{4} e^{-x} (\sin 2x + 2 \cos 2x) + C$$

$$\int e^{-x} \sin 2x \, dx = -\frac{1}{5} e^{-x} (\sin 2x + 2 \cos 2x) + C$$

14

$$u = \ln \sin x \quad dv = \cos x \, dx$$

$$du = \frac{\cos x}{\sin x} \, dx \quad v = \sin x$$

$$\int \cos x \ln \sin x \, dx = \sin x \ln \sin x - \int \cos x \, dx$$

$$= \sin x \ln \sin x - \sin x + C$$

15

$$u = \ln(1 + e^x) \quad dv = e^x \, dx$$

$$du = \frac{e^x}{1 + e^x} \, dx \quad v = e^x$$

$$\int e^x \ln(1 + e^x) \, dx = e^x \ln(1 + e^x) - \int \frac{e^{2x}}{1 + e^x} \, dx$$

$$= e^x \ln(1 + e^x) - \int \left( e^x + \frac{-1}{1 + e^x} \right) dx$$

$$= e^x \ln(1 + e^x) - \int \left( e^x + \frac{-e^{-x}}{e^{-x} + 1} \right) dx$$

$$= e^x \ln(1 + e^x) - e^x - \ln(1 + e^{-x}) + C$$

16	$\int e^x \cos x dx = \frac{1}{2} e^x (\sin x + \cos x) + C$ <p style="text-align: right;">وجدنا في المثال 3 أن:</p> $\Rightarrow \int_0^{\frac{\pi}{2}} e^x \cos x dx = \frac{1}{2} e^x (\sin x + \cos x) \Big _0^{\frac{\pi}{2}}$ $= \frac{1}{2} e^{\frac{\pi}{2}} - \frac{1}{2} e^0 = \frac{1}{2} e^{\frac{\pi}{2}} - \frac{1}{2}$
17	$\int_1^e \ln x^2 dx = \int_1^e 2 \ln x dx$ $u = 2 \ln x \quad dv = dx$ $du = \frac{2}{x} dx \quad v = x$ $\int_1^e 2 \ln x dx = 2x \ln x \Big _1^e - \int_1^e 2 dx$ $= 2x \ln x \Big _1^e - 2x \Big _1^e$ $= 2e \ln e - 2 \ln 1 - 2e + 2 = 2e - 0 - 2e + 2 = 2$
18	$\int_1^2 \ln(xe^x) dx = \int_1^2 (\ln x + \ln e^x) dx$ $= \int_1^2 (\ln x + x) dx = \int_1^2 \ln x dx + \int_1^2 x dx$ <p>نجد <math>\int_1^2 \ln x dx</math> بطريقة الأجزاء:</p> $u = \ln x \quad dv = dx$ $du = \frac{1}{x} dx \quad v = x$ $\int_1^2 \ln x dx = x \ln x \Big _1^2 - \int_1^2 dx = x \ln x \Big _1^2 - x \Big _1^2 = 2 \ln 2 - \ln 1 - 2 + 1$ $= 2 \ln 2 - 1$ $\int_1^2 x dx = \frac{1}{2} x^2 \Big _1^2 = \frac{4}{2} - \frac{1}{2} = \frac{3}{2}$ $\Rightarrow \int_1^2 \ln(xe^x) dx = 2 \ln 2 - 1 + \frac{3}{2} = 2 \ln 2 + \frac{1}{2}$

$$u = x$$

$$dv = \sec^2 3x dx$$

$$du = dx$$

$$v = \frac{1}{3} \tan 3x$$

$$\int_{\frac{\pi}{12}}^{\frac{\pi}{9}} x \sec^2 3x dx = \frac{1}{3} x \tan 3x \Big|_{\frac{\pi}{12}}^{\frac{\pi}{9}} - \int_{\frac{\pi}{12}}^{\frac{\pi}{9}} \frac{1}{3} \tan 3x dx$$

$$= \frac{1}{3} x \tan 3x \Big|_{\frac{\pi}{12}}^{\frac{\pi}{9}} - \int_{\frac{\pi}{12}}^{\frac{\pi}{9}} \frac{1}{3} \frac{\sin 3x}{\cos 3x} dx$$

$$= \frac{1}{3} x \tan 3x \Big|_{\frac{\pi}{12}}^{\frac{\pi}{9}} + \frac{1}{9} \ln \cos 3x \Big|_{\frac{\pi}{12}}^{\frac{\pi}{9}}$$

$$= \frac{\pi}{27} \tan \frac{\pi}{3} - \frac{\pi}{36} \tan \frac{\pi}{4} + \frac{1}{9} \ln \cos \frac{\pi}{3} - \frac{1}{9} \ln \cos \frac{\pi}{4}$$

$$= \frac{\pi\sqrt{3}}{27} - \frac{\pi}{36} + \frac{1}{9} \ln \frac{1}{2} - \frac{1}{9} \ln \frac{1}{\sqrt{2}}$$

19

$$u = \ln x$$

$$dv = x^4 dx$$

$$du = \frac{dx}{x}$$

$$v = \frac{1}{5} x^5$$

$$\int_1^e x^4 \ln x dx = \frac{1}{5} x^5 \ln x \Big|_1^e - \int_1^e \frac{1}{5} x^4 dx$$

$$= \frac{1}{5} x^5 \ln x \Big|_1^e - \frac{1}{25} x^5 \Big|_1^e$$

$$= \frac{1}{5} e^5 - 0 - \frac{1}{25} e^5 + \frac{1}{25} = \frac{4e^5 + 1}{25}$$

20

نجد  $\int x^2 \sin x \, dx$  باستخدام طريقة الجداول:

$f(x)$  ومشتقاته المتكررة

$g(x)$  وتكاملاته المتكررة

$x^2$	+	$\sin x$
$2x$	-	$-\cos x$
$2$	+	$-\sin x$
$0$	+	$\cos x$

21

$$\int x^2 \sin x \, dx = -x^2 \cos x + 2x \sin x + 2 \cos x + C$$

$$\Rightarrow \int_0^{\frac{\pi}{2}} x^2 \sin x \, dx = -x^2 \cos x + 2x \sin x + 2 \cos x \Big|_0^{\frac{\pi}{2}}$$

$$= \pi - 2$$

$$u = x$$

$$dv = (e^{-2x} + e^{-x}) \, dx$$

$$du = dx$$

$$v = -\frac{1}{2}e^{-2x} - e^{-x}$$

$$\int_0^1 x(e^{-2x} + e^{-x}) \, dx = -\frac{1}{2}xe^{-2x} - xe^{-x} \Big|_0^1 - \int_0^1 \left(-\frac{1}{2}e^{-2x} - e^{-x}\right) \, dx$$

22

$$= -\frac{1}{2}xe^{-2x} - xe^{-x} \Big|_0^1 - \left(\frac{1}{4}e^{-2x} + e^{-x}\right) \Big|_0^1$$

$$= -\frac{1}{2}e^{-2} - e^{-1} - \frac{1}{4}e^{-2} - e^{-1} + \frac{1}{4} + 1$$

$$= -\frac{3}{4}e^{-2} - 2e^{-1} + \frac{5}{4}$$

$$u = xe^x$$

$$dv = (1+x)^{-2} \, dx$$

$$du = (xe^x + e^x) \, dx = e^x(x+1) \, dx$$

$$v = -(1+x)^{-1}$$

$$\int_0^1 \frac{xe^x}{(1+x)^2} \, dx = -xe^x(1+x)^{-1} \Big|_0^1 + \int_0^1 \frac{e^x(x+1)}{(1+x)} \, dx$$

23

$$= -\frac{xe^x}{1+x} \Big|_0^1 + e^x \Big|_0^1$$

$$= -\frac{e}{2} + e - 1 = \frac{1}{2}e - 1$$

24

$$\begin{aligned}
 u &= x & dv &= 3^x dx \\
 du &= dx & v &= \frac{3^x}{\ln 3} \\
 \int_0^1 x 3^x dx &= x \frac{3^x}{\ln 3} \Big|_0^1 - \int_0^1 \frac{3^x}{\ln 3} dx \\
 &= x \frac{3^x}{\ln 3} \Big|_0^1 - \frac{3^x}{(\ln 3)^2} \Big|_0^1 \\
 &= \frac{3}{\ln 3} - \frac{3}{(\ln 3)^2} + \frac{1}{(\ln 3)^2} = \frac{3 \ln 3 - 2}{(\ln 3)^2}
 \end{aligned}$$

25

$$\begin{aligned}
 y &= x^2 \Rightarrow dx = \frac{dy}{2x} \\
 \int x^3 e^{x^2} dx &= \int x^3 e^y \frac{dy}{2x} = \int \frac{1}{2} x^2 e^y dy = \int \frac{1}{2} y e^y dy \\
 u &= \frac{1}{2} y & dv &= e^y dy \\
 du &= \frac{1}{2} dy & v &= e^y \\
 \int \frac{1}{2} y e^y dy &= \frac{1}{2} y e^y - \int \frac{1}{2} e^y dy \\
 &= \frac{1}{2} y e^y - \frac{1}{2} e^y + C \\
 \int x^3 e^{x^2} dx &= \frac{1}{2} x^2 e^{x^2} - \frac{1}{2} e^{x^2} + C
 \end{aligned}$$

26

$$\begin{aligned}
 y &= \ln x \Rightarrow \frac{dy}{dx} = \frac{1}{x} \Rightarrow dx = x dy, \quad x = e^y \\
 \int \cos(\ln x) dx &= \int x \cos y dy = \int e^y \cos y dy \\
 \int e^y \cos y dy &= \frac{1}{2} e^y (\sin y + \cos y) + C \\
 \Rightarrow \int \cos(\ln x) dx &= \frac{1}{2} e^{\ln x} (\sin \ln x + \cos \ln x) + C \\
 &= \frac{1}{2} x (\sin \ln x + \cos \ln x) + C
 \end{aligned}$$

من المثال محلول الصفحات 55 و56 في كتاب الطالب نجد أن:

$$y = x^2 \Rightarrow dx = \frac{dy}{2x}$$

$$\int x^3 \sin x^2 dx = \int x^3 \sin y \frac{dy}{2x} = \int \frac{1}{2} x^2 \sin y dy = \int \frac{1}{2} y \sin y dy$$

$$u = \frac{1}{2} y \quad dv = \sin y dy$$

$$27 \quad du = \frac{1}{2} dy \quad v = -\cos y$$

$$\int \frac{1}{2} y \sin y dy = -\frac{1}{2} y \cos y + \int \frac{1}{2} \cos y dy$$

$$= -\frac{1}{2} y \cos y + \frac{1}{2} \sin y + C$$

$$\int x^3 \sin x^2 dx = -\frac{1}{2} x^2 \cos x^2 + \frac{1}{2} \sin x^2 + C$$

$$y = \cos x \Rightarrow dx = \frac{dy}{-\sin x}$$

$$\int e^{\cos x} \sin 2x dx = \int e^y (2 \sin x \cos x) \frac{dy}{-\sin x} = \int -2ye^y dy$$

$$u = -2y \quad dv = e^y dy$$

$$28 \quad du = -2 dy \quad v = e^y$$

$$\int -2ye^y dy = -2ye^y + \int 2e^y dy$$

$$= -2ye^y + 2e^y + C$$

$$\Rightarrow \int e^{\cos x} \sin 2x dx = -2 \cos x e^{\cos x} + 2e^{\cos x} + C$$

29

$$y = \sqrt{x} \Rightarrow \frac{dy}{dx} = \frac{1}{2\sqrt{x}} = \frac{1}{2y} \Rightarrow dx = 2y dy$$

$$\int \sin \sqrt{x} dx = \int 2y \sin y dy$$

$$u = 2y \quad dv = \sin y dy$$

$$du = 2 dy \quad v = -\cos y$$

$$\int 2y \sin y dy = -2y \cos y + \int 2 \cos y dy$$

$$= -2y \cos y + 2 \sin y + C$$

$$\Rightarrow \int \sin \sqrt{x} dx = -2\sqrt{x} \cos \sqrt{x} + 2 \sin \sqrt{x} + C$$

30

$$y = x^2 \Rightarrow \frac{dy}{dx} = 2x \Rightarrow dx = \frac{dy}{2x}$$

$$\int \frac{x^3 e^{x^2}}{(x^2 + 1)^2} dx = \int \frac{x^3 e^y}{(y + 1)^2} \frac{dy}{2x} = \int \frac{1}{2} x^2 \frac{e^y}{(y + 1)^2} dy = \int \frac{\frac{1}{2} y e^y}{(y + 1)^2} dy$$

$$u = \frac{1}{2} y e^y$$

$$dv = \frac{1}{(y + 1)^2} dy$$

$$du = \frac{1}{2} (y e^y + e^y) dy = \frac{1}{2} e^y (y + 1) dy \quad v = \frac{-1}{y + 1}$$

$$\int \frac{\frac{1}{2} y e^y}{(y + 1)^2} dy = \frac{-y e^y}{2(y + 1)} + \int \frac{1}{y + 1} \times \frac{1}{2} e^y (y + 1) dy$$

$$= \frac{-y e^y}{2(y + 1)} + \frac{1}{2} \int e^y dy$$

$$= \frac{-y e^y}{2(y + 1)} + \frac{1}{2} e^y + C$$

$$\int \frac{x^3 e^{x^2}}{(x^2 + 1)^2} dx = \frac{-x^2 e^{x^2}}{2(x^2 + 1)} + \frac{1}{2} e^{x^2} + C = \frac{e^{x^2}}{2(x^2 + 1)} + C$$

الإحداثيان  $x$  للنقطتين  $A$  و  $B$  هما أصغر حلين موجبين للمعادلة:

$$f(x) = e^{-x} \sin 2x = 0$$

$$\Rightarrow \sin 2x = 0 \Rightarrow 2x = \pi, 2\pi, \dots$$

$$\Rightarrow x = \frac{\pi}{2}, \pi, \dots$$

$$\Rightarrow A\left(\frac{\pi}{2}, 0\right), B(\pi, 0)$$

31



$$A = \int_0^{\frac{\pi}{2}} e^{-x} \sin 2x \, dx + \left( - \int_{\frac{\pi}{2}}^{\pi} e^{-x} \sin 2x \, dx \right)$$

للتبسيط سنجد أولاً:  $\int e^{-x} \sin 2x \, dx$  (التكامل غير المحدود)

$$u = e^{-x} \quad dv = \sin 2x \, dx$$

$$du = -e^{-x} dx \quad v = -\frac{1}{2} \cos 2x$$

$$\int e^{-x} \sin 2x \, dx = -\frac{1}{2} e^{-x} \cos 2x - \int \frac{1}{2} e^{-x} \cos 2x \, dx$$

بالأجزاء مرة أخرى:

$$u = \frac{1}{2} e^{-x} \quad dv = \cos 2x \, dx$$

$$du = -\frac{1}{2} e^{-x} dx \quad v = \frac{1}{2} \sin 2x$$

$$\int e^{-x} \sin 2x \, dx = -\frac{1}{2} e^{-x} \cos 2x - \frac{1}{4} e^{-x} \sin 2x - \frac{1}{4} \int e^{-x} \sin 2x \, dx$$

$$\int e^{-x} \sin 2x \, dx + \frac{1}{4} \int e^{-x} \sin 2x \, dx = -\frac{1}{2} e^{-x} \cos 2x - \frac{1}{4} e^{-x} \sin 2x$$

$$\frac{5}{4} \int e^{-x} \sin 2x \, dx = -\frac{1}{2} e^{-x} \cos 2x - \frac{1}{4} e^{-x} \sin 2x + C$$

$$\int e^{-x} \sin 2x \, dx = -\frac{1}{5} e^{-x} (2 \cos 2x + \sin 2x) + C$$

$$\Rightarrow A = -\frac{1}{5} e^{-x} (2 \cos 2x + \sin 2x) \Big|_0^{\frac{\pi}{2}} + \frac{1}{5} e^{-x} (2 \cos 2x + \sin 2x) \Big|_{\frac{\pi}{2}}^{\pi}$$

$$= \frac{2}{5} e^{-\frac{\pi}{2}} + \frac{2}{5} + \frac{2}{5} e^{-\pi} + \frac{2}{5} e^{-\frac{\pi}{2}}$$

$$= \frac{2}{5} \left( 1 + e^{-\pi} + 2e^{-\frac{\pi}{2}} \right)$$

33

$$s(t) = \int te^{-\frac{t}{2}} dt$$

$$u = t \quad dv = e^{-\frac{t}{2}} dt$$

$$du = dt \quad v = -2e^{-\frac{t}{2}}$$

$$s(t) = -2te^{-\frac{t}{2}} - \int -2e^{-\frac{t}{2}} dt = -2te^{-\frac{t}{2}} - 4e^{-\frac{t}{2}} + C$$

$$s(0) = 0 - 4 + C$$

$$0 = 0 - 4 + C \Rightarrow C = 4$$

$$\Rightarrow s(t) = -2te^{-\frac{t}{2}} - 4e^{-\frac{t}{2}} + 4$$

34

$$f(x) = \int (x+2) \sin x dx$$

$$u = x+2 \quad dv = \sin x dx$$

$$du = dx \quad v = -\cos x$$

$$f(x) = -(x+2) \cos x + \int \cos x dx$$

$$= -(x+2) \cos x + \sin x + C$$

$$f(0) = -2 + 0 + C$$

$$2 = -2 + 0 + C \Rightarrow C = 4$$

$$f(x) = -(x+2) \cos x + \sin x + 4$$

35

$$f(x) = \int 2xe^{-x} dx$$

$$u = 2x \quad dv = e^{-x} dx$$

$$du = 2dx \quad v = -e^{-x}$$

$$f(x) = -2xe^{-x} + \int 2e^{-x} dx$$

$$= -2xe^{-x} - 2e^{-x} + C$$

$$f(0) = 0 - 2 + C$$

$$3 = -2 + C \Rightarrow C = 5$$

$$f(x) = -2xe^{-x} - 2e^{-x} + 5$$

$$N(t) = \int (t + 6)e^{-0.25t} dt$$

$$u = t + 6$$

$$dv = e^{-0.25t} dt$$

$$du = dt$$

$$v = -4e^{-0.25t}$$

36

$$N(t) = -4(t + 6)e^{-0.25t} + \int 4e^{-0.25t} dt$$

$$= -4(t + 6)e^{-0.25t} - 16e^{-0.25t} + C$$

$$N(0) = -24 - 16 + C$$

$$40 = -24 - 16 + C \Rightarrow C = 80$$

$$\Rightarrow N(t) = -4(t + 6)e^{-0.25t} - 16e^{-0.25t} + 80$$

$$u = \ln 2x$$

$$dv = x^2 dx$$

$$du = \frac{1}{x} dx$$

$$v = \frac{1}{3} x^3$$

37

$$\int_{\frac{1}{2}}^3 x^2 \ln 2x dx = \frac{1}{3} x^3 \ln 2x \Big|_{\frac{1}{2}}^3 - \int_{\frac{1}{2}}^3 \frac{1}{3} x^2 dx$$

$$= \frac{1}{3} x^3 \ln 2x \Big|_{\frac{1}{2}}^3 - \frac{1}{9} x^3 \Big|_{\frac{1}{2}}^3$$

$$= 9 \ln 6 - 3 + \frac{1}{72} = 9 \ln 6 - \frac{215}{72}$$

38

$$u = x \quad dv = \sin 5x \sin 3x \, dx = \frac{1}{2}(\cos 2x - \cos 8x) \, dx$$

$$du = dx \quad v = \frac{1}{4} \sin 2x - \frac{1}{16} \sin 8x$$

$$\begin{aligned} & \int_0^{\frac{\pi}{4}} x \sin 5x \sin 3x \, dx \\ &= x \left( \frac{1}{4} \sin 2x - \frac{1}{16} \sin 8x \right) \Big|_0^{\frac{\pi}{4}} - \int_0^{\frac{\pi}{4}} \left( \frac{1}{4} \sin 2x - \frac{1}{16} \sin 8x \right) dx \\ &= x \left( \frac{1}{4} \sin 2x - \frac{1}{16} \sin 8x \right) \Big|_0^{\frac{\pi}{4}} - \left( -\frac{1}{8} \cos 2x + \frac{1}{128} \cos 8x \right) \Big|_0^{\frac{\pi}{4}} \\ &= \frac{\pi}{4} \left( \frac{1}{4} \right) + 0 - \frac{1}{128} - \frac{1}{8} + \frac{1}{128} = \frac{\pi - 2}{16} \end{aligned}$$

39

$$u = x \quad dv = e^{\frac{1}{2}x} \, dx$$

$$du = dx \quad v = 2e^{\frac{1}{2}x}$$

$$\int_0^a x e^{\frac{1}{2}x} \, dx = 2x e^{\frac{1}{2}x} \Big|_0^a - \int_0^a 2e^{\frac{1}{2}x} \, dx$$

$$= 2x e^{\frac{1}{2}x} \Big|_0^a - 4e^{\frac{1}{2}x} \Big|_0^a$$

$$= 2a e^{\frac{1}{2}a} - 4e^{\frac{1}{2}a} + 4$$

$$\Rightarrow 2a e^{\frac{1}{2}a} - 4e^{\frac{1}{2}a} + 4 = 6$$

$$2a e^{\frac{1}{2}a} = 4e^{\frac{1}{2}a} + 2$$

$$a = 2 + e^{-\frac{1}{2}a}$$

بقسمة طرفي المعادلة على  $2e^{\frac{1}{2}a}$  نحصل على:

إذا فإن  $a$  يحقق المعادلة  $x = 2 + e^{-\frac{x}{2}}$

الطريقة الأولى بالتعويض:

$$u = \ln x \Rightarrow \frac{du}{dx} = \frac{1}{x} \Rightarrow dx = x du, \quad x = e^u$$

$$\int (\ln x)^2 dx = \int u^2 x du = \int u^2 e^u du$$

بالأجزاء مرتين، نستخدم الجدول:

$f(u)$  ومشتقاته المتكررة

$g(u)$  وتكاملاته المتكررة

$u^2$	+	$e^u$
$2u$	-	$e^u$
$2$	+	$e^u$
$0$		$e^u$

$$\int u^2 e^u du = e^u (u^2 - 2u + 2) + C$$

$$\int (\ln x)^2 dx = e^{\ln x} ((\ln x)^2 - 2 \ln x + 2) + C$$

$$= x((\ln x)^2 - 2 \ln x + 2) + C$$

الطريقة الثانية: بالأجزاء مباشرة:

$$u = (\ln x)^2 \quad dv = dx$$

$$du = \frac{2 \ln x}{x} dx \quad v = x$$

$$\int (\ln x)^2 dx = x(\ln x)^2 - \int 2 \ln x dx$$

بالأجزاء مرة أخرى:

$$u = 2 \ln x \quad dv = dx$$

$$du = \frac{2}{x} dx \quad v = x$$

$$\int (\ln x)^2 dx = x(\ln x)^2 - 2x \ln x + \int 2 dx$$

$$= x(\ln x)^2 - 2x \ln x + 2x + C$$

$$A_1 = - \int_{-\frac{1}{2}}^0 x e^{2x} dx, \quad A_2 = \int_0^{\frac{1}{2}} x e^{2x} dx$$

نجد التكامل غير المحدود  $\int x e^{2x} dx$  بالأجزاء:

$$u = x \quad dv = e^{2x} dx$$

$$du = dx \quad v = \frac{1}{2} e^{2x}$$

$$\int x e^{2x} dx = \frac{1}{2} x e^{2x} - \int \frac{1}{2} e^{2x} dx$$

$$= \frac{1}{2} x e^{2x} - \frac{1}{4} e^{2x} + C$$

$$= \frac{1}{4} e^{2x} (2x - 1) + C$$

$$\Rightarrow A(R_1) = - \frac{1}{4} e^{2x} (2x - 1) \Big|_{-\frac{1}{2}}^0 = \frac{1}{4} - \frac{1}{2e} = \frac{e - 2}{4e}$$

$$A(R_2) = \frac{1}{4} e^{2x} (2x - 1) \Big|_0^{\frac{1}{2}} = 0 + \frac{1}{4} = \frac{1}{4}$$

42

$$\frac{A(R_1)}{A(R_2)} = \frac{\frac{e - 2}{4e}}{\frac{1}{4}} = \frac{e - 2}{e}$$

$$A(R_1) : A(R_2) = (e - 2) : e$$

43

$$u = \ln x \quad dv = x^n dx$$

$$du = \frac{1}{x} dx \quad v = \frac{1}{n+1} x^{n+1}$$

$$\int x^n \ln x dx = \frac{x^{n+1} \ln x}{n+1} - \int \frac{1}{n+1} x^n dx$$

$$= \frac{x^{n+1} \ln x}{n+1} - \frac{1}{(n+1)^2} x^{n+1} + C$$

$$= \frac{x^{n+1}}{(n+1)^2} (-1 + (n+1) \ln x) + C$$

44

$$u = x^n$$

$$dv = e^{ax} dx$$

$$du = nx^{n-1} dx$$

$$v = \frac{1}{a} e^{ax}$$

$$\int x^n e^{ax} dx = \frac{1}{a} x^n e^{ax} - \frac{n}{a} \int x^{n-1} e^{ax} dx$$

مسألة اليوم صفحة 74

$$f(x) = h(x)$$

$$-2 \cos x + 4 = 2 \cos x + 2 \Rightarrow \cos x = \frac{1}{2}$$

الإحداثي  $x$  للنقطة A هو أكبر حل سالب لهذه المعادلة وهو  $x = -\frac{\pi}{3}$

$$1 \Rightarrow A\left(-\frac{\pi}{3}, f\left(-\frac{\pi}{3}\right)\right) = \left(-\frac{\pi}{3}, 3\right)$$

إحداثيا  $x$  للنقطتين B, C هما أصغر حلين موجبين للمعادلة، وهما:  $x = \frac{\pi}{3}$ ، و  $x = \frac{5\pi}{3}$

$$\Rightarrow B\left(\frac{\pi}{3}, f\left(\frac{\pi}{3}\right)\right) = \left(\frac{\pi}{3}, 3\right), \quad C\left(\frac{5\pi}{3}, f\left(\frac{5\pi}{3}\right)\right) = \left(\frac{5\pi}{3}, 3\right)$$

$$2 \quad A(R_1) = \int_{-\frac{\pi}{3}}^{\frac{\pi}{3}} (h(x) - f(x)) dx$$

$$= \int_{-\frac{\pi}{3}}^{\frac{\pi}{3}} (2 \cos x + 2 - (-2 \cos x + 4)) dx = \int_{-\frac{\pi}{3}}^{\frac{\pi}{3}} (4 \cos x - 2) dx$$

$$= 4 \sin x - 2x \Big|_{-\frac{\pi}{3}}^{\frac{\pi}{3}} = 2\sqrt{3} - \frac{2\pi}{3} - \left(-2\sqrt{3} + \frac{2\pi}{3}\right) = 4\sqrt{3} - \frac{4\pi}{3}$$

$$2 \quad A(R_2) = \int_{\frac{\pi}{3}}^{\frac{5\pi}{3}} (f(x) - h(x)) dx$$

$$= \int_{\frac{\pi}{3}}^{\frac{5\pi}{3}} (-2 \cos x + 4 - (2 \cos x + 2)) dx = \int_{\frac{\pi}{3}}^{\frac{5\pi}{3}} (2 - 4 \cos x) dx$$

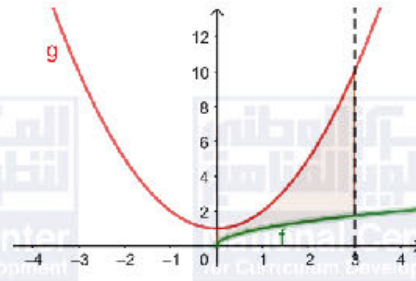
$$= 2x - 4 \sin x \Big|_{\frac{\pi}{3}}^{\frac{5\pi}{3}} \\ = \frac{10\pi}{3} + 2\sqrt{3} - \left(\frac{2\pi}{3} - 2\sqrt{3}\right) \\ = 4\sqrt{3} + \frac{8\pi}{3}$$

أتحقق من فهمي صفحة 77



$$f(x) = g(x) \Rightarrow x^2 + 1 = \sqrt{x}$$

هذه المعادلة ليس لها حلول إذ أن المنحنيين لا يتقاطعان كما في الشكل أدناه.

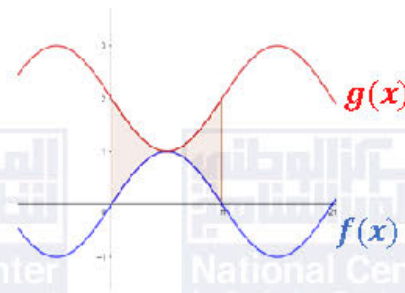
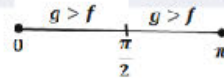


$$A = \int_0^3 (x^2 + 1 - \sqrt{x}) dx = \left. \frac{1}{3}x^3 + x - \frac{2}{3}x^{3/2} \right|_0^3$$

$$= 9 + 3 - 2\sqrt{3} - 0 = 12 - 2\sqrt{3}$$

$$f(x) = g(x) \Rightarrow 2 - \sin x = \sin x$$

$$\Rightarrow \sin x = 1 \Rightarrow x = \frac{\pi}{2}$$



b

نجد أن  $g \geq f$  لكل قيم  $x$ ، إذن:

$$A = \int_0^{\pi} (g(x) - f(x)) dx = \int_0^{\pi} ((2 - \sin x) - \sin x) dx$$

$$= \int_0^{\pi} (2 - 2 \sin x) dx$$

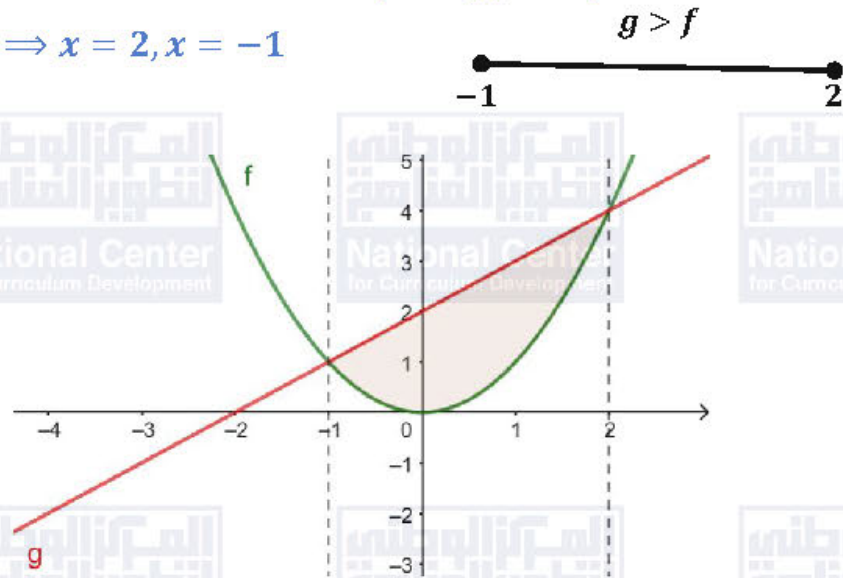
$$= 2x + 2 \cos x \Big|_0^{\pi} = 2\pi - 4$$

أتحقق من فهمي صفحة 79

$$f(x) = g(x) \Rightarrow x^2 = x + 2$$

$$\Rightarrow x^2 - x + 2 = 0 \Rightarrow (x - 2)(x + 1) = 0$$

$$\Rightarrow x = 2, x = -1$$



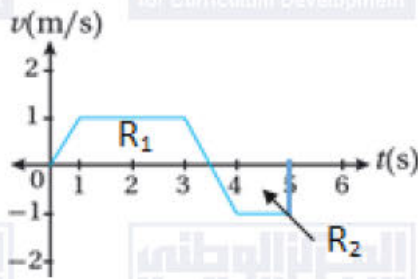
نلاحظ أن  $g > f$  لكل قيم  $x$  في الفترة  $(-1, \infty)$ ، إذن:

$$A = \int_{-1}^2 (g(x) - f(x)) dx = \int_{-1}^2 (x + 2 - x^2) dx$$

$$= \left. \frac{1}{2}x^2 + 2x - \frac{1}{3}x^3 \right|_{-1}^2$$

$$= \frac{1}{2}(2)^2 + 2(2) - \frac{1}{3}(2)^3 - \left( \frac{1}{2} - 2 + \frac{1}{3} \right) = \frac{9}{2}$$

اتحقق من فهمي صفحة 81



a

لتكن الإزاحة  $D$

$$\begin{aligned} D &= s(5) - s(0) = \int_0^5 v(t) dt \\ &= A(R_1) - A(R_2) \\ &= \frac{1}{2} (2 + 3.5)(1) - \frac{1}{2} (1 + 1.5)(1) \\ &= 1.5 \text{ m} \end{aligned}$$

b

المسافة التي قطعها الجسم هي:  $\int_0^5 |v(t)| dt$

$$\begin{aligned} \int_0^5 |v(t)| dt &= A(R_1) + A(R_2) \\ &= \frac{1}{2} (5.5) + \frac{1}{2} (2.5) \\ &= 4 \text{ m} \end{aligned}$$

c

في الفرع a وجدنا أن:

$$s(5) - s(0) = 1.5$$

وبتعويض  $s(0) = 3$  نجد أن:

$$s(5) - 3 = 1.5 \Rightarrow s(5) = 4.5$$

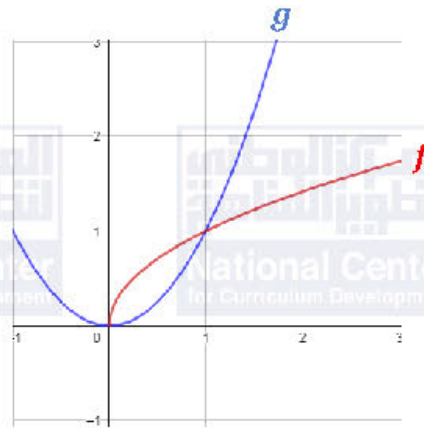
اتحقق من فهمي صفحة 82

$$V = \int_a^b \pi (f(x))^2 dx = \int_1^4 \frac{\pi}{x^2} dx = -\frac{\pi}{x} \Big|_1^4 = -\frac{\pi}{4} - \left(-\frac{\pi}{1}\right) = \frac{3\pi}{4}$$

اتحقق من فهمي صفحة 85

$$f(x) = g(x) \Rightarrow \sqrt{x} = x^2 \Rightarrow x - x^4 = 0 \Rightarrow x(1 - x^3) = 0$$

$$\Rightarrow x = 0, \quad x = 1$$



نلاحظ أن منحنى  $f$  يقع فوق منحنى  $g$  في الفترة  $(0, 1)$

$$V = \int_0^1 \pi \left( (f(x))^2 - (g(x))^2 \right) dx$$

$$= \int_0^1 \pi (x - x^4) dx$$

$$= \pi \left( \frac{1}{2} x^2 - \frac{1}{5} x^5 \right) \Big|_0^1 = \pi \left( \left( \frac{1}{2} - \frac{1}{5} \right) - 0 \right) = 0.3\pi$$

أنترب وأحل المسائل صفحة 85

1

$$A = \int_{-1}^1 (x^2 - (-2x^4)) dx = \int_{-1}^1 (x^2 + 2x^4) dx$$

$$= \left( \frac{1}{3} x^3 + \frac{2}{5} x^5 \right) \Big|_{-1}^1$$

$$= \left( \frac{1}{3} + \frac{2}{5} \right) - \left( -\frac{1}{3} - \frac{2}{5} \right)$$

$$= \frac{22}{15}$$

2

$$\begin{aligned} A &= \int_{-2}^0 (x^3 - 3x - x) dx + \int_0^2 (x - (x^3 - 3x)) dx \\ &= \int_{-2}^0 (x^3 - 4x) dx + \int_0^2 (4x - x^3) dx \\ &= \left( \frac{1}{4}x^4 - 2x^2 \right) \Big|_{-2}^0 + \left( 2x^2 - \frac{1}{4}x^4 \right) \Big|_0^2 \\ &= (0) - (4 - 8) + (8 - 4) - (0) \\ &= 8 \end{aligned}$$

3

$$\begin{aligned} A &= \int_0^3 (e^{0.5x} - e^{-0.5x}) dx = (2e^{0.5x} + 2e^{-0.5x}) \Big|_0^3 \\ &= (2e^{1.5} + 2e^{-1.5}) - (2 + 2) \\ &= 2e^{1.5} + 2e^{-1.5} - 4 \end{aligned}$$

4

$$\begin{aligned} A &= \int_0^{\frac{\pi}{4}} (\sec^2 x - \sin x) dx \\ &= (\tan x + \cos x) \Big|_0^{\frac{\pi}{4}} \\ &= \left( 1 + \frac{1}{\sqrt{2}} \right) - (0 + 1) \\ &= \frac{1}{\sqrt{2}} \end{aligned}$$

5

$$\begin{aligned} f(x) = g(x) &\Rightarrow \frac{1}{2}x^2 + 6 = 2x^2 \Rightarrow \frac{3}{2}x^2 = 6 \Rightarrow x^2 = 4 \\ &\Rightarrow x = 2, \quad x = -2 \\ A &= \int_{-2}^2 (f(x) - g(x)) dx = \int_{-2}^2 \left( \frac{1}{2}x^2 + 6 - 2x^2 \right) dx \\ &= \int_{-2}^2 \left( 6 - \frac{3}{2}x^2 \right) dx = \left( 6x - \frac{1}{2}x^3 \right) \Big|_{-2}^2 \\ &= (12 - 4) - (-12 + 4) \\ &= 16 \end{aligned}$$

6

$$f(x) = g(x) \Rightarrow 3^x = 4^x \Rightarrow x = 0$$

$$\begin{aligned} A &= \int_0^1 (f(x) - g(x)) dx = \int_0^1 (4^x - 3^x) dx = \left( \frac{4^x}{\ln 4} - \frac{3^x}{\ln 3} \right) \Big|_0^1 \\ &= \left( \frac{4}{\ln 4} - \frac{3}{\ln 3} \right) - \left( \frac{1}{\ln 4} - \frac{1}{\ln 3} \right) \\ &= \frac{3}{\ln 4} - \frac{2}{\ln 3} \approx 0.344 \end{aligned}$$

7

$$f(x) = g(x) \Rightarrow e^x = \cos x$$

نعلم من حلول هذه المعادلة الحل غير السالب:  $x = 0$

في الربع الأول: يكون  $\cos x \leq 1$  بينما  $e^x \geq 1$ ، إذن:  $e^x \geq \cos x$

$$\begin{aligned} A &= \int_0^{\frac{\pi}{2}} (e^x - \cos x) dx = (e^x - \sin x) \Big|_0^{\frac{\pi}{2}} \\ &= (e^{\frac{\pi}{2}} - 1) - (1 - 0) \\ &= e^{\frac{\pi}{2}} - 2 \end{aligned}$$

$$g(x) = f(x) \Rightarrow x^4 = |x| \Rightarrow x^4 = x \text{ or } x^4 = -x$$

$$x^4 = x \Rightarrow x^4 - x = 0 \Rightarrow x(x^3 - 1) = 0 \Rightarrow x = 0, x = 1$$

$$x^4 = -x \Rightarrow x^4 + x = 0 \Rightarrow x(x^3 + 1) = 0 \Rightarrow x = 0, x = -1$$

إذن، يتقاطع المنحنيان عند  $x = -1, x = 0, x = 1$  ، ويكون في الفترتين  $f(x) > g(x)$

$$A = \int_{-1}^1 (f(x) - g(x)) dx$$

8 نجزئ هذا التكامل بسبب تغيير قاعدة  $f(x)$  حول  $x = 0$  ، نحسب هذه المساحة على النحو الآتي:

$$A = \int_{-1}^0 (-x - x^4) dx + \int_0^1 (x - x^4) dx$$

$$= \left( -\frac{1}{2}x^2 - \frac{1}{5}x^5 \right) \Big|_{-1}^0 + \left( \frac{1}{2}x^2 - \frac{1}{5}x^5 \right) \Big|_0^1$$

$$= (0) - \left( -\frac{1}{2} + \frac{1}{5} \right) + \left( \frac{1}{2} - \frac{1}{5} \right) - (0)$$

$$= \frac{3}{5}$$

$$f(x) = g(x) \Rightarrow 3x^3 - x^2 - 10x = -x^2 + 2x$$

$$\Rightarrow 3x^3 - 12x = 0 \Rightarrow 3x(x^2 - 4) = 0$$

$$\Rightarrow x = 0, x = -2, x = 2$$

بحساب قيمتي الاقترانين عند عدد بين -2 و 0 مثل -1 نجد أن:

$$f(-1) = -3 - 1 + 10 = 6, g(-1) = -1 - 2 = -3$$

بحساب قيمتي الاقترانين عند عدد بين 0 و 2 مثل 1 نجد أن:

$$f(1) = 3 - 1 - 10 = -8, g(1) = -1 + 2 = 1$$

بحساب قيمتي الاقترانين عند عدد بين 0 و 2 مثل 1 نجد أن:

9

$$A = \int_{-2}^0 (f(x) - g(x)) dx + \int_0^2 (g(x) - f(x)) dx$$

$$= \int_{-2}^0 (3x^3 - x^2 - 10x - (-x^2 + 2x)) dx + \int_0^2 (-x^2 + 2x - (3x^3 - x^2 - 10x)) dx$$

$$= \int_{-2}^0 (3x^3 - 12x) dx + \int_0^2 (12x - 3x^3) dx$$

$$= \left( \frac{3}{4} x^4 - 6x^2 \right) \Big|_{-2}^0 + \left( 6x^2 - \frac{3}{4} x^4 \right) \Big|_0^2$$

$$= (0) - (12 - 24) + (24 - 12) - (0)$$

$$= 24$$

$$f(x) = g(x) \Rightarrow e^x = x^2$$

يمكن استعمال الآلة الحاسبة لمعرفة أن  $f(x) > g(x)$  في الفترة  $[0, \infty)$

$$A = \int_0^1 (e^x - x^2) dx = \left( e^x - \frac{1}{3} x^3 \right) \Big|_0^1$$

$$= \left( e - \frac{1}{3} \right) - (1 - 0)$$

$$= e - \frac{4}{3}$$

10



$$f(x) = h(x) \Rightarrow \frac{1}{2}x^2 = 4\sqrt{x} \Rightarrow \frac{1}{4}x^4 = 16x \Rightarrow x^4 - 64x = 0$$

$$\Rightarrow x(x^3 - 64) = 0 \Rightarrow x = 0, x = 4$$

$(0, 4)$  في الفترة  $h(x) > f(x)$

11

$$A = \int_0^4 (h(x) - f(x)) dx = \int_0^4 \left(4\sqrt{x} - \frac{1}{2}x^2\right) dx$$

$$= \left(\frac{8}{3}x^{\frac{3}{2}} - \frac{1}{6}x^3\right) \Big|_0^4 = \left(\frac{64}{3} - \frac{32}{3}\right) - (0) = \frac{32}{3}$$

12

$$\int_{-a}^a (a^2 - x^2) dx = \left(a^2x - \frac{1}{3}x^3\right) \Big|_{-a}^a$$

$$= \left(a^3 - \frac{1}{3}a^3\right) - \left(-a^3 + \frac{1}{3}a^3\right) = 2a^3 - \frac{2}{3}a^3 = \frac{4}{3}a^3$$

مساحة المستطيل  $ABCD$  هي:  $2a \times a^2 = 2a^3$

إذن، المساحة بين المنحنى والقطعة المستقيمة  $AB$  تساوي  $\frac{2}{3}$  مساحة المستطيل  $ABCD$ .

من التماثل فإن  $B(-a, a^2)$

لتكن مساحة المنطقة المطلوبة هي:

$$A\left(\frac{1}{2}, f\left(\frac{1}{2}\right)\right) = \left(\frac{1}{2}, \frac{17}{2}\right)$$

$$B(2, f(2)) = \left(2, \frac{5}{2}\right)$$

$$\text{ميل } AB: \frac{\frac{17}{2} - \frac{5}{2}}{\frac{1}{2} - 2} = -4$$

13

$$y - \frac{5}{2} = -4(x - 2)$$

معادلة المستقيم  $AB$ :

$$\Rightarrow y = \frac{21}{2} - 4x$$

المساحة المطلوبة هي:

$$\int_{\frac{1}{2}}^2 \left(\frac{21}{2} - 4x - (2x^{-2} + x)\right) dx = \int_{\frac{1}{2}}^2 \left(\frac{21}{2} - 5x - 2x^{-2}\right) dx$$

$$= \left(\frac{21}{2}x - \frac{5}{2}x^2 + \frac{2}{x}\right) \Big|_{\frac{1}{2}}^2 = 21 - 10 + 1 - \left(\frac{21}{4} - \frac{5}{8} + 4\right) = \frac{27}{8}$$

لتكن الإزاحة  $D$ .

$$D = s(8) - s(0) = \int_0^8 v(t) dt = \int_0^1 v(t) dt + \int_1^4 v(t) dt + \int_4^8 v(t) dt$$

$\int_0^1 v(t) dt$  يساوي مساحة المثلث الأيسر في الرسم البياني وهي:

$$\frac{1}{2}(1)(2) = 1$$

14

$\int_1^4 v(t) dt$  يساوي معكوس مساحة شبه المنحرف في الرسم البياني فهو يساوي:

$$-\frac{1}{2}(1+3)(2) = -4$$

$\int_4^8 v(t) dt$  يساوي مساحة المثلث الأيمن في الرسم البياني وهي:

$$\frac{1}{2}(4)(4) = 8$$

إذن، إزاحة الجسم هي:  $s(8) - s(0) = 1 + (-4) + 8 = 5 \text{ m}$

15

$$\int_0^8 |v(t)| dt = \int_0^1 |v(t)| dt + \int_1^4 |v(t)| dt + \int_4^8 |v(t)| dt$$

$$= 1 + 4 + 8 = 13 \text{ m}$$

المسافة التي قطعها الجسم هي:  $\int_0^8 |v(t)| dt$

16

$$s(8) - s(0) = 5$$

وبتعويض  $s(0) = 5$  نجد أن:

$$s(8) - 5 = 5 \Rightarrow s(8) = 10 \text{ m}$$

17

$$f(x) = g(x) \Rightarrow x^2 - 10x + 25 = 5 + 4x - x^2$$

$$\Rightarrow 2x^2 - 14x + 20 = 0 \Rightarrow x^2 - 7x + 10 = 0$$

$$\Rightarrow (x - 5)(x - 2) = 0 \Rightarrow x = 5, x = 2$$

$$\Rightarrow A(2, 9), B(5, 0)$$

18

$$V = \int_2^5 \pi((5 + 4x - x^2)^2 - (x^2 - 10x + 25)^2) dx$$

$$V = \int_2^5 \pi(12x^3 - 144x^2 + 540x - 600) dx$$

$$= 12\pi \int_2^5 (x^3 - 12x^2 + 45x - 50) dx$$

$$= 12\pi \left( \frac{1}{4}x^4 - 4x^3 + \frac{45}{2}x^2 - 50x \right) \Big|_2^5$$

$$= 12\pi \left( \frac{1}{4}(5)^4 - 4(5)^3 + \frac{45}{2}(5)^2 - 50(5) \right)$$

$$- \left( \frac{1}{4}(2)^4 - 4(2)^3 + \frac{45}{2}(2)^2 - 50(2) \right) = 81\pi$$

19

$$V = \int_0^{\pi} \pi(f(x))^2 dx = \pi \int_0^{\pi} \sin x dx = -\pi \cos x \Big|_0^{\pi}$$

$$= -\pi(\cos \pi - \cos 0) = 2\pi$$

20

$$x^3 = \sqrt{x} \Rightarrow x^6 = x \Rightarrow x^6 - x = 0 \Rightarrow x(x^5 - 1) = 0 \Rightarrow x = 0, x = 1$$

لكل  $x \in (0, 1)$  يكون  $\sqrt{x} > x^3$

$$V = \int_0^1 \pi(f^2(x) - g^2(x)) dx = \pi \int_0^1 (x - x^6) dx$$

$$= \pi \left( \frac{1}{2}x^2 - \frac{1}{7}x^7 \right) \Big|_0^1 = \pi \left( \frac{1}{2} - \frac{1}{7} - 0 \right) = \frac{5\pi}{14}$$

$$1 + \sec x = 3 \Rightarrow \sec x = 2 \Rightarrow \cos x = \frac{1}{2} \Rightarrow x = -\frac{\pi}{3}, x = \frac{\pi}{3}$$

نلاحظ أن المنحنيين يقعان فوق المحور  $x$  وأن  $f(x) = 1 + \sec x < 3$  في الفترة

$$\left(-\frac{\pi}{3}, \frac{\pi}{3}\right)$$

$$\begin{aligned} \int \sec x \, dx &= \int \sec x \times \frac{\sec x + \tan x}{\sec x + \tan x} \, dx \\ &= \int \frac{\sec^2 x + \sec x \tan x}{\sec x + \tan x} \, dx = \ln|\sec x + \tan x| + C \end{aligned}$$

$$21 \quad V = \int_{-\frac{\pi}{3}}^{\frac{\pi}{3}} \pi(9 - (1 + \sec x)^2) \, dx = \pi \int_{-\frac{\pi}{3}}^{\frac{\pi}{3}} (9 - (1 + 2 \sec x + \sec^2 x)) \, dx$$

$$= \pi \int_{-\frac{\pi}{3}}^{\frac{\pi}{3}} (8 - 2 \sec x - \sec^2 x) \, dx$$

$$= \pi(8x - 2 \ln|\sec x + \tan x| - \tan x) \Big|_{-\frac{\pi}{3}}^{\frac{\pi}{3}}$$

$$= \pi \left( \left( \frac{8\pi}{3} - 2 \ln(2 + \sqrt{3}) - \sqrt{3} \right) - \left( -\frac{8\pi}{3} - 2 \ln(2 - \sqrt{3}) + \sqrt{3} \right) \right)$$

$$= \pi \left( \frac{16\pi}{3} + 2 \ln \left( \frac{2 - \sqrt{3}}{2 + \sqrt{3}} \right) - 2\sqrt{3} \right)$$

$$22 \quad x^2 = x^{\frac{1}{2}} \Rightarrow x^4 = x \Rightarrow x^4 - x = 0 \Rightarrow x(x^3 - 1) = 0 \Rightarrow x = 0, x = 1$$

$$A = \int_0^1 (x^{\frac{1}{2}} - x^2) \, dx = \left( \frac{2}{3} x^{\frac{3}{2}} - \frac{1}{3} x^3 \right) \Big|_0^1 = \frac{2}{3} - \frac{1}{3} - 0 = \frac{1}{3}$$

23

$$\begin{aligned}
 x^3 &= x^{\frac{1}{3}} \Rightarrow x^9 = x \Rightarrow x^9 - x = 0 \Rightarrow x(x^8 - 1) = 0 \\
 &\Rightarrow x(x^4 - 1)(x^4 + 1) = 0 \Rightarrow x(x^2 - 1)(x^2 + 1)(x^4 + 1) = 0 \\
 &\Rightarrow x = 0, x = -1, x = 1 \\
 \left(\frac{1}{8}\right)^{\frac{1}{3}} &= \frac{1}{2}, \left(\frac{1}{8}\right)^3 = \frac{1}{512} \Rightarrow x^{\frac{1}{3}} > x^3, 0 < x < 1 \\
 \left(\frac{-1}{8}\right)^{\frac{1}{3}} &= \frac{-1}{2}, \left(\frac{-1}{8}\right)^3 = \frac{-1}{512} \Rightarrow x^3 > x^{\frac{1}{3}}, -1 < x < 0 \\
 A &= \int_{-1}^0 (x^3 - x^{\frac{1}{3}}) dx + \int_0^1 (x^{\frac{1}{3}} - x^3) dx \\
 &= \left(\frac{1}{4}x^4 - \frac{3}{4}x^{\frac{4}{3}}\right)\Big|_{-1}^0 + \left(\frac{3}{4}x^{\frac{4}{3}} - \frac{1}{4}x^4\right)\Big|_0^1 \\
 &= 0 - \left(\frac{1}{4} - \frac{3}{4}\right) + \frac{3}{4} - \frac{1}{4} - 0 = 1
 \end{aligned}$$

أولاً: إذا كان  $n$  زوجياً

يتقاطع المنحنيان عند  $x = 0, x = 1$  (كما في السؤال 22)

$$\begin{aligned}
 A &= \int_0^1 (x^{\frac{1}{n}} - x^n) dx = \left(\frac{x^{\frac{1}{n}+1}}{\frac{1}{n}+1} - \frac{x^{n+1}}{n+1}\right)\Big|_0^1 = \frac{1}{\frac{1}{n}+1} - \frac{1}{n+1} - 0 \\
 &= \frac{n}{n+1} - \frac{1}{n+1} = \frac{n-1}{n+1}
 \end{aligned}$$

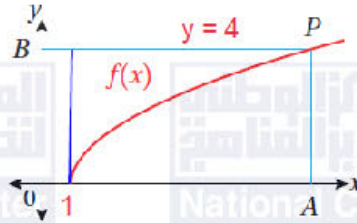
ثانياً: إذا كان  $n$  فردياً

يتقاطع المنحنيان عند  $x = 0, x = 1, x = -1$  (كما في السؤال 23)

24

$$\begin{aligned}
 A &= \int_{-1}^0 (x^n - x^{\frac{1}{n}}) dx + \int_0^1 (x^{\frac{1}{n}} - x^n) dx \\
 &= \left(\frac{x^{n+1}}{n+1} - \frac{x^{\frac{1}{n}+1}}{\frac{1}{n}+1}\right)\Big|_{-1}^0 + \left(\frac{x^{\frac{1}{n}+1}}{\frac{1}{n}+1} - \frac{x^{n+1}}{n+1}\right)\Big|_0^1 \\
 &= 0 - \left(\frac{1}{n+1} - \frac{1}{\frac{1}{n}+1}\right) + \frac{1}{\frac{1}{n}+1} - \frac{1}{n+1} - 0 = \frac{-1+n}{n+1} + \frac{n-1}{n+1} \\
 &= \frac{2(n-1)}{n+1}
 \end{aligned}$$

$$\sqrt{2x-2} = 0 \Rightarrow x = 1$$



25

نقسم المنطقة المطلوب حساب مساحتها إلى قسمين برسم المستقيم  $x = 1$ ، ونجد المساحة كما يأتي:

$$\begin{aligned} A &= \int_0^1 4 \, dx + \int_1^9 (4 - \sqrt{2x-2}) \, dx \\ &= (4x)|_0^1 + \left(4x - \frac{1}{3}(2x-2)^{\frac{3}{2}}\right)|_1^9 \\ &= 4 - 0 + 36 - \frac{1}{3}(16)^{\frac{3}{2}} - (4 - 0) = \frac{44}{3} \end{aligned}$$

26

$$A = \int_1^9 \sqrt{2x-2} \, dx = \frac{1}{3}(2x-2)^{\frac{3}{2}}|_1^9 = \frac{1}{3}((16)^{\frac{3}{2}} - 0) = \frac{64}{3}$$

$$2\sqrt{x-2} = 0 \Rightarrow x = 2$$

نقسم المنطقة إلى قسمين برسم المستقيم  $x = 2$ ، ونجد الحجم كما يأتي:

27

$$V = \pi \int_0^2 5^2 \, dx + \pi \int_2^6 (5^2 - (2\sqrt{x-2})^2) \, dx$$

$$= \pi \int_0^2 25 \, dx + \pi \int_2^6 (25 - (4x-8)) \, dx$$

$$= 50\pi + \pi \int_2^6 (33 - 4x) \, dx = 50\pi + \pi(33x - 2x^2)|_2^6$$

$$= 50\pi + \pi(33(6) - 72 - 66 + 8)$$

$$= 118\pi$$

$$y = x^3 - 5x^2 + 3x + 10$$

$$f'(x) = 3x^2 - 10x + 3 = 0 \Rightarrow (3x - 1)(x - 3) = 0 \Rightarrow x = \frac{1}{3}, x = 3$$

28

نقطة القيمة العظمى هي:

$$B\left(\frac{1}{3}, f\left(\frac{1}{3}\right)\right) = \left(\frac{1}{3}, \frac{283}{27}\right)$$

$$C(3, f(3)) = (3, 1)$$

نقطة القيمة الصغرى هي:

النقطة  $A$  تقع على محور  $y$  إذن إحداثياتها هما:

$$A(0, f(0)) = (0, 10)$$

ميل المنحنى عند  $A$  هو:

$$\left.\frac{dy}{dx}\right|_{x=0} = 0 - 0 + 3 = 3$$

29

معادلة مماس المنحنى  $f(x)$  عند النقطة  $A$  هي (حيث  $f'(0) = 3$ ):

$$y - 10 = 3(x - 0) \Rightarrow y = 3x + 10$$

وهذه المعادلة هي معادلة المستقيم  $\overline{AD}$  نفسها.

إذن،  $\overline{AD}$  مماس لمنحنى  $f(x)$  عند النقطة  $A$ .

$$A = \int_0^3 (3x + 10 - (x^3 - 5x^2 + 3x + 10)) dx$$

30

$$= \int_0^3 (5x^2 - x^3) dx = \left(\frac{5}{3}x^3 - \frac{1}{4}x^4\right)\Big|_0^3 = 45 - \frac{81}{4} - 0 = \frac{99}{4}$$

$$f(x) = g(x) \Rightarrow \cos x = \sin x \Rightarrow \tan x = 1 \Rightarrow x = \frac{\pi}{4} \text{ or } x = \frac{5\pi}{4}$$

31

نلاحظ من الرسم المعطى أن  $x$  تقع في الفترة  $(0, \frac{\pi}{2})$ .

$$\left(\frac{\pi}{4}, f\left(\frac{\pi}{4}\right)\right) = \left(\frac{\pi}{4}, \frac{1}{\sqrt{2}}\right)$$

إذن، إحداثيات النقطة  $A$  هما:

$$A(R_1) = \int_0^{\frac{\pi}{4}} (\cos x - \sin x) dx$$

$$= (\sin x + \cos x) \Big|_0^{\frac{\pi}{4}} = \frac{1}{\sqrt{2}} + \frac{1}{\sqrt{2}} - (0 + 1) = \sqrt{2} - 1$$

$$A(R_2) = \int_0^{\frac{\pi}{4}} \sin x dx + \int_{\frac{\pi}{4}}^{\frac{\pi}{2}} \cos x dx$$

$$= -\cos x \Big|_0^{\frac{\pi}{4}} + \sin x \Big|_{\frac{\pi}{4}}^{\frac{\pi}{2}} = -\frac{1}{\sqrt{2}} + 1 + 1 - \frac{1}{\sqrt{2}} = 2 - \sqrt{2}$$

$$A(R_3) = \int_{\frac{\pi}{4}}^{\frac{\pi}{2}} (\sin x - \cos x) dx + \int_{\frac{\pi}{2}}^{\pi} \sin x dx$$

$$= (-\cos x - \sin x) \Big|_{\frac{\pi}{4}}^{\frac{\pi}{2}} + (-\cos x) \Big|_{\frac{\pi}{2}}^{\pi} = \sqrt{2}$$

$$= -0 - 1 - \left(-\frac{1}{\sqrt{2}} - \frac{1}{\sqrt{2}}\right) + (-(-1) + 0) = \sqrt{2}$$

32

33

$$\frac{A(R_1)}{A(R_2)} = \frac{\sqrt{2} - 1}{2 - \sqrt{2}} = \frac{\sqrt{2} - 1}{\sqrt{2}(\sqrt{2} - 1)} = \frac{1}{\sqrt{2}} = \frac{\sqrt{2}}{2}$$

إذن،  $A(R_1): A(R_2) = \sqrt{2}: 2$

$$y = x^r, y' = rx^{r-1}$$

ميل المماس عند  $(1, 1)$  هو:

$$y' \Big|_{x=1} = r(1)^{r-1} = r$$

معادلة المماس هي:

34

$$y - 1 = r(x - 1) \Rightarrow y = rx + 1 - r$$

لإيجاد المقطع  $x$  لهذا المماس نضع  $y = 0$  في معادلته:

$$0 = rx + 1 - r \Rightarrow x = \frac{r - 1}{r}$$

إذن، يقطع هذا المماس المحور  $x$  في النقطة  $\left(\frac{r-1}{r}, 0\right)$



مساحة المنطقة  $R$  تساوي المساحة بين المنحنى والمحور  $x$  والمستقيمين  $x=0$ ,  $x=1$  مطروحاً منها مساحة المثلث الذي رؤوسه  $(\frac{r-1}{r}, 0)$ ,  $(1, 1)$ ,  $(1, 0)$ ، أي أنّ  $A(R)$  هي:

35

$$A(R) = \int_0^1 x^r dx - \frac{1}{2} \left(1 - \frac{r-1}{r}\right) (1)$$

$$= \frac{x^{r+1}}{r+1} \Big|_0^1 - \frac{1}{2r} = \frac{1}{r+1} - \frac{1}{2r} = \frac{2r - r - 1}{2r(r+1)} = \frac{r-1}{2r(r+1)}$$

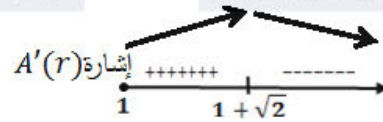
36

$$A(r) = \frac{r-1}{2r^2 + 2r}, r \geq 1$$

$$A'(r) = \frac{2r^2 + 2r - (r-1)(4r+2)}{(2r^2 + 2r)^2} = \frac{-2(r^2 - 2r - 1)}{(2r^2 + 2r)^2} = 0$$

$$\Rightarrow r^2 - 2r - 1 = 0 \Rightarrow r = \frac{2 \pm \sqrt{8}}{2} = \frac{2 \pm 2\sqrt{2}}{2} = 1 \pm \sqrt{2}$$

ولأن  $r \geq 1$  تكون القيمة الحرجة  $1 + \sqrt{2}$



إذن، قيمة  $r$  التي تجعل المساحة أكبر ما يمكن هي:  $r = 1 + \sqrt{2}$

37

$$f'(x) = 2x - 4$$

$$f'(1) = -2$$

ميل المماس عند النقطة  $(1, 3)$  هو:

ميل العمودي على المماس عند النقطة  $(1, 3)$  هو:  $\frac{1}{2}$

$$y - 3 = \frac{1}{2}(x - 1) \Rightarrow y = \frac{1}{2}x + \frac{5}{2}$$

معادلة العمودي:

نجد نقاط تقاطع المنحنى والعمودي على المماس:

$$x^2 - 4x + 6 = \frac{1}{2}x + \frac{5}{2} \Rightarrow 2x^2 - 9x + 7 = 0$$

$$\Rightarrow (2x - 7)(x - 1) = 0 \Rightarrow x = \frac{7}{2}, x = 1$$

$$\Rightarrow P\left(\frac{7}{2}, f\left(\frac{7}{2}\right)\right) = \left(\frac{7}{2}, \frac{17}{4}\right)$$

38

$$\begin{aligned}
 A &= \int_1^{\frac{7}{2}} \left( \frac{1}{2}x + \frac{5}{2} - (x^2 - 4x + 6) \right) dx \\
 &= \int_1^{\frac{7}{2}} \left( \frac{9}{2}x - \frac{7}{2} - x^2 \right) dx = \left( \frac{9}{4}x^2 - \frac{7}{2}x - \frac{1}{3}x^3 \right) \Big|_1^{\frac{7}{2}} \\
 &= \left( \frac{9}{4} \left( \frac{7}{2} \right)^2 - \frac{7}{2} \left( \frac{7}{2} \right) - \frac{1}{3} \left( \frac{7}{2} \right)^3 \right) - \left( \frac{9}{4} - \frac{7}{2} - \frac{1}{3} \right) \\
 &= \frac{125}{48} \approx 2.604
 \end{aligned}$$

39

$$\int_{-1}^1 (k(1-x^2) - 2k(x^2-1)) dx = 8$$

$$\Rightarrow \int_{-1}^1 (k(1-x^2) + 2k(1-x^2)) dx = 8$$

$$\Rightarrow 3k \int_{-1}^1 (1-x^2) dx = 8$$

$$3k \left( x - \frac{1}{3}x^3 \right) \Big|_{-1}^1 = 8$$

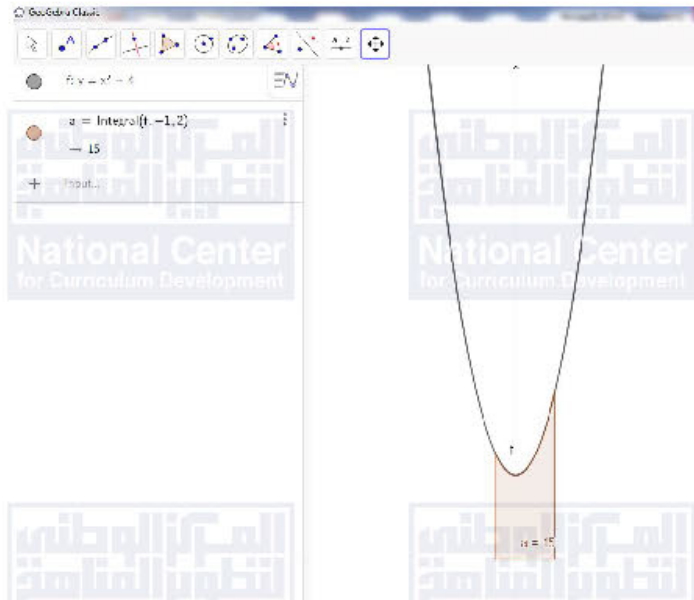
$$3k \left( \left( 1 - \frac{1}{3} \right) - \left( -1 + \frac{1}{3} \right) \right) = 8$$

$$3k \left( 2 - \frac{2}{3} \right) = 8$$

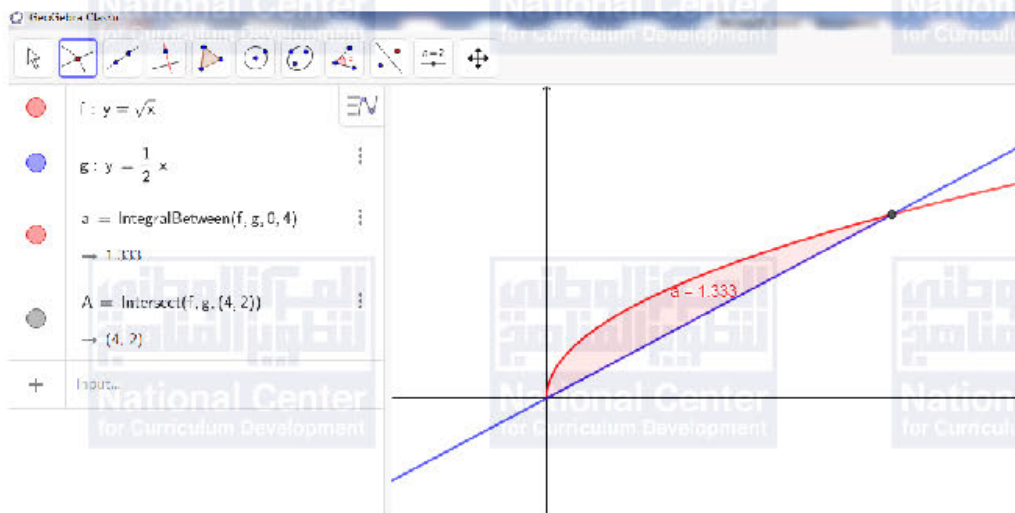
$$3k \left( \frac{4}{3} \right) = 8$$

$$\Rightarrow k = 2$$

1



2



مسألة اليوم صفحة 91

$$\frac{dA}{dt} = 2(20 - A)$$

$$\int \frac{dA}{20 - A} = \int 2 dt$$

$$-\ln|20 - A| = 2t + K \quad (K \text{ هو ثابت التكامل})$$

$$-\ln 15 = 0 + K \Rightarrow K = -\ln 15 \quad (\text{بتعويض الزمن } 0 \text{ ودرجة الحرارة } 15)$$

$$\Rightarrow -\ln|20 - A| = 2t - \ln 15$$

$$\Rightarrow \ln \left| \frac{15}{20 - A} \right| = 2t$$

إن، يمكن نمذجة درجة الحرارة  $C$  بعد  $t$  ساعة بالعلاقة الآتية:

$$\ln \left| \frac{15}{20 - A} \right| = 2t$$

2

نعوض  $A = 18$  في العلاقة:  $\ln \left| \frac{15}{20 - A} \right| = 2t$  فينتج:

$$\ln \left| \frac{15}{20 - 18} \right| = 2t \Rightarrow t = \frac{1}{2} \ln \frac{15}{2} = \frac{\ln 15 - \ln 2}{2} \approx 1$$

إن، تصبح درجة حرارة السائل  $18^\circ\text{C}$  بعد مرور ساعة واحدة تقريبًا بعد وضعه في الغرفة.

اتحقق من فهمي صفحة 92

a

$$y' = 4e^x + 15e^{3x}$$

$$y'' = 4e^x + 45e^{3x}$$

$$y'' - 4y' + 3y = 4e^x + 45e^{3x} - 4(4e^x + 15e^{3x}) + 3(4e^x + 5e^{3x}) = 0$$

$$y'' - 4y' + 3y = 0 \quad \text{إن } y = 4e^x + 5e^{3x} \text{ حل للمعادلة التفاضلية}$$

b

$$y' = \cos x$$

$$y'' = -\sin x$$

$$y'' - 4y' + 3y = -\sin x - 4\cos x + 3\sin x = 2\sin x - 4\cos x \neq 0$$

$$y'' - 4y' + 3y = 0 \quad \text{إن } y = \sin x \text{ ليس حلًا للمعادلة التفاضلية}$$

اتحقق من فهمي صفحة 94

$$\frac{dy}{dx} = 5\sec^2 x - \frac{3}{2}\sqrt{x} \Rightarrow dy = \left(5\sec^2 x - \frac{3}{2}\sqrt{x}\right) dx$$

$$\int dy = \int \left(5\sec^2 x - \frac{3}{2}\sqrt{x}\right) dx$$

$$y = 5 \tan x - x^{\frac{3}{2}} + C$$

الحل العام لهذه المعادلة هو:

لإيجاد الحل الخاص نعوض النقطة (0, 7) في الحل العام:

$$7 = 0 - 0 + C \Rightarrow C = 7$$

الحل الخاص للمعادلة التفاضلية الذي يحقق النقطة (0, 7) هو:

$$y = 5 \tan x - x^{\frac{3}{2}} + 7$$

اتحقق من فهمي صفحة 96

$$\frac{dy}{dx} = \frac{2x}{y^4} \Rightarrow 2x dx = y^4 dy$$

$$\Rightarrow \int 2x dx = \int y^4 dy \Rightarrow \frac{1}{5}y^5 = x^2 + C$$

$$\frac{dy}{dx} = 2x - xe^y \Rightarrow \frac{dy}{dx} = x(2 - e^y)$$

$$\Rightarrow \frac{dy}{2 - e^y} = x dx$$

$$\Rightarrow \int x dx = \int \frac{1}{2 - e^y} \times \frac{e^{-y}}{e^{-y}} dy$$

$$\Rightarrow \int x dx = -\frac{1}{2} \int \frac{-2e^{-y}}{2e^{-y} - 1} dy$$

$$\Rightarrow \frac{x^2}{2} = -\frac{1}{2} \ln|2e^{-y} - 1| + C \Rightarrow x^2 = -\ln|2e^{-y} - 1| + C$$

$$\frac{dy}{dx} = \frac{x \sin x}{y} \Rightarrow y dy = x \sin x dx$$

$$\Rightarrow \int y dy = \int x \sin x dx$$

نجد  $\int x \sin x dx$  بالأجزاء:

$$u = x \quad dv = \sin x dx$$

$$du = dx \quad v = -\cos x$$

$$\Rightarrow \int y dy = \int x \sin x dx$$

$$\Rightarrow \frac{1}{2} y^2 = -x \cos x - \int -\cos x dx$$

$$\Rightarrow \frac{1}{2} y^2 = -x \cos x + \sin x + C$$

$$\sin^2 x \frac{dy}{dx} = y^2 \cos^2 x$$

$$\sin^2 x dy = y^2 \cos^2 x dx$$

$$\frac{dy}{y^2} = \frac{\cos^2 x}{\sin^2 x} dx \Rightarrow \int y^{-2} dy = \int \cot^2 x dx$$

$$\int y^{-2} dy = \int (\csc^2 x - 1) dx$$

$$d \Rightarrow \frac{-1}{y} = -\cot x - x + C \Rightarrow \frac{1}{y} = x + \cot x + C$$

أتحقق من فهمي صفحة 98

$$dy = xy^2 e^{2x} dx$$

$$\int \frac{dy}{y^2} = \int xe^{2x} dx$$

نجد  $\int xe^{2x} dx$  بالأجزاء:

$$u = x$$

$$dv = e^{2x} dx$$

$$du = dx$$

$$v = \frac{1}{2} e^{2x}$$

a

$$\Rightarrow \int \frac{dy}{y^2} = \frac{1}{2} xe^{2x} - \int \frac{1}{2} e^{2x} dx$$

$$\Rightarrow -\frac{1}{y} = \frac{1}{2} xe^{2x} - \frac{1}{4} e^{2x} + C$$

الحل العام هو:

$$-1 = -\frac{1}{4} + C \Rightarrow C = -\frac{3}{4}$$

بتعويض (0, 1)

$$-\frac{1}{y} = \frac{1}{2} xe^{2x} - \frac{1}{4} e^{2x} - \frac{3}{4}$$

الحل الخاص هو:

$$\frac{dy}{y} = \cos x dx$$

$$\int \frac{dy}{y} = \int \cos x dx \Rightarrow \ln|y| = \sin x + C$$

الحل العام هو :

b

$$0 = 1 + C \Rightarrow C = -1$$

بتعويض  $(\frac{\pi}{2}, 1)$

$$\ln|y| = \sin x - 1$$

الحل الخاص:

أتحقق من فهمي صفحة 100

$$\frac{ds}{dt} = st\sqrt{t+1} \Rightarrow \frac{ds}{s} = t\sqrt{t+1}dt$$

$$\int \frac{ds}{s} = \int t\sqrt{t+1}dt$$

$$u = t + 1 \Rightarrow du = dt, \quad t = u - 1$$

$$\begin{aligned} \int t\sqrt{t+1}dt &= \int (u-1)\sqrt{u}du = \int (u-1)u^{\frac{1}{2}}du = \int (u^{\frac{3}{2}} - u^{\frac{1}{2}})du \\ &= \frac{2}{5}u^{\frac{5}{2}} - \frac{2}{3}u^{\frac{3}{2}} + C \\ &= \frac{2}{5}(t+1)^{\frac{5}{2}} - \frac{2}{3}(t+1)^{\frac{3}{2}} + C \end{aligned}$$

$$\int \frac{ds}{s} = \int t\sqrt{t+1}dt$$

$$\Rightarrow \ln|s| = \frac{2}{5}(t+1)^{\frac{5}{2}} - \frac{2}{3}(t+1)^{\frac{3}{2}} + C$$

الموقع  $s(t)$  لا يمكن أن يكون 0 لأن  $\ln 0$  غير معرف ولا يمكن أن يكون سالبًا لأن  $s(0) = 1$

واقتران الموقع متصل، ولذا يمكننا أن نحذف رمز القيمة المطلقة ونعتبر  $\ln|s| = \ln s$

بتعويض  $s=1$  عندما  $t=0$  ينتج:

$$0 = \frac{2}{5} - \frac{2}{3} + C \Rightarrow C = \frac{4}{15}$$

$$\Rightarrow \ln s = \frac{2}{5}(t+1)^{\frac{5}{2}} - \frac{2}{3}(t+1)^{\frac{3}{2}} + \frac{4}{15}$$

نعوض  $t=3$  لنجد  $s$  الموقع المطلوب:

$$\ln s(3) = \frac{64}{5} - \frac{16}{3} + \frac{4}{15} = \frac{116}{15} \Rightarrow s(3) = e^{\frac{116}{15}}$$

اتحقق من فهمي صفحة 102



$$\frac{dP}{dt} = \frac{1}{20000} P(1000 - P)$$

$$\int \frac{dP}{P(1000 - P)} = \int \frac{1}{20000} dt$$

بتجزئة الكسر داخل التكامل في الطرف الأيسر:

$$\int \left( \frac{1}{1000} + \frac{1}{1000 - P} \right) dP = \int \frac{1}{20000} dt$$

$$a \quad \frac{1}{1000} \ln |P| - \frac{1}{1000} \ln |1000 - P| = \frac{1}{20000} t + C \quad \text{حل عام:}$$

$$20 \ln |P| - 20 \ln |1000 - P| = t + C$$

$$20 \ln \left| \frac{P}{1000 - P} \right| = t + C$$

بتعويض  $P = 2500$  عند  $t = 0$  ينتج:

$$C = 20 \ln \frac{2500}{1500} = 20 \ln \frac{5}{3}$$

$$\Rightarrow 20 \ln \left| \frac{P}{1000 - P} \right| = t + 20 \ln \frac{5}{3}$$

نعوض  $P = 1800$  في المعادلة الأخيرة:

$$b \quad \Rightarrow 20 \ln \left( \frac{9}{4} \right) = t + 20 \ln \frac{5}{3} \Rightarrow t = 20 \ln \frac{27}{20} \approx 6$$

إذن، يصبح عدد الغزلان 1800 غزال بعد 6 سنوات تقريبًا من بدء الدراسة.

**أتدرب وأحل المسائل صفحة 102**

$$y' = \frac{1}{2\sqrt{x}}$$

$$1 \quad xy' - y = x \frac{1}{2\sqrt{x}} - \sqrt{x} = \frac{1}{2} \sqrt{x} - \sqrt{x} = -\frac{1}{2} \sqrt{x} \neq 0$$

إذن،  $y = \sqrt{x}$  ليس حلًا للمعادلة التفاضلية  $xy' - y = 0$

2	$y' = x \left( \frac{1}{x} \right) + \ln x - 5 = \ln x - 4$ $y'' = \frac{1}{x}$ $y'' - \frac{1}{x} = \frac{1}{x} - \frac{1}{x} = 0$ <p>إن <math>y = x \ln x - 5x + 7</math> هو حل للمعادلة التفاضلية <math>y'' - \frac{1}{x} = 0</math></p>
3	$y' = \sec^2 x$ $y' + y^2 = \sec^2 x + \tan^2 x = 1 + 2\tan^2 x \neq 1$ <p>إن <math>y = \tan x</math> ليس حلاً للمعادلة التفاضلية <math>y' + y^2 = 1</math></p>
4	$y' = e^x + 3xe^x + 3e^x = 4e^x + 3xe^x$ $y'' = 4e^x + 3xe^x + 3e^x = 7e^x + 3xe^x$ $y'' - 2y' + y = 7e^x + 3xe^x - 8e^x - 6xe^x + e^x + 3xe^x = 0$ <p>إن <math>y = e^x + 3xe^x</math> هو حل للمعادلة التفاضلية <math>y'' - 2y' + y = 0</math></p>
5	$\frac{dy}{dx} = 3x\sqrt{y}$ $\frac{dy}{\sqrt{y}} = 3x dx \Rightarrow \int \frac{dy}{\sqrt{y}} = \int 3x dx$ $\Rightarrow 2y^{\frac{1}{2}} = \frac{3}{2}x^2 + C$
6	$\frac{dy}{dx} = -\frac{3x}{y^2} \Rightarrow y^2 dy = -3x dx$ $\int y^2 dy = \int -3x dx$ $\Rightarrow \frac{1}{3}y^3 = -\frac{3}{2}x^2 + C$

$$\frac{dy}{dx} = \cos x \sin y$$

$$\frac{dy}{\sin y} = \cos x dx$$

$$\Rightarrow \int \csc y dy = \int \cos x dx$$

نجد  $\int \csc y dy$  على النحو الآتي:

$$\int \csc y dy = \int \csc y \times \frac{\csc y + \cot y}{\csc y + \cot y} dy$$

$$= \int \frac{\csc^2 y + \csc y \cot y}{\csc y + \cot y} dy$$

$$= - \int \frac{-(\csc^2 y + \csc y \cot y)}{\csc y + \cot y} dy = - \ln |\csc y + \cot y|$$

$$\Rightarrow - \ln |\csc y + \cot y| = \sin x + C$$

إذن، حل هذه المعادلة هو:

$$dy = \frac{x}{(x^2 + 1)^2} dx$$

$$\int dy = \int \frac{x}{(x^2 + 1)^2} dx$$

$$u = x^2 + 1 \Rightarrow dx = \frac{du}{2x}$$

$$\Rightarrow \int \frac{x}{(x^2 + 1)^2} dx = \int \frac{x du}{u^2 2x} = \frac{1}{2} \int \frac{1}{u^2} du$$

$$= -\frac{1}{2u} + C = -\frac{1}{2(x^2 + 1)} + C$$

$$\Rightarrow \int dy = \int \frac{x}{(x^2 + 1)^2} dx \Rightarrow y = -\frac{1}{2(x^2 + 1)} + C$$

بالتعويض:

$$\frac{dy}{dx} = xe^x e^y \Rightarrow \frac{dy}{e^y} = xe^x dx$$

$$\int \frac{dy}{e^y} = \int xe^x dx$$

$$\Rightarrow \int e^{-y} dy = \int xe^x dx$$

$$\Rightarrow -e^{-y} = \int xe^x dx$$

9

لإيجاد  $\int xe^x dx$  نستخدم الأجزاء:

$$u = x \quad dv = e^x dx$$

$$du = dx \quad v = e^x$$

$$\Rightarrow \int xe^x dx = xe^x - \int e^x dx = xe^x - e^x + C$$

$$\Rightarrow -e^{-y} = xe^x - e^x + C$$

$$\frac{dy}{y^2} = \frac{x^{-2}}{e^{-\frac{1}{x}}} dx = \frac{e^{\frac{1}{x}}}{x^2} dx$$

$$\int y^{-2} dy = \int \frac{e^{\frac{1}{x}}}{x^2} dx$$

$$\Rightarrow -y^{-1} = \int \frac{e^{\frac{1}{x}}}{x^2} dx$$

10

لإيجاد  $\int \frac{e^{\frac{1}{x}}}{x^2} dx$  نستخدم التعويض:

$$u = \frac{1}{x} \Rightarrow \frac{du}{dx} = -\frac{1}{x^2} \Rightarrow dx = -x^2 du$$

$$\Rightarrow \int \frac{e^{\frac{1}{x}}}{x^2} dx = \int \frac{e^u}{x^2} \times -x^2 du = \int -e^u du = -e^u + C = -e^{\frac{1}{x}} + C$$

$$-y^{-1} = \int \frac{e^{\frac{1}{x}}}{x^2} dx \Rightarrow \frac{1}{y} = e^{\frac{1}{x}} + C$$

11	$\frac{dy}{y} = \frac{x}{x-3} dx$ $\int \frac{dy}{y} = \int \frac{x}{x-3} dx$ $\int \frac{dy}{y} = \int \left(1 + \frac{3}{x-3}\right) dx$ $\ln y  = x + 3 \ln x-3  + C$
12	$\frac{dy}{\sin^2 y} = \frac{3x^2}{(x^3 + 2)} dx$ $\int \frac{dy}{\sin^2 y} = \int \frac{3x^2}{(x^3 + 2)} dx$ $\int \csc^2 y dy = \int \frac{3x^2}{x^3 + 2} dx$ $-\cot y = \ln x^3 + 2  + C$
13	$\frac{dy}{y^3} = \ln x dx$ $\int \frac{dy}{y^3} = \int \ln x dx$ <p style="text-align: right;">لايجاد <math>\int \ln x dx</math> نستخدم الأجزاء:</p> $u = \ln x \quad dv = dx$ $du = \frac{dx}{x} \quad v = x$ $\int \ln x dx = x \ln x - \int x \frac{dx}{x} = x \ln x - x + C$ $\Rightarrow \int y^{-3} dy = \int \ln x dx \Rightarrow -\frac{1}{2} y^{-2} = x \ln x - x + C$

$$\frac{dy}{y^2 - 1} = 2x^3 dx$$

$$\int \frac{dy}{y^2 - 1} = \int 2x^3 dx$$

لإيجاد  $\int \frac{dy}{y^2 - 1}$  نستخدم الكسور الجزئية:

$$\frac{1}{y^2 - 1} = \frac{1}{(y - 1)(y + 1)} = \frac{A}{y - 1} + \frac{B}{y + 1}$$

$$A(y + 1) + B(y - 1) = 1$$

$$y = 1 \Rightarrow A = \frac{1}{2}$$

$$y = -1 \Rightarrow B = -\frac{1}{2}$$

$$\Rightarrow \frac{1}{y^2 - 1} = \frac{\frac{1}{2}}{y - 1} + \frac{-\frac{1}{2}}{y + 1}$$

$$\Rightarrow \int \frac{dy}{y^2 - 1} = \int 2x^3 dx \Rightarrow \int \left( \frac{\frac{1}{2}}{y - 1} + \frac{-\frac{1}{2}}{y + 1} \right) dy = \int 2x^3 dx$$

$$\Rightarrow \frac{1}{2} \ln|y - 1| - \frac{1}{2} \ln|y + 1| = \frac{1}{2} x^4 + C$$

$$\Rightarrow \ln \left| \frac{y - 1}{y + 1} \right| = x^4 + C$$

14

$$y \, dy = \sin^3 x \cos^2 x \, dx$$

$$\int y \, dy = \int \sin^3 x \cos^2 x \, dx$$

لإيجاد  $\int \sin^3 x \cos^2 x \, dx$  نستخدم التعويض:

$$u = \cos x \Rightarrow dx = \frac{du}{-\sin x}$$

$$\int \sin^3 x \cos^2 x \, dx = \int \sin^3 x u^2 \frac{du}{-\sin x}$$

15

$$= \int -\sin^2 x u^2 \, du = \int (-1 + \cos^2 x) u^2 \, du$$

$$= \int (-1 + u^2) u^2 \, du = \int (u^4 - u^2) \, du$$

$$= \frac{1}{5} u^5 - \frac{1}{3} u^3 + C = \frac{1}{5} \cos^5 x - \frac{1}{3} \cos^3 x + C$$

$$\Rightarrow \int y \, dy = \int \sin^3 x \cos^2 x \, dx$$

$$\Rightarrow \frac{1}{2} y^2 = \frac{1}{5} \cos^5 x - \frac{1}{3} \cos^3 x + C$$

$$\frac{dy}{\sqrt{y}} = \sqrt{x} \, dx$$

$$\int \frac{dy}{\sqrt{y}} = \int \sqrt{x} \, dx$$

16

$$\int y^{-\frac{1}{2}} dy = \int x^{\frac{1}{2}} dx$$

$$2y^{\frac{1}{2}} = \frac{2}{3} x^{\frac{3}{2}} + C$$

$$\frac{dy}{y} = \ln x^{\frac{1}{2}} dx$$

$$\int \frac{dy}{y} = \int \ln x^{\frac{1}{2}} dx$$

$$\int \frac{dy}{y} = \int \frac{1}{2} \ln x dx$$

17

$$u = \ln x$$

$$dv = dx$$

$$du = \frac{dx}{x}$$

$$v = x$$

$$\int \ln x dx = x \ln x - \int x \frac{dx}{x} = x \ln x - x + C$$

$$\Rightarrow \int \frac{1}{2} \ln x dx = \frac{1}{2} x \ln x - \frac{1}{2} x + C$$

$$\int \frac{dy}{y} = \int \frac{1}{2} \ln x dx \Rightarrow \ln|y| = \frac{1}{2} x \ln x - \frac{1}{2} x + C$$

لإيجاد  $\int \ln x dx$  نستخدم الأجزاء:



$$(2x + 1)(x + 2)dy = -3(y - 2)dx$$

$$\int -\frac{1}{3} \frac{dy}{y - 2} = \int \frac{dx}{(2x + 1)(x + 2)}$$

لايجاد  $\int \frac{dx}{(2x+1)(x+2)}$  نستخدم الكسور الجزئية:

$$\frac{1}{(2x + 1)(x + 2)} = \frac{A}{2x + 1} + \frac{B}{x + 2}$$

$$A(x + 2) + B(2x + 1) = 1$$

$$x = -\frac{1}{2} \Rightarrow A = \frac{2}{3}$$

$$x = -2 \Rightarrow B = -\frac{1}{3}$$

18

$$\Rightarrow \frac{1}{(2x + 1)(x + 2)} = \frac{\frac{2}{3}}{2x + 1} + \frac{-\frac{1}{3}}{x + 2}$$

$$\Rightarrow \int -\frac{1}{3} \frac{dy}{y - 2} = \int \frac{dx}{(2x + 1)(x + 2)}$$

$$\Rightarrow -\frac{1}{3} \ln|y - 2| = \frac{1}{3} \ln|2x + 1| - \frac{1}{3} \ln|x + 2| + C$$

$$\Rightarrow -\ln|y - 2| = \ln|2x + 1| - \ln|x + 2| + C$$

$$\Rightarrow -\ln|y - 2| = \ln \left| \frac{2x + 1}{x + 2} \right| + C$$

19

$$\frac{dy}{dx} = y^2 \sqrt{4-x}$$

$$\frac{dy}{y^2} = \sqrt{4-x} dx$$

$$\int \frac{dy}{y^2} = \int \sqrt{4-x} dx$$

$$\int y^{-2} dy = \int (4-x)^{\frac{1}{2}} dx$$

$$-\frac{1}{y} = -\frac{2}{3}(4-x)^{\frac{3}{2}} + C \quad \text{الحل العام}$$

نجد الحل الخاص بتعويض (1, 2):

$$-\frac{1}{2} = -2\sqrt{3} + C \Rightarrow C = 2\sqrt{3} - \frac{1}{2}$$

$$-\frac{1}{y} = -\frac{2}{3}(4-x)^{\frac{3}{2}} + 2\sqrt{3} - \frac{1}{2}$$

الحل الخاص هو:

20

$$\frac{dy}{dx} = \frac{2\sin^2 x}{y}$$

$$y dy = 2\sin^2 x dx$$

$$\int y dy = \int 2\sin^2 x dx$$

$$\int y dy = \int (1 - \cos 2x) dx$$

$$\frac{1}{2}y^2 = x - \frac{1}{2} \sin 2x + C \quad \text{الحل العام}$$

نجد الحل الخاص بتعويض (0, 1):

$$\frac{1}{2} = 0 + C \Rightarrow C = \frac{1}{2}$$

$$\frac{1}{2}y^2 = x - \frac{1}{2} \sin 2x + \frac{1}{2}$$

الحل الخاص :

$$\frac{dy}{dx} = 2 \cos^2 x \cos^2 y$$

$$\frac{dy}{\cos^2 y} = 2 \cos^2 x dx$$

$$\int \frac{dy}{\cos^2 y} = \int 2 \cos^2 x dx$$

$$\int \sec^2 y dy = \int (1 + \cos 2x) dx$$

$$\tan y = x + \frac{1}{2} \sin 2x + C \quad \text{: الحل العام}$$

$$1 = 0 + 0 + C \quad \left(0, \frac{\pi}{4}\right) \quad \text{نجد الحل الخاص بتعويض}$$

$$C = 1$$

$$\tan y = x + \frac{1}{2} \sin 2x + 1 \quad \text{: الحل الخاص}$$

$$\frac{dy}{dx} = \frac{\cos x e^{\sin x}}{e^y}$$

$$\int e^y dy = \int \cos x e^{\sin x} dx$$

لإيجاد  $\int \cos x e^{\sin x} dx$  نستخدم التعويض:

$$u = \sin x \Rightarrow \frac{du}{dx} = \cos x \Rightarrow dx = \frac{du}{\cos x}$$

$$\int \cos x e^{\sin x} dx = \int \cos x e^u \times \frac{du}{\cos x} = \int e^u du = e^u + C$$

$$= e^{\sin x} + C$$

$$\Rightarrow \int e^y dy = \int \cos x e^{\sin x} dx$$

$$e^y = e^{\sin x} + C \quad \text{: الحل العام}$$

$$e^0 = e^0 + C$$

$$\Rightarrow C = 0$$

$$e^y = e^{\sin x}$$

نجد الحل الخاص بتعويض  $(\pi, 0)$ :

الحل الخاص:

$$\frac{dy}{dx} = \frac{8x - 18}{(3x - 8)(x - 2)}$$

$$\int dy = \int \frac{8x - 18}{(3x - 8)(x - 2)} dx$$

لإيجاد  $\int \frac{8x-18}{(3x-8)(x-2)} dx$  نستخدم الكسور الجزئية:

$$\frac{8x - 18}{(3x - 8)(x - 2)} = \frac{A}{3x - 8} + \frac{B}{x - 2}$$

$$A(x - 2) + B(3x - 8) = 8x - 18$$

$$x = 2 \Rightarrow B = 1$$

$$x = \frac{8}{3} \Rightarrow A = 5$$

$$\Rightarrow \frac{8x - 18}{(3x - 8)(x - 2)} = \frac{5}{3x - 8} + \frac{1}{x - 2}$$

$$\Rightarrow \int dy = \int \frac{8x - 18}{(3x - 8)(x - 2)} dx \Rightarrow y = \int \left( \frac{5}{3x - 8} + \frac{1}{x - 2} \right) dx$$

$$\Rightarrow y = \frac{5}{3} \ln|3x - 8| + \ln|x - 2| + C \quad \text{الحل العام:}$$

نجد الحل الخاص بتعويض (3, 8):

$$8 = 0 + 0 + C \Rightarrow C = 8$$

$$y = \frac{5}{3} \ln|3x - 8| + \ln|x - 2| + 8 \quad \text{الحل الخاص:}$$

23

$$\frac{dy}{dx} = \frac{1}{xy}$$

$$\int y dy = \int \frac{dx}{x}$$

$$\frac{1}{2}y^2 = \ln|x| + C$$

$$\frac{1}{2} = 1 + C$$

$$\Rightarrow C = -\frac{1}{2}$$

الحل العام:

نجد الحل الخاص بتعويض (1, e):

24

الحل الخاص هو:

$$\frac{1}{2}y^2 = \ln|x| - \frac{1}{2}$$

$$\frac{dv}{dt} = 10 - 0.5v$$

$$\frac{dv}{10 - 0.5v} = dt$$

$$\int \frac{dv}{10 - 0.5v} = \int dt$$

$$-2 \ln|10 - 0.5v| = t + C \Rightarrow \ln|10 - 0.5v| = -\frac{t}{2} + C$$

لإيجاد الحل الخاص نعوض  $v = 0$  و  $t = 0$  في الحل العام

$$\ln 10 = 0 + C \Rightarrow C = \ln 10$$

$$\Rightarrow \ln|10 - 0.5v| = -\frac{t}{2} + \ln 10 \Rightarrow \ln \left| \frac{10 - 0.5v}{10} \right| = -\frac{t}{2}$$

إن، يمكن نمذجة السرعة المتجهة للسيارة بعد  $t$  ثانية من بدء حركتها بالعلاقة الآتية:

$$\ln \left| \frac{10 - 0.5v}{10} \right| = -\frac{t}{2}$$

$$\frac{dN}{dt} = 260 - 0.4N = 0.4(650 - N)$$

$$\frac{dN}{650 - N} = 0.4dt$$

$$\int \frac{dN}{650 - N} = \int 0.4 dt$$

$$-\ln|650 - N| = 0.4t + C$$

لإيجاد الحل الخاص نعوض  $N = 300$ ، و  $t = 0$  في الحل العام

$$-\ln 350 = 0 + C \Rightarrow C = -\ln 350$$

$$\Rightarrow -\ln|650 - N| = 0.4t - \ln 350$$

$$\Rightarrow \ln \left| \frac{350}{650 - N} \right| = 0.4t$$

26

لا يمكن أن يكون  $N=650$  لأن  $\ln 0$  غير معرف ولأن  $N=300$  عندما  $t=0$  والاقتران  $N(t)$  متصل فلا يمكن أن يكون  $N$  أكبر من 650، ولذا فإن  $650 - N > 0$  ويكون  $|650 - N|$  مساوياً لـ

$650 - N$

$$\Rightarrow \ln \left| \frac{350}{650 - N} \right| = \ln \left( \frac{350}{650 - N} \right) = 0.4t$$

نعوض  $t=3$  ونجد  $N$

$$\ln \left( \frac{350}{650 - N} \right) = 1.2$$

$$\Rightarrow \frac{350}{650 - N} = e^{\frac{6}{5}} \Rightarrow \frac{650 - N}{350} = e^{-\frac{6}{5}}$$

$$N = 650 - 350e^{-\frac{6}{5}} \approx 545$$

إذن، بعد ثلاث سنوات يكون عدد الناب في تلك الغابة 545 نبتاً تقريباً.

27

$$\frac{dr}{dt} = -0.0075r^2$$

$$\int -\frac{dr}{r^2} = \int 0.0075 dt$$

$$\frac{1}{r} = 0.0075t + C$$

لإيجاد الحل الخاص نعوض  $r = 20$  و  $t = 0$  في الحل العام

$$\frac{1}{20} = 0 + C \Rightarrow C = \frac{1}{20}$$

$$\frac{1}{r} = 0.0075t + \frac{1}{20} \Rightarrow r = \frac{20}{1 + 0.15t}$$

28

$$10 = \frac{20}{1 + 0.15t} \Rightarrow 0.1 = \frac{1 + 0.15t}{20} \Rightarrow 2 = 1 + 0.15t$$

$$\Rightarrow t = \frac{1}{0.15} \approx 6.67 \text{ s}$$

إذن، يكون طول نصف قطر الكرة 10 cm بعد 6.67 ثانية تقريبًا بعد بدء انكماشها.

29

$$\int \frac{dn}{n} = \int 0.2(0.2 - \cos t) dt$$

$$\ln n = 0.2(0.2t - \sin t) + C$$

لإيجاد الحل الخاص نعوض  $n = 400$  و  $t = 0$  في الحل العام

$$\ln 400 = 0 + C \Rightarrow C = \ln 400$$

$$\ln n = 0.2(0.2t - \sin t) + \ln 400$$

$$\Rightarrow \ln \frac{n}{400} = 0.2(0.2t - \sin t) \Rightarrow n = 400e^{0.2(0.2t - \sin t)}$$

30

نعوض  $t = 3$  في المعادلة الأخيرة

$$n = 400e^{0.2(0.2t - \sin t)}$$

$$= 400e^{0.2(0.6 - \sin 3)}$$

$$\approx 400e^{0.12 - 0.028} \approx 400e^{0.092} \approx 439$$

إذن، بعد 3 أسابيع يكون عدد الحشرات 439 حشرة تقريبًا.

31

$$\frac{dy}{dx} = y \cos x$$

$$\int \frac{dy}{y} = \int \cos x \, dx$$

$$\Rightarrow \ln|y| = \sin x + C$$

$$0 = 0 + C \Rightarrow C = 0$$

$$\Rightarrow \ln|y| = \sin x$$

$$\Rightarrow y = e^{\sin x}$$

لإيجاد قيمة  $C$  نضع  $x=0$ ، و  $y=1$  في الحل العام

ملاحظة: منحنى الاقتران  $y = -e^{\sin x}$  لا يمر بالنقطة  $(0, 1)$ .



$$\int \frac{dy}{y} = \int \frac{dx}{x(x+1)}$$

لإيجاد  $\int \frac{dx}{x(x+1)}$  نستخدم الكسور الجزئية:

$$\frac{1}{x(x+1)} = \frac{A}{x} + \frac{B}{x+1}$$

$$A(x+1) + B(x) = 1$$

$$x = 0 \Rightarrow A = 1$$

$$x = -1 \Rightarrow B = -1$$

$$\Rightarrow \frac{1}{x(x+1)} = \frac{1}{x} + \frac{-1}{x+1}$$

32

$$\Rightarrow \int \frac{dy}{y} = \int \frac{dx}{x(x+1)} \Rightarrow \ln|y| = \int \left( \frac{1}{x} + \frac{-1}{x+1} \right) dx$$

$$\Rightarrow \ln|y| = \ln|x| - \ln|x+1| + C$$

لإيجاد قيمة  $C$  نضع  $x=1$  و  $y=3$  في الحل العام

$$\ln 3 = 0 - \ln 2 + C \Rightarrow C = \ln 3 + \ln 2 = \ln 6$$

$$\Rightarrow \ln|y| = \ln|x| - \ln|x+1| + \ln 6$$

$$\Rightarrow \ln|y| = \ln \left| \frac{6x}{x+1} \right|$$

$$\Rightarrow |y| = \left| \frac{6x}{x+1} \right| \Rightarrow y = \frac{6x}{x+1}$$

ملاحظة: منحنى الاقتران  $y = -\frac{6x}{x+1}$  لا يمر بالنقطة  $(1, 3)$

33

$$\frac{dy}{dx} = \frac{x}{y^2} - \frac{1}{y^2} + y - xy$$

$$\frac{dy}{dx} = \frac{1}{y^2}(x-1) - y(x-1) = (x-1)\left(\frac{1}{y^2} - y\right)$$

$$\Rightarrow \frac{dy}{\frac{1}{y^2} - y} = (x-1)dx$$

$$\int \frac{dy}{\frac{1}{y^2} - y} = \int (x-1)dx$$

$$\int \frac{y^2}{1-y^3} dy = \int (x-1)dx$$

$$\frac{-1}{3} \int \frac{-3y^2}{1-y^3} dy = \int (x-1)dx$$

$$\frac{-1}{3} \ln|1-y^3| = \frac{1}{2}x^2 - x + C$$

34

$$\frac{dy}{dx} = x \left( \frac{1}{2y-1} - \frac{2}{3y-2} \right) = x \left( \frac{3y-2-4y+2}{6y^2-7y+2} \right) = x \left( \frac{-y}{6y^2-7y+2} \right)$$

$$\Rightarrow \frac{6y^2-7y+2}{-y} dy = x dx$$

$$\int \frac{6y^2-7y+2}{-y} dy = \int x dx$$

$$\int \left( -6y + 7 - \frac{2}{y} \right) dy = \int x dx$$

$$-3y^2 + 7y - 2 \ln|y| = \frac{1}{2}x^2 + C$$

35

$$\begin{aligned}\frac{dy}{dx} &= 1 + \tan^2 x + \tan^2 y + \tan^2 x \tan^2 y \\ &= \sec^2 x + \tan^2 y (1 + \tan^2 x) \\ &= \sec^2 x + \tan^2 y \sec^2 x \\ &= \sec^2 x (1 + \tan^2 y) \\ &= \sec^2 x \sec^2 y\end{aligned}$$

$$\frac{dy}{\sec^2 y} = \sec^2 x dx$$

$$\int \frac{dy}{\sec^2 y} = \int \sec^2 x dx$$

$$\int \cos^2 y dy = \int \sec^2 x dx$$

$$\int \frac{1}{2} (1 + \cos 2y) dy = \int \sec^2 x dx$$

$$\frac{1}{2} \left( y + \frac{1}{2} \sin 2y \right) = \tan x + C$$

36

$$\frac{dx}{dt} = -\lambda x$$

$$\int \frac{dx}{x} = \int -\lambda dt$$

$$\ln|x| = -\lambda t + C$$

لكن الكمية  $x$  لا تكون سالبة، فنحذف رمز القيمة المطلقة.

$$\Rightarrow \ln x = -\lambda t + C$$

$$x = e^{-\lambda t + C} = e^{-\lambda t} \times e^C, \text{ } e^C \text{ ثابت ليكن } a$$

$$\Rightarrow x = ae^{-\lambda t}$$

37	<p>الكمية الابتدائية <math>x(0) = a</math></p> <p>المطلوب: حساب الزمن الذي تكون عنده <math>x = \frac{1}{2}a</math> ، نعوض:</p> $\frac{1}{2}a = ae^{-\lambda t} \Rightarrow \frac{1}{2} = e^{-\lambda t} \Rightarrow 2 = e^{\lambda t} \Rightarrow \lambda t = \ln 2 \Rightarrow t = \frac{\ln 2}{\lambda}$
38	<p>لكي تكون العلاقة <math>x^2 + ny^2 = a</math> حلاً للمعادلة التفاضلية المعطاة، يجب أن تحققها.</p> <p>نشتق طرفي العلاقة بالنسبة للمتغير <math>x</math></p> $2x + 2ny \frac{dy}{dx} = 0 \Rightarrow \frac{dy}{dx} = -\frac{x}{ny}$ <p>نعوض المشتقة في المعادلة التفاضلية:</p> $-\frac{x}{ny} = -\frac{2x}{3y} \Rightarrow 2nxy = 3xy$ $\Rightarrow n = \frac{3xy}{2xy} = \frac{3}{2}$
39	<p>النقطة (5, 4) تحقق العلاقة:</p> $\Rightarrow 25 + \frac{3}{2}(16) = a \Rightarrow a = 49$ $\Rightarrow x^2 + \frac{3}{2}y^2 = 49$ <p>لإيجاد الإحداثي <math>x</math> لنقاط تقاطع منحنى العلاقة مع المحور <math>x</math> نضع <math>y = 0</math> في معادلتها</p> $\Rightarrow x^2 = 0 + 49 = 49 \Rightarrow x = \pm 7$ <p>إحداثيات نقطتي تقاطع العلاقة <math>x^2 + \frac{3}{2}y^2 = 49</math> مع المحور <math>x</math> هما <math>(7, 0)</math> و <math>(-7, 0)</math></p>

اختبار نهاية الوحدة صفحة 105

1	$\int_0^2 e^{2x} = \frac{1}{2} e^{2x} \Big _0^2 = \frac{1}{2} e^4 - \frac{1}{2} \dots \dots \dots (d)$
2	$\int_{-4}^4 (4 -  x ) dx = \int_{-4}^0 (4 + x) dx + \int_0^4 (4 - x) dx$ $= \left(4x + \frac{1}{2}x^2\right) \Big _{-4}^0 + \left(4x - \frac{1}{2}x^2\right) \Big _0^4$ $= -(-16 + 8) + (16 - 8)$ $= 16 \dots \dots \dots (c)$
3	$A = \int_{-1}^2 (x^3 - 3x^2 + 4 - (x^2 - x - 2)) dx$ $= \int_{-1}^2 (x^3 - 4x^2 + x + 6) dx \dots \dots \dots (a)$
4	$\int \frac{dy}{y} = \int 2x dx \Rightarrow \ln y  = x^2 + C$ $(0, 1) \Rightarrow 0 = 0 + C \Rightarrow C = 0$ $\Rightarrow \ln y  = x^2 \Rightarrow  y  = e^{x^2}$ <p>ولكن <math>y = -e^{x^2}</math> لا يحقق النقطة <math>(0, 1)</math>، إذن، الحل هو <math>y = e^{x^2}</math> ..... (a)</p>
5	$\int \frac{1}{\sqrt{e^x}} dx = \int e^{-\frac{1}{2}x} dx = -2e^{-\frac{1}{2}x} + C$
6	$\int \left( \tan 2x + e^{3x} - \frac{1}{x} \right) dx = \int \left( -\frac{1}{2} \times \frac{-2 \sin 2x}{\cos 2x} + e^{3x} - \frac{1}{x} \right) dx$ $= -\frac{1}{2} \ln \cos 2x  + \frac{1}{3} e^{3x} - \ln x  + C$

7	$\int \csc^2 x (1 + \tan^2 x) dx = \int \left( \csc^2 x + \frac{1}{\sin^2 x} \times \frac{\sin^2 x}{\cos^2 x} \right) dx$ $= \int (\csc^2 x + \sec^2 x) dx$ $= -\cot x + \tan x + C$
8	$\int \frac{e^{2x}}{e^{2x} + 5} dx = \frac{1}{2} \int \frac{2e^{2x}}{e^{2x} + 5} dx = \frac{1}{2} \ln(e^{2x} + 5) + C$
9	$\int \frac{2x^2 + 7x - 3}{x - 2} dx = \int \left( 2x + 11 + \frac{19}{x - 2} \right) dx$ $= x^2 + 11x + 19 \ln x - 2  + C$
10	$\int \sec^2(2x - 1) dx = \frac{1}{2} \tan(2x - 1) + C$
11	$\int \cot(5x + 1) dx = \frac{1}{5} \int \frac{5 \cos(5x + 1)}{\sin(5x + 1)} dx = \frac{1}{5} \ln \sin(5x + 1)  + C$
12	$\int_0^{\frac{\pi}{2}} \sin x \cos x = \frac{1}{2} \int_0^{\frac{\pi}{2}} \sin 2x = -\frac{1}{4} \cos 2x \Big _0^{\frac{\pi}{2}} = -\frac{1}{4}(-1 - 1) = \frac{1}{2}$
13	$\int_0^{\pi} \cos^2 \frac{1}{2} x dx = \frac{1}{2} \int_0^{\pi} (1 + \cos x) dx$ $= \frac{1}{2} (x + \sin x) \Big _0^{\pi} = \frac{1}{2} ((\pi) + (0)) - 0 = \frac{\pi}{2}$
14	$\int_0^2  x^3 - 1  dx = \int_0^1 (1 - x^3) dx + \int_1^2 (x^3 - 1) dx$ $= \left( x - \frac{1}{4} x^4 \right) \Big _0^1 + \left( \frac{1}{4} x^4 - x \right) \Big _1^2 = \left( \frac{3}{4} \right) + \left( 4 - 2 + \frac{3}{4} \right) = \frac{7}{2}$
15	$\int_0^{\frac{\pi}{4}} (\sec^2 x + \cos 4x) dx = \left( \tan x + \frac{1}{4} \sin 4x \right) \Big _0^{\frac{\pi}{4}} = (1) - (0) = 1$

16	$\int_0^{\frac{\pi}{3}} \left( \sin \left( 2x + \frac{\pi}{3} \right) - 1 + \cos 2x \right) dx$ $= \left( -\frac{1}{2} \cos \left( 2x + \frac{\pi}{3} \right) - x + \frac{1}{2} \sin 2x \right) \Big _0^{\frac{\pi}{3}} = \left( \frac{1}{2} - \frac{\pi}{3} + \frac{\sqrt{3}}{4} \right) - \left( -\frac{1}{4} \right)$ $= \frac{3 + \sqrt{3}}{4} - \frac{\pi}{3}$
17	$\int_0^{\frac{\pi}{8}} \sin 2x \cos 2x dx = \frac{1}{2} \int_0^{\frac{\pi}{8}} \sin 4x dx = -\frac{1}{8} \cos 4x \Big _0^{\frac{\pi}{8}} = 0 - \left( -\frac{1}{8} \right) = \frac{1}{8}$
18	$\int \frac{4}{x^2 - 4} dx = \int \frac{4}{(x-2)(x+2)} dx$ $\frac{4}{(x-2)(x+2)} = \frac{A}{x-2} + \frac{B}{x+2}$ $A(x+2) + B(x-2) = 4$ $x = 2 \Rightarrow A = 1$ $x = -2 \Rightarrow B = -1$ $\frac{4}{(x-2)(x+2)} = \frac{1}{x-2} + \frac{-1}{x+2}$ $\int \frac{4}{x^2 - 4} dx = \int \frac{4}{(x-2)(x+2)} dx$ $= \int \left( \frac{1}{x-2} + \frac{-1}{x+2} \right) dx$ $= \ln x-2  - \ln x+2  + C$ $= \ln \left  \frac{x-2}{x+2} \right  + C$

19

$$\int \frac{x+7}{x^2-x-6} dx = \int \frac{x+7}{(x-3)(x+2)} dx$$

$$\frac{x+7}{(x-3)(x+2)} = \frac{A}{x-3} + \frac{B}{x+2}$$

$$A(x+2) + B(x-3) = x+7$$

$$x = -2 \Rightarrow B = -1$$

$$x = 3 \Rightarrow A = 2$$

$$\frac{x+7}{(x-3)(x+2)} = \frac{2}{x-3} + \frac{-1}{x+2}$$

$$\int \frac{x+7}{x^2-x-6} dx = \int \frac{x+7}{(x-3)(x+2)} dx$$

$$= \int \left( \frac{2}{x-3} + \frac{-1}{x+2} \right) dx$$

$$= 2 \ln|x-3| - \ln|x+2| + C$$

20

$$\int \frac{x-1}{x^2-2x-8} dx = \frac{1}{2} \int \frac{2(x-1)}{x^2-2x-8} dx = \frac{1}{2} \ln|x^2-2x-8| + C$$



21

$$\int \frac{x^2 + 3}{x^3 + x} dx = \int \frac{x^2 + 3}{x(x^2 + 1)} dx$$

$$\frac{x^2 + 3}{x(x^2 + 1)} = \frac{A}{x} + \frac{Bx + C}{x^2 + 1}$$

$$A(x^2 + 1) + (Bx + C)(x) = x^2 + 3$$

$$x = 0 \Rightarrow A = 3$$

$$x = 1 \Rightarrow 2A + B + C = 4 \Rightarrow B + C = -2$$

$$x = -1 \Rightarrow 2A + B - C = 4 \Rightarrow B - C = -2$$

$$\Rightarrow B = -2, C = 0$$

$$\frac{x^2 + 3}{x(x^2 + 1)} = \frac{3}{x} + \frac{-2x}{x^2 + 1}$$

$$\int \frac{x^2 + 3}{x^3 + x} dx = \int \frac{x^2 + 3}{x(x^2 + 1)} dx$$

$$= \int \left( \frac{3}{x} + \frac{-2x}{x^2 + 1} \right) dx$$

$$= 3 \ln|x| - \ln|x^2 + 1| + C = \ln \left| \frac{x^3}{x^2 + 1} \right| + C$$

22

$$\frac{1}{x^2(1-x)} = \frac{A}{x} + \frac{B}{x^2} + \frac{C}{1-x}$$

$$Ax(1-x) + B(1-x) + C(x^2) = 1$$

$$x = 0 \Rightarrow B = 1$$

$$x = 1 \Rightarrow C = 1$$

$$x = -1 \Rightarrow -2A + 2B + C = 1 \Rightarrow A = 1$$

$$\frac{1}{x^2(1-x)} = \frac{1}{x} + \frac{1}{x^2} + \frac{1}{1-x}$$

$$\int \frac{1}{x^2(1-x)} dx = \int \left( \frac{1}{x} + \frac{1}{x^2} + \frac{1}{1-x} \right) dx$$

$$= \ln|x| - \frac{1}{x} - \ln|1-x| + C$$

$$= \ln \left| \frac{x}{1-x} \right| - \frac{1}{x} + C$$

23

$$u = \cos x \Rightarrow \frac{du}{dx} = -\sin x \Rightarrow dx = \frac{du}{-\sin x}$$

$$\int \frac{\sin x}{\cos^2 x - 3 \cos x} = \int \frac{\sin x}{u^2 - 3u} \times \frac{du}{-\sin x} = \int \frac{1}{3u - u^2} du$$

$$\frac{1}{3u - u^2} = \frac{1}{u(3 - u)} = \frac{A}{u} + \frac{B}{3 - u}$$

$$\Rightarrow A(3 - u) + Bu = 1$$

$$u = 0 \Rightarrow A = \frac{1}{3}$$

$$u = 3 \Rightarrow B = \frac{1}{3}$$

$$\int \frac{1}{3u - u^2} du = \int \left( \frac{\frac{1}{3}}{u} + \frac{\frac{1}{3}}{3 - u} \right) du$$

$$= \frac{1}{3} \ln|u| - \frac{1}{3} \ln|3 - u| + C$$

$$= \frac{1}{3} \ln \left| \frac{\cos x}{3 - \cos x} \right| + C$$

24

$$u = \sqrt{x} \Rightarrow u^2 = x, \quad dx = 2u \, du$$

$$\int \frac{\sqrt{x}}{x-4} = \int \frac{u}{u^2-4} \times 2u \, du = \int \frac{2u^2}{u^2-4} du = \int \left( 2 + \frac{8}{u^2-4} \right) du$$

$$\frac{8}{u^2-4} = \frac{A}{u-2} + \frac{B}{u+2}$$

$$\Rightarrow A(u+2) + B(u-2) = 8$$

$$u = 2 \Rightarrow A = 2$$

$$u = -2 \Rightarrow B = -2$$

$$\int \frac{\sqrt{x}}{x-4} = \int \left( 2 + \frac{2}{u-2} + \frac{-2}{u+2} \right) du$$

$$= 2u + 2 \ln|u-2| - 2 \ln|u+2| + C$$

$$= 2\sqrt{x} + 2 \ln \left| \frac{\sqrt{x}-2}{\sqrt{x}+2} \right| + C$$

$$u = 1 + \tan x \Rightarrow dx = \frac{du}{\sec^2 x}$$

$$\int \sec^2 x \tan x \sqrt{1 + \tan x} dx = \int \sec^2 x (u - 1) \sqrt{u} \frac{du}{\sec^2 x}$$

25

$$= \int \left( u^{\frac{3}{2}} - u^{\frac{1}{2}} \right) du$$

$$= \frac{2}{5} u^{\frac{5}{2}} - \frac{2}{3} u^{\frac{3}{2}} + C$$

$$= \frac{2}{5} (1 + \tan x)^{\frac{5}{2}} - \frac{2}{3} (1 + \tan x)^{\frac{3}{2}} + C$$

$$u = 4 - 3x \Rightarrow dx = \frac{du}{-3}, x = \frac{4 - u}{3}$$

$$\int \frac{x}{\sqrt[3]{4 - 3x}} dx = \int \frac{\frac{1}{3}(4 - u)}{u^{\frac{1}{3}}} \times \frac{du}{-3} = -\frac{1}{9} \int \left( 4u^{-\frac{1}{3}} - u^{\frac{2}{3}} \right) du$$

26

$$= -\frac{1}{9} \left( 6u^{\frac{2}{3}} - \frac{3}{5} u^{\frac{5}{3}} \right) + C = -\frac{2}{3} u^{\frac{2}{3}} + \frac{1}{15} u^{\frac{5}{3}} + C$$

$$= -\frac{2}{3} (4 - 3x)^{\frac{2}{3}} + \frac{1}{15} (4 - 3x)^{\frac{5}{3}} + C$$

ملاحظة: يمكن حل هذا التكامل بالأجزاء أيضًا

$$u = \ln x \Rightarrow \frac{du}{dx} = \frac{1}{x}, dx = x du$$

27

$$\int \frac{(\ln x)^6}{x} dx = \int \frac{xu^6}{x} du = \int u^6 du = \frac{1}{7} u^7 + C = \frac{1}{7} (\ln x)^7 + C$$

28

$$u = x - 2 \Rightarrow x = u + 2, dx = du$$

$$\int (x + 1)^2 \sqrt{x - 2} dx = \int (u + 3)^2 u^{\frac{1}{2}} du$$

$$= \int (u^2 + 6u + 9) u^{\frac{1}{2}} du = \int \left( u^{\frac{5}{2}} + 6u^{\frac{3}{2}} + 9u^{\frac{1}{2}} \right) du$$

$$= \frac{2}{7} u^{\frac{7}{2}} + \frac{12}{5} u^{\frac{5}{2}} + 6u^{\frac{3}{2}} + C$$

$$= \frac{2}{7} (x - 2)^{\frac{7}{2}} + \frac{12}{5} (x - 2)^{\frac{5}{2}} + 6(x - 2)^{\frac{3}{2}} + C$$

ملاحظة: يمكن حل هذا التكامل بالأجزاء مرتين

29

$$\int x \csc^2 x dx$$

$$u = x$$

$$dv = \csc^2 x dx$$

$$du = dx$$

$$v = -\cot x$$

$$\int x \csc^2 x dx = -x \cot x + \int \cot x dx = -x \cot x + \int \frac{\cos x}{\sin x} dx$$

$$= -x \cot x + \ln|\sin x| + C$$

30

$$u = x^2 - 5x$$

$$dv = e^x dx$$

$$du = (2x - 5) dx$$

$$v = e^x$$

$$\int (x^2 - 5x) e^x dx = (x^2 - 5x) e^x - \int (2x - 5) e^x dx$$

$$u = 2x - 5$$

$$dv = e^x dx$$

$$du = 2 dx$$

$$v = e^x$$

$$\int (2x - 5) e^x dx = (2x - 5) e^x - \int 2e^x dx$$

$$= (2x - 5) e^x - 2e^x + C$$

$$\int (x^2 - 5x) e^x dx = (x^2 - 5x) e^x - (2x - 5) e^x + 2e^x + C$$

$$= e^x (x^2 - 7x + 7) + C$$

31

$$u = x$$

$$dv = \sin 2x \, dx$$

$$du = dx$$

$$v = -\frac{1}{2} \cos 2x$$

$$\begin{aligned} \int x \sin 2x \, dx &= -\frac{1}{2} x \cos 2x - \int -\frac{1}{2} \cos 2x \, dx \\ &= -\frac{1}{2} x \cos 2x + \frac{1}{4} \sin 2x + C \end{aligned}$$

32

$$u = t^2 \Rightarrow dt = \frac{du}{2t}$$

$$t = 0 \Rightarrow u = 0$$

$$t = 1 \Rightarrow u = 1$$

$$\begin{aligned} \int_0^1 t 3^{t^2} \, dt &= \int_0^1 t 3^u \frac{du}{2t} = \frac{1}{2} \int_0^1 3^u \, du = \frac{3^u}{2 \ln 3} \Big|_0^1 \\ &= \frac{3}{2 \ln 3} - \frac{1}{2 \ln 3} = \frac{1}{\ln 3} \end{aligned}$$

$$\int_{\frac{\pi}{4}}^{\frac{\pi}{3}} \cot^3 x \, dx = \int_{\frac{\pi}{4}}^{\frac{\pi}{3}} \cot x (\csc^2 x - 1) \, dx$$

$$= \int_{\frac{\pi}{4}}^{\frac{\pi}{3}} \cot x \csc^2 x \, dx - \int_{\frac{\pi}{4}}^{\frac{\pi}{3}} \cot x \, dx$$

$$u = \cot x \Rightarrow dx = \frac{du}{-\csc^2 x}$$

$$x = \frac{\pi}{4} \Rightarrow u = 1$$

$$x = \frac{\pi}{3} \Rightarrow u = \frac{1}{\sqrt{3}}$$

33

$$\Rightarrow \int_{\frac{\pi}{4}}^{\frac{\pi}{3}} \cot x \csc^2 x \, dx - \int_{\frac{\pi}{4}}^{\frac{\pi}{3}} \cot x \, dx = \int_1^{\frac{1}{\sqrt{3}}} -u \, du - \int_{\frac{\pi}{4}}^{\frac{\pi}{3}} \frac{\cos x}{\sin x} \, dx$$

$$= -\frac{1}{2} u^2 \Big|_1^{\frac{1}{\sqrt{3}}} - \ln |\sin x| \Big|_{\frac{\pi}{4}}^{\frac{\pi}{3}}$$

$$= -\frac{1}{2} \left( \frac{1}{3} - 1 \right) - \left( \ln \frac{\sqrt{3}}{2} - \ln \frac{\sqrt{2}}{2} \right)$$

$$= \frac{1}{3} - \ln \frac{\sqrt{3}}{\sqrt{2}}$$

$$= \frac{1}{3} - \frac{1}{2} \ln \frac{3}{2}$$

$$u = 4 + 3 \sin x \Rightarrow dx = \frac{du}{3 \cos x}$$

$$x = -\pi \Rightarrow u = 4$$

$$x = \pi \Rightarrow u = 4$$

34

$$\int_{-\pi}^{\pi} \frac{\cos x}{\sqrt{4 + 3 \sin x}} \, dx = \int_4^4 \frac{\cos x}{\sqrt{u}} \times \frac{du}{3 \cos x} = \frac{1}{3} \int_4^4 \frac{du}{\sqrt{u}} = 0$$

35

$$\int_{-1}^0 \frac{x^2 - x}{x^2 + x - 2} dx = \int_{-1}^0 \frac{x(x-1)}{(x-1)(x+2)} dx$$

$$= \int_{-1}^0 \frac{x}{x+2} dx = \int_{-1}^0 \left(1 - \frac{2}{x+2}\right) dx$$

$$= (x - 2 \ln|x+2|) \Big|_{-1}^0 = 0 - 2 \ln 2 - (-1 - 2 \ln 1) = 1 - 2 \ln 2$$

36

$$\frac{32x^2 + 4}{16x^2 - 1} = 2 + \frac{6}{16x^2 - 1} = 2 + \frac{A}{4x-1} + \frac{B}{4x+1}$$

$$\Rightarrow A(4x+1) + B(4x-1) = 6$$

$$x = \frac{1}{4} \Rightarrow A = 3$$

$$x = -\frac{1}{4} \Rightarrow B = -3$$

$$\int_1^2 \frac{32x^2 + 4}{16x^2 - 1} dx = \int_1^2 \left(2 + \frac{3}{4x-1} + \frac{-3}{4x+1}\right) dx$$

$$= \left(2x + \frac{3}{4} \ln|4x-1| - \frac{3}{4} \ln|4x+1|\right) \Big|_1^2$$

$$= \left(4 + \frac{3}{4} \ln 7 - \frac{3}{4} \ln 9\right) - \left(2 + \frac{3}{4} \ln 3 - \frac{3}{4} \ln 5\right)$$

$$= 2 + \frac{3}{4} \ln \frac{35}{27}$$

37

$$u = \ln 2x \quad dv = x dx$$

$$du = \frac{1}{x} \quad v = \frac{x^2}{2}$$

$$\int_{\frac{1}{2}}^{\frac{e}{2}} x \ln 2x dx = \frac{x^2}{2} \ln 2x \Big|_{\frac{1}{2}}^{\frac{e}{2}} - \int_{\frac{1}{2}}^{\frac{e}{2}} \frac{x^2}{2} dx$$

$$= \frac{x^2}{2} \ln 2x \Big|_{\frac{1}{2}}^{\frac{e}{2}} - \frac{1}{4} x^2 \Big|_{\frac{1}{2}}^{\frac{e}{2}}$$

$$= \frac{1}{16} (e^2 + 1)$$

38	$s(10) - s(0) = \int_0^{10} v(t) dt = R_1 - R_2 + R_3$ $= \frac{1}{2}(2)(4) - \frac{1}{2}(2)(4) + \frac{1}{2}(3+6)(4) = 18 \text{ m}$
39	$\int_0^{10}  v(t)  dt = R_1 + R_2 + R_3 = 4 + 4 + 18 = 26 \text{ m}$
40	$s(10) - s(0) = 18 \Rightarrow s(10) - 0 = 18 \Rightarrow s(10) = 18 \text{ m}$
41	$x^2 = x^{\frac{1}{2}} \Rightarrow x^4 = x \Rightarrow x^4 - x = 0$ $\Rightarrow x(x^3 - 1) = 0 \Rightarrow x = 0, \quad x = 1$ $A = \int_0^1 (\sqrt{x} - x^2) dx = \left( \frac{2}{3} x^{\frac{3}{2}} - \frac{1}{3} x^3 \right) \Big _0^1 = \left( \frac{2}{3} - \frac{1}{3} \right) - (0) = \frac{1}{3}$
42	$x = x^3 \Rightarrow x(x^2 - 1) = 0 \Rightarrow x = 0, \quad x = 1, \quad x = -1$ $A = \int_{-1}^0 (x^3 - x) dx + \int_0^1 (x - x^3) dx$ $= \left( \frac{1}{4} x^4 - \frac{1}{2} x^2 \right) \Big _{-1}^0 + \left( \frac{1}{2} x^2 - \frac{1}{4} x^4 \right) \Big _0^1 = \frac{1}{2}$
43	$x^2 + 2 = -x \Rightarrow x^2 + x + 2 = 0$ <p>هذه المعادلة التربيعية لا حلول لها، لأن المميز سالب، إذن، منحني الاقترانين لا يتقاطعان.</p> $A = \int_{-2}^2 (x^2 + 2 + x) dx = \left( \frac{1}{3} x^3 + 2x + \frac{1}{2} x^2 \right) \Big _{-2}^2 = \frac{40}{3}$



44

$$\frac{x^2}{x^2 - 1} = 1 + \frac{1}{x^2 - 1} = 1 + \frac{A}{x - 1} + \frac{B}{x + 1}$$

$$\Rightarrow A(x + 1) + B(x - 1) = 1$$

$$x = 1 \Rightarrow A = \frac{1}{2}$$

$$x = -1 \Rightarrow B = -\frac{1}{2}$$

$$\int_2^5 \frac{x^2}{x^2 - 1} dx = \int_2^5 \left( 1 + \frac{\frac{1}{2}}{x - 1} + \frac{-\frac{1}{2}}{x + 1} \right) dx$$

$$= \left( x + \frac{1}{2} \ln|x - 1| - \frac{1}{2} \ln|x + 1| \right) \Big|_2^5 = 3 + \frac{1}{2} \ln 2$$

45

$$D = \int_1^{10} v(t) dt = \int_1^{10} \left( \frac{1}{9}t - (t + 6)^{-\frac{1}{2}} \right) dt$$

$$= \left( \frac{1}{18}t^2 - 2\sqrt{t + 6} \right) \Big|_1^{10} = \left( 2\sqrt{7} - \frac{5}{2} \right) \text{ m} \approx 2.792 \text{ m}$$

46

$$v(t) = \frac{1}{9}t - (t + 6)^{-\frac{1}{2}}$$

تتكون  $d$  المسافة المقطوعة وهي تمثل المساحة بين منحنى  $|v(t)|$  والمحور  $t$  بين المستقيمين

$$t = 1, \quad t = 10$$

$$d = \int_1^{10} |v(t)| dt = \int_1^{10} \left| \frac{1}{9}t - (t + 6)^{-\frac{1}{2}} \right| dt$$

$$\frac{1}{9}t - (t + 6)^{-\frac{1}{2}} = 0 \Rightarrow \frac{t}{9} = \frac{1}{\sqrt{t + 6}} \Rightarrow t\sqrt{t + 6} = 9 \Rightarrow t^2(t + 6) = 81$$

$$\Rightarrow t^3 + 6t^2 - 81 = 0 \Rightarrow (t - 3)(t^2 + 9t + 81) = 0 \Rightarrow t = 3$$

$$\Rightarrow d = -\int_1^3 \left( \frac{1}{9}t - (t + 6)^{-\frac{1}{2}} \right) dt + \int_3^{10} \left( \frac{1}{9}t - (t + 6)^{-\frac{1}{2}} \right) dt$$

$$= \left( 2\sqrt{t + 6} - \frac{1}{18}t^2 \right) \Big|_1^3 + \left( \frac{1}{18}t^2 - 2\sqrt{t + 6} \right) \Big|_3^{10} = \frac{155}{18} - 2\sqrt{7} \approx 3.32 \text{ m}$$

47

$$(1 + \sin 2x)^2 = 0 \Rightarrow \sin 2x = -1$$

$$2x = \frac{3\pi}{2} \Rightarrow x = \frac{3\pi}{4}$$

هذا هو أول حل موجب للمعادلة

$$\Rightarrow A\left(\frac{3\pi}{4}, 0\right)$$

48

$$\begin{aligned} A(R) &= \int_0^{\frac{3\pi}{4}} (1 + \sin 2x)^2 dx = \int_0^{\frac{3\pi}{4}} (1 + 2 \sin 2x + \sin^2 2x) dx \\ &= \int_0^{\frac{3\pi}{4}} \left(1 + 2 \sin 2x + \frac{1}{2}(1 - \cos 4x)\right) dx \\ &= \int_0^{\frac{3\pi}{4}} \left(\frac{3}{2} + 2 \sin 2x - \frac{1}{2} \cos 4x\right) dx \\ &= \left(\frac{3}{2}x - \cos 2x - \frac{1}{8} \sin 4x\right) \Big|_0^{\frac{3\pi}{4}} = \frac{9\pi}{8} + 1 \end{aligned}$$

49

$$x^2 \ln 2x = 0 \Rightarrow x = 0 \text{ يهمل لأنه خارج مجال افتتان اللوغاريتم}$$

$$\ln 2x = 0 \Rightarrow 2x = 1 \Rightarrow x = \frac{1}{2}$$

$$A = \int_{\frac{1}{2}}^1 x^2 \ln 2x dx$$

$$u = \ln 2x \quad dv = x^2 dx$$

$$du = \frac{1}{x} dx \quad v = \frac{1}{3} x^3$$

$$\begin{aligned} \int x^2 \ln 2x dx &= \frac{1}{3} x^3 \ln 2x - \int \frac{1}{3} x^3 \frac{1}{x} dx \\ &= \frac{1}{3} x^3 \ln 2x - \frac{1}{9} x^3 + C \end{aligned}$$

$$A = \left(\frac{1}{3} x^3 \ln 2x - \frac{1}{9} x^3\right) \Big|_{\frac{1}{2}}^1 = \frac{1}{3} \ln 2 - \frac{7}{72}$$

50	$\frac{1}{16}x^3 = 2\sqrt{x} \Rightarrow \frac{1}{256}x^6 - 4x = 0$ $\Rightarrow x\left(\frac{1}{256}x^5 - 4\right) = 0 \Rightarrow x = 0,$ $x = \sqrt[5]{4(256)} = \sqrt[5]{2^{10}} = 4$ $A = \int_0^4 \left(2\sqrt{x} - \frac{1}{16}x^3\right) dx = \left(\frac{4}{3}x^{\frac{3}{2}} - \frac{1}{64}x^4\right) \Big _0^4 = \frac{20}{3}$
51	$x^2 + 14 = x^4 + 2 \Rightarrow x^4 - x^2 - 12 = 0$ $\Rightarrow (x^2 - 4)(x^2 + 3) = 0 \Rightarrow x = \pm 2$ $\Rightarrow A(-2, f(-2)) = (-2, 18)$ $B(2, f(2)) = (2, 18)$
52	<p>نلاحظ أن منطقتي f و g واقعان فوق المحور x ، وأن منطقتي f فوق منطقتي g في الفترة (-2,2)</p> $\Rightarrow V = \pi \int_0^2 (f^2(x) - g^2(x)) dx$ $= \pi \int_0^2 ((x^2 + 14)^2 - (x^4 + 2)^2) dx$ $= \pi \int_0^2 (-x^8 - 3x^4 + 28x^2 + 192) dx$ $= \pi \left(-\frac{1}{9}x^9 - \frac{3}{5}x^5 + \frac{28}{3}x^3 + 192x\right) \Big _0^2 = \frac{17216\pi}{45}$
53	$V = \pi \int_1^2 (f(x))^2 dx = \pi \int_1^2 xe^{-x} dx$ $u = x \quad dv = e^{-x} dx$ $du = dx \quad v = -e^{-x}$ $\int xe^{-x} dx = -xe^{-x} + \int e^{-x} dx = -xe^{-x} - e^{-x} + C$ $V = \pi \int_1^2 xe^{-x} dx = \pi \left((-xe^{-x} - e^{-x}) \Big _1^2\right) = \frac{2e - 3}{e^2} \pi$
54	$\frac{dy}{\sqrt{y}} = \frac{dx}{x} \Rightarrow \int \frac{dy}{\sqrt{y}} = \int \frac{dx}{x} \Rightarrow 2\sqrt{y} = \ln x  + C$

55	$\frac{dy}{\sec y} = xe^x dx \Rightarrow \int \cos y dy = \int xe^x dx$ $u = x \quad dv = e^x dx$ $du = dx \quad v = e^x$ $\Rightarrow \int xe^x dx = xe^x - \int e^x dx = xe^x - e^x + C$ $\Rightarrow \int \cos y dy = \int xe^x dx$ $\Rightarrow \sin y = xe^x - e^x + C$
56	$3y^2 dy = 8x dx$ $\int 3y^2 dy = \int 8x dx \Rightarrow y^3 = 4x^2 + C$
57	$x dy = \sqrt{y}(3x + 4) dx$ $\frac{dy}{\sqrt{y}} = \frac{3x + 4}{x} dx \Rightarrow \int y^{-\frac{1}{2}} dy = \int \left(3 + \frac{4}{x}\right) dx$ $\Rightarrow 2\sqrt{y} = 3x + 4 \ln x  + C$
58	$\frac{dy}{dx} = 8 - 4y = 4(2 - y)$ $\frac{dy}{2 - y} = 4 dx \Rightarrow \int \frac{dy}{2 - y} = \int 4 dx$ $-\ln 4 - y  = 4x + C \quad \text{الحل العام :}$ <p>لإيجاد الحل الخاص نعوض <math>x = 0, y = 3</math> في الحل العام:</p> $-\ln 1 = 0 + C \Rightarrow C = 0$ $-\ln 4 - y  = 4x \quad \text{الحل الخاص:}$

59

$$\frac{dy}{5e^y} = \frac{dx}{(2x+1)(x-2)}$$

$$\frac{1}{(2x+1)(x-2)} = \frac{A}{2x+1} + \frac{B}{x-2}$$

$$\Rightarrow A(x-2) + B(2x+1) = 1$$

$$x = 2 \Rightarrow B = \frac{1}{5}$$

$$x = -\frac{1}{2} \Rightarrow A = -\frac{2}{5}$$

$$\int \frac{dy}{5e^y} = \int \left( \frac{-\frac{2}{5}}{2x+1} + \frac{\frac{1}{5}}{x-2} \right) dx$$

$$\frac{-e^{-y}}{5} = -\frac{1}{5} \ln|2x+1| + \frac{1}{5} \ln|x-2| + C \quad \text{الحل العام}$$

لإيجاد الحل الخاص نعوض  $x = -3, y = 0$  في الحل العام:

$$\frac{-1}{5} = -\frac{1}{5} \ln 5 + \frac{1}{5} \ln 5 + C \Rightarrow C = \frac{-1}{5}$$

$$\frac{-e^{-y}}{5} = -\frac{1}{5} \ln|2x+1| + \frac{1}{5} \ln|x-2| - \frac{1}{5}$$

$$\Rightarrow \frac{1-e^{-y}}{5} = \frac{1}{5} \ln \left| \frac{x-2}{2x+1} \right| \Rightarrow 1 - e^{-y} = \ln \left| \frac{x-2}{2x+1} \right|$$

الحل الخاص:

60

$$\frac{dx}{x} = 0.2 dt \Rightarrow \int \frac{dx}{x} = \int 0.2 dt$$

$$\Rightarrow \ln|x| = 0.2t + C \Rightarrow x = e^{0.2t+C} = e^C(e^{0.2t}) = Ke^{0.2t}$$

حيث  $K$  ثابت يساوي  $e^C$ ، وبملاحظة أن عدد الأسماك  $x$  أكبر من صفر (فيكون  $|x| = x$ )

$$x(0) = 300 \Rightarrow 300 = Ke^{0.2(0)} \Rightarrow K = 300$$

$$x(t) = 300e^{0.2t} \quad \text{الحل الخاص:}$$

61

$$x(5) = 300e^{0.2(5)} = 300e \approx 815$$

إذن، عدد الأسماك في البحيرة بعد خمس سنوات هو 815 سمكة تقريبًا.

62

$$p(x) = \int \frac{-300x}{(9+x^2)^{\frac{3}{2}}} dx$$

$$u = 9 + x^2 \Rightarrow dx = \frac{du}{2x}$$

$$p(u) = \int \frac{-300x}{u^{\frac{3}{2}}} \frac{du}{2x} = \int -150u^{-\frac{3}{2}} du = \frac{300}{\sqrt{u}} + C$$

$$\Rightarrow p(x) = \frac{300}{\sqrt{9+x^2}} + C$$

$$p(4) = \frac{300}{5} + C \Rightarrow 75 = 60 + C \Rightarrow C = 15$$

$$\Rightarrow p(x) = 15 + \frac{300}{\sqrt{9+x^2}}$$

إجابات كتاب الطالب للصف الثاني عشر العلمي / الفصل الدراسي الثاني

الوحدة الخامسة: المتجهات

الدرس الأول: المتجهات في الفضاء

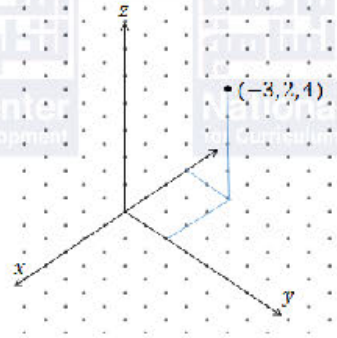
مسألة اليوم صفحة 110

$A(5, 5, 0)$

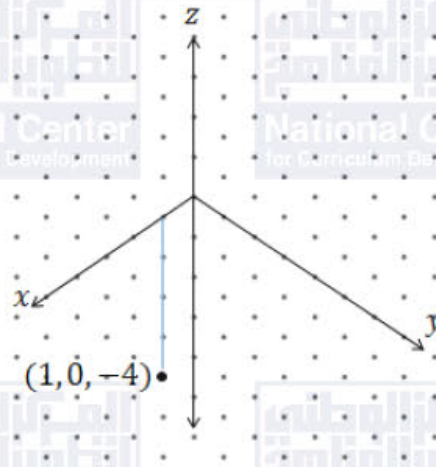
$B(0, 5, 5)$

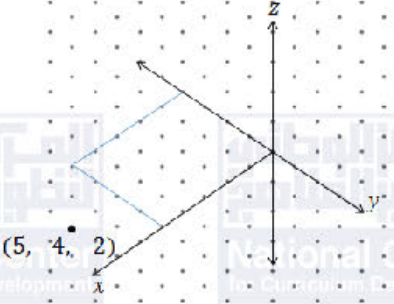
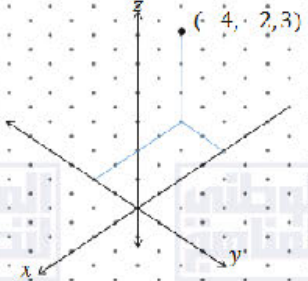
أتحقق من فهمي صفحة 111

a



b



c	
d	
<p>أتحقق من فهمي صفحة 113</p>	
a	$NM = \sqrt{(x_2 - x_1)^2 + (y_2 - y_1)^2 + (z_2 - z_1)^2}$ $= \sqrt{(5 - 2)^2 + (-3 - 1)^2 + (6 - (-6))^2} = \sqrt{9 + 16 + 144} = \sqrt{169} = 13$
b	<p>لتكن <math>K</math> نقطة منتصف القطعة المستقيمة <math>MN</math>، فتكون:</p> $K = \left( \frac{x_1 + x_2}{2}, \frac{y_1 + y_2}{2}, \frac{z_1 + z_2}{2} \right) = \left( \frac{2 + 5}{2}, \frac{1 - 3}{2}, \frac{-6 + 6}{2} \right) = \left( \frac{7}{2}, -1, 0 \right)$
<p>أتحقق من فهمي صفحة 114</p>	
	$\overline{AB} = \langle x_2 - x_1, y_2 - y_1, z_2 - z_1 \rangle = \langle -5 - (-1), 3 - 5, -2 - 3 \rangle = \langle -4, -2, -5 \rangle$ $ \overline{AB}  = \sqrt{v_1^2 + v_2^2 + v_3^2} = \sqrt{16 + 4 + 25} = \sqrt{45} = 3\sqrt{5}$
<p>أتحقق من فهمي صفحة 116</p>	
a	$\overline{AB} = \overline{AD} + \overline{DB}$ $= \vec{b} + (-\vec{a})$ $= \vec{b} - \vec{a}$



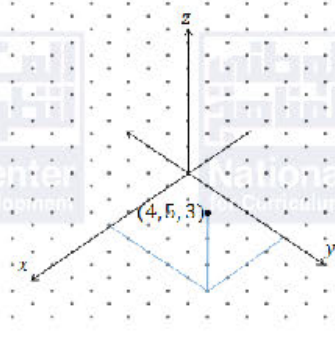
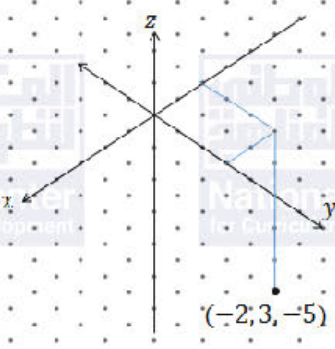
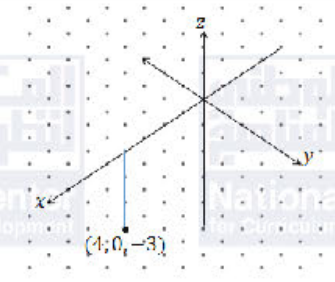


	$AB = AE + EB = 3EB + EB = 4EB \Rightarrow EB = \frac{1}{4}AB$
b	$\overrightarrow{EB} = \frac{1}{4}\overrightarrow{AB}$ $\Rightarrow \overrightarrow{EB} = \frac{1}{4}(\vec{b} - \vec{a}) = \frac{1}{4}\vec{b} - \frac{1}{4}\vec{a}$
c	$\overrightarrow{EF} = \overrightarrow{EB} + \overrightarrow{BF} = \overrightarrow{EB} + \frac{1}{2}\overrightarrow{BC}$ <p>وذلك لأن <math>\overrightarrow{BC} = \overrightarrow{AD}</math> كون الشكل متوازي أضلاع</p> $= \overrightarrow{EB} + \frac{1}{2}\overrightarrow{AD}$ $= \frac{1}{4}\vec{b} - \frac{1}{4}\vec{a} + \frac{1}{2}\vec{b}$ $= \frac{3}{4}\vec{b} - \frac{1}{4}\vec{a}$
<p>أتحقق من فهمي صفحة 117</p>	
a	$3\vec{v} - 4\vec{u} = 3\langle 3, 0, -5 \rangle - 4\langle 4, 5, -3 \rangle$ $= \langle 9, 0, -15 \rangle - \langle 16, 20, -12 \rangle = \langle -7, -20, -3 \rangle$
b	$3\vec{u} + 5\vec{v} - 2\vec{w} = 3\langle 4, 5, -3 \rangle + 5\langle 3, 0, -5 \rangle - 2\langle 9, -2, -5 \rangle$ $= \langle 12, 15, -9 \rangle + \langle 15, 0, -25 \rangle + \langle -18, 4, 10 \rangle = \langle 9, 19, -24 \rangle$
<p>أتحقق من فهمي صفحة 117</p>	
	$\vec{u} = \vec{v} \Rightarrow 20 = 3q + 8 \quad \text{و} \quad 2p - 5 = 0 \quad \text{و} \quad -12 = 3r$ $\Rightarrow q = 4, p = \frac{5}{2}, r = -4$
<p>أتحقق من فهمي صفحة 119</p>	
a	$\overrightarrow{OA} = \langle -2, 8, 13 \rangle, \overrightarrow{OB} = \langle 5, -7, -9 \rangle, \overrightarrow{OC} = \langle 0, 1, -14 \rangle$
b	$\overrightarrow{BC} = \overrightarrow{OC} - \overrightarrow{OB} = \langle -5, 8, -5 \rangle$

c	$AC = \sqrt{(x_2 - x_1)^2 + (y_2 - y_1)^2 + (z_2 - z_1)^2}$ $= \sqrt{(0 - (-2))^2 + (1 - 8)^2 + (-14 - 13)^2} = \sqrt{4 + 49 + 729} = \sqrt{782}$
أتحقق من فهمي صفحة 121	
a	$\vec{g} = 9\hat{i} - 4\hat{k}$
b	$\vec{AB} = \langle 7 - 2, 6 - (-1), -2 - 4 \rangle = \langle 5, 7, -6 \rangle = 5\hat{i} + 7\hat{j} - 6\hat{k}$
c	$4\vec{m} - 5\vec{f} = 4(-2\hat{i} + 3\hat{j} - 4\hat{k}) - 5(3\hat{i} - 5\hat{j} + 6\hat{k})$ $= (-8 - 15)\hat{i} + (12 + 25)\hat{j} + (-16 - 30)\hat{k}$ $= -23\hat{i} + 37\hat{j} - 46\hat{k}$
أتحقق من فهمي صفحة 122	
	$ \vec{u}  = \sqrt{16 + 9 + 25}$ $= \sqrt{50}$ $= 5\sqrt{2}$
a	$\hat{u} = \frac{1}{5\sqrt{2}} \vec{u} = \left\langle \frac{4}{5\sqrt{2}}, \frac{-3}{5\sqrt{2}}, \frac{5}{5\sqrt{2}} \right\rangle$ $= \left\langle \frac{2}{5}\sqrt{2}, \frac{-3}{5\sqrt{2}}, \frac{1}{\sqrt{2}} \right\rangle$ <p style="text-align: right;">وهذا متجه وحدة في اتجاه <math>\vec{u}</math></p>
b	$ \vec{v}  = \sqrt{64 + 225 + 289}$ $= \sqrt{578} = 17\sqrt{2}$ $\hat{v} = \frac{1}{17\sqrt{2}} \vec{v} = \frac{8}{17\sqrt{2}}\hat{i} + \frac{15}{17\sqrt{2}}\hat{j} - \frac{17}{17\sqrt{2}}\hat{k}$ $= \frac{8}{17\sqrt{2}}\hat{i} + \frac{15}{17\sqrt{2}}\hat{j} - \frac{1}{\sqrt{2}}\hat{k}$ <p style="text-align: right;">وهذا متجه وحدة في اتجاه <math>\vec{v}</math></p>

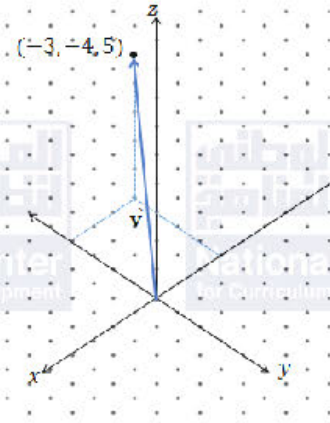
c	$\overrightarrow{AB} = \langle 3 - (-1), 3 - 4, 8 - 6 \rangle = \langle 4, -1, 2 \rangle$ $ \overrightarrow{AB}  = \sqrt{16 + 1 + 4} = \sqrt{21}$ $\hat{u} = \frac{1}{\sqrt{21}} \overrightarrow{AB} = \left\langle \frac{4}{\sqrt{21}}, \frac{-1}{\sqrt{21}}, \frac{2}{\sqrt{21}} \right\rangle$ <p>ليكن <math>\hat{u}</math> متجه وحدة في اتجاه <math>\overrightarrow{AB}</math>، فيكون:</p>
---	--

أتدرب وأحل المسائل صفحة 122

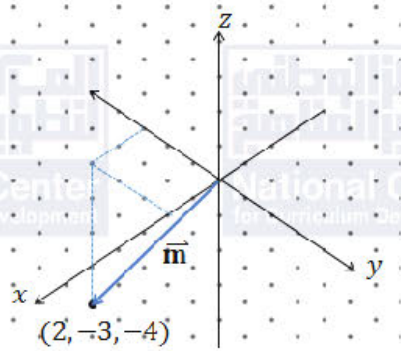
1	
2	
3	

4	<p><math>A(3, -2, 8), B(5, 4, 2)</math></p> $AB = \sqrt{(x_2 - x_1)^2 + (y_2 - y_1)^2 + (z_2 - z_1)^2}$ $= \sqrt{2^2 + 6^2 + (-6)^2} = \sqrt{76} = 2\sqrt{19}$ <p>لتكن N نقطة منتصف <math>\overline{AB}</math></p> $N = \left( \frac{x_1 + x_2}{2}, \frac{y_1 + y_2}{2}, \frac{z_1 + z_2}{2} \right) = \left( \frac{3 + 5}{2}, \frac{-2 + 4}{2}, \frac{8 + 2}{2} \right) = (4, 1, 5)$
5	<p><math>A(-2, 7, 0), B(2, -5, 3)</math></p> $AB = \sqrt{(x_2 - x_1)^2 + (y_2 - y_1)^2 + (z_2 - z_1)^2}$ $= \sqrt{16 + 144 + 9} = \sqrt{169} = 13$ <p>لتكن N نقطة منتصف <math>\overline{AB}</math></p> $N = \left( \frac{x_1 + x_2}{2}, \frac{y_1 + y_2}{2}, \frac{z_1 + z_2}{2} \right) = \left( \frac{-2 + 2}{2}, \frac{7 - 5}{2}, \frac{0 + 3}{2} \right) = \left( 0, 1, \frac{3}{2} \right)$
6	<p><math>A(12, 8, -5), B(-3, 6, 7)</math></p> $AB = \sqrt{(x_2 - x_1)^2 + (y_2 - y_1)^2 + (z_2 - z_1)^2}$ $= \sqrt{225 + 4 + 144} = \sqrt{373}$ <p>لتكن N نقطة منتصف <math>\overline{AB}</math></p> $N = \left( \frac{x_1 + x_2}{2}, \frac{y_1 + y_2}{2}, \frac{z_1 + z_2}{2} \right) = \left( \frac{12 - 3}{2}, \frac{8 + 6}{2}, \frac{-5 + 7}{2} \right) = \left( \frac{9}{2}, 7, 1 \right)$
7	<p><math>A(-5, -8, 4), B(3, 2, -6)</math></p> $AB = \sqrt{(x_2 - x_1)^2 + (y_2 - y_1)^2 + (z_2 - z_1)^2}$ $= \sqrt{64 + 100 + 100} = \sqrt{264} = 2\sqrt{66}$ <p>لتكن N نقطة منتصف <math>\overline{AB}</math></p> $N = \left( \frac{x_1 + x_2}{2}, \frac{y_1 + y_2}{2}, \frac{z_1 + z_2}{2} \right) = \left( \frac{-5 + 3}{2}, \frac{-8 + 2}{2}, \frac{4 - 6}{2} \right)$ $= (-1, -3, -1)$

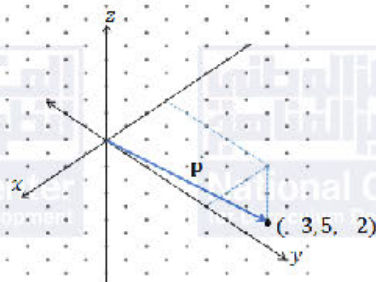
8



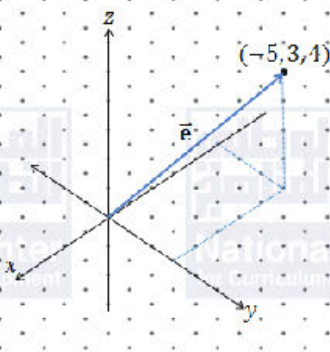
9

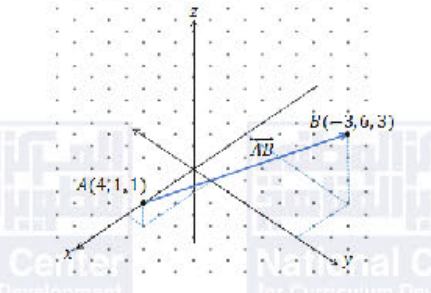
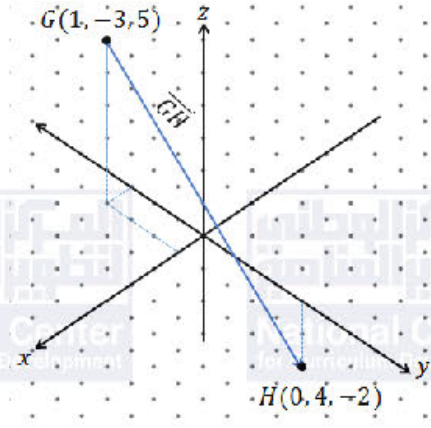


10



11



12	
13	
14	$\vec{AB} = \langle -3 - 4, 2 - 6, 5 - 9 \rangle = \langle -7, -4, -4 \rangle$ $ \vec{AB}  = \sqrt{v_1^2 + v_2^2 + v_3^2} = \sqrt{49 + 16 + 16} = \sqrt{81} = 9$
15	$\vec{AB} = \langle 6 - (-8), 3 - 5, 2 - 7 \rangle = \langle 14, -2, -5 \rangle$ $ \vec{AB}  = \sqrt{v_1^2 + v_2^2 + v_3^2} = \sqrt{196 + 4 + 25} = \sqrt{225} = 15$
16	$\vec{AB} = \langle 4 - 12, 1 - (-5), -1 - 4 \rangle = \langle -8, 6, -5 \rangle$ $ \vec{AB}  = \sqrt{v_1^2 + v_2^2 + v_3^2} = \sqrt{64 + 36 + 25} = \sqrt{125} = 5\sqrt{5}$
17	$\vec{AB} = \langle 10 - 24, 6 - (-8), 3 - 10 \rangle = \langle -14, 14, -7 \rangle$ $ \vec{AB}  = \sqrt{v_1^2 + v_2^2 + v_3^2} = \sqrt{196 + 196 + 49} = \sqrt{441} = 21$
18	$\vec{OC} = \vec{OA} + \vec{AC}$ $= \vec{a} + \frac{1}{2}\vec{AB}$ $= \vec{a} + \frac{1}{2}(\vec{b} - \vec{a}) = \frac{1}{2}\vec{a} + \frac{1}{2}\vec{b} = \frac{1}{2}(\vec{a} + \vec{b})$

19	$3\vec{e} + 4\vec{f} = 3\langle -3, 9, -4 \rangle + 4\langle 5, -3, 7 \rangle = \langle -9, 27, -12 \rangle + \langle 20, -12, 28 \rangle$ $= \langle 11, 15, 16 \rangle$
20	$\vec{e} + \vec{f} - 3\vec{g} = \langle -3, 9, -4 \rangle + \langle 5, -3, 7 \rangle - 3\langle -1, 8, -5 \rangle$ $= \langle 5, -18, 18 \rangle$
21	$4\vec{e} - 2\vec{f} + 3\vec{g} = 4\langle -3, 9, -4 \rangle - 2\langle 5, -3, 7 \rangle + 3\langle -1, 8, -5 \rangle$ $= \langle -25, 66, -45 \rangle$
22	$2\vec{e} + 7\vec{f} - 2\vec{g} = 2\langle -3, 9, -4 \rangle + 7\langle 5, -3, 7 \rangle - 2\langle -1, 8, -5 \rangle$ $= \langle 31, -19, 51 \rangle$
23	$\vec{OA} = \langle -1, 6, 5 \rangle, \vec{OB} = \langle 0, 1, -4 \rangle, \vec{OC} = \langle 2, 1, 1 \rangle$
24	$\vec{BA} = \vec{OA} - \vec{OB} = \langle -1, 6, 5 \rangle - \langle 0, 1, -4 \rangle = \langle -1, 5, 9 \rangle$
25	$\vec{CB} = \vec{OB} - \vec{OC} = \langle 0, 1, -4 \rangle - \langle 2, 1, 1 \rangle = \langle -2, 0, -5 \rangle$
26	$ \vec{BC}  = \sqrt{v_1^2 + v_2^2 + v_3^2} = \sqrt{4 + 0 + 25} = \sqrt{29}$
27	$\vec{g} = 5\hat{i} + 7\hat{j} - \hat{k}$
28	$\vec{ST} = (2 - 1)\hat{i} + (-2 - 0)\hat{j} + (0 - (-5))\hat{k} = \hat{i} - 2\hat{j} + 5\hat{k}$
29	$-\vec{a} + 3\vec{b} = -\hat{i} - 2\hat{j} + 4\hat{k} + 12\hat{i} - 9\hat{j} + 15\hat{k} = 11\hat{i} - 11\hat{j} + 19\hat{k}$
30	$\vec{v} = -4\hat{i} + 3\hat{j}$ $ \vec{v}  = \sqrt{16 + 9} = 5$ $\hat{v} = \frac{1}{5}\vec{v} = \frac{-4}{5}\hat{i} + \frac{3}{5}\hat{j}$
	$\hat{v}$ متجه وحدة في اتجاه $\vec{v}$



31	$\vec{v} = 143\hat{i} - 24\hat{j}$ $ \vec{v}  = \sqrt{20449 + 576} = \sqrt{21025} = 145$ $\hat{v} = \frac{1}{145}\vec{v} = \frac{143}{145}\hat{i} - \frac{24}{145}\hat{j}$ <p>وهذا هو متجه الوحدة في اتجاه <math>\vec{v}</math></p>
32	$\vec{v} = -72\hat{i} + 33\hat{j} + 56\hat{k}$ $ \vec{v}  = \sqrt{5184 + 1089 + 3136} = \sqrt{9409} = 97$ $\hat{v} = \frac{1}{97}\vec{v} = \frac{-72}{97}\hat{i} + \frac{33}{97}\hat{j} + \frac{56}{97}\hat{k}$ <p>وهذا هو متجه الوحدة في اتجاه <math>\vec{v}</math></p>
33	$\vec{v} = \begin{pmatrix} 11 \\ 13 \\ 8 \end{pmatrix}$ $ \vec{v}  = \sqrt{121 + 169 + 64} = \sqrt{354}$ $\hat{v} = \frac{1}{\sqrt{354}}\vec{v} = \begin{pmatrix} \frac{11}{\sqrt{354}} \\ \frac{13}{\sqrt{354}} \\ \frac{8}{\sqrt{354}} \end{pmatrix}$ <p>وهذا هو متجه الوحدة في اتجاه <math>\vec{v}</math></p>



34	$\vec{v} = \begin{pmatrix} 5 \\ -4 \\ -2 \end{pmatrix}$ $ \vec{v}  = \sqrt{25 + 16 + 4} = \sqrt{45} = 3\sqrt{5}$ $\hat{v} = \frac{1}{3\sqrt{5}} \vec{v} = \begin{pmatrix} \frac{5}{3\sqrt{5}} \\ \frac{-4}{3\sqrt{5}} \\ \frac{-2}{3\sqrt{5}} \end{pmatrix}$ <p>وهذا هو متجه الوحدة في اتجاه <math>\vec{v}</math></p>
35	$\vec{n} = \langle -2, 0, 3 \rangle$ $ \vec{n}  = \sqrt{4 + 0 + 9} = \sqrt{13}$ $\hat{n} = \frac{1}{\sqrt{13}} \vec{n} = \left\langle \frac{-2}{\sqrt{13}}, 0, \frac{3}{\sqrt{13}} \right\rangle$ <p>وهذا هو متجه الوحدة في اتجاه <math>\vec{n}</math></p>
36	$3\vec{a} + c\vec{b} = 3(-3\hat{i} + 4\hat{j} + 12\hat{k}) + c(7\hat{i} + 39\hat{j} - 2\hat{k})$ $= (-9 + 7c)\hat{i} + (12 + 39c)\hat{j} + (36 - 2c)\hat{k}$ $\Rightarrow -23\hat{i} - 66\hat{j} + 40\hat{k} = (-9 + 7c)\hat{i} + (12 + 39c)\hat{j} + (36 - 2c)\hat{k}$ <p>في هذه المعادلة يتساوى المتجهان، إذن، فإن إحداثياتهما المتناظرة متساوية:</p> $-9 + 7c = -23, \quad 12 + 39c = -66, \quad 36 - 2c = 40$ <p>وعند حل هذه المعادلات نجد أن لها الحل نفسه <math>c = -2</math></p>

37	$k\vec{s} - 4\vec{t} = k \begin{pmatrix} 2 \\ w + 47 \\ -4 \end{pmatrix} - 4 \begin{pmatrix} 3 \\ v \\ 2 \end{pmatrix}$ $= \begin{pmatrix} 2k - 12 \\ k(w + 47) - 4v \\ -4k - 8 \end{pmatrix}$ $\Rightarrow \begin{pmatrix} 6 \\ 31 \\ w \end{pmatrix} = \begin{pmatrix} 2k - 12 \\ k(w + 47) - 4v \\ -4k - 8 \end{pmatrix}$ $\Rightarrow 2k - 12 = 6 \Rightarrow k = 9$ $-4k - 8 = w \Rightarrow w = -36 - 8 = -44$ $k(w + 47) - 4v = 31 \Rightarrow 9(-44 + 47) - 4v = 31 \Rightarrow v = -1$
38	$5\vec{m} + 2\vec{p} = 4\vec{n}$ $5\langle 4, 1, -2 \rangle + 2\langle 2, a, -1 \rangle = 4\langle 6, 2, -3 \rangle$ $\langle 24, 5 + 2a, -12 \rangle = \langle 24, 8, -12 \rangle$ <p>في هذه المعادلة يتساوى المتجهان، إذن، فإن إحداثياتهما المتناظرة متساوية:</p> $5 + 2a = 8 \Rightarrow a = \frac{3}{2}$
39	$ \vec{v}  = \sqrt{v_1^2 + v_2^2 + v_3^2} = \sqrt{(u - 3)^2 + (u + 1)^2 + (u - 2)^2} = 17$ <p>نربع الطرفين ونفك الأقواس:</p> $u^2 - 6u + 9 + u^2 + 2u + 1 + u^2 - 4u + 4 = 289$ $3u^2 - 8u - 275 = 0$ $u = \frac{8 \pm \sqrt{3364}}{2(3)} = \frac{8 \pm 58}{6}$ <p>إذن، <math>u = \frac{66}{6} = 11</math>، أو <math>u = \frac{-50}{6} = \frac{-25}{3}</math></p>

40	$\overline{GH} = \langle c - 1 - (-2), -4 - (c + 1), c + 2 - (-8) \rangle = \langle c + 1, -5 - c, c + 10 \rangle$ $ \overline{GH}  = \sqrt{(c + 1)^2 + (-5 - c)^2 + (c + 10)^2} = 19$ <p>نربع الطرفين ونفك الأقواس:</p> $c^2 + 2c + 1 + 25 + 10c + c^2 + c^2 + 20c + 100 = 361$ $\Rightarrow 3c^2 + 32c - 235 = 0$ $\Rightarrow c = \frac{-32 \pm \sqrt{3844}}{6} = \frac{-32 \pm 62}{6}$ <p>إن، <math>c = \frac{-94}{6} = \frac{-47}{3}</math> أو <math>c = \frac{30}{6} = 5</math> لكن <math>c &gt; 0</math>، إن، <math>c = 5</math></p>
41	<p>بما أن مركز الكرة هو <math>O(0,0,0)</math> والنقطة <math>A(7, -3, 3)</math> تقع عليها فإن طول نصف قطرها <math>R</math> حيث:</p> $R = OA = \sqrt{(7 - 0)^2 + (-3 - 0)^2 + (3 - 0)^2} = \sqrt{49 + 9 + 9} = \sqrt{67}$ $OB = \sqrt{(2 - 0)^2 + (-8 - 0)^2 + (-1 - 0)^2} = \sqrt{4 + 64 + 1} = \sqrt{69}$ <p>بما أن <math>OB &gt; R</math> فإن النقطة <math>B</math> تقع خارج الكرة، ويكون قول حنان هو الصواب.</p>
42	<p>مركز الكرة هو النقطة <math>C</math> التي تنصف القطر المعطى طرفاه</p> $C = \left( \frac{-4 - 2}{2}, \frac{6 + 2}{2}, \frac{-1 + 17}{2} \right) = (-3, 4, 8)$ <p>وطول نصف قطر الكرة هو <math>R</math> حيث:</p> $R = CK = \sqrt{(-3 - (-2))^2 + (4 - 2)^2 + (8 - 17)^2} = \sqrt{1 + 4 + 81} = \sqrt{86}$ <p>الآن نجد كلا من <math>CJ, CL</math> ونقارنه مع <math>R</math> لمعرفة موقع كل من النقطتين <math>J, L</math> بالنسبة لهذه الكرة:</p> $CL = \sqrt{(2 - (-3))^2 + (10 - 4)^2 + (3 - 8)^2} = \sqrt{25 + 36 + 25} = \sqrt{86} = R$ <p>إن، النقطة <math>L</math> تقع على سطح الكرة.</p> $CJ = \sqrt{(4 - (-3))^2 + (-2 - 4)^2 + (7 - 8)^2} = \sqrt{49 + 36 + 1} = \sqrt{86} = R$ <p>إن، النقطة <math>J</math> أيضًا تقع على سطح هذه الكرة.</p>

تختلف النقطة B عن النقطة A فقط في الإحداثي z، والفرق بين قيمتي z يساوي 6

إذن، AB أحد أحرف المكعب، وطول ضلع المكعب 6 وحدات.

أما النقطة C فيزيد إحداثيها x بمقدار 6 وحدات عن الإحداثي x للنقطة B، كما يقل إحداثيها y بمقدار 6 عن الإحداثي y للنقطة B (مُزاحة عنها 6 وحدات لليسار).

نجد باقي النقاط (الرؤوس) بإحداثيات مقدارها 6 وحدات لإحداثيات الرؤوس الثلاثة المعطاة:

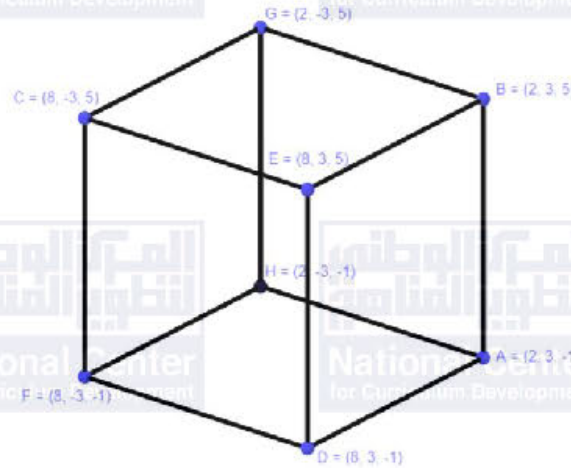
$D(8, 3, -1)$  وذلك بإزاحة النقطة A بمقدار 6 وحدات باتجاه المحور x الموجب.

$E(8, 3, 5)$  وذلك بإزاحة النقطة B بمقدار 6 وحدات باتجاه المحور x الموجب.

$F(8, -3, -1)$  وذلك بإزاحة النقطة C بمقدار 6 وحدات باتجاه المحور z السالب.

$G(2, -3, 5)$  وذلك بإزاحة النقطة B بمقدار 6 وحدات باتجاه المحور y السالب.

$H(2, -3, -1)$  وذلك بإزاحة النقطة A بمقدار 6 وحدات باتجاه المحور y السالب.



43

$$\frac{AX}{XB} = \frac{1}{2} \Rightarrow XB = 2AX \Rightarrow AB = AX + XB = AX + 2AX = 3AX$$

$$\Rightarrow AX = \frac{1}{3}AB$$

$$44 \quad \overrightarrow{AX} = \frac{1}{3}\overrightarrow{AB} = \frac{1}{3}(\overrightarrow{AC} + \overrightarrow{CB}) = \frac{1}{3}(-3\vec{a} + 6\vec{b}) = -\vec{a} + 2\vec{b}$$

$$\overrightarrow{CY} = \overrightarrow{CB} + \overrightarrow{BY} = 6\vec{b} + 5\vec{a} - \vec{b} = 5(\vec{a} + \vec{b}) \Rightarrow \vec{a} + \vec{b} = \frac{1}{5}\overrightarrow{CY}$$

$$\overrightarrow{CX} = \overrightarrow{CA} + \overrightarrow{AX} = 3\vec{a} - \vec{a} + 2\vec{b} = 2(\vec{a} + \vec{b}) = \frac{2}{5}\overrightarrow{CY}$$

45	$\overline{LN} = \langle 1, 13, -12 \rangle$ $LN =  \overline{LN}  = \sqrt{1 + 169 + 144} = \sqrt{314}$ $\overline{ML} = \langle 7, -4, 2 \rangle$ $ML =  \overline{ML}  = \sqrt{49 + 16 + 4} = \sqrt{69}$ $\overline{NM} = \langle -8, -9, 10 \rangle$ $NM =  \overline{NM}  = \sqrt{64 + 81 + 100} = \sqrt{245}$ <p>بما أن: <math>(LN)^2 = (ML)^2 + (NM)^2</math> إذ أن: <math>314 = 69 + 245</math>  فإن <math>\triangle LMN</math> قائم الزاوية في <math>M</math> (بعكس نظرية فيثاغورس)</p>
46	<p>مساحة المثلث هي <math>A</math> حيث:</p> $A = \frac{1}{2}(ML)(NM) = \frac{1}{2}\sqrt{69}\sqrt{245} = \frac{7}{2}\sqrt{345}$

الدرس الثاني: المستقيمات في الفضاء

مسألة اليوم صفحة 126

اتجاه مسار الإشارة الأولى:  $\langle -11 - (-1), 9 - 4, 15 - 5 \rangle = \langle -10, 5, 10 \rangle$

ويمكن تبسيطه بالقسمة على 5 دون التأثير على الاتجاه:  $\vec{v}_1 = \langle -2, 1, 2 \rangle$

معادلة مسار الأولى:  $\vec{r} = \langle -1, 4, 5 \rangle + t\langle -2, 1, 2 \rangle$

اتجاه مسار الإشارة الثانية:  $\langle 2 - (-5), -5 - 9, 17 - 3 \rangle = \langle 7, -14, 14 \rangle$

ويمكن تبسيطه بالقسمة على 7 دون التأثير على الاتجاه:  $\vec{v}_2 = \langle 1, -2, 2 \rangle$

معادلة مسار الثانية:  $\vec{r} = \langle -5, 9, 3 \rangle + u\langle 1, -2, 2 \rangle$

نبحث في التقاطع بمساواة متجهي الموقع  $\vec{r}$ :

$$\langle -1 - 2t, 4 + t, 5 + 2t \rangle = \langle -5 + u, 9 - 2u, 3 + 2u \rangle$$

$$-1 - 2t = -5 + u \Rightarrow 2t + u = 4 \dots \dots \dots (1)$$

$$4 + t = 9 - 2u \Rightarrow t + 2u = 5 \dots \dots \dots (2)$$

$$5 + 2t = 3 + 2u \Rightarrow -2t + 2u = 2 \dots \dots \dots (3)$$

نحل المعادلتين (1)، و (2) لإيجاد قيم  $t, u$

$$(1) \times 2 - (2) \Rightarrow 3t = 3 \Rightarrow t = 1 \Rightarrow u = 2$$

نفحص تحقق المعادلة (3) عند هذه القيم  $t=1, u=2$ :

$$-2(1) + 2(2) \stackrel{?}{=} 2$$

$$-2 + 4 = 2 \checkmark$$

إذن، يتقاطع مسارا الإشارةتين عندما يكون  $t=1, u=2$  ولإيجاد نقطة التقاطع نعوض هي النقطة  $t=1$  في

معادلة مسار الإشارة الأولى، فنكون نقطة التقاطع  $(-3, 5, 7)$

أتحقق من فهمي صفحة 127

$$\overline{GH} = \langle -3, -1, 7 \rangle$$

$$\overline{KL} = \langle 3, 2, 0 \rangle$$

a

نلاحظ أنه لا يوجد عدد حقيقي  $c$  يجعل العبارة  $\overline{GH} = c(\overline{KL})$  صحيحة،

ونسنتج أن  $\overline{GH}, \overline{KL}$  غير متوازيين

$$\overline{GL} = \langle 0, 2, 14 \rangle$$

$$\overline{HK} = \langle 0, 1, 7 \rangle$$

b

نلاحظ أن  $\overline{GL} = 2\overline{HK}$

ونسنتج أن  $\overline{GL} \parallel \overline{HK}$

أتحقق من فهمي صفحة 129

$$\overline{UV} = \overline{UR} + \overline{RV}$$

$$= \frac{1}{2}(-4\vec{a}) + \frac{1}{2}(6\vec{b}) = 3\vec{b} - 2\vec{a}$$

$$\overline{ST} = \overline{SR} + \overline{RT}$$

$$= -4\vec{a} + 6\vec{b} = 2(3\vec{b} - 2\vec{a})$$

إذن،  $\overline{ST} = 2\overline{UV}$  ومنه المتجهان  $\overline{ST}, \overline{UV}$  متوازيان.

أتحقق من فهمي صفحة 130

$$\overrightarrow{OF} = \frac{2}{5}(\vec{a} + \vec{b}) \Rightarrow \vec{a} + \vec{b} = \frac{5}{2}\overrightarrow{OF} \dots\dots\dots (1)$$

$$\overrightarrow{OE} = \overrightarrow{OB} + \overrightarrow{BE}$$

$$= \vec{b} + \frac{1}{2}\overrightarrow{BA}$$

$$= \vec{b} + \frac{1}{2}(\overrightarrow{BO} + \overrightarrow{OA})$$

$$= \vec{b} + \frac{1}{2}(-\vec{b} + \vec{a})$$

$$= \frac{1}{2}(\vec{a} + \vec{b})$$

$$\Rightarrow \vec{a} + \vec{b} = 2\overrightarrow{OE} \dots\dots\dots (2)$$

من العلاقتين (1)، و(2) نستنتج أن:

$$\frac{5}{2}\overrightarrow{OF} = 2\overrightarrow{OE} \Rightarrow \overrightarrow{OF} = \frac{4}{5}\overrightarrow{OE}$$

وهذا يعني أن المتجهين  $\overrightarrow{OF}$ ,  $\overrightarrow{OE}$  متوازيان، وبما أنهما ينطلقان من النقطة O نفسها، إذن، النقاط O, E, F تقع على استقامة واحدة.

أتحقق من فهمي صفحة 132

$$\vec{r} = \vec{r}_0 + t\vec{v}$$

$$\vec{r} = \langle 0, -6, 9 \rangle + t\langle 1, -4, -5 \rangle$$

أتحقق من فهمي صفحة 133

$$\overrightarrow{NM} = \langle 3 - 2, 7 - (-4), -9 - 3 \rangle = \langle 1, 11, -12 \rangle$$

$$\vec{r} = \vec{r}_0 + t\vec{v} \Rightarrow \vec{r} = \langle 3, 7, -9 \rangle + t\langle 1, 11, -12 \rangle$$



أتحقق من فهمي صفحة 134

$$\vec{r} = (11 + 7t)\hat{i} + (5 - 2t)\hat{j} + (-6 + 5t)\hat{k}$$

نبحث عن قيمة لـ  $t$  تحقق:  $39\hat{i} - 3\hat{j} + 14\hat{k} = (11 + 7t)\hat{i} + (5 - 2t)\hat{j} + (-6 + 5t)\hat{k}$

$$39 = 11 + 7t \Rightarrow t = 4$$

$$-3 = 5 - 2t \Rightarrow t = 4$$

$$14 = -6 + 5t \Rightarrow t = 4$$

بما أن للمعادلات الثلاث الحل نفسه ( $t = 4$ )، فإن النقطة التي متجه موقعها  $39\hat{i} - 3\hat{j} + 14\hat{k}$  وهي النقطة  $(14, -3, 39)$  تقع على المستقيم  $l$  لأنها تنتج من تعويض  $t = 4$  في معادلتها.

$$t = -3 \Rightarrow \vec{r} = (11 + 7(-3))\hat{i} + (5 - 2(-3))\hat{j} + (-6 + 5(-3))\hat{k}$$

$$= -10\hat{i} + 11\hat{j} - 21\hat{k}$$

متجه الموقع للنقطة  $(v, -3v, 5v - 1)$  هو  $v\hat{i} - 3v\hat{j} + (5v - 1)\hat{k}$

$$v\hat{i} - 3v\hat{j} + (5v - 1)\hat{k} = (11 + 7t)\hat{i} + (5 - 2t)\hat{j} + (-6 + 5t)\hat{k}$$

$$v = 11 + 7t \dots \dots \dots (1)$$

$$-3v = 5 - 2t \dots \dots \dots (2)$$

$$5v - 1 = -6 + 5t \dots \dots \dots (3)$$

$$(1) \times 3 + (2) \Rightarrow 0 = 38 + 19t$$

$$\Rightarrow t = -2$$

$$\Rightarrow v = -3$$

نتحقق من أن  $t = -2$ ، و  $v = -3$  تحققان المعادلة (3)

$$5(-3) - 1 \stackrel{?}{=} -6 + 5(-2)$$

$$-16 = -16 \checkmark$$

إذن، قيمة  $v$  التي تجعل النقطة  $(v, -3v, 5v - 1)$  واقعة على المستقيم  $l$  هي:  $v = -3$

أتحقق من فهمي صفحة 136

اتجاه المستقيم  $l_1$  هو  $\vec{v}_1 = \langle 1, 11, -12 \rangle$

و اتجاه المستقيم  $l_2$  هو  $\vec{v}_2 = \langle 4, -6, 3 \rangle$

وبما أنه لا يوجد عدد حقيقي  $k$  بحيث  $\vec{v}_1 = k\vec{v}_2$  فإن المستقيمين غير متوازيين.  
نساوي  $\vec{r}$  من معادلتَي المستقيمين:

$$\langle 3, 7, -9 \rangle + t\langle 1, 11, -12 \rangle = \langle -30, -6, 30 \rangle + u\langle 4, -6, 3 \rangle$$

$$3 + t = -30 + 4u \Rightarrow t - 4u = -33 \dots \dots \dots (1)$$

$$7 + 11t = -6 - 6u \Rightarrow 11t + 6u = -13 \dots \dots \dots (2)$$

$$-9 - 12t = 30 + 3u \Rightarrow 12t + 3u = -39 \dots \dots \dots (3)$$

$$3 \times (1) + 2 \times (2) \Rightarrow 25t = -125 \Rightarrow t = -5, u = 7$$

نتحقق من أن  $t = -5$  و  $u = 7$  تحققان المعادلة (3)

$$12(-5) + 3(7) \stackrel{?}{=} -39$$

$$-39 = -39 \checkmark$$

بما أن قيمة  $t$ ، وقيمة  $u$  حققنا المعادلات الثلاث، فإن المستقيمين متقاطعان،  
لإيجاد إحداثيات نقطة التقاطع نعوض  $t = -5$  في معادلة  $l_1$ :

$$\vec{r} = \langle 3, 7, -9 \rangle - 5\langle 1, 11, -12 \rangle = \langle -2, -48, 51 \rangle$$

إذن، يتقاطع المستقيمان في النقطة  $(-2, -48, 51)$

أتحقق من فهمي صفحة 138

اتجاه الطائرة الأولى هو  $\vec{v}_1 = \langle 8 - 0, 15 - 7, 16 - 0 \rangle = \langle 8, 8, 16 \rangle$

ويمكن تبسيطه بالقسمة على 8 ليصبح:  $\langle 1, 1, 2 \rangle$

معادلة مسار الأولى:  $\vec{r} = \langle 0, 7, 0 \rangle + t\langle 1, 1, 2 \rangle$

و اتجاه الثانية هو  $\vec{v}_2 = \langle 22 - (-2), 24 - 0, 48 - 0 \rangle = \langle 24, 24, 48 \rangle$

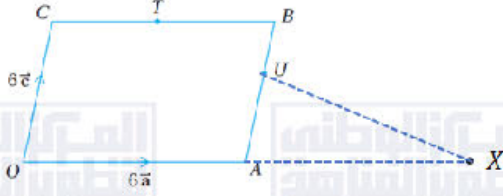
ويمكن تبسيطه بالقسمة على 24 دون تغيير اتجاهه ليصبح:  $\langle 1, 1, 2 \rangle$

معادلة مسار الثانية:  $\vec{r} = \langle -2, 0, 0 \rangle + u\langle 1, 1, 2 \rangle$

نلاحظ أن المسارين متوازيان لأن لهما الاتجاه نفسه.

أُتدرب وأحل المسائل صفحة 139

1	نلاحظ عدم وجود عدد حقيقي $k$ بحيث $\langle 15, 10, -20 \rangle = k\langle 8, 12, 24 \rangle$ إذن، المتجهان غير متوازيين.
2	نلاحظ أن $\langle 27, -48, -36 \rangle = 3\langle 9, -16, -12 \rangle$ إذن، المتجهان متوازيان.
3	نلاحظ عدم وجود عدد حقيقي $k$ بحيث $\langle -6, -4, 10 \rangle = k\langle -3, -1, 13 \rangle$ إذن، المتجهان غير متوازيين.
4	نلاحظ أن $\langle 12, -8, 32 \rangle = \frac{4}{7}\langle 21, -14, 56 \rangle$ إذن، المتجهان متوازيان.
5	$\overline{SQ} = \overline{SP} + \overline{PQ} = -\vec{b} + \vec{a} = \vec{a} - \vec{b}$
6	$\frac{NQ}{SN} = \frac{2}{3} \Rightarrow NQ = \frac{2}{3}SN \Rightarrow SQ = SN + NQ = SN + \frac{2}{3}SN = \frac{5}{3}SN$ $\Rightarrow SQ = \frac{5}{3}SN \Rightarrow SN = \frac{3}{5}SQ \Rightarrow NQ = \frac{2}{5}SQ$ وبما أن الشكل متوازي أضلاع فإن: $\overline{QR} = \overline{PS} = \vec{b}$ $\overline{NR} = \overline{NQ} + \overline{QR} = \frac{2}{5}\overline{SQ} + \overline{QR} = \frac{2}{5}(\vec{a} - \vec{b}) + \vec{b} = \frac{2}{5}\vec{a} + \frac{3}{5}\vec{b}$
7	$\overline{BE} = \overline{BA} + \overline{AE} = \vec{a} + 2\vec{b} \dots \dots \dots (1)$ $\overline{CD} = \overline{CE} + \overline{ED} = -(\vec{b} - 2\vec{a}) - (\vec{a} - 3\vec{b}) = \vec{a} + 2\vec{b} \dots \dots \dots (2)$ $\Rightarrow \overline{BE} = \overline{CD}$ إذن، الضلعان $\overline{BE}$ ، و $\overline{CD}$ متوازيين ولهما الطول نفسه، وهذا يعني أن الشكل $BEDC$ متوازي أضلاع. ويمكن إثبات المطلوب بطريقة أخرى بإيجاد المتجهين $\overline{BC}$ ، $\overline{ED}$ وبيان تساويهما.

8	 $\begin{aligned}\overrightarrow{XT} &= \overrightarrow{XO} + \overrightarrow{OT} = \overrightarrow{XO} + (\overrightarrow{OC} + \overrightarrow{CT}) \\ &= -12\vec{a} + (6\vec{c} + 3\vec{a}) = 6\vec{c} - 9\vec{a} = 3(2\vec{c} - 3\vec{a}) \\ \Rightarrow 2\vec{c} - 3\vec{a} &= \frac{1}{3}\overrightarrow{XT} \\ \overrightarrow{XU} &= \overrightarrow{XA} + \overrightarrow{AU} = \overrightarrow{XA} + \frac{2}{3}\overrightarrow{AB} \\ &= -6\vec{a} + \frac{2}{3}(6\vec{c}) = 4\vec{c} - 6\vec{a} = 2(2\vec{c} - 3\vec{a}) = 2\left(\frac{1}{3}\overrightarrow{XT}\right) \\ \Rightarrow \overrightarrow{XU} &= \frac{2}{3}\overrightarrow{XT}\end{aligned}$ <p>إذن، <math>\overrightarrow{XU}, \overrightarrow{XT}</math> متوازيان، وبما أنهما ينطلقان من النقطة نفسها <math>X</math>، فإن النقاط <math>T, U, X</math> تقع على استقامة واحدة.</p>
9	$\vec{r} = \vec{b} + t\vec{a} \Rightarrow \vec{r} = 5\hat{i} + 3\hat{j} + t(-7\hat{i} + \hat{j})$
10	$\vec{r} = \vec{b} + t\vec{a} \Rightarrow \vec{r} = -2\hat{i} + 8\hat{k} + t(-3\hat{i} + 2\hat{j} - \hat{k})$
11	$\vec{r} = \vec{b} + t\vec{a} \Rightarrow \vec{r} = \langle 9, -2 \rangle + t\langle 4, 3 \rangle$
12	$\vec{r} = \vec{b} + t\vec{a} \Rightarrow \vec{r} = \langle 10, 3, -6 \rangle + t\langle 0, -1, 3 \rangle$
13	$\vec{v} = \langle 10 - 0, 3 - (-1), -6 - 3 \rangle = \langle 10, 4, -9 \rangle$ اتجاه المستقيم: $\vec{r} = \langle 0, -1, 3 \rangle + t\langle 10, 4, -9 \rangle$ معادلة المستقيم:
14	$\vec{v} = \langle 11 - 1, -6 - 4, 9 - 29 \rangle = \langle 10, -10, -20 \rangle$ اتجاه المستقيم: ويمكن تبسيطه بالقسمة على 10 دون التأثير على الاتجاه: $\vec{v} = \langle 1, -1, -2 \rangle$ $\vec{r} = \langle 1, 4, 29 \rangle + t\langle 1, -1, -2 \rangle$ معادلة المستقيم:

15	$\vec{v} = \langle -30 - (-26), -6 - (-12), 30 - 23 \rangle = \langle -4, 6, 7 \rangle$ $\vec{r} = \langle -26, -12, 23 \rangle + t\langle -4, 6, 7 \rangle$	<p>اتجاه المستقيم:</p> <p>معادلة المستقيم:</p>
16	$\vec{v} = \langle -2 - 10, 9 - 5, 1 - (-7) \rangle = \langle -12, 4, 8 \rangle$ $\vec{r} = \langle 10, 5, -7 \rangle + t\langle -3, 1, 2 \rangle$	<p>اتجاه المستقيم:</p> <p>ويمكن تبسيطه بقسمته على 4 إلى <math>\langle -3, 1, 2 \rangle</math></p> <p>معادلة المستقيم:</p>
17	$\langle -2, 2, -1 \rangle + t\langle 1, 2, -1 \rangle = \langle 4, 4, -7 \rangle + u\langle -1, 3, 1 \rangle$ $-2 + t = 4 - u \Rightarrow t + u = 6 \dots \dots \dots (1)$ $2 + 2t = 4 + 3u \Rightarrow 2t - 3u = 2 \dots \dots \dots (2)$ $-1 - t = -7 + u \Rightarrow t + u = 6 \dots \dots \dots (3)$ $3 \times (1) + (2) \Rightarrow 5t = 20 \Rightarrow t = 4, u = 2$	<p>نساوي <math>\vec{r}</math> في معادلتَي المستقيمين:</p> <p>نلاحظ أن المعادلة (3) هي المعادلة (1) نفسها فهي متحققة لقيمتي <math>t = 4, u = 2</math></p> <p>لإيجاد إحداثيات نقطة التقاطع نعوض <math>t = 4</math> في معادلة المستقيم الأول (أو <math>u = 2</math> في معادلة الثاني):</p> <p><math>\vec{r} = \langle -2, 2, -1 \rangle + 4\langle 1, 2, -1 \rangle = \langle 2, 10, -5 \rangle</math></p> <p>إذن، نقطة تقاطع المستقيمين هي: <math>(2, 10, -5)</math></p>
18	$\overline{EF} = \langle -14, 14, 21 \rangle \Rightarrow \vec{v}_1 = \langle -2, 2, 3 \rangle$ $\overline{GH} = \langle -6, 6, 9 \rangle \Rightarrow \vec{v}_2 = \langle -2, 2, 3 \rangle$	<p>نلاحظ أن <math>\vec{v}_1 = \vec{v}_2</math> فالمتجهان وكذلك المستقيمان متوازيان.</p>

$$\overrightarrow{EF} = \langle -1, -11, 12 \rangle = \vec{v}_1$$

$$\overrightarrow{HG} = \langle 21, 35, -49 \rangle \Rightarrow \vec{v}_2 = \langle 3, 5, -7 \rangle$$

وبما أنه لا يوجد عدد حقيقي  $k$  يحقق  $\vec{v}_1 = k\vec{v}_2$  فالمتجهان وكذلك المستقيمان غير متوازيين.

$$\vec{r} = \langle 3, 7, -9 \rangle + t\langle -1, -11, 12 \rangle : \text{معادلة } \overrightarrow{EF}$$

$$\vec{r} = \langle 3, -21, 20 \rangle + u\langle 3, 5, -7 \rangle : \text{معادلة } \overrightarrow{GH}$$

نساوي  $\vec{r}$  في معادلتَي المستقيمين ونساوي الإحداثيات المتناظرة:

$$\langle 3, 7, -9 \rangle + t\langle -1, -11, 12 \rangle = \langle 3, -21, 20 \rangle + u\langle 3, 5, -7 \rangle$$

$$3 - t = 3 + 3u \Rightarrow t + 3u = 0 \dots\dots\dots (1)$$

19  $7 - 11t = -21 + 5u \Rightarrow 11t + 5u = 28 \dots\dots (2)$

$$-9 + 12t = 20 - 7u \Rightarrow 12t + 7u = 29 \dots\dots (3)$$

$$- - 5 \times (1) + 3 \times (2) \Rightarrow 28t = 84 \Rightarrow t = 3, u = -1$$

نحصر تحقق المعادلة (3) عندما  $t = 3, u = -1$

$$12(3) + 7(-1) \stackrel{?}{=} 29$$

$$29 = 29 \checkmark$$

فالمستقيمان منقطعان. نجد نقطة التقاطع بتعويض  $t=3$  في معادلة  $\overrightarrow{EF}$  (أو  $u=-1$  في معادلة  $\overrightarrow{GH}$ ):

$$\vec{r} = \langle 3, 7, -9 \rangle + 3\langle -1, -11, 12 \rangle = \langle 0, -26, 27 \rangle$$

إذن، نقطة تقاطع المستقيمين هي:  $(0, -26, 27)$

20

$$\overrightarrow{AB} = \langle 12, -4, -8 \rangle \Rightarrow \vec{v} = \langle 3, -1, -2 \rangle$$

$$\vec{r} = \langle -2, 9, 1 \rangle + t\langle 3, -1, -2 \rangle : \text{معادلة المستقيم } \overrightarrow{AB}$$

21	<p>متجه الموقع للنقطة <math>(19,2,-13)</math> هو: <math>\langle 19,2,-13 \rangle</math></p> $\Rightarrow \langle 19,2,-13 \rangle = \langle -2 + 3t, 9 - t, 1 - 2t \rangle$ $19 = -2 + 3t \Rightarrow t = 7$ $2 = 9 - t \Rightarrow t = 7$ $-13 = 1 - 2t \Rightarrow t = 7$ <p>بما أن للمعادلات الثلاث الحل نفسه <math>(t = 7)</math>، فإن النقطة <math>(19,2,-13)</math> تقع على المستقيم <math>l</math> لأنها تنتج من تعويض <math>t = 7</math> في معادلاته.</p>
22	<p>بما أن النقطة <math>(1, a, -1)</math> تقع على المستقيم <math>l</math>، فإنها تحقق معادلاته، أي أن:</p> $\langle 1, a, -1 \rangle = \langle -2 + 3t, 9 - t, 1 - 2t \rangle$ $\Rightarrow 1 = -2 + 3t \Rightarrow t = 1$ $a = 9 - t = 9 - 1 \Rightarrow a = 8$
23	<p>بما أن النقطة <math>(-8, b, c)</math> تقع على المستقيم <math>l</math>، فإنها تحقق معادلاته، أي أن:</p> $\langle -8, b, c \rangle = \langle -2 + 3t, 9 - t, 1 - 2t \rangle$ $\Rightarrow -2 + 3t = -8 \Rightarrow t = -2$ $b = 9 - t = 9 - (-2) \Rightarrow b = 11$ $c = 1 - 2t = 1 - 2(-2) \Rightarrow c = 5$
24	<p>بما أن النقطة المطلوبة تقع في المستوى <math>xz</math> فإن الإحداثي <math>y</math> لها يساوي صفرًا</p> $\langle x, 0, z \rangle = \langle -2 + 3t, 9 - t, 1 - 2t \rangle$ $9 - t = 0 \Rightarrow t = 9$ $x = -2 + 3t = -2 + 3(9) \Rightarrow x = 25$ $z = 1 - 2t = 1 - 2(9) \Rightarrow z = -17$ <p>إذن، النقطة المطلوبة هي: <math>(25,0,-17)</math></p>

$$3\vec{n} + b\vec{m} = \langle -15, 12, 3a \rangle + \langle b, -2b, 3b \rangle$$

$$= \langle -15 + b, 12 - 2b, 3a + 3b \rangle$$

وبما أن هذا المتجه يوازي المتجه  $\langle 3, -3, 5 \rangle$ ، فإن:

$$\langle -15 + b, 12 - 2b, 3a + 3b \rangle = k\langle 3, -3, 5 \rangle$$

25

$$\Rightarrow -15 + b = 3k \dots (1)$$

$$12 - 2b = -3k \dots (2)$$

$$3a + 3b = 5k \dots (3)$$

$$(1) \times 2 + (2) \Rightarrow -18 = 3k \Rightarrow k = -6, \quad b = -3, \quad a = -7$$

اتجاه المحور  $y$  الموجب هو  $\begin{pmatrix} 0 \\ 1 \\ 0 \end{pmatrix}$ ، وبما أن اتجاه  $\vec{v}$  هو اتجاه المحور  $y$  الموجب، فإن:

$$\vec{v} = k \begin{pmatrix} 0 \\ 1 \\ 0 \end{pmatrix} = \begin{pmatrix} 0 \\ k \\ 0 \end{pmatrix}, \quad k > 0$$

$$\begin{pmatrix} 3a + b \\ -5a + 4b \\ 6a + bc \end{pmatrix} = \begin{pmatrix} 0 \\ k \\ 0 \end{pmatrix}$$

26

$$|\vec{v}| = |k| = 34 \Rightarrow k = 34$$

$$3a + b = 0 \dots (1)$$

$$-5a + 4b = 34 \dots (2)$$

$$6a + bc = 0 \dots (3)$$

$$-4 \times (1) + (2) \Rightarrow -17a = 34 \Rightarrow a = -2, \quad b = 6$$

بتعويض قيمة  $a$  وقيمة  $b$  في المعادلة (3) نجد أن:

$$6(-2) + 6c = 0 \Rightarrow c = 2$$



$$\overline{BC} = 18\hat{i} - 12\hat{j} + 6\hat{k} \Rightarrow \vec{v} = 3\hat{i} - 2\hat{j} + \hat{k}$$

معادلة المستقيم  $\overline{BC}$  هي:

$$\vec{r} = -4\hat{i} + 13\hat{j} - \hat{k} + t(3\hat{i} - 2\hat{j} + \hat{k})$$

27

متجه موقع النقطة  $A$  يحقق هذه المعادلة لأن النقطة  $A$  تقع على المستقيم  $\overline{BC}$

$$\Rightarrow 2\hat{i} + p\hat{j} + q\hat{k} = -4\hat{i} + 13\hat{j} - \hat{k} + t(3\hat{i} - 2\hat{j} + \hat{k})$$

نساوي المعاملات المتناظرة في طرفي المعادلة:

$$\Rightarrow 2 = -4 + 3t \Rightarrow t = 2$$

$$p = 13 - 2t \Rightarrow p = 13 - 2(2) = 9$$

استكمالاً لما سبق في السؤال 27 بمقارنة معامل  $\hat{k}$  في المعادلة

28

$$\hat{i} + p\hat{j} + q\hat{k} = -4\hat{i} + 13\hat{j} - \hat{k} + t(3\hat{i} - 2\hat{j} + \hat{k})$$

نستنتج أن:

$$q = -1 + t = -1 + 2 = 1$$

معادلة  $\overline{AB}$  هي معادلة  $\overline{BC}$  نفسها

$$\vec{r} = (-4 + 3t)\hat{i} + (13 - 2t)\hat{j} + (-1 + t)\hat{k}$$

متجه موقع أي نقطة في المستوى  $yz$  يكون على الصورة  $y\hat{j} + z\hat{k}$

إذن، لإيجاد نقطة التقاطع نبحث عن قيم  $z, y, t$  التي تحقق المعادلة:

$$y\hat{j} + z\hat{k} = (-4 + 3t)\hat{i} + (13 - 2t)\hat{j} + (-1 + t)\hat{k}$$

29

$$0 = -4 + 3t \Rightarrow t = \frac{4}{3}$$

$$y = 13 - 2t \Rightarrow y = 13 - \frac{8}{3} = \frac{31}{3}$$

$$z = -1 + t \Rightarrow z = -1 + \frac{4}{3} = \frac{1}{3}$$

إذن، النقطة المطلوبة هي:  $(0, \frac{31}{3}, \frac{1}{3})$

30	<p><math>A(2,9,1), C(14,1,5)</math></p> <p><math>AC = \sqrt{12^2 + (-8)^2 + 4^2} = \sqrt{224} = 4\sqrt{14}</math></p>
31	<p>ميل <math>\overline{AB}</math>: <math>m = \frac{y_2 - y_1}{x_2 - x_1} = \frac{3 - 2}{2 - 1} = 1</math></p> <p>المعادلة الديكارتية للمستقيم <math>\overline{AB}</math>: <math>y - 2 = 1(x - 1) \Rightarrow y = x + 1</math></p> <p>اتجاه <math>\overline{AB}</math>: <math>\vec{v} = \langle 1, 1 \rangle</math></p> <p>المعادلة المتجهة للمستقيم <math>\overline{AB}</math>: <math>\vec{r} = \vec{r}_0 + t\vec{v} \Rightarrow \vec{r} = \langle 1, 2 \rangle + t\langle 1, 1 \rangle</math></p> <p><math>\vec{v}</math> تقابل الميل <math>m</math>، و <math>\vec{r}_0</math> تقابل المقطع <math>y</math> في المعادلة الديكارتية.</p> <p>يمكن الوصول للمعادلة الديكارتية من المعادلة المتجهة وذلك بحذف المتغير الوسيط <math>t</math> من المعادلة المتجهة:</p> <p><math>\vec{r} = \langle x, y \rangle = \langle 1 + t, 2 + t \rangle</math></p> <p><math>\Rightarrow x = 1 + t \Rightarrow t = x - 1</math></p> <p><math>y = 2 + t \Rightarrow y = 2 + x - 1 \Rightarrow y = x + 1</math></p>
32	<p><math>\overline{AB} = \langle 1, 1, -1 \rangle</math></p> <p>اتجاه المستقيم <math>l_1</math> هو: <math>\vec{v}_1 = \langle 1, 1, -1 \rangle</math></p> <p>ومعادلته هي: <math>\vec{r} = \langle -3, -1, 12 \rangle + t\langle 1, 1, -1 \rangle</math></p>
33	<p>بما أن <math>l_1 \parallel l_2</math> فلهما الاتجاه نفسه <math>\vec{v}_1 = \langle 1, 1, -1 \rangle</math> أعلاه.</p> <p>إذن، معادلة <math>l_2</math>: <math>\vec{r} = \langle 11, 9, 12 \rangle + u\langle 1, 1, -1 \rangle</math></p>
34	<p><math>M = \left( \frac{-1 - 3}{2}, \frac{-2 + 4}{2}, \frac{1 - 5}{2} \right) = (-2, 1, -2)</math></p>

$C(0, -2, 4)$

$A(-1, -2, 1)$

$M$   $N$

$B(-3, 4, -5)$

35

$$|\overline{NC}| = 2|\overline{BN}| \Rightarrow NC = 2BN$$

$$\overline{BC} = \overline{BN} + \overline{NC} = \overline{BN} + 2\overline{BN} = 3\overline{BN} \Rightarrow \overline{BN} = \frac{1}{3}\overline{BC}$$

$$\overline{MN} = \overline{MB} + \overline{BN} = \overline{MB} + \frac{1}{3}\overline{BC}$$

$$\overline{MB} = \langle -3 - (-2), 4 - 1, -5 - (-2) \rangle = \langle -1, 3, -3 \rangle$$

$$\overline{BC} = \langle 0 - (-3), -2 - 4, 4 - (-5) \rangle = \langle 3, -6, 9 \rangle$$

$$\Rightarrow \overline{MN} = \langle -1, 3, -3 \rangle + \frac{1}{3}\langle 3, -6, 9 \rangle = \langle 0, 1, 0 \rangle = \overline{v}$$

$$\vec{r} = \vec{r}_0 + t\vec{v} \Rightarrow \vec{r} = \langle -2, 1, -2 \rangle + t\langle 0, 1, 0 \rangle \quad \text{معادلة المستقيم } \overline{MN} \text{ المتجهة هي:}$$

$$\overrightarrow{PQ} = \langle 3, -5, -1 \rangle = \vec{v}_1 : \overrightarrow{PQ} \text{ اتجاه}$$

$$\vec{r} = \langle -2, -3, 3 \rangle + t \langle 3, -5, -1 \rangle : \overrightarrow{PQ} \text{ معادلة}$$

$$\overrightarrow{RS} = \langle 12, -15, a + 1 \rangle = \vec{v}_2 : \overrightarrow{RS} \text{ اتجاه}$$

$$\vec{r} = \langle 0, -8, -1 \rangle + u \langle 12, -15, a + 1 \rangle : \overrightarrow{RS} \text{ معادلة}$$

نساوي  $\vec{r}$  في المعادلتين ونساوي إحداثياتهما المتناظرة:

$$\langle -2, -3, 3 \rangle + t \langle 3, -5, -1 \rangle = \langle 0, -8, -1 \rangle + u \langle 12, -15, a + 1 \rangle$$

$$\Rightarrow -2 + 3t = 12u \dots \dots \dots (1)$$

$$-3 - 5t = -8 - 15u \Rightarrow 1 - t = -3u \dots \dots \dots (2)$$

$$3 - t = -1 + u(a + 1) \Rightarrow 4 - t = u(a + 1) \dots \dots (3)$$

بحل المعادلتين (1) و (2)، نجد أن:  $u = \frac{1}{3}, t = 2$

وبتعويز القيمتين  $t = 2, u = \frac{1}{3}$  في المعادلة (3) كونهما يحققانها لأن المستقيمين متقاطعين نجد أن:

$$4 - 2 = \frac{1}{3}(a + 1) \Rightarrow 6 = a + 1 \Rightarrow a = 5$$

نجد نقطة التقاطع بتعويز  $t = 2$  في معادلة  $\overrightarrow{PQ}$ :

$$\vec{r} = \langle -2, -3, 3 \rangle + 2 \langle 3, -5, -1 \rangle = \langle 4, -13, 1 \rangle$$

إذن، نقطة التقاطع هي:  $(4, -13, 1)$

37	<p><math>\overline{AB} = \langle 70, 140, 130 \rangle</math></p> <p>يمكن تبسيط اتجاه <math>\overline{AB}</math>: <math>\vec{v}_1 = \langle 7, 14, 13 \rangle</math></p> <p>وتكون معادلته: <math>\vec{r} = \langle 30, -75, 90 \rangle + t\langle 7, 14, 13 \rangle</math></p> <p><math>\overline{CD} = \langle 140, 40, -40 \rangle</math></p> <p>يمكن تبسيط اتجاه <math>\overline{CD}</math>: <math>\vec{v}_2 = \langle 7, 2, -2 \rangle</math></p> <p>وتكون معادلته: <math>\vec{r} = \langle -20, 45, 200 \rangle + u\langle 7, 2, -2 \rangle</math></p> <p>المستقيمان ليسا متوازيين لأن اتجاهيهما ليسا متوازيين (<math>\vec{v}_1 \neq k\vec{v}_2</math>)</p> <p>نبحث عن تقاطع المستقيمين بمحاولة إيجاد <math>t, u</math> بحيث:</p> <p><math>\langle 30 + 7t, -75 + 14t, 90 + 13t \rangle = \langle -20 + 7u, 45 + 2u, 200 - 2u \rangle</math></p> <p><math>30 + 7t = -20 + 7u \Rightarrow u = \frac{50}{7} + t \dots \dots (1)</math></p> <p><math>-75 + 14t = 45 + 2u \Rightarrow u = -60 + 7t \dots \dots (2)</math></p> <p><math>90 + 13t = 200 - 2u \Rightarrow 13t + 2u = 110 \dots \dots (3)</math></p> <p>بحل المعادلتين (1) و (2) نجد أن: <math>t = \frac{235}{21}, u = \frac{385}{21}</math></p> <p>لكن هاتين القيمتين لا تحققان المعادلة (3)</p> <p>إذن المستقيمان غير متقاطعين لعدم تحقق المعادلات الثلاث معًا، وهما غير متوازيين كما وضعنا سابقًا، فهما إذن متخالفان.</p>
38	تم حلها في موضعها تحت عنوان "مسألة اليوم"

$$\overrightarrow{QS} = \langle 2, -8, 16 \rangle$$

يمكن تبسيط اتجاه  $\overrightarrow{QS}$ :  $\vec{v}_1 = \langle 1, -4, 8 \rangle$

إذن معادلة  $l_1$  هي:  $\vec{r} = \langle -6, 14, -19 \rangle + t\langle 1, -4, 8 \rangle$

معادلة  $l_2$  هي:  $\vec{r} = \langle 1, 9, 9 \rangle + u\langle 4, 7, 4 \rangle$

لإيجاد نقطة تقاطعهما، نجد قيم  $u, t$  اللتين تجعلان  $\vec{r}$  في المعادلتين متساويين:

$$\langle -6 + t, 14 - 4t, -19 + 8t \rangle = \langle 1 + 4u, 9 + 7u, 9 + 4u \rangle$$

$$-6 + t = 1 + 4u \Rightarrow t - 4u = 7 \dots\dots\dots (1)$$

$$14 - 4t = 9 + 7u \Rightarrow 4t + 7u = 5 \dots\dots\dots (2)$$

$$-19 + 8t = 9 + 4u \Rightarrow 4t - 2u = 14 \dots\dots\dots (3)$$

39

$$(3) - (2): 9u = -9 \Rightarrow u = -1, \quad t = 3$$

وهاتان القيمتان تحققان أيضًا المعادلة (1)

نجد نقطة تقاطع  $l_1$  و  $l_2$  بتعويض  $t = 3$  في معادلة  $l_1$ :

$$\vec{r} = \langle -6, 14, -19 \rangle + 3\langle 1, -4, 8 \rangle = \langle -3, 2, 5 \rangle$$

إذن، نقطة تقاطع  $l_1$  و  $l_2$  هي:  $U(-3, 2, 5)$

الآن لدينا أيضًا  $T(1, 9, 9), S(-4, 6, -3)$

$$TU = \sqrt{16 + 49 + 16} = 9$$

$$SU = \sqrt{1 + 16 + 64} = 9$$

بما أن  $TU = SU$  إذن،  $\Delta STU$  متطابق الضلعين.

$$\overrightarrow{MN} = \overrightarrow{MD} + \overrightarrow{DN} = \frac{1}{3}\overrightarrow{ED} + \frac{1}{3}\overrightarrow{DF} = \frac{1}{3}(-12\vec{a} + 8\vec{b})$$

$$\overrightarrow{EF} = \overrightarrow{ED} + \overrightarrow{DF} = -12\vec{a} + 8\vec{b}$$

$$\Rightarrow \overrightarrow{MN} = \frac{1}{3}\overrightarrow{EF}$$

وهذا يثبت أن  $\overrightarrow{MN} \parallel \overrightarrow{EF}$

إذن الشكل  $FEMN$  رباعي فيه ضلعان متوازيان والضلعان الآخران غير متوازيين، فهو شبه منحرف.

40

41	<p>يمكن حل هذا السؤال بتوظيف تشابه المثلثات. أو باستخدام مساحة المثلث بدلالة طولي ضلعين فيه وجيب الزاوية المحصورة بينهما، كالاتي: ليكن <math>A_2</math> مساحة <math>\triangle DEF</math> ، <math>A_1</math> مساحة <math>\triangle DMN</math></p> $A_2 = \frac{1}{2}(DE)(DF) \sin D$ $A_1 = \frac{1}{2}(DM)(DN) \sin D$ $\frac{A_2}{A_1} = \frac{DN}{DF} \times \frac{DM}{DE} = \frac{1}{3} \times \frac{1}{3} = \frac{1}{9}$ $\Rightarrow \frac{A_2}{72} = \frac{1}{9} \Rightarrow A_2 = 8$ <p>مساحة شبه المنحرف <math>FEMN</math> تساوي: <math>A_1 - A_2 = 72 - 8 = 64</math> إذن مساحة الشكل <math>FEMN</math> تساوي 64 وحدة مربعة.</p>
42	<p><math>\vec{AB} = \langle 9, -12, -6 \rangle</math></p> <p>يمكن تبسيط اتجاه <math>\vec{AB}</math>: <math>\vec{v} = \langle 3, -4, -2 \rangle</math></p> <p>إذن معادلة <math>\vec{AB}</math> هي: <math>\vec{r} = \langle 13, -10, 15 \rangle + t\langle 3, -4, -2 \rangle</math></p> <p>النقطة الواقعة على <math>\vec{AB}</math> تكون إحداثياتها على الصورة: <math>C = (13 + 3t, -10 - 4t, 15 - 2t)</math></p> $BC = 2AC \Rightarrow (BC)^2 = 4(AC)^2$ $\Rightarrow (13 + 3t - 22)^2 + (-10 - 4t + 22)^2 + (15 - 2t - 9)^2 = 4((3t)^2 + (-4t)^2 + (-2t)^2)$ $\Rightarrow 87t^2 + 174t - 261 = 0$ $\Rightarrow t^2 + 2t - 3 = 0$ $\Rightarrow (t + 3)(t - 1) = 0$ $\Rightarrow t = -3, \quad t = 1$ $t = -3 \Rightarrow C(4, 2, 21)$ $t = 1 \Rightarrow C(16, -14, 13)$



النقاط الواقعة على المستقيم المعطى تكون إحداثياتها على الصورة:

$$P(3 + t, -2 + 2t, -6 + 3t)$$

$$OP = \sqrt{(3 + t)^2 + (-2 + 2t)^2 + (-6 + 3t)^2} = 29$$

نربع الطرفين ونفك الأقواس، فنحصل على:

$$14t^2 - 38t - 792 = 0$$

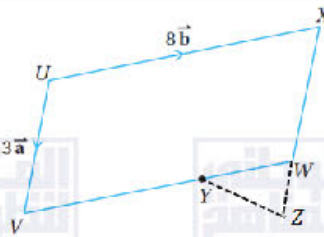
$$43 \Rightarrow 7t^2 - 19t - 396 = 0$$

$$\Rightarrow (t - 9)(7t + 44) = 0$$

$$\Rightarrow t = 9, \quad t = -\frac{44}{7}$$

إذن، لدينا نقطتان تحققان المطلوب هما:

$$P_1 = (12, 16, 21), P_2 = \left(-\frac{23}{7}, -\frac{102}{7}, -\frac{174}{7}\right)$$



$$\overrightarrow{XZ} = \frac{4}{3}\overrightarrow{XW} = \frac{4}{3}\overrightarrow{UV} = \frac{4}{3}(3\vec{a}) = 4\vec{a}$$

$$44 \Rightarrow \overrightarrow{XW} + \overrightarrow{WZ} = 4\vec{a} \Rightarrow \overrightarrow{WZ} = 4\vec{a} - 3\vec{a} = \vec{a}$$

$$\frac{YW}{VY} = \frac{1}{3} \Rightarrow \frac{YW}{VW} = \frac{1}{1+3} = \frac{1}{4} \Rightarrow \overrightarrow{YW} = 2\vec{b}, \quad \overrightarrow{VY} = 6\vec{b}$$

$$\overrightarrow{UY} = \overrightarrow{UV} + \overrightarrow{VY} = 3\vec{a} + 6\vec{b} = 3(\vec{a} + 2\vec{b}) \dots \dots \dots (1)$$

$$\overrightarrow{YZ} = \overrightarrow{YW} + \overrightarrow{WZ} = 2\vec{b} + \vec{a} \dots \dots \dots (2)$$

$$\Rightarrow \overrightarrow{UY} = 3\overrightarrow{YZ} \Rightarrow \overrightarrow{YZ} \parallel \overrightarrow{UY}$$

وبما أنهما ينطلقان من النقطة Y إذن، النقاط U, Z, Y تقع على استقامة واحدة.



الدرس الثالث: الضرب القياسي

مسألة اليوم صفحة 143

اتجاه مسار الصاروخ الأول:  $\vec{v} = \langle 8, 11, 20 \rangle$

اتجاه مسار الصاروخ الثاني:  $\vec{u} = \langle 10, 4, 16 \rangle$

$$|\vec{v}| = \sqrt{64 + 121 + 400} = \sqrt{585} = 3\sqrt{65}$$

$$|\vec{u}| = \sqrt{100 + 16 + 256} = \sqrt{372} = 2\sqrt{93}$$

$$\vec{u} \cdot \vec{v} = 8(10) + 11(4) + 20(16) = 80 + 44 + 320 = 444$$

تكن  $\theta$  قياس الزاوية بين مساري الصاروخين، إذن:

$$\theta = \cos^{-1} \left( \frac{\vec{u} \cdot \vec{v}}{|\vec{v}| |\vec{u}|} \right) = \cos^{-1} \left( \frac{444}{3\sqrt{65} \times 2\sqrt{93}} \right) = \cos^{-1} \left( \frac{74}{\sqrt{6045}} \right) \approx 17.9^\circ$$

أتحقق من فهمي صفحة 144

a  $\vec{v} \cdot \vec{w} = 4(-3) + 8(7) - 3(2) = -12 + 56 - 6 = 38$

b  $\vec{m} \cdot \vec{n} = -3(-12) + 5(6) - 1(-8) = 36 + 30 + 8 = 74$

أتحقق من فهمي صفحة 146

$$|\vec{u}| = \sqrt{9 + 25 + 16} = \sqrt{50}$$

$$|\vec{w}| = \sqrt{16 + 4 + 9} = \sqrt{29}$$

a  $\vec{u} \cdot \vec{w} = -3(4) + 5(2) - 4(-3) = -12 + 10 + 12 = 10$

$$\theta = \cos^{-1} \left( \frac{\vec{u} \cdot \vec{w}}{|\vec{u}| |\vec{w}|} \right) = \cos^{-1} \left( \frac{10}{\sqrt{50} \times \sqrt{29}} \right) = \cos^{-1} \left( \frac{10}{\sqrt{1450}} \right) \approx 74.8^\circ$$

$$|\vec{u}| = \sqrt{4 + 100 + 36} = \sqrt{140}$$

$$|\vec{w}| = \sqrt{9 + 225 + 81} = \sqrt{315}$$

$$\vec{u} \cdot \vec{w} = 2(-3) - 10(15) + 6(9) = -6 - 150 - 54 = -210$$

$$b \quad \theta = \cos^{-1} \left( \frac{\vec{u} \cdot \vec{w}}{|\vec{u}| |\vec{w}|} \right) = \cos^{-1} \left( \frac{-210}{\sqrt{140} \times \sqrt{315}} \right) = \cos^{-1} \left( \frac{-210}{\sqrt{44100}} \right)$$

$$= \cos^{-1}(-1) = 180^\circ$$

ملحوظة:  $\vec{u} = -\frac{2}{3}\vec{w}$  وبالتالي فإن اتجاهيهما متعاكسان، وقياس الزاوية بينهما  $180^\circ$

أتحقق من فهمي صفحة 147

اتجاه المستقيم  $l_1$  هو  $\vec{v} = \langle 2, -5, -1 \rangle$  واتجاه المستقيم  $l_2$  هو  $\vec{u} = \langle 1, 0, -3 \rangle$

$$|\vec{v}| = \sqrt{4 + 25 + 1} = \sqrt{30}$$

$$|\vec{u}| = \sqrt{1 + 0 + 9} = \sqrt{10}$$

$$\vec{v} \cdot \vec{u} = 1(2) + 0(-5) - 3(-1) = 2 + 3 = 5$$

$$\theta = \cos^{-1} \left( \frac{\vec{u} \cdot \vec{v}}{|\vec{u}| |\vec{v}|} \right) = \cos^{-1} \left( \frac{5}{\sqrt{10} \times \sqrt{30}} \right) = \cos^{-1} \left( \frac{5}{\sqrt{300}} \right) \approx 73^\circ$$

إذن، قياس الزاوية الحادة بين المستقيمين  $l_1$ ، و  $l_2$  هو  $73^\circ$  تقريباً.

أتحقق من فهمي صفحة 149

$$\overrightarrow{GF} = \langle -1, 4, 6 \rangle$$

$$|\overrightarrow{GF}| = \sqrt{1 + 16 + 36} = \sqrt{53}$$

$$\overrightarrow{GE} = \langle -4, 4, -2 \rangle$$

$$|\overrightarrow{GE}| = \sqrt{16 + 16 + 4} = 6$$

$$\overrightarrow{GF} \cdot \overrightarrow{GE} = -1(-4) + 4(4) + 6(-2) = 4 + 16 - 12 = 8$$

ليكن قياس الزاوية EGF هو  $\theta$ ، إذن:

$$\theta = \cos^{-1} \left( \frac{\overrightarrow{GF} \cdot \overrightarrow{GE}}{|\overrightarrow{GF}| |\overrightarrow{GE}|} \right) = \cos^{-1} \left( \frac{8}{6\sqrt{53}} \right) \approx 79.4^\circ$$

$$A = \frac{1}{2} |\overrightarrow{GF}| \times |\overrightarrow{GE}| \sin \theta \approx \frac{1}{2} \times 6\sqrt{53} \sin 79.4^\circ \approx 21.5$$

ويمكن إيجاد المساحة بإيجاد  $\sin \theta$  من معرفتنا بقيمة  $\cos \theta$  من دون إيجاد الزاوية  $\theta$  كما يأتي:

$$\cos \theta = \frac{4}{3\sqrt{53}} \Rightarrow \sin \theta = \sqrt{1 - \left( \frac{4}{3\sqrt{53}} \right)^2} = \sqrt{\frac{477 - 16}{477}} = \frac{\sqrt{461}}{3\sqrt{53}}$$

$$\Rightarrow A = \frac{1}{2} \times 6\sqrt{53} \times \frac{\sqrt{461}}{3\sqrt{53}} = \sqrt{461} \approx 21.5$$

أتحقق من فهمي صفحة 151

اتجاه المستقيم المعطى  $l$  هو:  $\vec{v} = \langle 5, 7, -3 \rangle$

افرض أن مسقط النقطة  $P$  على  $l$  هو النقطة  $F$ ، فيكون متجه موقعها هو:

$$\vec{OF} = (16 + 5t)\hat{i} + (11 + 7t)\hat{j} - (3 + 3t)\hat{k}$$

ويكون العمود من  $P$  على  $l$  هو  $\vec{PF}$  حيث

$$\Rightarrow \vec{PF} = \vec{OF} - \vec{OP} = (16 + 5t)\hat{i} + (11 + 7t)\hat{j} - (3 + 3t)\hat{k} - (2\hat{i} + \frac{10}{3}\hat{k})$$

a 
$$\vec{PF} = (14 + 5t)\hat{i} + (11 + 7t)\hat{j} - \left(\frac{19}{3} + 3t\right)\hat{k}$$

ولأن المتجهين  $\vec{PF}$  و  $\vec{v}$  متعامدان فإن:  $\vec{PF} \cdot \vec{v} = 0$

$$\Rightarrow 5(14 + 5t) + 7(11 + 7t) - 3\left(-\frac{19}{3} - 3t\right) = 0 \Rightarrow t = -2$$

$$\Rightarrow \vec{OF} = (16 + 5(-2))\hat{i} + (11 + 7(-2))\hat{j} - (3 + 3(-2))\hat{k} = 6\hat{i} - 3\hat{j} + 3\hat{k}$$

إذن، مسقط العمود من النقطة  $P$  على المستقيم  $l$  هو النقطة  $F(6, -3, 3)$

b 
$$PF = \sqrt{(6 - 2)^2 + (-3 - 0)^2 + \left(3 - \frac{10}{3}\right)^2} = \frac{\sqrt{226}}{3}$$

أتحقق من فهمي صفحة 154

$$\vec{DE} = \langle 7, 8, 2 \rangle$$

$$|\vec{DE}| = \sqrt{49 + 64 + 4} = \sqrt{117}$$

$$\vec{DB} = \langle 8, 4, -8 \rangle$$

a 
$$|\vec{DB}| = \sqrt{64 + 16 + 64} = 12$$

$$\vec{DE} \cdot \vec{DB} = 7(8) + 8(4) + 2(-8) = 72$$

$$\theta = \cos^{-1}\left(\frac{\vec{DE} \cdot \vec{DB}}{|\vec{DE}||\vec{DB}|}\right) = \cos^{-1}\left(\frac{72}{12\sqrt{117}}\right) = \cos^{-1}\left(\frac{6}{\sqrt{117}}\right) \approx 56.3^\circ$$

	$AB = \sqrt{8^2 + (-2)^2 + (-2)^2} = \sqrt{72}$ <p>ارتفاع الهرم هو طول العمود المرسوم من الرأس E إلى قاعدته وهو EM، حيث M هي نقطة منتصف أحد قطري القاعدة المربعة:</p> $M = \left(\frac{1+9}{2}, \frac{1-7}{2}, \frac{-1+3}{2}\right) = (5, -3, 1)$ $EM = \sqrt{(-3)^2 + (-6)^2 + (-6)^2} = 9$ <p>حجم الهرم يساوي ثلث مساحة قاعدته في ارتفاعه.</p> $V = \frac{1}{3}(\sqrt{72})^2(9) = 72(3) = 216$ <p>إذن، حجم الهرم يساوي 216 وحدة مكعبة.</p>
<b>أنترب وأحل المسائل صفحة 154</b>	
1	$\vec{u} \cdot \vec{v} = 5(7) - 4(6) + 3(-2) = 5$
2	$\vec{u} \cdot \vec{v} = 4(12) - 8(9) - 3(-8) = 0$
3	$\vec{u} \cdot \vec{v} = -5(4) + 9(6) + 17(-2) = 0$
4	$\vec{u} \cdot \vec{v} = 1(3) - 4(10) + 12(-5) = -97$
5	$ \vec{m}  = \sqrt{16 + 4 + 25} = \sqrt{45}$ $ \vec{n}  = \sqrt{9 + 16 + 4} = \sqrt{29}$ $\vec{m} \cdot \vec{n} = 4(3) - 2(4) + 5(-2) = -6$ $\theta = \cos^{-1}\left(\frac{\vec{m} \cdot \vec{n}}{ \vec{m}  \vec{n} }\right) = \cos^{-1}\left(\frac{-6}{\sqrt{45} \times \sqrt{29}}\right) = \cos^{-1}\left(\frac{-6}{\sqrt{1305}}\right) = 99.6^\circ$
6	$ \vec{v}  = \sqrt{9 + 4 + 81} = \sqrt{94}$ $ \vec{w}  = \sqrt{25 + 9 + 16} = \sqrt{50}$ $\vec{v} \cdot \vec{w} = 3(5) - 2(3) + 9(-4) = -27$ $\theta = \cos^{-1}\left(\frac{\vec{v} \cdot \vec{w}}{ \vec{v}  \vec{w} }\right) = \cos^{-1}\left(\frac{-27}{\sqrt{94} \times \sqrt{50}}\right) \approx 113.2^\circ$

7	$\vec{AO} = \langle -3, -5, 4 \rangle$ $ \vec{AO}  = \sqrt{9 + 25 + 16} = \sqrt{50}$ $\vec{AB} = \langle 4, -1, 1 \rangle$ $ \vec{AB}  = \sqrt{16 + 1 + 1} = \sqrt{18}$ $\vec{AO} \cdot \vec{AB} = -3(4) - 5(-1) + 4(1) = -3$ $\theta = \cos^{-1} \left( \frac{\vec{AO} \cdot \vec{AB}}{ \vec{AO}   \vec{AB} } \right) = \cos^{-1} \left( \frac{-3}{\sqrt{50} \times \sqrt{18}} \right) = \cos^{-1}(-0.1) \approx 96^\circ$
8	<p>اتجاه المستقيم <math>l_1</math> هو: <math>\vec{v} = \langle -3 - 2, 5 + 1, 7 - 4 \rangle = \langle -5, 6, 3 \rangle</math></p> <p>اتجاه المستقيم <math>l_2</math> هو: <math>\vec{w} = \langle 1 - 6, 2 + 5, -1 - 3 \rangle = \langle -5, 7, -4 \rangle</math></p> $ \vec{v}  = \sqrt{25 + 36 + 9} = \sqrt{70}$ $ \vec{w}  = \sqrt{25 + 49 + 16} = \sqrt{90}$ $\vec{v} \cdot \vec{w} = -5(-5) + 6(7) + 3(-4) = 55$ $\theta = \cos^{-1} \left( \frac{\vec{v} \cdot \vec{w}}{ \vec{v}   \vec{w} } \right) = \cos^{-1} \left( \frac{55}{\sqrt{6300}} \right) \approx 46.1^\circ$ <p>إذن، قياس الزاوية الحادة بين المستقيمين <math>l_1</math> و <math>l_2</math> هو <math>46.1^\circ</math> تقريباً.</p>
9	<p>اتجاه المستقيم الأول هو <math>\vec{v} = \langle -6, q + 5, 3 \rangle</math></p> <p>واتجاه المستقيم الثاني هو <math>\vec{u} = \langle 5, q - 6, -4 \rangle</math></p> <p>المستقيمان متعامدان، فاتجاههما متعامدان، أي أن: <math>\vec{v} \cdot \vec{u} = 0</math></p> $\Rightarrow -6(5) + (q + 5)(q - 6) + 3(-4) = 0$ $\Rightarrow q^2 - q - 72 = 0$ $\Rightarrow (q - 9)(q + 8) = 0$ $\Rightarrow q = 9, \text{ or } q = -8$

لتكن  $A$  هي المسقط العمودي للنقطة  $P$  على المستقيم  $l$ ، فإن متجه موقعها هو:

$$\overrightarrow{OA} = \langle -t, 2 + 2t, -3 + 5t \rangle$$

وإذا كان  $\overrightarrow{AP}$  هو العمود من  $P$  على المستقيم  $l$ ، فإن:  $\overrightarrow{AP} = \overrightarrow{OP} - \overrightarrow{OA}$

$$\begin{aligned} \Rightarrow \overrightarrow{AP} &= \langle -2 + t, 22 - (2 + 2t), 5 - (-3 + 5t) \rangle \\ &= \langle -2 + t, 20 - 2t, 8 - 5t \rangle \end{aligned}$$

10

بما أن  $\overrightarrow{AP}$  يعامد  $l$  إذن:  $\overrightarrow{AP} \cdot \langle -1, 2, 5 \rangle = 0$

$$\Rightarrow -1(-2 + t) + 2(20 - 2t) + 5(8 - 5t) = 0$$

$$\Rightarrow t = \frac{41}{15}$$

$$\Rightarrow \overrightarrow{OA} = \left\langle -\frac{41}{15}, \frac{112}{15}, \frac{32}{3} \right\rangle$$

إذن، مسقط العمود من  $P$  على المستقيم  $l$  هو  $A\left(-\frac{41}{15}, \frac{112}{15}, \frac{32}{3}\right)$

11

$$AP = \sqrt{\left(-2 + \frac{41}{15}\right)^2 + \left(22 - \frac{112}{15}\right)^2 + \left(5 - \frac{32}{3}\right)^2} = \frac{\sqrt{54870}}{15} \approx 15.6$$

$$|\overrightarrow{AB}| = \sqrt{16 + 81 + 1} = \sqrt{98}$$

$$|\overrightarrow{AC}| = \sqrt{81 + 1 + 16} = \sqrt{98}$$

$$\overrightarrow{AB} \cdot \overrightarrow{AC} = 9(4) + 1(9) + 4(1) = 49$$

12

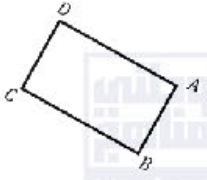
ليكن  $\theta$  قياس الزاوية  $BAC$

$$\theta = \cos^{-1} \left( \frac{\overrightarrow{AB} \cdot \overrightarrow{AC}}{|\overrightarrow{AB}| |\overrightarrow{AC}|} \right) = \cos^{-1} \left( \frac{49}{\sqrt{98} \times \sqrt{98}} \right) = \cos^{-1} \left( \frac{1}{2} \right) = 60^\circ$$

$$Area = \frac{1}{2} |\overrightarrow{AB}| \times |\overrightarrow{AC}| \sin \theta = \frac{1}{2} \sqrt{98} \times \sqrt{98} \sin 60^\circ = \frac{49\sqrt{3}}{2}$$

13	$\vec{AB} = \langle 1, 4, -4 \rangle \Rightarrow  \vec{AB}  = \sqrt{1 + 16 + 16} = \sqrt{33}$ $\vec{AC} = \langle 3, -8, 1 \rangle \Rightarrow  \vec{AC}  = \sqrt{9 + 64 + 1} = \sqrt{74}$ $\vec{AB} \cdot \vec{AC} = 1(3) + 4(-8) - 4(1) = -33$ <p>ليكن <math>\theta</math> قياس الزاوية <math>BAC</math></p> $\theta = \cos^{-1} \left( \frac{\vec{AB} \cdot \vec{AC}}{ \vec{AB}   \vec{AC} } \right) = \cos^{-1} \left( \frac{-33}{\sqrt{33} \times \sqrt{74}} \right) = \cos^{-1} \left( -\sqrt{\frac{33}{74}} \right)$ $\cos \theta = -\sqrt{\frac{33}{74}} \Rightarrow \sin \theta = \sqrt{1 - \frac{33}{74}} = \sqrt{\frac{41}{74}}$ $\text{Area} = \frac{1}{2}  \vec{AB}  \times  \vec{AC}  \sin \theta = \frac{1}{2} \sqrt{33} \times \sqrt{74} \sqrt{\frac{41}{74}} = \frac{\sqrt{1353}}{2} \approx 18.4$
14	$\vec{d} = \langle 8, 3, 6 \rangle, \vec{F} = \langle 5, -3, 1 \rangle$ $W = \vec{F} \cdot \vec{d} = 5(8) - 3(3) + 1(6) = 37J$
15	$\vec{RS} = \langle -16, 8, 12 \rangle$ <p>إذن، يمكن تبسيط اتجاه المستقيم <math>l</math> بقسمة <math>RS</math> على 4:</p> $\vec{v} = \langle -4, 2, 3 \rangle$ <p>معادلة المستقيم <math>l</math> هي: <math>\vec{r} = \langle 11, -9, 11 \rangle + t \langle -4, 2, 3 \rangle</math></p> <p>النقطة <math>Q</math> هي المسقط العمودي للنقطة <math>O</math> على هذا المستقيم، فيكون متجه موقعها <math>\vec{OQ}</math> هو:</p> $\vec{OQ} = \langle 11 - 4t, -9 + 2t, 11 + 3t \rangle$ <p>بما أن <math>l</math> و <math>\vec{OQ}</math> متعامدان، فإن: <math>\vec{OQ} \cdot \vec{v} = 0</math></p> $\Rightarrow -4(11 - 4t) + 2(-9 + 2t) + 3(11 + 3t) = 0 \Rightarrow t = 1$ $\Rightarrow \vec{OQ} = \langle 7, -7, 14 \rangle$



16	$\overline{OA} = \langle -4, 13, 22 \rangle, \overline{OB} = \langle 4, 17, 14 \rangle, \overline{OD} = \langle 2, -29, 7 \rangle$ $\overline{AD} = \langle 2 + 4, -29 - 13, 7 - 22 \rangle = \langle 6, -42, -15 \rangle$ $\overline{AB} = \langle 4 + 4, 17 - 13, 14 - 22 \rangle = \langle 8, 4, -8 \rangle$ $\overline{AB} \cdot \overline{AD} = 6(8) - 42(4) - 15(-8) = 0$ <p>إذن، <math>\overline{AB} \perp \overline{AD}</math></p>
17	<p>ارسم شكل مستوي تقريبي يوضح المسألة (المهم ترتيب رؤوس المستطيل ABCD بالتوالي مع عقارب الساعة أو عكس عقارب الساعة)، أينما كان موقع O، فإن:</p> $\overline{OC} = \overline{OB} + \overline{BC} = \overline{OB} + \overline{AD}$ $= \langle 4, 17, 14 \rangle + \langle 6, -42, -15 \rangle = \langle 10, -25, -1 \rangle$ <p>(ويمكن أيضاً إيجاد <math>\overline{OC}</math> عبر الرأس D من العلاقة: <math>\overline{OC} = \overline{OD} + \overline{DC} = \overline{OD} + \overline{AB}</math>)</p> 
18	$ \overline{AD}  = \sqrt{36 + 1764 + 225} = \sqrt{2025} = 45$ $ \overline{AB}  = \sqrt{64 + 16 + 64} = \sqrt{144} = 12$ $Area = (45)(12) = 540$ <p>إذن، مساحة ABCD تساوي 540 وحدة مربعة.</p>
19	<p>مركز المستطيل هو نقطة تقاطع قطريه وهي نقطة منتصف كل من القطرين. نأخذ القطر <math>\overline{BD}</math> ولنكن نقطة منتصفه E، فإن:</p> $E \left( \frac{4 + 2}{2}, \frac{17 - 29}{2}, \frac{14 + 7}{2} \right) = \left( 3, -6, \frac{21}{2} \right)$ $\Rightarrow \overline{OE} = \left\langle 3, -6, \frac{21}{2} \right\rangle$

إيجاد نقطة تقاطع  $l_1$  و  $l_2$  نسوي  $\vec{r}$  في معادلتيهما ونساوي الإحداثيات المتناظرة:

$$\langle -5 + 3t, 7 + t, 1 + 4t \rangle = \langle 2 + 2u, 8, -1 - 3u \rangle$$

$$-5 + 3t = 2 + 2u \Rightarrow 3t - 2u = 7 \dots \dots \dots (1)$$

$$7 + t = 8 \Rightarrow t = 1$$

$$1 + 4t = -1 - 3u \Rightarrow 4t + 3u = -2 \dots \dots \dots (2)$$

بتعويض  $t = 1$  في المعادلتين (1)، و (2) نجد أن  $u = -2$

إيجاد إحداثيات نقطة التقاطع نعوض  $t = 1$  في معادلة  $l_1$

$$\vec{r} = \langle -5 + 3(1), 7 + 1, 1 + 4(1) \rangle = \langle -2, 8, 5 \rangle$$

20

إذن نقطة تقاطع  $l_1$  و  $l_2$  هي  $T(-2, 8, 5)$

F هو المسقط العمودي للنقطة T على  $l_3$ ، إذن

$$\vec{OF} = \langle 3 - v, 19 + 3v, 10 + v \rangle$$

$$\vec{TF} = \langle 3 - v - (-2), 19 + 3v - 8, 10 + v - 5 \rangle$$

$$= \langle 5 - v, 11 + 3v, v + 5 \rangle$$

اتجاه  $l_3$  هو  $\vec{w} = \langle -1, 3, 1 \rangle$

لكن  $\vec{TF}$  يعامد  $l_3$  إذن،  $\vec{TF} \cdot \vec{w} = 0$

$$\Rightarrow -1(5 - v) + 3(11 + 3v) + 1(v + 5) = 0 \Rightarrow v = -3$$

$$\Rightarrow \vec{OF} = \langle 3 - (-3), 19 + 3(-3), 10 - 3 \rangle \Rightarrow F(6, 10, 7)$$

21

$$\vec{TF} = \langle -8, 2, -2 \rangle \Rightarrow |\vec{TF}| = \sqrt{64 + 4 + 4} = 6\sqrt{2}$$

22	<p><math>\overline{AB} = \langle 2, 5, -1 \rangle</math></p> <p>وهذا هو اتجاه المستقيم <math>\overline{AB}</math></p> <p>اتجاه المستقيم <math>l</math> هو: <math>\vec{v} = \langle -1, 3, 1 \rangle</math></p> <p><math> \overline{AB}  = \sqrt{4 + 25 + 1} = \sqrt{30}</math></p> <p><math> \vec{v}  = \sqrt{1 + 9 + 1} = \sqrt{11}</math></p> <p><math>\overline{AB} \cdot \vec{v} = 2(-1) + 5(3) - 1(1) = 12</math></p> <p><math>\theta = \cos^{-1} \left( \frac{\overline{AB} \cdot \vec{v}}{ \overline{AB}   \vec{v} } \right) = \cos^{-1} \left( \frac{12}{\sqrt{30} \times \sqrt{11}} \right) \approx 48.7^\circ</math></p>
23	<p>بما أن A, B, C على استقامة واحدة، و <math>AB=AC</math> إذن، <math>A(3, -2, 1)</math> هي نقطة منتصف <math>BC</math> حيث:</p> <p><math>C(x, y, z), B(5, 3, 0)</math></p> <p><math>\Rightarrow \left( \frac{x+5}{2}, \frac{y+3}{2}, \frac{z+0}{2} \right) = (3, -2, 1)</math></p> <p><math>\Rightarrow \frac{x+5}{2} = 3 \Rightarrow x = 1</math></p> <p><math>\frac{y+3}{2} = -2 \Rightarrow y = -7</math></p> <p><math>\frac{z+0}{2} = 1 \Rightarrow z = 2</math></p> <p>إذن إحداثيات النقطة C هي: <math>(1, -7, 2)</math></p>
24	<p>متجه موقع أي نقطة على <math>l_2</math> يكون <math>\vec{r} = \langle 6 - t, 11 + 3t, 7 + 2t \rangle</math></p> <p>حتى تقع B على <math>l_2</math> ينبغي وجود قيمة t تحقق المعادلة: <math>\langle 6 - t, 11 + 3t, 7 + 2t \rangle = \langle 8, 5, 3 \rangle</math></p> <p><math>\Rightarrow 6 - t = 8 \Rightarrow t = -2</math></p> <p><math>11 + 3t = 5 \Rightarrow t = -2</math></p> <p><math>7 + 2t = 3 \Rightarrow t = -2</math></p> <p>لهذه المعادلات الثلاث الحل نفسه <math>t = -2</math>،</p> <p>إذن، B تقع على المستقيم <math>l_2</math> لأنها تنتج من تعويض <math>t = -2</math> في معادلته.</p>

25	<p>اتجاه <math>l_1</math> هو: <math>\overline{AB} = \langle 15, 9, -6 \rangle</math></p> <p>ويمكن تبسيطه إلى <math>\overline{u} = \langle 5, 3, -2 \rangle</math></p> <p>اتجاه <math>l_2</math> هو: <math>\overline{v} = \langle -1, 3, 2 \rangle</math></p> <p><math>\overline{u} \cdot \overline{v} = 5(-1) + 3(3) - 2(2) = 0</math></p> <p>إذن، المستقيمان <math>l_1</math> و <math>l_2</math> متعامدان.</p>
26	<p>بما أن المستقيمين <math>l_1</math> و <math>l_2</math> متعامدان، ونقطة التقائهما هي B (كونها واقعة على كل منهما مما سبق)</p> <p>إذن، <math>m\angle ABC = 90^\circ</math></p>
27	<p>المثلث ABC قائم في B.</p> $AB = \sqrt{15^2 + 9^2 + (-6)^2} = \sqrt{342}$ $BC = \sqrt{2^2 + (-6)^2 + (-4)^2} = \sqrt{56} = 2\sqrt{14}$ $Area = \frac{1}{2}(AB)(BC) = \frac{1}{2}\sqrt{342} \times 2\sqrt{14} = \sqrt{4788} \approx 69.2$ <p>إذن، مساحة المثلث ABC تساوي 69.2 وحدة مربعة تقريباً.</p>
28	<p><math>\overline{AB} = \langle -8, 2, 3 \rangle \Rightarrow  \overline{AB}  = \sqrt{64 + 4 + 9} = \sqrt{77}</math></p> <p><math>\overline{AC} = \langle 2, -4, 1 \rangle \Rightarrow  \overline{AC}  = \sqrt{4 + 16 + 1} = \sqrt{21}</math></p> <p><math>\overline{AB} \cdot \overline{AC} = -8(2) + 2(-4) + 3(1) = -21</math></p> <p>ليكن <math>\theta</math> قياس الزاوية BAC</p> $\theta = \cos^{-1} \left( \frac{\overline{AB} \cdot \overline{AC}}{ \overline{AB}   \overline{AC} } \right) = \cos^{-1} \left( \frac{-21}{\sqrt{77} \times \sqrt{21}} \right) = \cos^{-1} \left( -\frac{\sqrt{3}}{\sqrt{11}} \right)$ $\cos \theta = -\frac{\sqrt{3}}{\sqrt{11}} \Rightarrow \sin \theta = \sqrt{1 - \frac{3}{11}} = \sqrt{\frac{8}{11}} = \frac{2\sqrt{2}}{\sqrt{11}}$ $Area = \frac{1}{2}  \overline{AB}  \times  \overline{AC}  \sin \theta = \frac{1}{2} \sqrt{77} \times \sqrt{21} \times \frac{2\sqrt{2}}{\sqrt{11}} = 7\sqrt{6}$

29	$\overrightarrow{EA} = \langle 3, 1, -2 \rangle, \overrightarrow{ED} = \langle 9, 9, 18 \rangle$ $\overrightarrow{EA} \cdot \overrightarrow{ED} = 3(9) + 1(9) - 2(18) = 0$ <p>إذن، <math>\overrightarrow{EA} \perp \overrightarrow{ED}</math> وقياس الزاوية <math>AED</math> هو <math>90^\circ</math></p>
30	$ \overrightarrow{DE}  = \sqrt{81 + 81 + 324} = 9\sqrt{6}$ <p>و يمثل ارتفاع الهرم <math>h</math>، أما مساحة قاعدته فهي <math>A = 7\sqrt{6}</math> وذلك من السؤال 28، إذن، حجم الهرم هو:</p> $V = \frac{1}{3}Ah = \frac{1}{3} \times 7\sqrt{6} \times 9\sqrt{6} = 126$ <p>إذن، حجم الهرم يساوي 126 وحدة مكعبة.</p>
31	$\overrightarrow{AC} = \begin{pmatrix} 5 \\ -5 \\ 0 \end{pmatrix} = 5 \begin{pmatrix} 1 \\ -1 \\ 0 \end{pmatrix}$ <p>وتكون قيمة <math>n</math> هي 5</p>
32	$\overrightarrow{CA} = \langle -5, 5, 0 \rangle \Rightarrow  \overrightarrow{CA}  = \sqrt{25 + 25 + 0} = 5\sqrt{2}$ $\overrightarrow{CB} = \langle -3, 2, 6 \rangle \Rightarrow  \overrightarrow{CB}  = \sqrt{9 + 4 + 36} = 7$ $\overrightarrow{CA} \cdot \overrightarrow{CB} = -5(-3) + 5(2) + 0(6) = 25$ <p>ليكن <math>\theta</math> قياس الزاوية <math>ACB</math></p> $\theta = \cos^{-1} \left( \frac{\overrightarrow{AB} \cdot \overrightarrow{AC}}{ \overrightarrow{AB}   \overrightarrow{AC} } \right) = \cos^{-1} \left( \frac{25}{35 \cdot \sqrt{2}} \right)$ $= \cos^{-1} \left( \frac{5}{7\sqrt{2}} \right) = \cos^{-1} \left( \frac{5\sqrt{2}}{14} \right)$
33	$\overrightarrow{AC} = \langle 5, -5, 0 \rangle$ <p>ويمكن التعبير عن اتجاه المستقيم <math>\overrightarrow{AC}</math> بالمتجه <math>\vec{v} = \langle 1, -1, 0 \rangle</math></p> <p>وتكون معادلته: <math>\vec{r} = \langle 8, -4, -6 \rangle + t \langle 1, -1, 0 \rangle</math></p>

34	$\overline{BD} = \langle 1, 1, p \rangle$ <p>ويمكن التعبير عن اتجاه المستقيم <math>\overline{BD}</math> بالمتجه <math>\vec{v} = \langle 1, 1, p \rangle</math></p> <p>معادلة <math>\overline{BD}</math>: <math>\vec{r} = \langle 5, -2, 0 \rangle + u\langle 1, 1, p \rangle</math></p> <p>يتقاطع المستقيمان، إذن، يوجد <math>u, t</math> بحيث تتساوى لهما <math>\vec{r}</math> في المعادلتين:</p> $\langle 8 + t, -4 - t, -6 \rangle = \langle 5 + u, -2 + u, up \rangle$ $8 + t = 5 + u \Rightarrow t - u = -3 \dots \dots \dots (1)$ $-4 - t = -2 + u \Rightarrow t + u = -2 \dots \dots \dots (2)$ $up = -6 \dots \dots \dots (3)$ <p>بجمع المعادلتين (1) و (2)، نجد أن: <math>u = \frac{1}{2}, t = -\frac{5}{2}</math>، ثم بالتعويض في (3) نجد أن: <math>p = -12</math></p> <p><math>D(6, -1, -12)</math></p>
35	$\left. \begin{array}{l} \overline{AB} = \langle 2, -3, 6 \rangle \\ \overline{DC} = \langle 2, -3, 6 \rangle \end{array} \right\} \Rightarrow \overline{AB} = \overline{DC} \dots \dots \dots (1)$ $\left. \begin{array}{l} \overline{BC} = \langle 3, -2, -6 \rangle \\ \overline{AD} = \langle 3, -2, -6 \rangle \end{array} \right\} \Rightarrow \overline{BC} = \overline{AD} \dots \dots \dots (2)$ <p>من (1) و (2) ينتج ان الشكل <math>ABCD</math> متوازي أضلاع. والآن نجد طول <math>\overline{AB}</math>، و <math>\overline{AD}</math>:</p> $AB =  \overline{AB}  = \sqrt{4 + 9 + 36} = \sqrt{49} = 7$ $AD =  \overline{AD}  = \sqrt{9 + 4 + 36} = \sqrt{49} = 7$ <p>وبما أن <math>ABCD</math> متوازي أضلاع فيه ضلعان متجاوران متطابقان فهو معين جميع أضلاعه متطابقة طول كل واحد منها 7 وحدات.</p>
36	<p>تم حل هذا السؤال في موضعه تحت عنوان "مسألة اليوم"</p>

بما أن  $\angle CDA$  قائمة، فالنقطة  $D$  هي المسقط العمودي للنقطة  $C$  على المستقيم  $\overrightarrow{AB}$ ، ويمكن إيجاد إحداثياتها كما يأتي:

$$\overrightarrow{AB} = \langle -2, -3, 5 \rangle$$

$$\vec{r} = \langle 3, -2, 4 \rangle + t \langle -2, -3, 5 \rangle \quad \text{معادلة المستقيم } \overrightarrow{AB} \text{ هي:}$$

بما أن النقطة  $D$  تقع على  $\overrightarrow{AB}$  فإن:

$$\overrightarrow{OD} = \langle 3 - 2t, -2 - 3t, 4 + 5t \rangle$$

37

$$\overrightarrow{CD} = \langle 3 - 2t + 4, -2 - 3t - 5, 4 + 5t + 1 \rangle = \langle 7 - 2t, -7 - 3t, 5 + 5t \rangle$$

$$\overrightarrow{CD} \perp \overrightarrow{AB} \Rightarrow \overrightarrow{CD} \cdot \overrightarrow{AB} = 0$$

$$\Rightarrow -2(7 - 2t) - 3(-7 - 3t) + 5(5 + 5t) \Rightarrow t = -\frac{16}{19}$$

$$\Rightarrow \overrightarrow{OD} = \langle 3 - 2\left(-\frac{16}{19}\right), -2 - 3\left(-\frac{16}{19}\right), 4 + 5\left(-\frac{16}{19}\right) \rangle = \left\langle \frac{89}{19}, \frac{10}{19}, -\frac{4}{19} \right\rangle$$

إن، إحداثيات  $D$  هي:  $\left(\frac{89}{19}, \frac{10}{19}, -\frac{4}{19}\right)$

الزاوية  $RPQ$  هي الزاوية المحصورة بين المستقيمين  $l_1$ ، و  $l_2$  وتساوي الزاوية بين اتجاهيهما.

$$\vec{v} = \begin{pmatrix} 3 \\ -6 \\ 7 \end{pmatrix} \text{ اتجاه } l_2 \text{ هو: ، } \vec{u} = \begin{pmatrix} 7 \\ -3 \\ -6 \end{pmatrix} \text{ اتجاه } l_1 \text{ هو:}$$

38

$$m\angle RPQ = \theta \Rightarrow \cos \theta = \frac{\vec{u} \cdot \vec{v}}{|\vec{u}| |\vec{v}|} = \frac{21 + 18 - 42}{\sqrt{49 + 9 + 36} \times \sqrt{9 + 36 + 49}}$$

$$= \frac{-3}{\sqrt{94} \times \sqrt{94}} = \frac{-3}{94}$$

إيجاد مساحة  $PQR$  يتعين معرفة متجهين يمثلان اثنين من أضلاعه، ولذا نلزمنا معرفة إحداثيات رؤوسه. الرأس  $P$  هو نقطة تقاطع المستقيمين  $l_1$ ، و  $l_2$ ، ونجدها بمساواة  $\vec{r}$  في المعادلتين ومساواة الإحداثيات المتناظرة:

$$\langle -8 + 7t, 16 - 3t, 1 - 6t \rangle = \langle -10 + 3u, 31 - 6u, -26 + 7u \rangle$$

$$\Rightarrow -8 + 7t = -10 + 3u \Rightarrow 7t - 3u = -2 \dots \dots \dots (1)$$

$$16 - 3t = 31 - 6u \Rightarrow -3t + 6u = 15 \dots \dots \dots (2)$$

$$1 - 6t = -26 + 7u \Rightarrow 7u + 6t = 27 \dots \dots \dots (3)$$

بحل النظام نجد أن:  $t = 1, u = 3$

إيجاد إحداثيات  $P$  نعوض  $t = 1$  في معادلة  $l_1$ :

$$\vec{r} = \langle -8 + 7, 16 - 3, 1 - 6 \rangle = \langle -1, 13, -5 \rangle$$

$$\Rightarrow P(-1, 13, -5)$$

نجد إحداثيات  $Q$  بتعويض  $t = 3$  في معادلة  $l_1$ :

$$\vec{r} = \langle -8 + 21, 16 - 9, 1 - 18 \rangle$$

$$\Rightarrow Q(13, 7, -17)$$

النقطة  $R$  تقع على المستقيم  $l_2$ ، فمتجه موقعها هو:

$$\langle -10 + 3u, 31 - 6u, -26 + 7u \rangle$$

39

$$\overrightarrow{PQ} = \langle 13, 7, -17 \rangle - \langle -1, 13, -5 \rangle = \langle 14, -6, -12 \rangle$$

$$\overrightarrow{PR} = \langle -10 + 3u, 31 - 6u, -26 + 7u \rangle - \langle -1, 13, -5 \rangle$$

$$= \langle -9 + 3u, 18 - 6u, -21 + 7u \rangle$$

$$PR = PQ \Rightarrow |\overrightarrow{PR}| = |\overrightarrow{PQ}|$$

$$\Rightarrow (-9 + 3u)^2 + (18 - 6u)^2 + (-21 + 7u)^2 = 14^2 + (-6)^2 + (-12)^2$$

$$94u^2 - 564u + 470 = 0 \Rightarrow u^2 - 6u + 5 = 0$$

$$\Rightarrow u = 1 \text{ أو } u = 5$$

لكن  $u > 3$ ، فإن  $u = 5$ ، وتكون  $R(5, 1, 9)$

لدينا:  $R(5, 1, 9), Q(13, 7, -17), P(-1, 13, -5)$

$$|\overrightarrow{PR}| = |\overrightarrow{PQ}| = \sqrt{14^2 + (-6)^2 + (-12)^2} = \sqrt{376}$$

$$Area(PQR) = \frac{1}{2} |\overrightarrow{PQ}| \times |\overrightarrow{PR}| \sin \theta$$

$$\sin \theta = \sqrt{1 - \frac{9}{94^2}} = \sqrt{\frac{8827}{8836}}$$

$$Area(PQR) = \frac{1}{2} \sqrt{376} \times \sqrt{376} \times \sqrt{\frac{8827}{8836}} = 2\sqrt{8827}$$



	<p style="text-align: right;">تكن <math>H(x, y, z)</math></p> $\overline{BH} = \overline{BA} + \overline{AD} + \overline{DH} \quad (\overline{DH} = \overline{AE})$ $\langle x - 8, y - 3, z + 2 \rangle = \langle -2, -4, -4 \rangle + \langle -10, 10, -5 \rangle + \langle -6, -3, 6 \rangle$ $\Rightarrow \langle x - 8, y - 3, z + 2 \rangle = \langle -18, 3, -3 \rangle$ <p>40 <math>\Rightarrow x - 8 = -18 \Rightarrow x = -10</math></p> $y - 3 = 3 \Rightarrow y = 6$ $z + 2 = -3 \Rightarrow z = -5$ $\Rightarrow H(-10, 6, -5)$ <p>ملحوظة: توجد طرق أخرى للحل، منها التدرج بإيجاد إحداثيات A ثم E ثم H...</p>
41	<p>يمكن بالطرق الواردة في حل السؤال السابق إيجاد إحداثيات كل من C, G وإكمال الحل لحساب قياس الزاوية المطلوبة تقليديًا، هنا سنستفيد من حقيقة أن GC و AC متعامدان (أي أن <math>\Delta ACG</math> قائم في C) ليكن <math>m\angle GAC = \theta</math></p> $\tan \theta = \frac{ \overline{CG} }{ \overline{AC} } = \frac{ \overline{AE} }{ \overline{AB} + \overline{AD} } = \frac{ \langle -6, -3, 6 \rangle }{ \langle 2, 4, 4 \rangle + \langle -10, 10, -5 \rangle } = \frac{ \langle -6, -3, 6 \rangle }{ \langle -8, 14, -1 \rangle }$ $= \frac{\sqrt{36 + 9 + 36}}{\sqrt{64 + 196 + 1}} = \frac{\sqrt{81}}{\sqrt{261}} = \frac{9}{3\sqrt{29}} = \frac{3}{\sqrt{29}} \Rightarrow \theta = \tan^{-1} \frac{3}{\sqrt{29}} \approx 29.1^\circ$

$$\overrightarrow{XD} = \overrightarrow{XE} + \overrightarrow{EA} + \overrightarrow{AD}$$

$$= \frac{1}{2}\overrightarrow{FE} - \overrightarrow{AE} + \overrightarrow{AD}$$

$$= -\frac{1}{2}\overrightarrow{AB} - \overrightarrow{AE} + \overrightarrow{AD}$$

$$= \langle -1, -2, -2 \rangle - \langle -6, -3, 6 \rangle + \langle -10, 10, -5 \rangle$$

$$= \langle -5, 11, -13 \rangle$$

$$\Rightarrow |\overrightarrow{XD}| = \sqrt{25 + 121 + 169} = \sqrt{315}$$

$$\overrightarrow{XC} = \overrightarrow{XF} + \overrightarrow{FB} + \overrightarrow{BC}$$

$$= \frac{1}{2}\overrightarrow{EF} - \overrightarrow{AE} + \overrightarrow{AD}$$

$$= \frac{1}{2}\overrightarrow{AB} - \overrightarrow{AE} + \overrightarrow{AD}$$

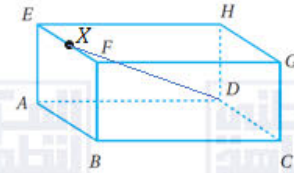
$$= \langle 1, 2, 2 \rangle - \langle -6, -3, 6 \rangle + \langle -10, 10, -5 \rangle$$

$$= \langle -3, 15, -9 \rangle$$

$$\Rightarrow |\overrightarrow{XC}| = \sqrt{9 + 225 + 81} = \sqrt{315}$$

$$\overrightarrow{XD} \cdot \overrightarrow{XC} = -5(-3) + 11(15) - 13(-9) = 297$$

$$\cos \theta = \frac{\overrightarrow{XD} \cdot \overrightarrow{XC}}{|\overrightarrow{XD}| |\overrightarrow{XC}|} = \frac{297}{315} = \frac{33}{35}$$



42

اختبار نهاية الوحدة صفحة 158

1	$b$
2	$d$
3	$c$
4	$d$
5	$b$
6	$c$
7	$a$
8	$d$
9	$\overrightarrow{BA} = \langle -3, 1, -2 \rangle \Rightarrow  \overrightarrow{BA}  = \sqrt{9 + 1 + 4} = \sqrt{14}$ $\overrightarrow{BC} = \langle -2, 4, 3 \rangle \Rightarrow  \overrightarrow{BC}  = \sqrt{4 + 16 + 9} = \sqrt{29}$ $\overrightarrow{BA} \cdot \overrightarrow{BC} = -3(-2) + 1(4) - 2(3) = 4$ $\theta = \cos^{-1} \left( \frac{\overrightarrow{BA} \cdot \overrightarrow{BC}}{ \overrightarrow{BA}   \overrightarrow{BC} } \right) = \cos^{-1} \left( \frac{4}{\sqrt{14} \times \sqrt{29}} \right) \approx 78.5^\circ$
10	<p>إذن، يوجد عدد حقيقي مثل <math>c</math> بحيث:</p> $\langle h - 2, 5, -3 \rangle \parallel \langle 3 - h, 5, k - 1 \rangle$ <p>إذن، على استقامة واحدة، إذن، <math>\overrightarrow{EF} \parallel \overrightarrow{FG}</math>، ومنه:</p> $\langle h - 2, 5, -3 \rangle = c \langle 3 - h, 5, k - 1 \rangle$ $\Rightarrow 5c = 5 \Rightarrow c = 1$ $h - 2 = (3 - h)c \Rightarrow h - 2 = 3 - h \Rightarrow h = \frac{5}{2}$ $(k - 1)c = -3 \Rightarrow k - 1 = -3 \Rightarrow k = -2$

11	$\overline{AB} = \langle -2, -3, 2 \rangle$ $\vec{r} = \langle 3, -2, 4 \rangle + t \langle -2, -3, 2 \rangle$ <p>معادلة المستقيم <math>\overline{AB}</math> هي:</p> $\Rightarrow \overline{OD} = \langle 3 - 2t, -2 - 3t, 4 + 2t \rangle$ $\overline{CD} = \langle 3 - 2t, -2 - 3t, 4 + 2t \rangle - \langle -4, 5, -1 \rangle = \langle 7 - 2t, -7 - 3t, 5 + 2t \rangle$ $\overline{CD} \perp \overline{AB} \Rightarrow \overline{CD} \cdot \overline{AB} = 0$ $\Rightarrow -2(7 - 2t) - 3(-7 - 3t) + 2(5 + 2t) = 0$ $\Rightarrow t = -1$ $\Rightarrow \overline{OD} = \langle 3 + 2, -2 + 3, 4 - 2 \rangle = \langle 5, 1, 2 \rangle \Rightarrow D(5, 1, 2)$
12	<p>لإيجاد نقطة التقاطع، نساوي <math>\vec{r}</math> في المعادلتين ونساوي إحداثياتهما المتناظرة لنجد قيمة الوسيطين <math>\mu</math>، و <math>\lambda</math>:</p> $\langle -2 - 5\lambda, -5, 9 + 7\lambda \rangle = \langle -3 + 2\mu, -17 + 4\mu, 5 - \mu \rangle$ $-17 + 4\mu = -5 \Rightarrow \mu = 3$ $-2 - 5\lambda = -3 + 2\mu \Rightarrow \lambda = -1$ <p>وهاتان القيمتان تحققان المعادلة الثالثة الآتية:</p> $9 + 7\lambda = 5 - \mu$ $9 + 7(-1) = 5 - 3$ $2 = 2 \checkmark$ <p>نجد نقطة تقاطعها بتعويض <math>\lambda = -1</math> في معادلة <math>l_1</math>، وهي النقطة <math>(3, -5, 2)</math></p>
13	<p>اتجاه المستقيم <math>l_1</math>: <math>\vec{v} = \langle -5, 0, 7 \rangle</math></p> <p>اتجاه المستقيم <math>l_2</math>: <math>\vec{u} = \langle 2, 4, -1 \rangle</math></p> $\vec{v} \cdot \vec{u} = -5(2) + 0 + 7(-1) = -17$ $ \vec{v}  = \sqrt{25 + 0 + 49} = \sqrt{74}$ $ \vec{u}  = \sqrt{4 + 16 + 1} = \sqrt{21}$ <p>تكن <math>\theta</math> قياس الزاوية بين <math>\vec{v}</math>، <math>\vec{u}</math> إذن:</p> $\theta = \cos^{-1} \left( \frac{\vec{v} \cdot \vec{u}}{ \vec{v}   \vec{u} } \right) = \cos^{-1} \left( \frac{-17}{\sqrt{74} \times \sqrt{21}} \right) \approx 115.5^\circ$ <p>فيكون قياس الزاوية الحادة بين <math>l_1</math>، <math>l_2</math> هو <math>\alpha</math> حيث: <math>\alpha = 180^\circ - 115.5^\circ = 64.5^\circ</math></p>

14	$\overrightarrow{AB} = \langle 2, -4, 7 \rangle$ $\vec{r} = \langle 1, 4, -5 \rangle + t\langle 2, -4, 7 \rangle$	معادلة المستقيم $\overrightarrow{AB}$ هي:
15	$\overrightarrow{AC} = \langle -5, -3, 8 \rangle$ $\vec{r} = \langle 1, 4, -5 \rangle + u\langle -5, -3, 8 \rangle$	معادلة المستقيم $\overrightarrow{AC}$ هي:
16	$ \overrightarrow{AB}  = \sqrt{4 + 16 + 49} = \sqrt{69}$ $ \overrightarrow{AC}  = \sqrt{25 + 9 + 64} = \sqrt{98}$ $\overrightarrow{AB} \cdot \overrightarrow{AC} = 2(-5) - 4(-3) + 7(8) = 58$ $\cos \theta = \frac{\overrightarrow{AB} \cdot \overrightarrow{AC}}{ \overrightarrow{AB}   \overrightarrow{AC} } = \frac{58}{\sqrt{69} \times \sqrt{98}} = \frac{58}{\sqrt{69 \times 49 \times 2}} = \frac{58}{7\sqrt{138}}$	
17	$\sin \theta = \sqrt{1 - \cos^2 \theta} = \sqrt{1 - \frac{3364}{6762}} = \frac{\sqrt{3398}}{7\sqrt{138}}$ $Area(ABC) = \frac{1}{2}  \overrightarrow{AB}  \times  \overrightarrow{AC}  \sin \theta = \frac{1}{2} \times 7\sqrt{138} \times \frac{\sqrt{3398}}{7\sqrt{138}} = \frac{\sqrt{3398}}{2}$	
18	$\overrightarrow{OV} = \langle 3 + 4t, -25 + 5t, 13 - t \rangle$ نقطة على $l$ إذن يكون متجه موقعها: اتجاه $l$ هو: $\vec{w} = \langle 4, 5, -1 \rangle$ وبما أن $l \perp \overrightarrow{OV}$ إذن يكون: $\vec{w} \cdot \overrightarrow{OV} = 0$ ومنه: $4(3 + 4t) + 5(-25 + 5t) - 1(13 - t) = 0 \Rightarrow t = 3$ $\Rightarrow \overrightarrow{OV} = \langle 3 + 12, -25 + 15, 13 - 3 \rangle \Rightarrow V(15, -10, 10)$	

$$\overrightarrow{EF} = \langle -2, 3, -18 \rangle$$

$$\overrightarrow{GH} = \langle -14, -35, 21 \rangle$$

نلاحظ أنه لا يوجد عدد حقيقي  $k$  يحقق  $\overrightarrow{EF} = k\overrightarrow{GH}$  كون النسب بين الإحداثيات المتناظرة غير متساوية، فالمستقيمان غير متوازيين.

$$\vec{r} = \langle 7, 6, 34 \rangle + t\langle -2, 3, -18 \rangle$$

معادلة  $l_1$  هي:

$$\vec{r} = \langle 1, 21, -2 \rangle + u\langle -14, -35, 21 \rangle$$

معادلة  $l_2$  هي:

نساوي  $\vec{r}$  في المعادلتين ونساوي إحداثياتهما المتناظرة لنجد قيم  $t, u$  لمعرفة نقطة التقاطع:

$$19 \quad \langle 7 - 2t, 6 + 3t, 34 - 18t \rangle = \langle 1 - 14u, 21 - 35u, -2 + 21u \rangle$$

$$7 - 2t = 1 - 14u \Rightarrow -2t + 14u = -6 \dots \dots \dots (1)$$

$$6 + 3t = 21 - 35u \Rightarrow 3t + 35u = 15 \dots \dots \dots (2)$$

$$34 - 18t = -2 + 21u \Rightarrow 18t + 21u = 36 \dots \dots \dots (3)$$

$$(1) \times 9 + (3): u = -\frac{6}{49}, \quad t = \frac{15}{7}$$

$$3 \left( \frac{15}{7} \right) + 35 \left( -\frac{6}{49} \right) = 2.14 \neq 15$$

هذه القيم لا تحقق المعادلة (2)، إذن المستقيمان ليسا متقاطعين ولا متوازيين، فهما متخالفان.

20	$\overrightarrow{EF} = \langle 15, 5, -15 \rangle$ $\overrightarrow{GH} = \langle -6, -24, 12 \rangle$ <p>بما أن النسب بين الإحداثيات المتناظرة غير ثابتة، فإنه لا يوجد عدد حقيقي <math>k</math> حيث <math>\overrightarrow{EF} = k\overrightarrow{GH}</math> وهذا يعني أن المستقيمين غير متوازيين.</p> <p>بتبسيط اتجاه <math>\overrightarrow{EF}</math> بقسمته على 5 تكون معادلته:</p> $\vec{r} = \langle -3, -5, 16 \rangle + t\langle 3, 1, -3 \rangle$ <p>بتبسيط اتجاه <math>\overrightarrow{GH}</math> بقسمته على 6 تكون معادلته:</p> $\vec{r} = \langle 7, 2, 11 \rangle + u\langle -1, -4, 2 \rangle$ <p>نساوي <math>\vec{r}</math> في المعادلتين ونساوي إحداثياتهما المتناظرة لنجد قيم <math>t, u</math> لمعرفة نقطة التقاطع:</p> $\langle -3 + 3t, -5 + t, 16 - 3t \rangle = \langle 7 - u, 2 - 4u, 11 + 2u \rangle$ $-3 + 3t = 7 - u \Rightarrow 3t + u = 10 \dots \dots \dots (1)$ $-5 + t = 2 - 4u \Rightarrow t + 4u = 7 \dots \dots \dots (2)$ $16 - 3t = 11 + 2u \Rightarrow 3t + 2u = 5 \dots \dots \dots (3)$ $(3) - (1): u = -5 \Rightarrow t = 5$ <p>لكن هذه القيم لا تحقق المعادلة (2)، إذن المستقيمان ليسا متقاطعين ولا متوازيين، فهما متخالفان.</p>
21	$AD = 2DE \Rightarrow \overrightarrow{AD} = 2\overrightarrow{DE}$ $\Rightarrow \overrightarrow{DE} = \frac{1}{2}\overrightarrow{AD} = \frac{1}{2}(-14\vec{b}) = -7\vec{b}$ $\overrightarrow{EC} = \overrightarrow{ED} + \overrightarrow{DC} = -\overrightarrow{DE} + \overrightarrow{DC} = 7\vec{b} + 5\vec{a}$ $\overrightarrow{EB} = \overrightarrow{EA} + \overrightarrow{AB} = 21\vec{b} + 15\vec{a} = 3(7\vec{b} + 5\vec{a})$ $\Rightarrow \overrightarrow{EB} = 3\overrightarrow{EC}$ <p>وهذا يعني أن <math>\overrightarrow{EB} \parallel \overrightarrow{EC}</math> لكن المتجهين ينطلقان من النقطة <math>E</math> نفسها، إذن النقاط الثلاثة <math>B, C, E</math> تقع على استقامة واحدة.</p>

إجابات كتاب الطالب للصف الثاني عشر العلمي / الفصل الدراسي الثاني

الوحدة السادسة: الإحصاء والاحتمالات

الدرس الأول: التوزيع الهندسي وتوزيع ذي الحدين

مسألة اليوم صفحة 162

هذه التجربة هي تجربة احتمالية هندسية، لأنها تقوم على تكرار تجربة برنولي حتى التوصل لأول نجاح.  
 $X$  عدد المحاولات للوصول إلى أول نجاح

$$X \sim \text{Geo}(0.25)$$

$$\Rightarrow P(X = 3) = (0.25)(0.75)^{3-1} = \frac{9}{64} \approx 0.14$$

أنحقق من فهمي صفحة 164

- لدينا ست محاولات مستقلة

- وفي كل محاولة، يمكن اعتبار ظهور الصورة نجاحًا ( $p = \frac{1}{2}$ ) وظهور الكتابة فشلًا

- واحتمال النجاح ثابت في كل مرة

- لكن لا يتم التوقف عند أول نجاح، بل إنه يكمل 6 محاولات مهما كانت النتائج  
لذلك لا تمثل هذه التجربة تجربة احتمالية هندسية.

a

- لدينا محاولات مستقلة يتم تكرارها (محاولة إصابة الهدف)

- في كل مرة يمكن اعتبار إصابة الهدف نجاحًا، وعدم إصابته فشلًا

- احتمال النجاح في كل مرة ثابت وهو  $p = 0.6$

- يتم التوقف عند أول نجاح

إذن هذه تجربة احتمالية هندسية لتحقق الشروط الأربعة.

b

أنحقق من فهمي صفحة 166

- لدينا محاولات مستقلة يتم تكرارها (تدوير مؤشر القرص وملاحظة أين يقف)

- في كل محاولة يمكن اعتبار توقف المؤشر على اللون الأخضر نجاحًا، توقفه عند أي لون غير الأخضر فشلًا

- احتمال النجاح في كل مرة ثابت وهو  $p = \frac{1}{4}$

- يتم التوقف عند أول نجاح

إذن هذه تجربة احتمالية هندسية لتحقق الشروط الأربعة.

$X$  عدد المحاولات للوصول إلى أول نجاح

a

$$X \sim \text{Geo}\left(\frac{1}{4}\right) \Rightarrow P(X = 3) = \left(\frac{1}{4}\right) \left(1 - \frac{1}{4}\right)^{3-1} = \frac{9}{64}$$



b	$P(X \leq 4) = P(X = 1) + P(X = 2) + P(X = 3) + P(X = 4)$ $= \left(\frac{1}{4}\right)\left(\frac{3}{4}\right)^0 + \left(\frac{1}{4}\right)\left(\frac{3}{4}\right)^1 + \left(\frac{1}{4}\right)\left(\frac{3}{4}\right)^2 + \left(\frac{1}{4}\right)\left(\frac{3}{4}\right)^3$ $= \frac{1}{4} + \frac{3}{16} + \frac{9}{64} + \frac{27}{256} = \frac{175}{256} \approx 0.684$
c	$P(X > 3) = 1 - P(X \leq 3)$ $= 1 - (P(X = 1) + P(X = 2) + P(X = 3))$ $= 1 - \left(\left(\frac{1}{4}\right)\left(\frac{3}{4}\right)^0 + \left(\frac{1}{4}\right)\left(\frac{3}{4}\right)^1 + \left(\frac{1}{4}\right)\left(\frac{3}{4}\right)^2\right)$ $= 1 - \left(\frac{1}{4} + \frac{3}{16} + \frac{9}{64}\right) = 1 - \frac{37}{64} = \frac{27}{64} \approx 0.422$
<p><b>أتحقق من فهمي صفحة 168</b></p>	
<p>بما أن الطفل يكرر فتح العطب حتى يصل إلى علبة فيها لعبة، فيمكن اعتبار <math>X</math> عدد المحاولات متغيرًا عشوائيًا هندسيًا، أي:</p> $X \sim \text{Geo}\left(\frac{1}{4}\right) \Rightarrow E(X) = \frac{1}{\frac{1}{4}} = 4$	
<p><b>أتحقق من فهمي صفحة 169</b></p>	
a	<ul style="list-style-type: none"> <li>- يتم تكرار إلقاء حجر النرد وملاحظة العدد الظاهر على الوجه العلوي، وهذه المحاولات مستقلة.</li> <li>- في كل محاولة يعدّ (النجاح) ظهور العدد (1) على الوجه العلوي، و (الفشل) ظهور أي عدد غير (1) على الوجه العلوي.</li> <li>- احتمال النجاح في كل مرة ثابت وهو <math>p = \frac{1}{6}</math></li> <li>- عدد المحاولات محدد سلفًا وهو 20 محاولة.</li> </ul> <p>إنّ، هذه تجربة احتمالية ذات حلين، لتتحقق الشروط الأربعة.</p>
b	<p>محاولات اختيار 7 من طلبة روضة غير مستقلة لأن احتمال اختيار بنت غير ثابت في جميع المحاولات. إنّه هذه ليست تجربة احتمالية ذات حلين.</p>

أنحقق من فهمي صفحة 172

a لدينا تجربة عشوائية ذات حدين، وعدد مرات ظهور الرقم (1) على الوجه العلوي هو متغير عشوائي  $X$  ذو حدين، لأن:

لدينا محاولات مستقلة متكررة (إلقاء حجر النرد) حيث (النجاح) هو ظهور الرقم (1) على الوجه العلوي (وااحتماله ثابت  $p = \frac{1}{6}$ )، والفشل ظهور رقم غير (1)، وعدد المحاولات محدد سلفاً وهو  $n = 10$

$$\Rightarrow X \sim B\left(10, \frac{1}{6}\right)$$

$$P(X = 3) = \binom{10}{3} \left(\frac{1}{6}\right)^3 \left(1 - \frac{1}{6}\right)^{10-3} = \binom{10}{3} \left(\frac{1}{6}\right)^3 \left(\frac{5}{6}\right)^7$$

$$= \frac{10 \times 9 \times 8}{6} \times \frac{5^7}{6^{10}} \approx 0.155$$

التجربة العشوائية المذكورة هي ذات حدين، لأن هناك محاولات مستقلة متكررة (ضغط زر)، والنجاح هو الضغط على أحد أزرار العمليات الحسابية الأساسية، والفشل هو الضغط على زر من باقي الأزرار،

احتمال النجاح كل مرة ثابت وهو  $p = \frac{4}{16} = \frac{1}{4}$ ، وعدد المحاولات محدد سلفاً هو  $n = 20$

ليكن  $X$  عدد مرات النجاح،

$$\Rightarrow X \sim B\left(20, \frac{1}{4}\right)$$

$$P(X = 3) = \binom{20}{3} \left(\frac{1}{4}\right)^3 \left(1 - \frac{1}{4}\right)^{20-3} = \binom{20}{3} \left(\frac{1}{4}\right)^3 \left(\frac{3}{4}\right)^{17} \approx 0.134$$

التجربة المذكورة هي عشوائية ذات حدين، لأن لدينا محاولات مستقلة متكررة (إجراء العملية) واحتمال

النجاح كل مرة ثابت هو  $p = 0.8$ ، وعدد المحاولات محدد سلفاً وهو  $n = 10$

ليكن  $X$  عدد مرات النجاح،

$$\Rightarrow X \sim B(10, 0.8)$$

$$P(X \geq 7) = P(X = 7) + P(X = 8) + P(X = 9) + P(X = 10)$$

$$= \binom{10}{7} (0.8)^7 (0.2)^3 + \binom{10}{8} (0.8)^8 (0.2)^2 + \binom{10}{9} (0.8)^9 (0.2)^1 + \binom{10}{10} (0.8)^{10} (0.2)^0$$

$$= 0.201 + 0.302 + 0.268 + 0.107 \approx 0.878$$

أنحقق من فهمي صفحة 173

ليكن  $X$  عدد السيارات التي فيها عطل ضمن الألف سيارة، إذن،  $X \sim B(1000, 0.05)$

$$E(X) = np = 1000 \times \frac{5}{100} = 50$$

إذن، يتوقع أن تكون في هذه الشحنة من السيارات خمسون سيارة بها هذا العطل الميكانيكي.

أنتحق من فهمي صفحة 175

	<p>ليكن <math>X</math> عدد العينات التي لا تطابق المواصفات ضمن الـ 200 عينة التي اختارها المراقب أخيراً.</p> <p><math>\Rightarrow X \sim B\left(200, \frac{1}{50}\right)</math></p> <p>حيث اعتمدنا هنا <math>p = \frac{10}{500} = \frac{1}{50}</math> بالاسناد إلى الاحتمال التجريبي لاختيار عينة غير مطابقة الحاصل في الـ 500 عينة الأولى.</p> <p><math>E(X) = np = 200 \times \frac{1}{50} = 4</math></p> <p>لذا يتوقع وجود 4 عينات لا تطابق المواصفات ضمن هذه العينات الـ 200</p>
a	
b	<p><math>Var(X) = np(1 - p) = 200 \left(\frac{1}{50}\right) \left(\frac{49}{50}\right) = 3.92</math></p>
	<p>أكترب وأحل المسائل صفحة 175</p>
1	<p><math>P(X = 2) = p(1 - p)^{2-1} = (0.2)(0.8)^1 = 0.16</math></p>
2	<p><math>P(X = 10) = p(1 - p)^{10-1} = (0.2)(0.8)^9 \approx 0.027</math></p>
3	<p><math>P(X \geq 3) = 1 - P(X &lt; 3) = 1 - (P(X = 1) + P(X = 2))</math></p> <p><math>= 1 - ((0.2)(0.8)^0 + (0.2)(0.8)^1)</math></p> <p><math>= 1 - 0.36 = 0.64</math></p>
4	<p><math>P(2 &lt; X \leq 5) = P(X = 3) + P(X = 4) + P(X = 5)</math></p> <p><math>= (0.2)(0.8)^2 + (0.2)(0.8)^3 + (0.2)(0.8)^4</math></p> <p><math>= (0.2)(0.8)^2(1 + 0.8 + (0.8)^2)</math></p> <p><math>= 0.2(0.64)(2.44) \approx 0.312</math></p>
5	<p><math>P(X &lt; 2) = P(X = 1) = (0.2)(0.8)^0 = 0.2</math></p>
6	<p><math>P(X \leq 4) = P(X = 1) + P(X = 2) + P(X = 3) + P(X = 4)</math></p> <p><math>= (0.2)(0.8)^0 + (0.2)(0.8)^1 + (0.2)(0.8)^2 + (0.2)(0.8)^3</math></p> <p><math>\approx 0.590</math></p>
7	<p><math>P(1 \leq X &lt; 2) = P(X = 1) = (0.2)(0.8)^0 = 0.2</math></p>

8	$P(3 \leq X \leq 6) = P(X = 3) + P(X = 4) + P(X = 5) + P(X = 6)$ $= (0.2)(0.8)^2 + (0.2)(0.8)^3 + (0.2)(0.8)^4 + (0.2)(0.8)^5$ $\approx 0.378$
9	<p>إذا كان <math>X</math> عدد مرات إلقاء الحجر حتى ظهور 7 لأول مرة، فإن:</p> $X \sim Geo\left(\frac{1}{8}\right)$ $P(X = 6) = \left(\frac{1}{8}\right)\left(\frac{7}{8}\right)^5 = 0.064$
10	<p>إذا كان <math>X</math> عدد مرات الإطلاق حتى أول إصابة، فإن:</p> $X \sim Geo(0.7)$ $P(X = 10) = (0.7)(0.3)^9 \approx 0.00001378 = 1.378 \times 10^{-5}$
11	<p>إذا كان <math>X</math> عدد الخنافس التي نجمعها حتى نحصل على أول خنفساء برتقالية، فإن:</p> $X \sim Geo\left(\frac{1}{12}\right)$ $P(X = 20) = \left(\frac{1}{12}\right)\left(\frac{11}{12}\right)^{19} \approx 0.016$
12	<p>إذا كان <math>X</math> عدد محاولات تشغيل المحرك حتى يشتغل لأول مرة، فإن:</p> $X \sim Geo(0.4)$ $P(t > 1) = P(X > 3) = 1 - P(X \leq 3) = 1 - (P(X = 1) + P(X = 2))$ $= 1 - ((0.4)(0.6)^0 + (0.4)(0.6)^1)$ $= 1 - (0.4 + 0.24) = 1 - 0.64 = 0.36$
13	<p>إذا كان <math>X</math> عدد المرضى الذين سيخطون الدواء حتى تظهر أول أعراض جانبية، فإن:</p> $X \sim Geo\left(\frac{1}{4}\right)$ $P(X = 10) = \left(\frac{1}{4}\right)\left(\frac{3}{4}\right)^9 \approx 0.019$

14	$P(X > 3) = 1 - P(X \leq 3) = 1 - (P(X = 1) + P(X = 2) + P(X = 3))$ $= 1 - \left( \left(\frac{1}{4}\right) \left(\frac{3}{4}\right)^0 + \left(\frac{1}{4}\right) \left(\frac{3}{4}\right)^1 + \left(\frac{1}{4}\right) \left(\frac{3}{4}\right)^2 \right)$ $= 1 - \frac{1}{4} \left( 1 + \frac{3}{4} + \frac{9}{16} \right) = 1 - \frac{37}{64} = \frac{27}{64}$
15	$E(X) = \frac{1}{p} = \frac{1}{\frac{1}{4}} = 4$ <p>إن، يتوقع تناول 4 مرضى لهذا الدواء حتى ظهور أول إصابة بأعراض الدواء الجانبية.</p>
16	$P(X = 2) = \binom{10}{2} (0.3)^2 (0.7)^8 \approx 0.233$
17	$P(X \geq 9) = P(X = 9) + P(X = 10)$ $= \binom{10}{9} (0.3)^9 (0.7)^1 + \binom{10}{10} (0.3)^{10} (0.7)^0 \approx 0.000144 \approx 0.000$
18	$P(X \leq 8) = 1 - P(X > 8) = 1 - (P(X = 9) + P(X = 10)) \approx 0.99985 \approx 1$
19	$P(1 < X \leq 4) = P(X = 2) + P(X = 3) + P(X = 4)$ $= \binom{10}{2} (0.3)^2 (0.7)^8 + \binom{10}{3} (0.3)^3 (0.7)^7 + \binom{10}{4} (0.3)^4 (0.7)^6$ $\approx 0.2334 + 0.2668 + 0.2001 \approx 0.700$
20	$P(X > 1) = 1 - P(X \leq 1) = 1 - (P(X = 0) + P(X = 1))$ $= 1 - \left( \binom{10}{0} (0.3)^0 (0.7)^{10} + \binom{10}{1} (0.3)^1 (0.7)^9 \right)$ $\approx 1 - (0.0282 + 0.1211) \approx 0.851$
21	$P(X < 4) = P(X = 0) + P(X = 1) + P(X = 2) + P(X = 3)$ $= \binom{10}{0} (0.3)^0 (0.7)^{10} + \binom{10}{1} (0.3)^1 (0.7)^9 + \binom{10}{2} (0.3)^2 (0.7)^8 + \binom{10}{3} (0.3)^3 (0.7)^7$ $\approx 0.0282 + 0.1211 + 0.2334 + 0.2668 \approx 0.650$

22	$P(0 \leq X < 3) = P(X = 0) + P(X = 1) + P(X = 2)$ $= \binom{10}{0} (0.3)^0 (0.7)^{10} + \binom{10}{1} (0.3)^1 (0.7)^9 + \binom{10}{2} (0.3)^2 (0.7)^8$ $\approx 0.0282 + 0.1211 + 0.2334 \approx 0.383$
23	$P(3 \leq X \leq 6) = P(X = 3) + P(X = 4) + P(X = 5) + P(X = 6)$ $= \binom{10}{3} (0.3)^3 (0.7)^7 + \binom{10}{4} (0.3)^4 (0.7)^6 + \binom{10}{5} (0.3)^5 (0.7)^5 + \binom{10}{6} (0.3)^6 (0.7)^4$ $\approx 0.02668 + 0.2001 + 0.1029 + 0.0368 \approx 0.607$
24	$E(X) = \frac{1}{p} = \frac{1}{0.3} = \frac{10}{3}$
25	$E(X) = \frac{1}{p} = \frac{1}{\frac{3}{7}} = \frac{7}{3}$
26	$E(X) = np = (5)(0.1) = 0.5$ $Var(X) = np(1 - p) = (5)(0.1)(0.9) = 0.45$
27	$E(X) = np = (20) \left(\frac{3}{8}\right) = \frac{15}{2} = 7.5$ $Var(X) = np(1 - p) = (20) \left(\frac{3}{8}\right) \left(\frac{5}{8}\right) = \frac{75}{16}$
28	<p>إذا كان <math>X</math> يدل على عدد الأعداد الزوجية التي ستظهر، فإن:</p> $X \sim B\left(9, \frac{1}{2}\right)$ <p>حيث أن احتمال النجاح كل مرة هو <math>p</math> حيث:</p> $p = \frac{3}{6} = \frac{1}{2}$ $P(X = 5) = \binom{9}{5} \left(\frac{1}{2}\right)^5 \left(\frac{1}{2}\right)^4 = 126 \left(\frac{1}{2}\right)^9 = \frac{126}{512} = \frac{63}{256} \approx 0.246$

	إذا كان $X$ يدل على عدد المرات التي يواجه الطيار فيها صعوبة في الرويا، فإن:
29	$X \sim B\left(20, \frac{1}{4}\right)$ $P(X = 3) = \binom{20}{3} \left(\frac{1}{4}\right)^3 \left(\frac{3}{4}\right)^{17} \approx 0.134$
30	$P(X \geq 3) = 1 - P(X < 3) = 1 - (P(X = 0) + P(X = 1) + P(X = 2))$ $= 1 - \left( \binom{20}{0} \left(\frac{1}{4}\right)^0 \left(\frac{3}{4}\right)^{20} + \binom{20}{1} \left(\frac{1}{4}\right)^1 \left(\frac{3}{4}\right)^{19} + \binom{20}{2} \left(\frac{1}{4}\right)^2 \left(\frac{3}{4}\right)^{18} \right)$ $\approx 0.909$
31	$P(X = 20) = \binom{20}{20} \left(\frac{1}{4}\right)^{20} \left(\frac{3}{4}\right)^0 = \left(\frac{1}{4}\right)^{20}$
32	$E(X) = np = (20) \left(\frac{1}{4}\right) = 5$ <p>إذن، يتوقع أن يواجه الطيار صعوبة في الرويا 5 مرات.</p>
33	$E(X) = 1.4 \Rightarrow np = 1.4 \dots \dots \dots (1)$ $Var(X) = 1.12 \Rightarrow np(1 - p) = 1.12 \dots \dots \dots (2)$ $\Rightarrow \frac{np(1 - p)}{np} = \frac{1.12}{1.4} = \frac{4}{5} \Rightarrow 5 - 5p = 4 \Rightarrow p = \frac{1}{5}, \quad n = 7$ $P(X \geq 6) = P(X = 6) + P(X = 7) = \binom{7}{6} \left(\frac{1}{5}\right)^6 \left(\frac{4}{5}\right)^1 + \binom{7}{7} \left(\frac{1}{5}\right)^7 \left(\frac{4}{5}\right)^0$ $= 28 \left(\frac{1}{5}\right)^7 + \left(\frac{1}{5}\right)^7 = 29 \left(\frac{1}{5}\right)^7 = \frac{29}{78125} \approx 0.0003712$
34	$E(X) = \frac{1}{p} = \frac{4}{3} \Rightarrow p = \frac{3}{4}$

35	$P(X = 10) = P(X = 9)$ $\binom{21}{10} p^{10} (1-p)^{11} = \binom{21}{9} p^9 (1-p)^{12}$ <p>بقسمة الطرفين على <math>p^9 (1-p)^{11}</math> ينتج أن:</p> $\binom{21}{10} p = \binom{21}{9} (1-p)$ $\frac{21!}{11!10!} p = \frac{21!}{12!9!} (1-p) \Rightarrow 12p = 10(1-p) \Rightarrow 6p = 5 - 5p \Rightarrow p = \frac{5}{11}$
36	<p>إذا كان <math>X</math> يدل على عدد الأشخاص الذين يشتركون المنتج، فإن:</p> $X \sim B(10, 0.1)$ $P(X = 10) = \binom{10}{10} (0.1)^{10} (0.9)^0 = (0.1)^{10} = 10^{-10}$
37	<p>ليكن <math>R</math> عائد المبيعات، إذن: <math>R = 10X</math></p> $P(R > 80) = P(X > 8) = P(X = 9) + P(X = 10)$ $= \binom{10}{9} (0.1)^9 (0.9)^1 + \binom{10}{10} (0.1)^{10} (0.9)^0$ $= (0.1)^{10} (10 \times 9 + 1) = 91 \times 10^{-10}$
38	<p><math>X</math> متغير عشوائي هندسي.</p> $\Rightarrow P(X = x) = p(1-p)^{x-1}$ $\Rightarrow P(X = 3) = \frac{5}{11} \left(1 - \frac{5}{11}\right)^2 = \frac{180}{1331}$ <p>أخطأت لانا في الأس الذي وضعته فوق القوس، فقاعدة حساب احتمال المتغير العشوائي الهندسي تحوي <math>(x - 1)</math> في الأس وليس <math>x</math> (أي المفروض أقل من قيمة <math>x</math> بواحد، وليس قيمة <math>x</math> المطلوبة ذاتها).</p>



39	<p>إذا كان <math>X</math> يدل على عدد مرات إرسال الرسالة إلى حين الرد عليها لأول مرة، فإن:</p> <p><math>X \sim \text{Geo}(p)</math></p> $P(X = 2) = p(1 - p)^1 = 0.21 \Rightarrow p^2 - p + 0.21 = 0$ $\Rightarrow (p - 0.3)(p - 0.7) = 0$ $\Rightarrow p = 0.3, \text{ or } p = 0.7$ <p>لكن احتمال الرد على الاستبانة في المرة الأولى أكبر من 0.5، إذن <math>p = 0.7</math></p> $E(X) = \frac{1}{p} = \frac{1}{0.7} = \frac{10}{7}$
40	<p>ليكن <math>X</math> عدد الطلبة المولودين في شهر آذار،</p> <p><math>X \sim B\left(25, \frac{31}{365}\right) = B(25, 0.085)</math></p> <p>وذلك لأن احتمال النجاح في كل مرة هو: <math>p = \frac{31}{365} \approx 0.085</math></p> $P(X = 1) = \binom{25}{1} (0.085)^1 (0.915)^{24} \approx 0.252$
41	$P(X = 3) = \binom{25}{3} (0.085)^3 (0.915)^{22} \approx 0.200$
42	<p>ليكن <math>X</math> عدد الطلبة المولودين في فصل الشتاء،</p> <p><math>X \sim B(25, p) = B(25, 0.25)</math></p> <p>حيث <math>p</math> هو احتمال أن أي منهم مولود في فصل الشتاء: <math>p \approx \frac{1}{4}</math></p> $P(X = 2) = \binom{25}{2} \left(\frac{1}{4}\right)^2 \left(\frac{3}{4}\right)^{23} \approx 0.025$
43	$\mu = E(X) = np = 30(0.1) = 3$ $\sigma = \sqrt{np(1 - p)} = \sqrt{30(0.1)(0.9)} = \sqrt{2.7} \approx 1.643$ $P(\mu \leq X < \mu + \sigma) = P(3 \leq X < 4.693)$ $= P(X = 3) + P(X = 4)$ $= \binom{30}{3} (0.1)^3 (0.9)^{27} + \binom{30}{4} (0.1)^4 (0.9)^{26}$ $= 0.2361 + 0.1771 \approx 0.413$

## الدرس الثاني: التوزيع الطبيعي

### مسألة اليوم صفحة 178

ليكن  $T$  الزمن الذي تستغرقه البطارية قبل نفاذها

$$T \sim N(36, 5^2)$$

$$P(T > 27) = P\left(z > \frac{27 - 36}{5}\right) = P(z > -1.8) = P(z < 1.8) = 0.9641$$

### أتحقق من فهمي صفحة 182

a	النسبة المئوية للطلبة الذين تقع أطوالهم فوق الوسط الحسابي هي 50% وذلك من خواص منحنى التوزيع الطبيعي (تمثل البيانات حول الوسط الحسابي)
b	النسبة المئوية للطلبة الذين لا يزيد البعد بين أطوالهم و الوسط الحسابي على انحراف معياري واحد هي 68% وذلك بالاستناد للقاعدة التجريبية مباشرة.
c	النسبة المئوية للطلبة الذين تقل أطوالهم عن الوسط الحسابي بمقدار لا يزيد على انحرافين معياريين هي $\frac{1}{2}(95\%) = 47.5\%$ ، (أو $34\% + 13.5\% = 47.5\%$ )
d	النسبة المئوية للطلبة الذين تقل أطوالهم عن الوسط الحسابي بمقدار لا يزيد على ثلاثة انحرافات معيارية، أو تزيد عليه بمقدار لا يزيد على انحرافين معياريين هي: $\frac{1}{2}(99.7\%) + \frac{1}{2}(95\%) = 97.35\%$

### أتحقق من فهمي صفحة 184

a	$P(X > 30) = P(X > \mu) = 0.5$
b	$P(29.6 < X < 30.4) = P(\mu - \sigma < X < \mu + \sigma) = 0.68$
c	$P(29.2 < X < 30) = P(\mu - 2\sigma < X < \mu) = \frac{1}{2}(95\%) = 47.5\% = 0.475$

d	$P(29.2 < X < 30.4) = P(\mu - 2\sigma < X < \mu + \sigma)$ $= \frac{1}{2}(0.95) + \frac{1}{2}(0.68) = 0.815$
<p>أنحقق من فهمي صفحة 187</p>	
a	$P(Z < 1.5) = 0.9332$
b	$P(Z > 0.61) = 1 - P(Z < 0.61) = 1 - 0.7291 = 0.2709$
c	$P(Z < -0.43) = 1 - P(Z < 0.43) = 1 - 0.6664 = 0.3336$
d	$P(Z > -3.23) = P(Z < 3.23) = 0.9994$
e	$P(-1.4 < Z < 2.07) = P(Z < 2.07) - P(Z < -1.4)$ $= P(Z < 2.07) - (1 - P(Z < 1.4))$ $= P(Z < 2.07) + P(Z < 1.4) - 1$ $= 0.9808 + 0.9192 - 1 = 0.9000$
<p>أنحقق من فهمي صفحة 189</p>	
a	$P(X < -2) = P\left(Z < \frac{-2 - 7}{3}\right) = P(Z < -3)$ $= 1 - P(Z < 3) = 1 - 0.9987 = 0.0013$
b	$P(X > 10) = P\left(Z > \frac{10 - 7}{3}\right) = P(Z > 1)$ $= 1 - P(Z < 1) = 1 - 0.8413 = 0.1587$

c	$P(4 < X < 13) = P\left(\frac{4-7}{3} < Z < \frac{13-7}{3}\right) = P(-1 < Z < 2)$ $= P(Z < 2) - P(Z < -1)$ $= P(Z < 2) - (1 - P(Z < 1))$ $= p(Z < 2) + p(Z < 1) - 1$ $= 0.9772 + 0.8413 - 1 = 0.8185$
<p>أنحقق من فهمي صفحة 190</p>	
a	$P(X < 162) = P\left(Z < \frac{162-165}{3}\right) = P(Z < -1)$ $= 1 - P(Z < 1) = 1 - 0.8413 = 0.1587$
b	$P(X > 171) = P\left(Z > \frac{171-165}{3}\right) = P(Z > 2)$ $= 1 - P(Z < 2) = 1 - 0.9772 = 0.0228$
c	$P(162 < X < 171) = P\left(\frac{162-165}{3} < Z < \frac{171-165}{3}\right) = P(-1 < Z < 2)$ $= P(Z < 2) - P(Z < -1)$ $= P(Z < 2) - (1 - P(Z < 1))$ $= P(Z < 2) + P(Z < 1) - 1$ $= 0.9772 + 0.8413 - 1 = 0.8185$
<p>أنحقق من فهمي صفحة 194</p>	
a	$P(X < x) = 0.9877 \Rightarrow P(Z < z) = 0.9877$ $\Rightarrow z = 2.25 \Rightarrow \frac{x+3}{4} = 2.25 \Rightarrow x = 6$

b	<p><math>P(X &lt; x) = 0.31 \Rightarrow P(Z &lt; z) = 0.31</math>  الاحتمال المعطى (0.31) يمثل المساحة التي تقع يسار القيمة <math>z</math> وهو أقل من 0.5، إذن: <math>z</math> سالبة  <math>\Rightarrow P(Z &lt; -z) = 1 - P(Z &lt; z)</math>  <math>0.31 = 1 - P(Z &lt; z) \Rightarrow P(Z &lt; z) = 0.69 \Rightarrow z = 0.5</math>  إذن، قيمة <math>z</math> التي تقابل الاحتمال 0.31 هي -0.5  <math>\Rightarrow \frac{x+3}{4} = -0.5 \Rightarrow x = -5</math></p>
c	<p><math>P(X &gt; x) = 0.9738 \Rightarrow P(Z &gt; z) = 0.9738</math>  الاحتمال المعطى (0.9738) يمثل المساحة التي تقع يمين القيمة <math>z</math> وهو أكبر من 0.5،  إذن: <math>\frac{x+3}{4}</math> سالبة  <math>\Rightarrow P(Z &gt; -z) = 0.9738 \Rightarrow P(Z &lt; z) = 0.9738 \Rightarrow z = 1.94</math>  إذن، قيمة <math>z</math> التي تقابل الاحتمال <math>P(Z &gt; z) = 0.9738</math> هي -1.94  <math>\Rightarrow \frac{x+3}{4} = -1.94 \Rightarrow x = -10.76</math></p>
d	<p><math>P(X &gt; x) = 0.2 \Rightarrow P(Z &gt; z) = 0.2</math>  الاحتمال المعطى (0.2) يمثل المساحة التي تقع يمين القيمة <math>z</math> وهو أقل من 0.5،  إذن: <math>z</math> موجبة  <math>\Rightarrow P(Z &lt; z) = 1 - 0.2 = 0.8 \Rightarrow z = 0.84</math>  <math>\Rightarrow \frac{x+3}{4} = 0.84 \Rightarrow x = 0.36</math></p>
<p><b>أتحقق من فهمي صفحة 196</b></p>	
	<p><math>P(X &gt; 4.8) = 0.03 \Rightarrow P(Z &gt; z) = 0.03</math>  الاحتمال المعطى (0.03) يمثل المساحة التي تقع يمين القيمة <math>z</math> وهو أقل من 0.5،  إذن: <math>z</math> موجبة  <math>\Rightarrow P(Z &lt; z) = 1 - 0.03 = 0.97</math>  <math>\Rightarrow z = 1.88 \Rightarrow \frac{4.8-4.5}{\sigma} = 1.88 \Rightarrow \sigma = \frac{0.3}{1.88} \approx 0.16</math></p>
<p><b>أتدرب وأحل المسائل صفحة 196</b></p>	
1	<p>النسبة المئوية للطلبة الذين تزيد كتلهم على الوسط الحسابي هي 50%  وتلك من خواص منحني التوزيع الطبيعي (تمثل البيانات حول الوسط الحسابي)</p>

2	النسبة المئوية للطلبة الذين تقل كتلتهم عن الوسط الحسابي بمقدار لا يزيد على انحراف معياري واحد هي $\frac{1}{2}(68\%) = 34\%$
3	النسبة المئوية للطلبة الذين تزيد كتلتهم على الوسط الحسابي بمقدار لا يقل عن انحرافين معياريين هي $\frac{1}{2}(100\% - 95\%) = 2.5\%$
4	النسبة المئوية للطلبة الذين تقل كتلتهم عن الوسط الحسابي بمقدار لا يزيد على انحرافين معياريين، أو تزيد عليه بمقدار لا يزيد على ثلاثة انحرافات معيارية هي: $\frac{1}{2}(95\%) + \frac{1}{2}(99.7\%) = 97.35\%$
5	$P(X < 50) = 0.5$
6	$P(46 < X < 54) = P(\mu - \sigma < X < \mu + \sigma) = 0.68$
7	$P(42 < X < 62) = P(\mu - 2\sigma < X < \mu + 3\sigma)$ $= \frac{1}{2}(0.95) + \frac{1}{2}(0.997) = 0.9735$
8	$\mu = 2.5 \text{ mm}$ $2.7 = \mu + 2\sigma \Rightarrow 2.7 = 2.5 + 2\sigma \Rightarrow \sigma = 0.1 \text{ mm}$
9	النسبة المئوية للمسامير التي يزيد طول قطر كل منها على الوسط الحسابي بما لا يزيد على انحرافين معياريين هي $\frac{1}{2}(95\%) = 47.5\%$
10	نعلم أن 68% تقريبًا من البيانات في التوزيع الطبيعي تقع بين $\mu - \sigma$ و $\mu + \sigma$ ، فإن: $107 = \mu + \sigma \Rightarrow 107 = 100 + \sigma \Rightarrow \sigma = 7 \Rightarrow \sigma^2 = 49$
11	$P(Z < 0.43) = 0.6664$
12	$P(Z > 1.08) = 1 - P(Z < 1.08) = 1 - 0.8599 = 0.1401$
13	$P(Z < -2.03) = 1 - P(Z < 2.03) = 1 - 0.9788 = 0.0212$

14	$P(Z > 2.2) = 1 - P(Z < 2.2) = 1 - 0.9861 = 0.0139$
15	$P(-0.72 < Z < 0.72) = P(Z < 0.72) - P(Z < -0.72)$ $= P(Z < 0.72) - (1 - P(Z < 0.72))$ $= 2P(Z < 0.72) - 1$ $= 2(0.7642) - 1 = 0.5284$
16	$P(1.5 < Z < 2.5) = P(Z < 2.5) - P(Z < 1.5)$ $= 0.9938 - 0.9332 = 0.0606$
17	$P(-0.5 < Z < 1.5) = P(Z < 1.5) - P(Z < -0.5)$ $= P(Z < 1.5) - (1 - P(Z < 0.5))$ $= P(Z < 1.5) + P(Z < 0.5) - 1$ $= 0.9332 + 0.6915 - 1 = 0.6247$
18	$P(-2.25 < Z < 0) = P(Z < 0) - P(Z < -2.25)$ $= P(Z < 0) - (1 - P(Z < 2.25))$ $= P(Z < 0) + P(Z < 2.25) - 1$ $= 0.5 + 0.9878 - 1 = 0.4878$
19	$P(Z < z) = 0.7642$ <p>الاحتمال المعطى (0.7642) يمثل المساحة التي تقع يسار القيمة <math>z</math> وهو أكبر من 0.5، إذن: <math>z</math> موجبة</p> $\Rightarrow z = 0.72$

20	<p><math>P(Z &gt; z) = 0.372</math></p> <p>الاحتمال المعطى (0.372) يمثل المساحة التي تقع يمين القيمة <math>z</math> وهو أقل من 0.5، إذن: <math>z</math> موجبة</p> <p><math>\Rightarrow P(Z &lt; z) = 1 - 0.372 = 0.628 \Rightarrow z = 0.33</math></p>
21	<p><math>P(Z &gt; z) = 0.8531</math></p> <p>الاحتمال المعطى (0.8531) يمثل المساحة التي تقع يمين القيمة <math>z</math> وهو أكبر من 0.5، إذن: <math>z</math> سالبة</p> <p><math>\Rightarrow 0.8531 = P(Z &gt; -z) = P(Z &lt; z) \Rightarrow z = 1.05</math></p> <p>إذن، قيمة <math>z</math> التي تحقق الاحتمال <math>P(Z &gt; z) = 0.8531</math> هي <math>-1.05</math></p>
22	<p><math>P(X &lt; 2) = P\left(Z &lt; \frac{2+3}{5}\right) = P(Z &lt; 1) = 0.8413</math></p>
23	<p><math>P(X &gt; 4.5) = P\left(Z &gt; \frac{4.5+3}{5}\right) = P(Z &gt; 1.5) = 1 - P(Z &lt; 1.5)</math></p> <p><math>= 1 - 0.9332 = 0.0668</math></p>
24	<p><math>P(-5 &lt; X &lt; -3) = P\left(\frac{-5+3}{5} &lt; Z &lt; \frac{-3+3}{5}\right) = P(-0.4 &lt; Z &lt; 0)</math></p> <p><math>= P(Z &lt; 0) - P(Z &lt; -0.4)</math></p> <p><math>= P(Z &lt; 0) - (1 - P(Z &lt; 0.4))</math></p> <p><math>= P(Z &lt; 0) + P(Z &lt; 0.4) - 1</math></p> <p><math>= 0.5 + 0.6554 - 1 = 0.1554</math></p>



25	<p><math>P(X &lt; x) = 0.99 \Rightarrow P(Z &lt; z) = 0.99</math></p> <p>الاحتمال المعطى (0.99) يمثل المساحة التي تقع يسار القيمة <math>z</math> وهو أكبر من 0.5،</p> <p>إذن: <math>z</math> موجبة</p> <p><math>z = 2.33</math></p> $\frac{x - 30}{10} = 2.33 \Rightarrow x = 53.3$
26	<p><math>P(X &gt; x) = P(Z &gt; z) = 0.1949</math></p> <p>الاحتمال المعطى (0.1949) يمثل المساحة التي تقع يمين القيمة <math>z</math> وهو أقل من 0.5،</p> <p>إذن: <math>z</math> موجبة</p> $\Rightarrow P(Z < z) = 1 - 0.1949 = 0.8051$ $\Rightarrow z = 0.86$ $\Rightarrow \frac{x - 30}{10} = 0.86 \Rightarrow x = 38.6$
27	<p><math>P(X &lt; x) = 0.35 \Rightarrow P(Z &lt; z) = 0.35</math></p> <p>الاحتمال المعطى (0.35) يمثل المساحة التي تقع يسار القيمة <math>z</math> وهو أقل من 0.5،</p> <p>إذن: <math>z</math> سالبة</p> $\Rightarrow P(Z < -z) = P(Z > z) = 1 - P(Z < z) = 0.35$ $\Rightarrow P(Z < z) = 0.65 \Rightarrow z = 0.39$ <p>إذن، قيمة <math>z</math> التي تحقق الاحتمال <math>P(Z &lt; z) = 0.35</math> هي <math>-0.39</math></p> $\Rightarrow \frac{x - 30}{10} = -0.39 \Rightarrow x = 26.1$

28	$P(X > x) = 0.05 \Rightarrow P(Z > z) = 0.05$ <p>الاحتمال المعطى (0.05) يمثل المساحة التي تقع يمين القيمة <math>z</math> وهو أقل من 0.5، إذن: <math>z</math> موجبة</p> $\Rightarrow P(Z < z) = 1 - 0.05 = 0.95 \Rightarrow z = 1.64$ $\Rightarrow \frac{x - 30}{10} = 1.64 \Rightarrow x = 46.4$
29	$P(X > 175) = P\left(Z > \frac{175 - 185}{5}\right) = P(Z > -2) = P(Z < 2) = 0.9772$
30	$P(180 < X < 190) = P\left(\frac{180 - 185}{5} < Z < \frac{190 - 185}{5}\right) = P(-1 < Z < 1)$ $= P(Z < 1) - P(Z < -1) = P(Z < 1) - (1 - P(Z < 1))$ $= 2P(Z < 1) - 1 = 2(0.8413) - 1 = 0.6826$ <p>ملحوظة: يمكن حل هذا السؤال بالاستناد إلى القاعدة التجريبية بدلاً من استخدام الجدول، ويكون الاحتمال 0.68 تقريباً.</p>
31	$P(X > 195) = P\left(Z > \frac{195 - 185}{5}\right) = P(Z > 2) = 1 - P(Z < 2)$ $= 1 - 0.9772 = 0.0228$ <p>إذا كان عدد اللاعبين الذين تزيد أطوالهم على 195 cm هو <math>N</math>، فإن:</p> $N = 2000 \times 0.0228 = 45.6 \approx 46$
32	$P(X > 9) = P\left(Z > \frac{9 - 6}{2}\right) = P(Z > 1.5) = 1 - P(Z < 1.5)$ $= 1 - 0.9332 = 0.0668$
33	$P(X < 224) = P\left(Z < \frac{224 - 232}{5}\right) = P(Z < -1.6) = 1 - P(Z < 1.6)$ $= 1 - 0.9452 = 0.0548$

34	$P(232 < X < x) = P\left(\frac{232 - 232}{5} < Z < z\right) = P(0 < Z < z)$ $\Rightarrow P(Z < z) - P(Z < 0) = 0.2$ $\Rightarrow P(Z < z) - 0.5 = 0.2$ $\Rightarrow P(Z < z) = 0.7$ <p>الاحتمال المعطى (0.7) يمثل المساحة التي تقع يسار القيمة <math>z</math> وهو أكبر من 0.5، إن: <math>z</math> موجبة</p> $\Rightarrow z = 0.52 \Rightarrow \frac{x - 232}{5} = 0.52 \Rightarrow x = 234.6 \text{ g}$
35	$P(X > 47) = 0.11 \Rightarrow P\left(Z > \frac{47 - \mu}{13}\right) = 0.11$ <p>نفرض أن <math>z = \frac{47 - \mu}{13}</math>، فيكون: <math>P(Z &gt; z) = 0.11</math></p> <p>الاحتمال المعطى (0.11) يمثل المساحة التي تقع يمين القيمة <math>z</math> وهو أقل من 0.5، إن: <math>z</math> موجبة</p> $\Rightarrow P(Z < z) = 1 - P(Z > z) = 1 - 0.11 = 0.89$ $\Rightarrow z = 1.23 \Rightarrow \frac{47 - \mu}{13} = 1.23 \Rightarrow \mu = 31.01$
36	$P(x > 48) = 0.2 \Rightarrow P\left(Z > \frac{48 - 43}{\sigma}\right) = P\left(Z > \frac{5}{\sigma}\right) = 0.2$ <p>نفرض أن <math>z = \frac{5}{\sigma}</math>، فيكون: <math>P(Z &gt; z) = 0.2</math></p> <p>الاحتمال المعطى (0.2) يمثل المساحة التي تقع يمين القيمة <math>z</math> وهو أقل من 0.5، إن: <math>z</math> موجبة</p> $\Rightarrow P(Z < z) = 1 - P(Z > z) = 1 - 0.2 = 0.8$ $\Rightarrow z = 0.84 \Rightarrow \frac{5}{\sigma} = 0.84 \Rightarrow \sigma = \frac{5}{0.84} \approx 5.95$
37	$z = \frac{x - \mu}{\sigma} \Rightarrow 2 = \frac{1 - \mu}{\mu} \Rightarrow 2\mu = 1 - \mu \Rightarrow \mu = \frac{1}{3}$

38	$1 = \frac{10 - \mu}{\sigma} \Rightarrow \sigma = 10 - \mu \dots\dots\dots (1)$ $-2 = \frac{4 - \mu}{\sigma} \Rightarrow -2\sigma = 4 - \mu \dots\dots\dots (2)$ $(1) - (2): 3\sigma = 6 \Rightarrow \sigma = 2, \mu = 8$
39	$P(X > 100) = P\left(Z > \frac{100 - 90}{5}\right) = P(Z > 2) = 1 - P(Z < 2)$ $= 1 - 0.9772 = 0.0228$ <p>إذا كان عدد السيارات التي ستتجاوز السرعة المحددة هو <math>N</math>، فإن:</p> $N = 1000(0.0228) = 22.8 \approx 23$
40	$P(X \leq 55) = P\left(Z \leq \frac{55 - 60}{4}\right) = P(Z \leq -1.25)$ $= P(Z > 1.25)$ $= 1 - P(Z < 1.25)$ $= 1 - 0.8944 = 0.1056$ <p>إذا كان عدد البيض صغير الحجم من بين 5000 هو <math>N</math>، فإن:</p> $N = 5000(0.1056) = 528$
41	<p>تقع 95% من البيانات بين <math>\mu - 2\sigma</math> و <math>\mu + 2\sigma</math> (حسب القاعدة التجريبية)، وهذا يعني الفترة من 5.8 إلى 7 وليس الفترة التي ذكرتها عير.</p> <p>الخطأ الذي ارتكبه عير، هو أنها اعتبرت <math>\sigma = 0.09</math> والصواب هو أن <math>\sigma = \sqrt{0.09} = 0.3</math></p>

$$P(X < 15) = P\left(Z < \frac{15 - \mu}{\sigma}\right) = 0.1469$$

نفرض أن  $z = \frac{15 - \mu}{\sigma}$  ، فيكون  $P(Z < z) = 0.1469$  الاحتمال المعطى (0.1469) يمثل المساحة التي تقع يسار القيمة  $z$  وهو أقل من 0.5، إذن:  $z$  سالبة.

$$\Rightarrow P(Z < -z) = P(Z > z)$$

$$0.1469 = 1 - P(Z < z)$$

$$P(Z < z) = 1 - 0.1469 = 0.8531 \Rightarrow z = 1.05$$

إذن قيمة  $z$  التي تحقق الاحتمال المعطى هي -1.05

$$42 \Rightarrow \frac{15 - \mu}{\sigma} = -1.05 \Rightarrow 15 - \mu = -1.05\sigma \dots \dots \dots (1)$$

$$P(X > 35) = P\left(Z > \frac{35 - \mu}{\sigma}\right) = 0.025$$

نفرض أن  $z = \frac{35 - \mu}{\sigma}$  ، فيكون  $P(Z > z) = 0.025$

الاحتمال المعطى (0.025) يمثل المساحة التي تقع يمين القيمة  $z$  وهو أقل من 0.5، إذن:  $z$  موجبة.

$$\Rightarrow P(Z < z) = 1 - P(Z > z) = 1 - 0.025 = 0.975$$

$$\Rightarrow z = 1.96 \Rightarrow \frac{35 - \mu}{\sigma} = 1.96 \Rightarrow 35 - \mu = 1.96\sigma \dots \dots \dots (2)$$

$$(2) - (1): \quad 20 = 3.01\sigma \Rightarrow \sigma \approx 6.64 \quad , \quad \mu \approx 22$$



$$P(X > 90) = P\left(Z > \frac{90 - \mu}{\sigma}\right) = \frac{10000}{100000} = 0.1$$

نفرض أن  $\frac{90 - \mu}{\sigma} = z$  ، فيكون  $P(Z > z) = 0.1$

الاحتمال المعطى (0.1) يمثل المساحة التي تقع يمين القيمة  $z$  وهو أقل من 0.5 ،

إن:  $z$  موجبة.

$$\Rightarrow P(Z < z) = 1 - P(Z > z) = 1 - 0.1 = 0.9$$

$$\Rightarrow z = 1.28 \Rightarrow \frac{90 - \mu}{\sigma} = 1.28 \Rightarrow 90 - \mu = 1.28\sigma \dots \dots \dots (1)$$

43

$$P(X > 95) = P\left(Z > \frac{95 - \mu}{\sigma}\right) = \frac{5000}{100000} = 0.05$$

نفرض أن  $\frac{95 - \mu}{\sigma} = z$  ، فيكون  $P(Z > z) = 0.05$

الاحتمال المعطى (0.05) يمثل المساحة التي تقع يمين القيمة  $z$  وهو أقل من 0.5 ،

إن:  $z$  موجبة.

$$\begin{aligned} \Rightarrow P(Z < z) &= 1 - P(Z > z) \\ &= 1 - 0.05 = 0.95 \end{aligned}$$

$$\Rightarrow z = 1.64 \Rightarrow \frac{95 - \mu}{\sigma} = 1.64 \Rightarrow 95 - \mu = 1.64\sigma \dots \dots \dots (2)$$

$$(2) - (1): 5 = 0.36\sigma \Rightarrow \sigma \approx 13.89 \quad , \quad \mu \approx 72.22$$



$$P(X > 13) = P\left(Z > \frac{13 - \mu}{\sigma}\right) = 0.05$$

نفرض أن  $\frac{13 - \mu}{\sigma} = z$  ، فيكون  $P(Z > z) = 0.05$

الاحتمال المعطى (0.05) يمثل المساحة التي تقع يمين القيمة  $z$  وهو أقل من 0.5 ،

إن:  $z$  موجبة.

$$\Rightarrow P(Z < z) = 1 - P(Z > z) = 1 - 0.05 = 0.95$$

$$\Rightarrow z = 1.64 \Rightarrow \frac{13 - \mu}{\sigma} = 1.64 \Rightarrow 13 - \mu = 1.64\sigma \dots \dots \dots (1)$$

$$P(X < 10) = P\left(Z < \frac{10 - \mu}{\sigma}\right) = 0.12$$

نفرض أن  $\frac{10 - \mu}{\sigma} = z$  ، فيكون  $P(Z < z) = 0.12$

الاحتمال المعطى (0.12) يمثل المساحة التي تقع يسار القيمة  $z$  وهو أقل من 0.5 ،

إن:  $z$  سالبة.

$$\Rightarrow P(Z < -z) = 1 - P(Z < z)$$

$$0.12 = 1 - P(Z < z)$$

$$\Rightarrow P(Z < z) = 0.88 \Rightarrow z = 1.17$$

إن: قيمة  $z$  التي تحقق الاحتمال المعطى  $P(Z < z) = 0.12$  هي  $z = -1.17$

$$\Rightarrow \frac{10 - \mu}{\sigma} = -1.17 \Rightarrow 10 - \mu = -1.17\sigma \dots \dots \dots (2)$$

$$(1) - (2): 3 = 2.81\sigma \Rightarrow \sigma \approx 1.07 \quad , \quad \mu \approx 11.25$$

44

المساحة الكلية تحت المنحنى هي 100%

المساحة تحت المنحنى بين القيمتين  $79 - a$  و  $79 + b$  هي 64.63%

إذن، المساحة تحت المنحنى خارج القيمتين  $79 - a$  و  $79 + b$  هي:

$100\% - 64.63\% = 35.37\%$  ، وهي تمثل منطقتين إحداهما مساحتها ضعف الأخرى (حسب

المعطى)، فتكون مساحة المنطقة المظللة تساوي  $\frac{35.37\%}{3} = 11.79\%$

أو نكتب:

45

$$P(79 - a \leq X \leq 79 + b) = P(X \leq 79 + b) - P(X \leq 79 - a)$$

$$\Rightarrow P(X \leq 79 + b) - P(X \leq 79 - a) = 0.6463 \dots \dots \dots (1)$$

$$P(X \geq 79 + b) = 2P(X \leq 79 - a)$$

$$\Rightarrow 1 - P(X < 79 + b) = 2P(X \leq 79 - a)$$

$$\Rightarrow P(X < 79 + b) + 2P(X \leq 79 - a) = 1 \dots \dots \dots (2)$$

$$(2) - (1) \Rightarrow 3P(X \leq 79 - a) = 0.3537$$

$$\Rightarrow P(X \leq 79 - a) = 0.1179 \quad \text{و} \quad P(X \geq 79 + b) = 0.2358$$

إذن، مساحة المنطقة المظللة تساوي:  $P(X \leq 79 - a) = 0.1179$

وجدنا في السؤال السابق أن:

$$P(X \geq 79 + b) = 0.2358$$

$$\Rightarrow P\left(Z \geq \frac{79 + b - 79}{12}\right) = 0.2358$$

46

$$\Rightarrow P\left(Z \geq \frac{b}{12}\right) = 0.2358$$

$$P(Z \geq z) = 0.2358$$

$$\Rightarrow P(Z < z) = 1 - 0.2358 = 0.7642$$

$$\Rightarrow z = 0.72 \Rightarrow \frac{b}{12} = 0.72 \Rightarrow b = 8.64$$

نفرض أن  $z = \frac{b}{12}$  ، فيكون:



اختبار نهاية الوحدة السادسة

1	<b>a</b>
2	<b>b</b>
3	<b>c</b>
4	<b>b</b>
5	<b>c</b>
6	<b>b</b>
7	$P(X = 4) = 0.3(0.7)^3 \approx 0.103$
8	$P(3 < X \leq 5) = P(X = 4) + P(X = 5) = 0.3(0.7)^3 + 0.3(0.7)^4 \approx 0.175$
9	$P(X > 4) = 1 - P(X \leq 4)$ $= 1 - (P(X = 1) + P(X = 2) + P(X = 3) + P(X = 4))$ $= 1 - (0.3(0.7)^0 + 0.3(0.7)^1 + 0.3(0.7)^2 + 0.3(0.7)^3)$ $\approx 1 - (0.3 + 0.21 + 0.147 + 0.103) = 0.24$
10	$P(5 \leq X \leq 7) = P(X = 5) + P(X = 6) + P(X = 7)$ $= 0.3(0.7)^4 + 0.3(0.7)^5 + 0.3(0.7)^6$ $= 0.3(0.7)^4(1 + 0.7 + 0.49) \approx 0.158$
11	$P(X = 3) = \binom{10}{3} (0.4)^3 (0.6)^7 \approx 0.215$
12	$P(X > 2) = 1 - P(X \leq 2) = 1 - (P(X = 0) + P(X = 1) + P(X = 2))$ $= 1 - \left( \binom{10}{0} (0.4)^0 (0.6)^{10} + \binom{10}{1} (0.4)^1 (0.6)^9 + \binom{10}{2} (0.4)^2 (0.6)^8 \right)$ $\approx 1 - (0.0060 + 0.0403 + 0.1209) \approx 0.833$

13	$P(7 \leq X < 9) = P(X = 7) + P(X = 8)$ $= \binom{10}{7} (0.4)^7 (0.6)^3 + \binom{10}{8} (0.4)^8 (0.6)^2$ $\approx 0.0425 + 0.0106 \approx 0.053$
14	$P(X \leq 9) = 1 - P(X = 10) = 1 - \binom{10}{10} (0.4)^{10} (0.6)^0$ $= 1 - (0.4)^{10} \approx 0.999895$
15	$P(X > 8.5) = P\left(Z > \frac{8.5 - 4}{3}\right) = P(Z > 1.5) = 1 - P(Z < 1.5)$ $= 1 - 0.9332 = 0.0668$
16	$P(-2 < X < 7) = P\left(\frac{-2 - 4}{3} < Z < \frac{7 - 4}{3}\right) = P(-2 < Z < 1)$ $= P(Z < 1) - P(Z < -2) = P(Z < 1) - (1 - P(Z < 2))$ $= P(Z < 1) + P(Z < 2) - 1 = 0.8413 + 0.9772 - 1 = 0.8185$
17	$P(X < 10) = P\left(Z < \frac{10 - 4}{3}\right) = P(Z < 2) = 0.9772$
18	$P(5.5 < X < 8.5) = P\left(\frac{5.5 - 4}{3} < Z < \frac{8.5 - 4}{3}\right) = P(0.5 < Z < 1.5)$ $= P(Z < 1.5) - P(Z < 0.5) = 0.9332 - 0.6915 = 0.2417$
19	$P(X < 1) = P\left(Z < \frac{1 - 4}{3}\right) = P(Z < -1) = 1 - P(Z < 1)$ $= 1 - 0.8413 = 0.1587$
20	$P(X > -3) = P\left(Z > \frac{-3 - 4}{3}\right) = P(Z > -2.33) = P(Z < 2.33) = 0.9901$
21	<p>ليكن <math>X</math> عدد المصابيح التالفة ضمن المصابيح المئة.</p> $\Rightarrow X \sim B(100, 0.17)$ $E(X) = np = 100(0.17) = 17$

	ليكن $X$ عدد المقابلات التي تجرى حتى مصادفة أول طالب يمارس الرياضة.
22	$\Rightarrow X \sim Geo(0.2)$ $E(X) = \frac{1}{p} = \frac{1}{0.2} = 5$
23	$P(Z > z) = 0.1$ الاحتمال المعطى (0.1) يمثل المساحة التي تقع يمين القيمة $z$ وهو أقل من 0.5، إذن: $z$ موجبة. $\Rightarrow P(Z < z) = 1 - 0.1 = 0.9 \Rightarrow z = 1.28$
24	$P(Z < z) = 0.9671$ الاحتمال المعطى (0.9671) يمثل المساحة التي تقع يسار القيمة $z$ وهو أكبر من 0.5، إذن: $z$ موجبة. $\Rightarrow z = 1.84$
25	$P(-z < Z < z) = 0.9464$ $\Rightarrow P(Z < z) - P(Z < -z) = 0.9464$ $\Rightarrow P(Z < z) - (1 - P(Z < z)) = 0.9464$ $\Rightarrow 2P(Z < z) - 1 = 0.9464$ $\Rightarrow P(Z < z) = 0.9732$ الاحتمال المعطى (0.9732) يمثل المساحة التي تقع يسار القيمة $z$ وهو أكبر من 0.5، إذن: $z$ موجبة. $\Rightarrow z = 1.93$
26	$P(Z > z) = 0.9222$ الاحتمال المعطى (0.9222) يمثل المساحة التي تقع يمين القيمة $z$ وهو أكبر من 0.5، إذن: $z$ سالبة. $\Rightarrow P(Z > -z) = P(Z < z)$ $0.9222 \Rightarrow P(Z < z) \Rightarrow z = 1.42$ إذن، قيمة $z$ التي تحقق الاحتمال $P(Z > z) = 0.9222$ هي $z = -1.42$

27	$P(X > 181) = P\left(Z > \frac{181 - 171}{10}\right) = P(Z > 1) = 1 - P(Z < 1)$ $= 1 - 0.8413 = 0.1587$
28	$P(X < 171 - 2(10)) = P(X < 151) = P\left(Z < \frac{151 - 171}{10}\right) = P(Z < -2)$ $= 1 - P(Z < 2) = 1 - 0.9772 = 0.0228$ <p style="text-align: right;">أو نكتب:</p> $P(X < \mu - 2\sigma) = P\left(Z < \frac{\mu - 2\sigma - \mu}{\sigma}\right)$ $= P(Z < -2) = 1 - 0.9772 = 0.0228$
29	$P(X > 171 + 10) = P(X > 181) = P\left(Z > \frac{181 - 171}{10}\right)$ $= P(Z > 1) = 1 - P(Z < 1) = 1 - 0.8413 = 0.1587$ <p style="text-align: right;">أو نكتب:</p> $P(X > \mu + \sigma) = P\left(Z > \frac{\mu + \sigma - \mu}{\sigma}\right) = P(Z > 1) = 0.1587$
30	$P( X - \mu  \leq \sigma) = P(-\sigma \leq X - \mu \leq \sigma) = P(\mu - \sigma \leq X \leq \mu + \sigma)$ $= P\left(\frac{\mu - \sigma - \mu}{\sigma} \leq Z \leq \frac{\mu + \sigma - \mu}{\sigma}\right) = P(-1 \leq Z \leq 1)$ $= P(Z \leq 1) - P(Z \leq -1) = P(Z \leq 1) - (1 - P(Z \leq 1))$ $= 2P(Z \leq 1) - 1 = 2(0.8413) - 1 = 0.6826$ <p>ملحوظة: يمكن حل الأسئلة من 27 إلى 30 باستخدام القاعدة التجريبية بدلاً من جدول التوزيع الطبيعي المعياري</p>

31	$P(X > 6) = \frac{1578}{10000} \Rightarrow P\left(Z > \frac{6-5}{\sigma}\right) = 0.1578 \Rightarrow P\left(Z > \frac{1}{\sigma}\right) = 0.1578$ <p>نفرض أن <math>\frac{1}{\sigma} = z</math>، فيكون <math>P(Z &gt; z) = 0.1578</math> الاحتمال المعطى (0.1578) يمثل المساحة التي تقع يمين القيمة <math>z</math> وهو أقل من 0.5، إذن: <math>z</math> موجبة.</p> $\Rightarrow P(Z < z) = 1 - 0.1578 = 0.8422$ $\Rightarrow z \approx 1 \Rightarrow \sigma \approx 1$
32	$X \sim B(n, p)$ $E(X) = 2.5 \Rightarrow np = 2.5 \dots \dots \dots (1)$ $Var(X) = 1.875 \Rightarrow np(1-p) = 1.875 \dots \dots \dots (2)$ $\frac{(2)}{(1)}: 1-p = \frac{1.875}{2.5} = 0.75 \Rightarrow p = 0.25, \quad n = \frac{2.5}{0.25} = 10$ $\Rightarrow P(X \geq 8) = P(X = 8) + P(X = 9) + P(X = 10)$ $= \binom{10}{8} (0.25)^8 (0.75)^2 + \binom{10}{9} (0.25)^9 (0.75)^1 + \binom{10}{10} (0.25)^{10} (0.75)^0$ $\approx 0.00038624 + 0.00002861 + 0.00000095 \approx 0.0004158$
33	<p>ليكن <math>T</math> الزمن اللازم لاكتشاف العطل</p> <p>ليكن <math>N</math> عدد مرات تشغيل السيارة التي يحتاجها الفنيون قبل اكتشاف العطل، فالزمن: <math>T = 2(N - 1)</math></p> $\Rightarrow T \sim N(10, 25)$ $P(N > 6) = P(T > 10) = 0.5$
34	$P(5 \leq N < 6) = P(8 \leq T < 10) = P\left(\frac{8-10}{5} \leq Z < \frac{10-10}{5}\right)$ $= P(-0.4 \leq Z < 0) = P(Z < 0) - P(Z \leq -0.4)$ $= P(Z < 0) - (1 - P(Z < 0.4)) = P(Z < 0) + P(Z < 0.4) - 1$ $= 0.5 + 0.6554 - 1 = 0.1554$
35	$P(T > 20) = P\left(Z > \frac{20-10}{5}\right) = P(Z > 2) = 1 - P(Z < 2)$ $= 1 - 0.9772 = 0.0228$